


Т8-04

285

Школьный этап
Всероссийской олимпиады школьников
Технология (девочки)
8-9 класс

За полностью выполненное задание дается 1 балл; если в задании допущена хотя бы одна ошибка или задание не выполнено – 0 баллов. За творческое задание дается 11 баллов. Максимальное количество баллов – 35.

1. В этом пищевом продукте содержится наибольшее количество:

	А) жиров Б) белков В) углеводов Г) витаминов
---	---

Ответ Витамины

2. Отгадайте загадку:

«И зелен, и густ
На грядке вырос куст.
Покопай немножко:
Под кустом...»

В рецепт какого супа не входит этот продукт?

Ответ картошка

3. Какие основные ингредиенты необходимы для варки рассольника?



А)

Б)

В)





Г)

Ответ Б

4. Соотнесите вид теста с готовым изделием.

1. Слоеное 2. Дрожжевое 3. Заварное 4. Песочное

15

 <p>A)</p>	 <p>B)</p>	 <p>B)</p>
 <p>Г)</p>	<p>Ответ 1 - <u>2</u> 2 - <u>Б</u> 3 - <u>А</u> 4 - <u>Б</u></p>	

5. Данная сервировка уместна к ...

15

- A) Завтраку
- Б) Ужину.
- В) Ланчу
- Г) Обеду



6. Укажите правильную последовательность действий при термическом ожоге первой степени.

- A) Наложить стерильную повязку
- Б) Обработать противоожоговыми препаратами
- В) Обожженный участок кожи подставить под струю холодной воды
- Г) Обработать специальными антисептическими средствами

15

Ответ 1 - Б 2 - 2 3 - Б 4 - а

7. Какое средство композиции использовано при оформлении интерьера данной комнаты?



10

Ответ симметрия

8. Установите соответствие между представленными на рисунках историческими костюмами, интерьерами и названиями стилей!



A)



B)



B)



I



II



III

Ответ:

1 Классицизм

Б И

2 Античный стиль

А III

3 Готика

Б II

9. Декоративная деталь из ткани в верхней части дверных и оконных проёмов называется:

- А) штора
 Б) карниз
 В) ламбрекен
 Г) занавеска
 Д) ширма



10. К элементам русского народного костюма относятся:

- А) Рубаха
 Б) Халат
 В) Кюлоты
 Г) Сарафан
 Д) Шушпан
 Е) Кокошник

11. Современный стиль одежды с использованием элементов национального костюма):

- А) Милитари
 Б) Кежуэл
 В) Кантри
 Г) Ретро

12. На представленной схеме производства ткани отсутствует название одной операции. Назовите эту операцию.



Ответ: Обработка ткани, стирка

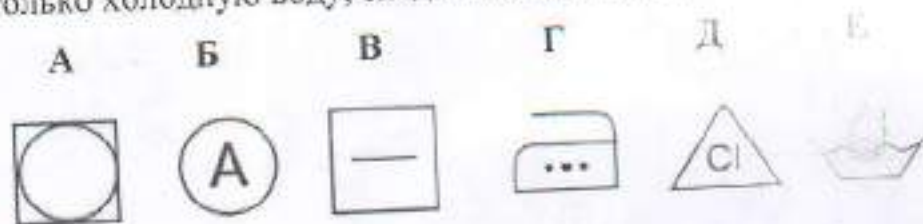
13. Расположите перечисленные ниже материалы в порядке увеличения прочности волокна:

- А) Хлопок Б) Лен В) Шерсть Г) Шелк

Ответ 1 - Б 2 - А 3 - В 4 - Г

14. Установите соответствие символов на рисунке за тканями их значениям:

- Только ручная стирка при температуре максимум 30, не тереть, не отжимать
- Разрешено гладить при максимальной температуре 200°С
- Разрешено отжимать в стиральной машине и высушивать электросушилкой
- Сушить на горизонтальной поверхности
- Сухая чистка с любым растворителем
- Разрешена стирка с отбеливателями, содержащими хлор; использовать только холодную воду, следить за полным растворением порошка



15. Ответ 1 - Е 2 - В 3 - А 4 - Г 5 - Б 6 - Д

15. Вставьте пропущенное слово. Обработка ткани антистатиком уменьшает её трение между волокнами, электризуемость

16. Для чего используется клеевой флизелин?

- А) Для предохранения деталей кроя швейных изделий от выгорания
 Б) Для предохранения деталей кроя швейных изделий от усадки
 В) Для придания им жесткости и формоустойчивости

17. Выберите по рисунку качественно выполненную машинную строчку и назовите дефекты изображенных некачественных строчек.



А)

Б)

В)

17. Ответ Б - кал. стр. В - затянута нижняя (часть) нить, А - затянута верхняя нить

18. Соотнесите номер иглы и вид материала.

- | | |
|-------------------|----------|
| 1) Батист | A) № 110 |
| 2) Сукно | Б) № 100 |
| 3) Фланель, ситец | В) № 70 |
| 4) Драп | Г) № 90 |

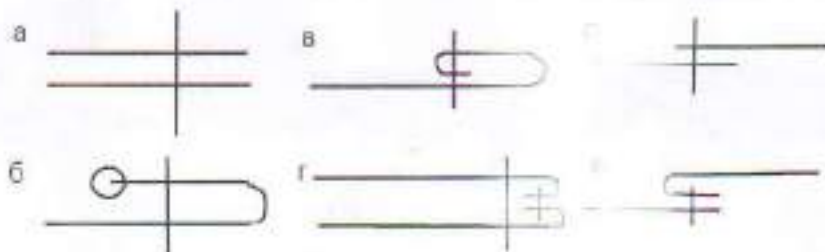
Ответ 1 - Б 2 - Г 3 - А 4 - Б

19. Установите соответствие между моделью юбки и её моделированием:

Модель		Моделирование	
1 	2 	А) 	Б) 
3 	4 	В) 	Г) 

15 Ответ 1 - Г 2 - А 3 - В 4 - Б

20. Выберите швы для обработки нижнего среза юбки. Напишите их названия.



15 Ответ в (закрытый срез), б (открытый срез)


21. Какую мерку измеряют от седьмого шейного позвонка до линии талии? Напишите её условное обозначение.

- А) Длина спины до талии
- Б) Длина плеча
- В) Длина переда до талии
- Г) Длина изделия

15 Ответ A, Dmc

22. Какой шов, предназначенный для ручной вышивки, представлен на рисунке?

- А) Шов вперед иголку;
- Б) Стебельчатый шов;
- 15 В) Петельный шов;
- Г) Тамбурный шов.



23. Какие изделия выполнены в технике узелков батика?



А)

Б)

В)

Г)

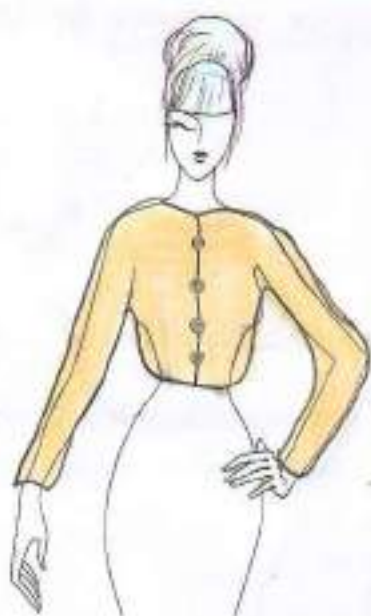
24. К непроектным сферам деятельности человека относятся:

- А) Машиностроение
- 15 Б) Лесное хозяйство
- В) Общественное питание
- Г) Пассажирский транспорт
- Д) Сельское хозяйство

25. Творческое задание

Вам предложены 3 фигуры девушки.

1. Предложите по одной модели блузки а) для спорта, б) для школы, в) для дискотеки.
2. Выполните эскизы (в цвете) этих моделей.
3. Опишите внешний вид моделей по предложенной форме.
4. Рекомендуйте ткани (волокнистый состав) для каждой модели.



Модель блузки для спорта:

стиль спортивный

силуэт полуприлегающий

покрой рукава

идеи

воротник

отсутствует

застежка

кнопки, нашивкой

детали размера

пробить, которая

проследит по сре-

ди

отделка

предварительная

цвет Бежевый

Рекомендуемая ткань

Т.лонга



Модель блузки для школы:

стиль школьный

силуэт прямой (приталенный)

покрой рукава

полуприлегающей

воротник

воротник-стойка

застежка

отсутствует

детали

кабл, вышивки

отделка

красивые

цвет голубой

Рекомендуемая ткань

лен, трикотаж



Модель блузки для дискотеки:

стиль диско

силуэт полуприлегающий

покрой рукава

вставки, вышивки

посереблено

воротник

отложной

застежка

пробить среднюю

детали размера

карман контрастный

отделка

контрастная

цвет Терракотовый

Рекомендуемая ткань

шелк

25

78-02

275

Школьный этап
Всероссийской олимпиады школьников
Технология (девочки)
8-9 класс

За полностью выполненное задание дается 1 балл; если в задании допущена хотя бы одна ошибка или задание не выполнено – 0 баллов. За творческое задание дается 11 баллов. Максимальное количество баллов – 35.

1. В этом пищевом продукте содержится наибольшее количество:



- А) жиров
- Б) белков
- В) углеводов
- Г) витаминов

15

Ответ Белков

2. Отгадайте загадку:


«И зелен, и густ
На грядке вырос куст.
Покопай немножко;
Под кустом...»

В рецепт какого супа не входит этот продукт?

Ответ Картошка, Томатный суп, Борщевик.

15

3. Какие основные ингредиенты необходимы для варки рассольника?



А)



Б)



В)







Г)

Ответ Б, Г.

15

4. Соотнесите вид теста с готовым изделием.

1. Слоеное 2. Дрожжевое 3. Заварное 4. Песочное

 <p>A)</p>	 <p>Б)</p>	 <p>В)</p>
 <p>Г)</p>	<p>Ответ 1 - <u>Б</u> 2 - <u>В</u> 3 - <u>А</u> 4 - <u>Б</u></p>	

5. Данная сервировка уместна к ...

- А) Завтраку
 Б) Ужину
 В) Ланчу
 Г) Обеду



6. Укажите правильную последовательность действий при термическом ожоге первой степени.

- А) Наложить стерильную повязку
 Б) Обработать противоожоговыми препаратами
 В) Обожженный участок кожи подставить под струю холодной воды
 Г) Обработать специальными антисептическими средствами

Ответ 1 - В 2 - БГ 3 - Б 4 - А

7. Какое средство композиции использовано при оформлении интерьера данной комнаты?



10

Ответ Симметрия

8. Установите соответствие между представленными на рисунках историческими костюмами, интерьерами и названиями стилей



A)



Б)



B)



I



II



III

Ответ:

1 Классицизм Б) I

2 Античный стиль A) II

3 Готика Б) III

9. Декоративная деталь из ткани в верхней части дверных и оконных проёмов называется:

- А) штора
 Б) карниз
 В) ламбрекен
 Г) занавеска
 Д) ширма



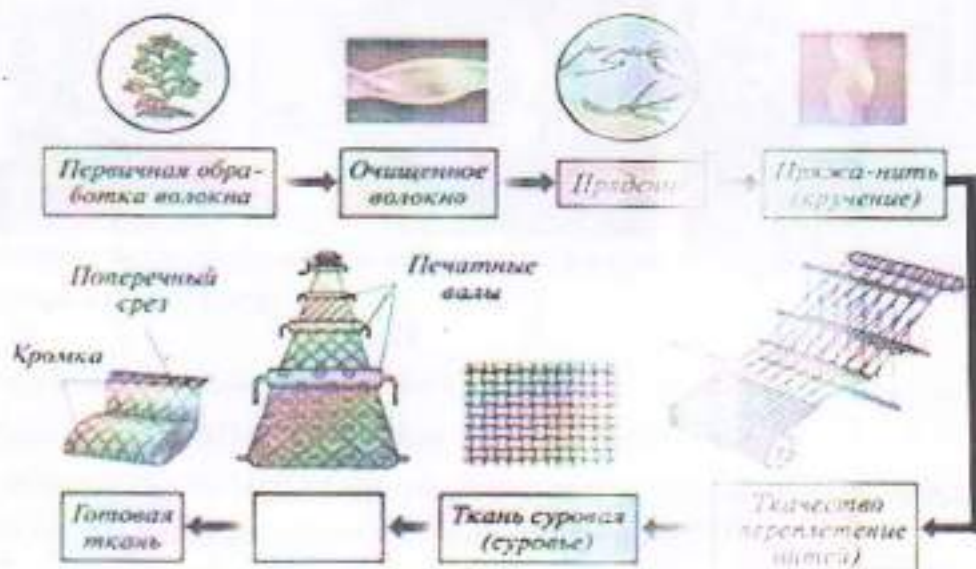
10. К элементам русского народного костюма относятся:

- А) Рубаха
 Б) Халат
 В) Кюлоты
 Г) Сарафан
 Д) Шушпан
 Е) Кокошник

11. Современный стиль одежды с использованием элементов национального костюма):

- А) Милитари
 Б) Кежуэл
 В) Кантри
 Д) Ретро

12. На представленной схеме производства ткани отсутствует название одной операции. Назовите эту операцию.



15 Ответ Намисение нитей

18. Соотнесите номер иглы и вид материала.

- | | |
|-------------------|----------|
| 1) Батист | A) № 110 |
| 2) Сукно | Б) № 100 |
| 3) Фланель, ситец | В) № 70 |
| 4) Драп | Г) № 90 |

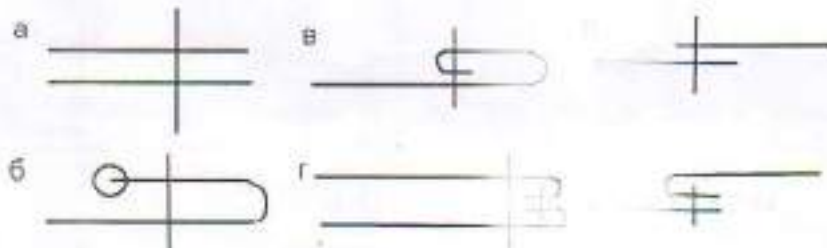
Ответ 1 - В 2 - Г 3 - А 4 - Б

19. Установите соответствие между моделью юбки и её моделированием:

Модель		Моделирование	
1 	2 	A) 	Б) 
3 	4 	В) 	Г) 

15 Ответ 1 - Г 2 - Б 3 - В 4 - А

20. Выберите швы для обработки низа юбки. Напишите их названия.



16 Ответ В - сподворотом. Б - оверлок и а строчка

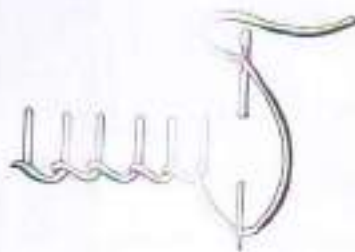
21. Какую мерку измеряют от седьмого шейного позвонка до линии талии? Напишите её условное обозначение.

- А) Длина спины до талии
- Б) Длина плеча
- В) Длина переда до талии
- Г) Длина изделия

Ответ А) ДСТ

22. Какой шов, предназначенный для ручной вышивки, представлен на рисунке?

- А) Шов вперед иголку;
- Б) Стебельчатый шов;
- В) Петельный шов;
- Г) Тамбурный шов.



23. Какие изделия выполнены в технике узелков батика?



24. К непромышленным сферам деятельности человека относятся:

- А) Машиностроение
- Б) Лесное хозяйство
- В) Общественное питание
- Г) Пассажирский транспорт
- Д) Сельское хозяйство

25. Творческое задание

Вам предложены 3 фигуры девушки.

1. Предложите по одной модели блузки а) для спорта, б) для школы, в) для дискотеки
2. Выполните эскизы (в цвете) этих моделей.
3. Опишите внешний вид моделей по предложенной форме.
4. Рекомендуйте ткани (волоконный состав) для каждой модели.



Модель блузки для спорта:

стиль Спортивный

силуэт Фигурный

покрой рукава

воротник

Нет

застежка

Молния

детали

отделка

Молния

цвет Фиолетовый

Рекомендуемая ткань

Трикотаж



Модель блузки для школы:

стиль Школьный

силуэт Фигурный

покрой рукава

Молния

воротник

Есть

застежка

Ручка

детали

отделка

Молния

цвет Белый

Рекомендуемая ткань

Котон



Модель блузки для дискотеки:

стиль Деловой

силуэт Свободный

покрой рукава

Классический

воротник

Нет

застежка

Ручка

детали

отделка

Молния

цвет Розовый

Рекомендуемая ткань

Шелк

25


Т8-05

231

Школьный этап
Всероссийской олимпиады школьников
Технология (девочки)
8-9 класс

За полностью выполненное задание дается 1 балл; если в задании допущена хотя бы одна ошибка или задание не выполнено – 0 баллов. За творческое задание дается 11 баллов. Максимальное количество баллов – 35.

1. В этом пищевом продукте содержится наибольшее количество:



- А) жиров
- Б) белков
- В) углеводов
- Г) витаминов

15

Ответ Белков

2. Отгадайте загадку:

«И зелен, и густ
На грядке вырос куст.
Покопай немножко:
Под кустом...»

В рецепт какого супа не входит этот продукт?

15

Ответ Картошка, луковые суп

3. Какие основные ингредиенты необходимы для варки рассольника?



А)



Б)



В)




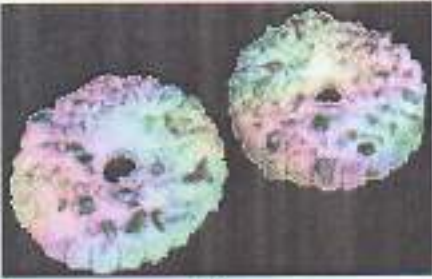


Г)

15

Ответ А, В, Г


4. Соотнесите вид теста с готовым изделием.

1. Слоеное 2. Дрожжевое 3. Заварное 4. Песочное

 <p>A)</p>	 <p>B)</p>	 <p>B)</p>
 <p>Г)</p>	<p>Ответ 1 - <u>Г</u> 2 - <u>Б</u> 3 - <u>А</u> 4 - <u>Б</u></p>	

5. Данная сервировка уместна к ...

- А) Завтраку
 Б) Ужину
 В) Ланчу
 Г) Обеду



6. Укажите правильную последовательность действий при термическом ожоге первой степени.

- А) Наложить стерильную повязку
 Б) Обработать противоожоговыми препаратами
 В) Обожженный участок кожи подставить под струю холодной воды
 Г) Обработать специальными антисептическими средствами

Ответ 1 - Б 2 - В 3 - Г 4 - А

9. Декоративная деталь из ткани в верхней части дверных и оконных проёмов называется:

- А) штора
- Б) карниз
- В) ламбрекен
- Г) занавеска
- Д) ширма



10. К элементам русского народного костюма относятся:

- А) Рубаха
- Б) Халат
- В) Кюлоты
- Г) Сарафан
- Д) Шушпан
- Е) Кокошник

11. Современный стиль одежды с использованием элементов национального костюма):

- А) Милитари
- Б) Кежуэл
- В) Кантри
- Д) Ретро

12. На представленной схеме производства ткани отсутствует название одной операции. Назовите эту операцию.



Ответ Обработка ткани, отделка

13. Расположите перечисленные ниже материалы в порядке увеличения прочности волокна:

А) Хлопок Б) Лен В) Шерсть Г) Шёлк

Ответ 1 - Б 2 - Г 3 - А 4 - В

14. Установите соответствие символов по уходу за тканями их значениям:

1. Только ручная стирка при температуре максимум 30, не тереть, не отжимать

2. Разрешено гладить при максимальной температуре 200⁰С

3. Разрешено отжимать в стиральной машине и высушивать электросушилкой

4. Сушить на горизонтальной поверхности

5. Сухая чистка с любым растворителем

6. Разрешена стирка с отбеливателями, содержащими хлор; использовать только холодную воду, следить за полным растворением порошка

А

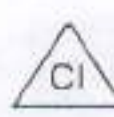
Б

В

Г

Д

Е



Ответ 1 - Е 2 - Г 3 - А 4 - В 5 - Б 6 - Д

15. Вставьте пропущенное слово. Обработка ткани антистатиком уменьшает её электростатизацию

16. Для чего используется клеевой флизелин?

А) Для предохранения деталей кроя швейных изделий от выгорания

Б) Для предохранения деталей кроя швейных изделий от усадки

В) Для придания им жесткости и формоустойчивости

17. Выберите по рисунку качественно выполненную машинную строчку и назовите дефекты изображенных некачественных строчек.



А)

Б)

В)




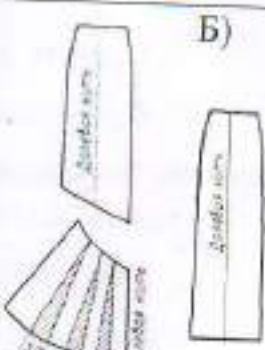


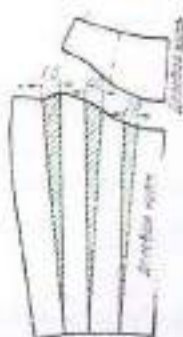

Ответ Б) А-строчка неплотно сшивается
В-строчка неплотно сшивается сверху

18. Соотнесите номер иглы и вид материала.

- | | |
|-------------------|----------|
| 1) Батист | A) № 110 |
| 2) Сукно | Б) № 100 |
| 3) Фланель, ситец | В) № 70 |
| 4) Драп | Г) № 90 |

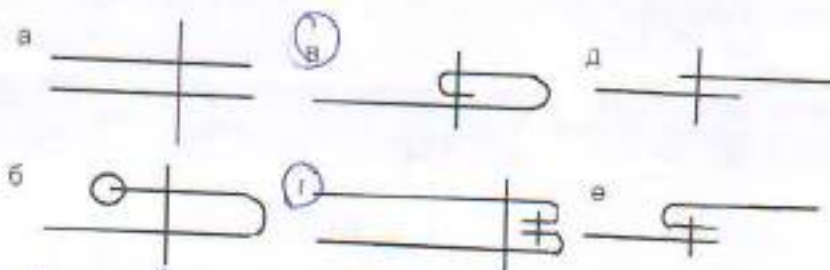
Ответ 1 - В 2 - Г 3 - А 4 - Б

19. Установите соответствие между моделью юбки и её моделированием:

Модель		Моделирование	
1 	2 	A) 	Б) 
3 	4 	В) 	Г) 

18 Ответ 1 - Г 2 - А 3 - В 4 - Б

20. Выберите швы для обработки нижнего среза юбки. Напишите их названия.



Ответ б) - Московский шов в) - Дмитрошкин двойной подгиб

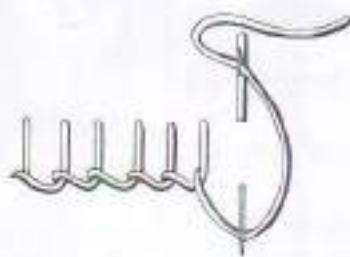
21. Какую мерку измеряют от седьмого шейного позвонка до линии талии? Напишите её условное обозначение.

- А) Длина спины до талии
- Б) Длина плеча
- В) Длина переда до талии
- Г) Длина изделия

15 Ответ см ДСТ

22. Какой шов, предназначенный для ручной вышивки, представлен на рисунке?

- А) Шов вперед иголку;
- Б) Стебельчатый шов;
- В) Петельный шов;
- Г) Тамбурный шов.



23. Какие изделия выполнены в технике узелкового батика?



А)



Б)



В)



Г)

24. К непромышленным сферам деятельности человека относятся:

- А) Машиностроение
- Б) Лесное хозяйство
- В) Общественное питание
- Г) Пассажирский транспорт
- Д) Сельское хозяйство

25. Творческое задание

Вам предложены 3 фигуры девушки.

1. Предложите по одной модели блузки
 - а) для спорта, б) для школы, в) для дискотеки
2. Выполните эскизы (в цвете) этих моделей.
3. Опишите внешний вид моделей по предложенной форме.
4. Рекомендуйте ткани (волокнистый состав) для каждой модели.



Модель блузки для спорта:
стиль спортивной

силуэт Милитари

покрой рукава Реглан

воротник Классический

застежка На молнии

детали Капюшон

отделка Поло

цвет голубой

Рекомендуемая ткань Хлопок

Модель блузки для школы:
стиль кэжуал

силуэт Батник

покрой рукава Епископский

воротник классический

застежка Пуговичка

детали Рукава

отделка

цвет розовый

Рекомендуемая ткань лен

Модель блузки для дискотеки:
стиль с

силуэт Блузка без рукавов

покрой рукава без рукавов

воротник Убранная горловина

застежка нет

детали с запахом

отделка

цвет оранжевой

Рекомендуемая ткань Атлас


25

Tg-01 255

Школьный этап
Всероссийской олимпиады школьников
Технология (девочки)
8-9 класс

За полностью выполненное задание дается 1 балл; если в задании допущена хотя бы одна ошибка или задание не выполнено – 0 баллов. За творческое задание дается 11 баллов. Максимальное количество баллов – 35.

1. В этом пищевом продукте содержится наибольшее количество:

	А) жиров Б) белков В) углеводов Г) витаминов
---	---

15 Ответ Белки.

2. Отгадайте загадку:

«И зелен, и густ
На грядке вырос куст.
Покопай немножко:
Под кустом...»

В рецепт какого супа не входит этот продукт?

15 Ответ Картошка. Харчо.

3. Какие основные ингредиенты необходимы для варки рассольника?



А)



Б)



В)


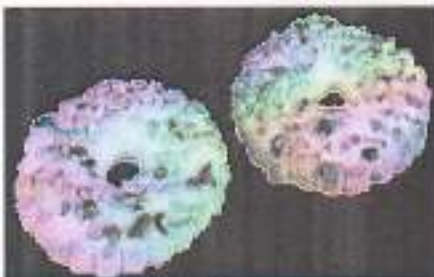




Г)

15 Ответ а, в, г.

4. Соотнесите вид теста с готовым изделием.

1. Слоеное 2. Дрожжевое 3. Заварное 4. Песочное

 <p>А)</p>	 <p>Б)</p>	 <p>В)</p>
 <p>Г)</p>	<p>Ответ 1 - <u>Г</u> 2 - <u>В</u> 3 - <u>А</u> 4 - <u>Б</u></p>	

5. Данная сервировка уместна к ...

- А) Завтраку
- Б) Ужину
- В) Ланчу
- Г) Обеду



6. Укажите правильную последовательность действий при термическом ожоге первой степени.

- А) Наложить стерильную повязку
- Б) Обработать противоожоговыми препаратами
- В) Обожженный участок кожи подставить под струю холодной воды
- Г) Обработать специальными антисептическими средствами

Ответ 1 - В 2 - Б 3 - А 4 - Г

7. Какое средство композиции использовано при оформлении интерьера данной комнаты?



Ответ _____

8. Установите соответствие между представленными на рисунках историческими костюмами, интерьерами и названиями стилей/



А)



Б)



В)



I



II



III

Ответ:

1 Классицизм 1, Б

2 Античный стиль 3, А

3 Готика 2, В

9. Декоративная деталь из ткани в верхней части дверных и оконных проёмов называется:

- А) штора
- Б) карниз
- В) ламбрекен
- Г) занавеска
- Д) ширма



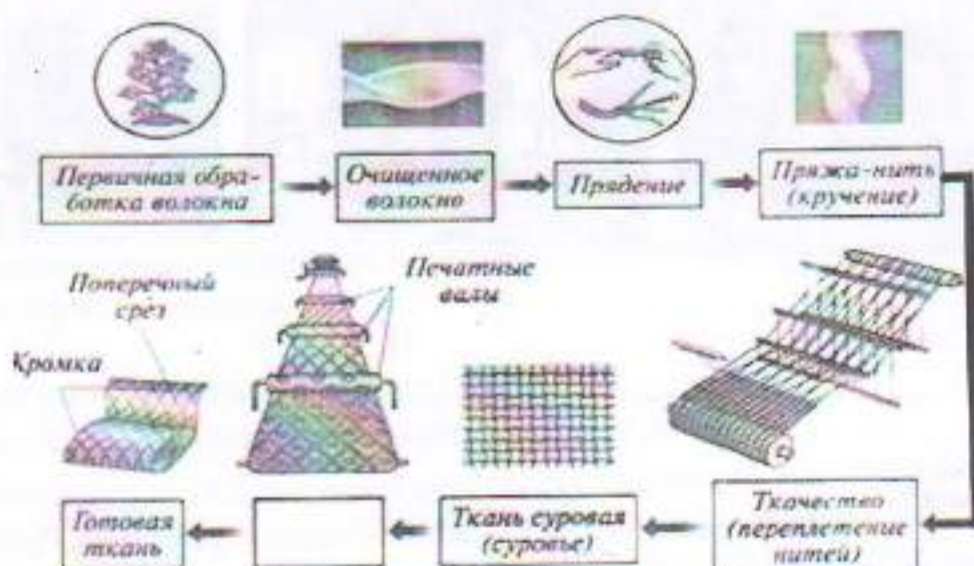
10. К элементам русского народного костюма относятся:

- А) Рубаха
- Б) Халат
- В) Кюлоты
- Г) Сарафан
- Д) Шушпан
- Е) Кокошник

11. Современный стиль одежды с использованием элементов национального костюма):

- А) Милитари
- Б) Кежуэл
- В) Кантри
- Г) Ретро

12. На представленной схеме производства ткани отсутствует название одной операции. Назовите эту операцию.



Ответ _____

13. Расположите перечисленные ниже материалы в порядке увеличения прочности волокна:

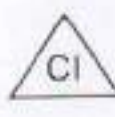

А) Хлопок Б) Лен В) Шерсть Г) Шёлк

Ответ 1 - А 2 - Г 3 - В 4 - Б

14. Установите соответствие символов по уходу за тканями их значениям:

1. Только ручная стирка при температуре максимум 30, не тереть, не отжимать
2. Разрешено гладить при максимальной температуре 200°С
3. Разрешено отжимать в стиральной машине и высушивать электросушилкой
4. Сушить на горизонтальной поверхности
5. Сухая чистка с любым растворителем
6. Разрешена стирка с отбеливателями, содержащими хлор; использовать только холодную воду, следить за полным растворением порошка

А Б В Г Д Е



15 **15** Ответ 1 - Е 2 - Г 3 - А 4 - В 5 - Б 6 - Д

15. Вставьте пропущенное слово. Обработка ткани антистатиком уменьшает её _____

16. Для чего используется клеевой флизелин?

- А) Для предохранения деталей кроя швейных изделий от выгорания
- Б) Для предохранения деталей кроя швейных изделий от усадки
- В) Для придания им жесткости и формоустойчивости

17. Выберите по рисунку качественно выполненную машинную строчку и назовите дефекты изображенных некачественных строчек.



А)



Б)



В)



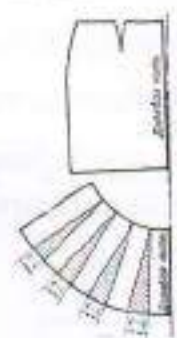
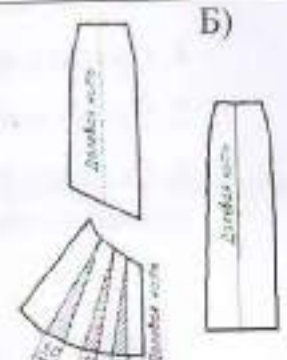


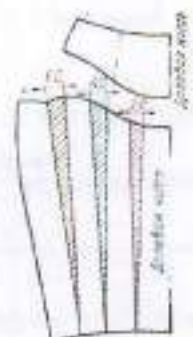

15 **15** Ответ _____

18. Соотнесите номер изги и вид материала.

- | | |
|-------------------|----------|
| 1) Батист | А) № 110 |
| 2) Сукно | Б) № 100 |
| 3) Фланель, ситец | В) № 70 |
| 4) Драп | Г) № 90 |

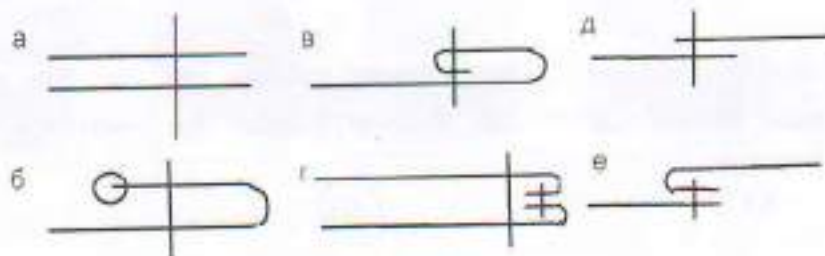
15 Ответ 1 - В 2 - Б 3 - Г 4 - А

19. Установите соответствие между моделью юбки и её моделированием:

Модель		Моделирование	
1 	2 	A) 	Б) 
3 	4 	В) 	Г) 

15 Ответ 1 - Б 2 - А 3 - В 4 - Г

20. Выберите швы для обработки нижнего среза юбки. Напишите их названия.



Ответ _____

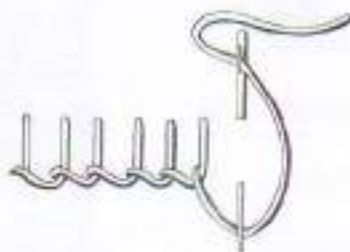
21. Какую мерку измеряют от седьмого шейного позвонка до линии талии? Напишите её условное обозначение.

- А) Длина спины до талии
- Б) Длина плеча
- В) Длина переда до талии
- Г) Длина изделия

15 Ответ А ДРС

22. Какой шов, предназначенный для ручной вышивки, представлен на рисунке?

- А) Шов вперед иголку;
- Б) Стебельчатый шов;
- В) Петельный шов;
- Г) Тамбурный шов.



15 23. Какие изделия выполнены в технике узелкового батика?



А)

Б)

В)

Г)

15 24. К непроектируемым сферам деятельности человека относятся:

- А) Машиностроение
- Б) Лесное хозяйство
- В) Общественное питание
- Г) Пассажирский транспорт
- Д) Сельское хозяйство

25. Творческое задание

Вам предложены 3 фигуры девушки.

1. Предложите по одной модели блузки
 - а) для спорта, б) для школы, в) для дискотеки
2. Выполните эскизы (в цвете) этих моделей.
3. Опишите внешний вид моделей по предложенной форме.
4. Рекомендуйте ткани (волоконный состав) для каждой модели.



Модель блузки для спорта:
стиль спортивный

силуэт в обтяжку.

покрой рукава нет

воротник нет

застежка нет

детали нет

отделка

цвет зеленый в полоску.

Рекомендуемая ткань трикотаж.

Модель блузки для школы:
стиль классический.

силуэт прямой.

покрой рукава с оборкой.

воротник плоскостанция

застежка пуговицы

детали ремень.

отделка

цвет белый

Рекомендуемая ткань хлопок

Модель блузки для дискотеки:
стиль вечерний.

силуэт прилегающий

покрой рукава с оборкой.

воротник нет

застежка нет

детали нет.

отделка


цвет розовый.

Рекомендуемая ткань трикотаж.

Школьный этап
Всероссийской олимпиады школьников
Технология (девочки)
8-9 класс

За полностью выполненное задание дается 1 балл; если в задании допущена хотя бы одна ошибка или задание не выполнено – 0 баллов. За творческое задание дается 11 баллов. Максимальное количество баллов – 35.

1. В этом пищевом продукте содержится наибольшее количество:

	<p>А) жиров</p> <p><input checked="" type="radio"/> Б) белков</p> <p>В) углеводов</p> <p>Г) витаминов</p>
---	---

15 Ответ Белки

2. Отгадайте загадку:

«И зелен, и густ
На грядке вырос куст.
Покопай немножко:
Под кустом...»

В рецепт какого супа не входит этот продукт?

15 Ответ карто

3. Какие основные ингредиенты необходимы для варки рассольника?



А)



Б)



В)







Г)

15 Ответ а, в, г

4. Соотнесите вид теста с готовым изделием.

1. Слоеное 2. Дрожжевое 3. Заварное 4. Песочное

 <p>A)</p>	 <p>Б)</p>	 <p>В)</p>
 <p>Г)</p>	<p>Ответ 1 - <u>2</u> 2 - <u>Б</u> 3 - <u>А</u> 4 - <u>Б</u></p>	

5. Данная сервировка уместна к ...

- А) Завтраку
 Б) Ужину
 В) Ланчу
 Г) Обеду



6. Укажите правильную последовательность действий при термическом ожоге первой степени.

- А) Наложить стерильную повязку
 Б) Обработать противоожоговыми препаратами
 В) Обожженный участок кожи подставить под струю холодной воды
 Г) Обработать специальными антисептическими средствами

Ответ 1 - В 2 - Б 3 - А 4 - Г

7. Какое средство композиции использовано при оформлении интерьера данной комнаты?



Ответ _____

8. Установите соответствие между представленными на рисунках историческими костюмами, интерьерами и названиями стилей!



A)



Б)



В)



I



II



III

15

Ответ:


1 Классицизм 1, Б

2 Античный стиль 3, А

3 Готика 2, В

9. Декоративная деталь из ткани в верхней части дверных и оконных проёмов называется:

- А) штора
 Б) карниз
 В) ламбрекен
 Г) занавеска
 Д) ширма



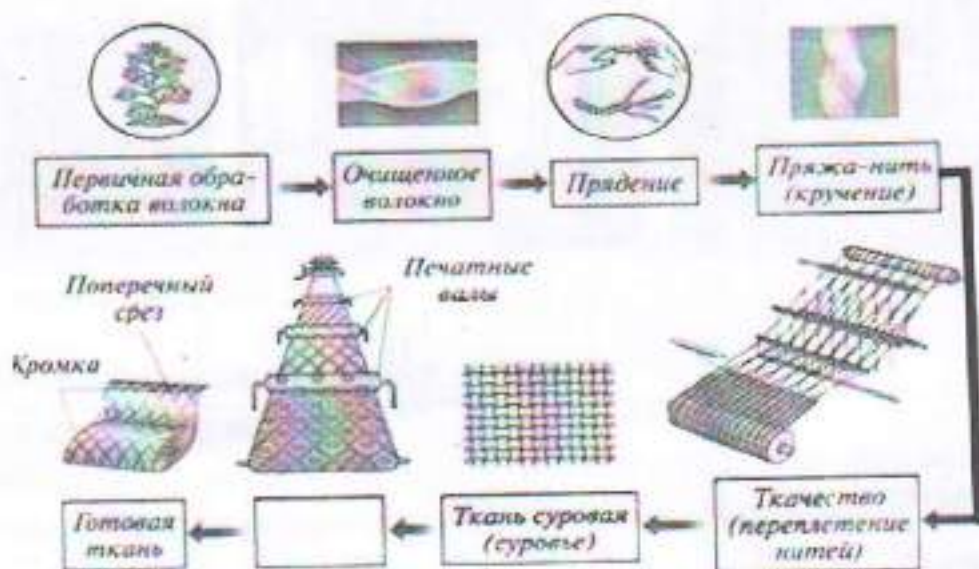
10. К элементам русского народного костюма относятся:

- А) Рубаха
 Б) Халат
 В) Кюлоты
 Г) Сарафан
 Д) Шушпан
 Е) Кокошник

11. Современный стиль одежды с использованием элементов национального костюма):

- А) Милитари
 Б) Кежуэл
 В) Кантри
 Г) Ретро

12. На представленной схеме производства ткани отсутствует название одной операции. Назовите эту операцию.



Ответ _____

13. Расположите перечисленные ниже материалы в порядке увеличения прочности волокна:

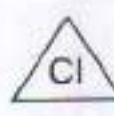


- А) Хлопок Б) Лён В) Шерсть Г) Шёлк

Ответ 1 - а 2 - в 3 - б 4 - г

14. Установите соответствие символов по уходу за тканями их значениям:

1. Только ручная стирка при температуре максимум 30, не тереть, не отжимать
2. Разрешено гладить при максимальной температуре 200°С
3. Разрешено отжимать в стиральной машине и высушивать электросушилкой
4. Сушить на горизонтальной поверхности
5. Сухая чистка с любым растворителем
6. Разрешена стирка с отбеливателями, содержащими хлор; использовать только холодную воду, следить за полным растворением порошка

А Б В Г Д Е



15 *AS* Ответ 1 - Е 2 - в 3 - а 4 - б 5 - Б 6 - г

15. Вставьте пропущенное слово. Обработка ткани антистатиком уменьшает её _____

16. Для чего используется клеевой флизелин?

- А) Для предохранения деталей кроя швейных изделий от выгорания
- Б) Для предохранения деталей кроя швейных изделий от усадки
- В) Для придания им жесткости и формоустойчивости

17. Выберите по рисунку качественно выполненную машинную строчку и назовите дефекты изображенных некачественных строчек.



А)



Б)



В)


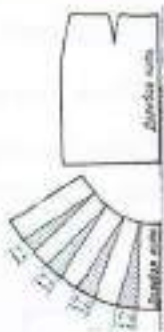
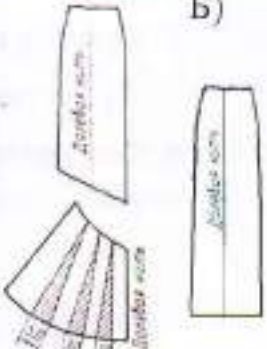

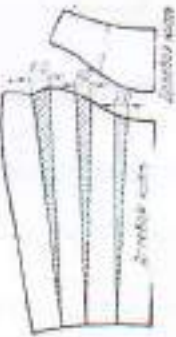
Ответ _____

18. Соотнесите номер иглы и вид материала.

- | | |
|-------------------|----------|
| 1) Батист | А) № 110 |
| 2) Сукно | Б) № 100 |
| 3) Фланель, ситец | В) № 70 |
| 4) Драп | Г) № 90 |

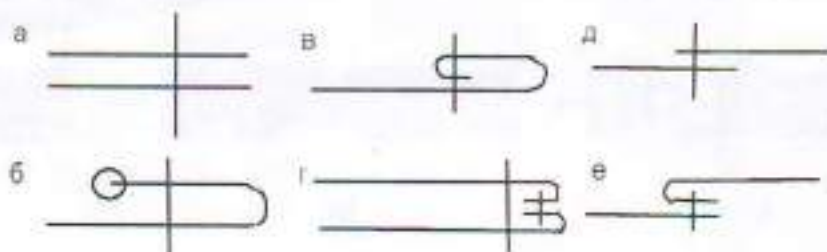
Ответ 1 - _____ 2 - _____ 3 - _____ 4 - _____

19. Установите соответствие между моделью юбки и её моделированием:

Модель		Моделирование	
1 	2 	A) 	Б) 
3 	4 	В) 	Г) 

Ответ 1 - _____ 2 - _____ 3 - _____ 4 - _____

20. Выберите швы для обработки нижнего среза юбки. Напишите их названия.



Ответ _____

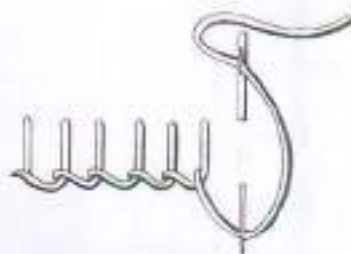
21. Какую мерку измеряют от седьмого шейного позвонка до линии талии? Напишите её условное обозначение.

- А) Длина спины до талии
- Б) Длина плеча
- В) Длина переда до талии
- Г) Длина изделия

15 Ответ А ; (Б) Длина талии

22. Какой шов, предназначенный для ручной вышивки, представлен на рисунке?

- 18
- А) Шов вперед иголку;
 - Б) Стебельчатый шов;
 - В) Петельный шов;
 - Г) Тамбурный шов.



23. Какие изделия выполнены в технике узелкового батика?



А)

Б)

В)

Г)

24. К непромышленным сферам деятельности человека относятся:

- А) Машиностроение
- Б) Лесное хозяйство
- В) Общественное питание
- Г) Пассажирский транспорт
- Д) Сельское хозяйство

25. Творческое задание

Вам предложены 3 фигуры девушки.

1. Предложите по одной модели блузки
 - а) для спорта, б) для школы, в) для дискотеки
2. Выполните эскизы (в цвете) этих моделей.
3. Опишите внешний вид моделей по предложенной форме.
4. Рекомендуйте ткани (волокнистый состав) для каждой модели.



Модель блузки для спорта:

стиль спортивный

силуэт облегающий

покрой рукава без рукавов

воротник нет

застежка замок

детали нет

отделка

цвет фиолетовый

Рекомендуемая ткань

Бифлекс

Модель блузки для школы:

стиль классический

силуэт прямой

покрой рукава без рукавов

воротник маленький

застежка пуговица

детали нет

отделка

цвет белый

Рекомендуемая ткань

хлопок

Модель блузки для дискотеки:

стиль вечерний

силуэт прямой

покрой рукава узкий

воротник нет

застежка нет

детали нет

отделка

цвет цветной

Рекомендуемая ткань


Трисатанс

25

**Школьный этап
Всероссийской олимпиады школьников
Технология (девочки)
8-9 класс**

За полностью выполненное задание дается 1 балл; если в задании допущена хотя бы одна ошибка или задание не выполнено – 0 баллов. За творческое задание дается 11 баллов. Максимальное количество баллов – 35.

1. В этом пищевом продукте содержится наибольшее количество:

	<input type="radio"/> А) жиров
	<input checked="" type="radio"/> Б) белков
	<input type="radio"/> В) углеводов
	<input type="radio"/> Г) витаминов

Ответ _____

2. Отгадайте загадку:

«И зелен, и густ
На грядке вырос куст.
Покопай немножко:
Под кустом...»

В рецепт какого супа не входит этот продукт?

Ответ картошка ужель

3. Какие основные ингредиенты необходимы для варки рассольника?



А)



Б)



В)







Г)

15 Ответ А В Г

15 4. Соотнесите вид теста с готовым изделием.

1. Слоеное 2. Дрожжевое 3. Заварное 4. Песочное

 <p>A)</p>	 <p>Б)</p>	 <p>В)</p>
 <p>Г)</p>	<p>Ответ 1 - <u>2</u> 2 - <u>Б</u> 3 - <u>А</u> 4 - <u>В</u></p>	

15 5. Данная сервировка уместна к ...

- А) Завтраку
 Б) Ужину
 В) Ланчу
 Г) Обеду



6. Укажите правильную последовательность действий при термическом ожоге первой степени.

- А) Наложить стерильную повязку
 Б) Обработать противоожоговыми препаратами
 В) Обожженный участок кожи подставить под струю холодной воды
 Г) Обработать специальными антисептическими средствами

Ответ 1 - В 2 - Б 3 - 2 4 - А

7. Какое средство композиции использовано при оформлении интерьера данной комнаты?

Ответ Старый Традиционный
неизотиповой



8. Установите соответствие между представленными на рисунках историческими костюмами, интерьерами и названиями стилей!



A)



B)



B)



I



II



III

Ответ:

1 Классицизм II - B

2 Античный стиль III - A

3 Готика I - B

9. Декоративная деталь из ткани в верхней части дверных и оконных проёмов называется:

- А) штора
- Б) карниз
- В) ламбрекен
- Г) занавеска
- Д) ширма



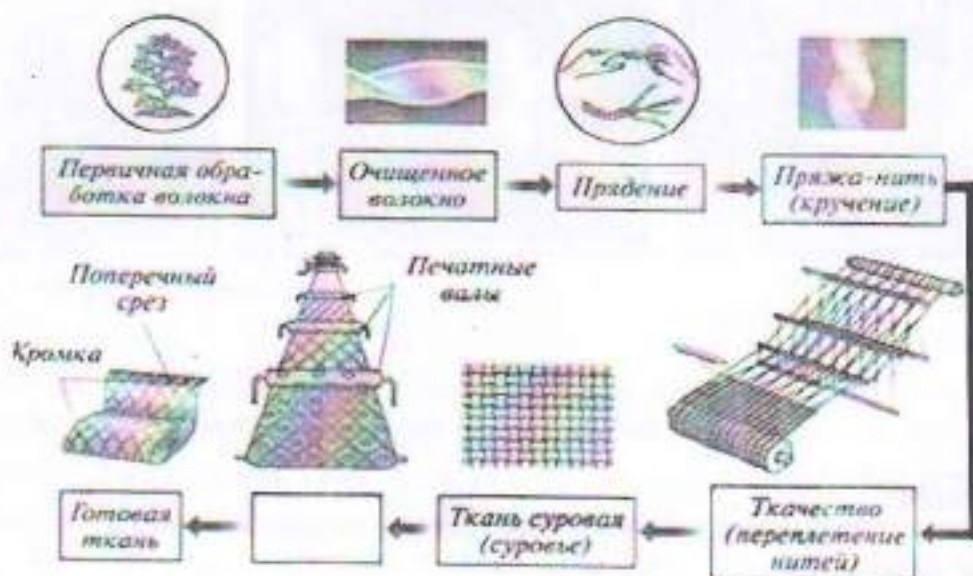
10. К элементам русского народного костюма относятся:

- А) Рубаха
- Б) Халат
- В) Кюлоты
- Г) Сарафан
- Д) Шушпан
- Е) Кокошник

11. Современный стиль одежды с использованием элементов национального костюма):

- А) Милитари
- Б) Кежуэл
- В) Кантри
- Г) Ретро

12. На представленной схеме производства ткани отсутствует название одной операции. Назовите эту операцию.



Ответ Нанесение рисунка

13. Расположите перечисленные ниже материалы в порядке увеличения прочности волокна:


- А) Хлопок Б) Лён В) Шерсть Г) Шёлк

15
Ответ 1 - Б 2 - А 3 - В 4 - Г

14. Установите соответствие символов по уходу за тканями их значениям:

1. Только ручная стирка при температуре максимум 30, не тереть, не отжимать
2. Разрешено гладить при максимальной температуре 200° С
3. Разрешено отжимать в стиральной машине и высушивать электросушилкой
4. Сушить на горизонтальной поверхности
5. Сухая чистка с любым растворителем
6. Разрешена стирка с отбеливателями, содержащими хлор; использовать только холодную воду, следить за полным растворением порошка

А Б В Г Д Е



15
Ответ 1 - Е 2 - В 3 - А 4 - В 5 - В 6 - Б

15. Вставьте пропущенное слово. Обработка ткани антистатиком уменьшает её прочность, эластичность, блеск

16. Для чего используется клеевой флизелин?

- 15
- А) Для предохранения деталей кроя швейных изделий от выгорания
 - Б) Для предохранения деталей кроя швейных изделий от усадки
 - В) Для придания им жесткости и формоустойчивости

17. Выберите по рисунку качественно выполненную машинную строчку и назовите дефекты изображенных некачественных строчек.



А)

Б)

В)

15
Ответ Б

18. Соотнесите номер иглы и вид материала.

- | | |
|-------------------|----------|
| 1) Батист | А) № 110 |
| 2) Сукно | Б) № 100 |
| 3) Фланель, ситец | В) № 70 |
| 4) Драп | Г) № 90 |

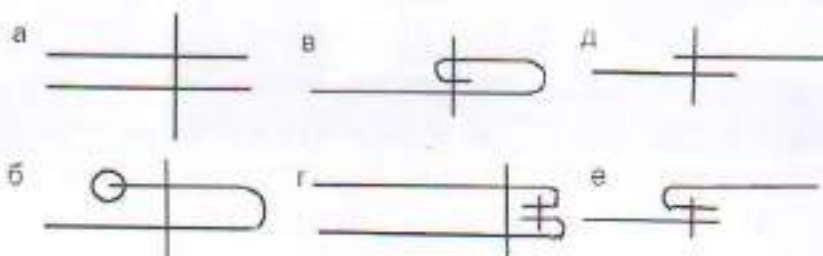
Ответ 1 - 90-Г 2 - А 3 - В 4 - Б

19. Установите соответствие между моделью юбки и её моделированием:

Модель		Моделирование	
1		А)	Б)
3		В)	Г)
2			
4			

Ответ 1 - Б 2 - Б 3 - А 4 - А

20. Выберите швы для обработки нижнего среза юбки. Напишите их названия.



Ответ Петельный, сгибательный, подгибка


21. Какую мерку измеряют от седьмого шейного позвонка до линии талии? Напишите её условное обозначение.

- А) Длина спины до талии
- Б) Длина плеча
- В) Длина переда до талии
- Г) Длина изделия

Ответ В

22. Какой шов, предназначенный для ручной вышивки, представлен на рисунке?

- А) Шов вперед иголку;
- Б) Стебельчатый шов;
- В) Петельный шов;
- Г) Тамбурный шов.



23. Какие изделия выполнены в технике узелкового батика?



24. К непроизводственным сферам деятельности человека относятся:

- А) Машиностроение
- Б) Лесное хозяйство
- В) Общественное питание
- Г) Пассажирский транспорт
- Д) Сельское хозяйство

25. Творческое задание

Вам предложены 3 фигуры девушки.

1. Предложите по одной модели блузки
 - а) для спорта, б) для школы, в) для дискотеки
2. Выполните эскизы (в цвете) этих моделей.
3. Опишите внешний вид моделей по предложенной форме.
4. Рекомендуйте ткани (волокнистый состав) для каждой модели.



Модель блузки для спорта:
 стиль спортивной

силуэт от талии фигура

покрой рукава сбавки

воротник отсутствует
 застежка нет

детали шляк человека
сзади колесами

отделка _____

цвет синий - голубой

Рекомендуемая ткань отель причесень
хлопчатобумажная ткань



Модель блузки для школы:
 стиль школьной

силуэт оливковая фигура

покрой рукава классический

воротник есть, обаятели
 застежка _____

детали нет
не рифлирован

отделка _____

цвет белый и серый

Рекомендуемая ткань лен | пешанец
 ↓ | ↓
рубашка | юбка



Модель блузки для дискотеки:
 стиль кавакава

силуэт элегантно фигура

покрой рукава классический

воротник нет
 застежка _____

детали сзади карман
красивое плечо
плечики

отделка _____

цвет зеленый

Рекомендуемая ткань шелк

20