



ВСЕРОССИЙСКАЯ ОЛИМПИАДА ШКОЛЬНИКОВ
ИСТОРИЯ. 2022–2023 уч. г. ШКОЛЬНЫЙ ЭТАП
5 КЛАСС

1. Перед вами фотографии, иллюстрирующие деятельность разных историков. Выберите номера изображений, связанных с работой археологов.



Варианты:

- 1) 1, 3, 4
- 2) 2, 3, 4
- 3) 2, 5, 6
- 4) 3, 4, 5
- 5) 1, 3, 5

Ответ: _____

Максимум за задание – 3 балла.

2. У каждого историка, как правило, есть *специализация* – та область исторического знания, в которой он разбирается лучше, чем во всех остальных. Соотнесите названия трудов историков с теми областями исторического знания, к которым они относятся.

Название области исторического знания (специализации)	Название книги
1) История СССР	А) «Императорская Россия» (Е. В. Анисимов)
2) История Византии	Б) Средневековые историки о падении Константинополя (А. П. Каждан)
3) История русского средневековья	В) «Иван Грозный» (Б. Н. Флоря)
4) Вспомогательные исторические дисциплины	Г) «Ключи к тайнам Клио» (Г. А. Леонтьева, П. А. Шорин, В. Б. Кобрин)
5) История Российской империи	Д) «Очерки начальной Руси» (А. П. Толочко)
6) История Древнерусского государства	Е) «Сталин. Жизнь одного вождя» (О. В. Хлевнюк)

Ответ:

1	2	3	4	5	6

За каждую верную пару – 2 балла. Максимум за задание – 12 баллов.

3. Расставьте годы и века в верной хронологической последовательности.

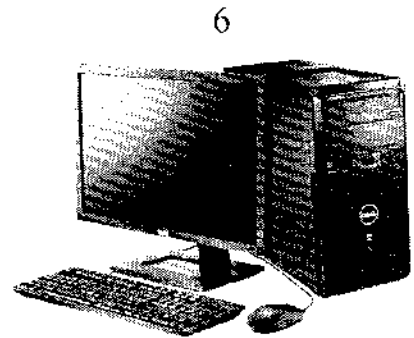
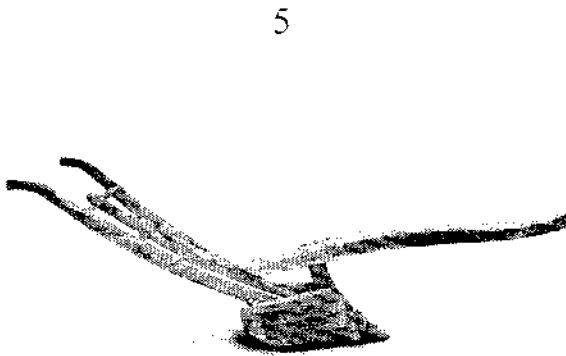




- А) I век до н. э.
- Б) 232 год до Р. Х.
- В) 1325 год н. э.
- Г) XIII век

Ответ:

1	2	3	4

Максимум за задание – 5 баллов.

- 4–5. Перед вами различные изобретения человека, созданные им с древнейших времён до наших дней. Рассмотрите изображения и выполните задания.



4. Соотнесите изображения предметов с их названиями.

Номер изображения предмета	Название изобретения
1	А. персональный компьютер
2	Б. паровой двигатель (паровая машина)
3	В. бензиновый двигатель внутреннего сгорания
4	Г. деревянный плуг
5	Д. шадуф
6	Е. ручной книгопечатный станок

Ответ:

1	2	3	4	5	6

За каждую верную пару – 1 балл

Максимум за задание – 6 баллов.

5. Расположите представленные предметы в порядке их изобретения человеком.

Ответ:

1	2	3	4	5	6
5					

За каждую верную пару – 1 балл

Максимум за задание – 6 баллов.

6. Ознакомьтесь с предложенной картой. Выберите верные утверждения.



1. На карте изображено государство Древнего Междуречья.
2. Зелёным цветом выделены на карте районы русла и дельты Нила – зоны наибольшего развития сельского хозяйства в изображённом на карте государстве.
3. Цифрой «4» на карте обозначено Средиземное море.
4. Цифрой «2» на карте обозначен город Мемфис.
5. Цифрой «5» на карте обозначена территория Синайского полуострова.
6. Цифрой «3» на карте обозначено море, которое не омывает берега России.
7. Цифрой «1» на карте обозначен город Фивы.
8. В истории государства, изображённого на схеме, выделяют следующие исторические периоды: Смутное время, Среднее царство, Новейшее царство.

Ответ: 3, 4, 6, 7


За каждое верно выбранное/невыбранное утверждение – 1 балл.

Максимум за задание – 8 баллов.

Максимум за работу – 40 баллов.

ВСЕРОССИЙСКАЯ ОЛИМПИАДА ШКОЛЬНИКОВ
 ИСТОРИЯ. 2022–2023 уч. г. ШКОЛЬНЫЙ ЭТАП
 5 КЛАСС

1. Перед вами фотографии, иллюстрирующие деятельность разных историков. Выберите номера изображений, связанных с работой археологов.



Варианты:

- 1) 1, 3, 4
- 2) 2, 3, 4
- 3) 2, 5, 6
- 4) 3, 4, 5
- 5) 1, 3, 5

Ответ: 3, 5, 6

Максимум за задание – 3 балла.

У-07-001

2. У каждого историка, как правило, есть *специализация* – та область исторического знания, в которой он разбирается лучше, чем во всех остальных. Соотнесите названия трудов историков с теми областями исторического знания, к которым они относятся.

Название области исторического знания (специализации)	Название книги
1) История СССР	А) «Императорская Россия» (Е. В. Анисимов)
2) История Византии	Б) Средневековые историки о падении Константинополя (А. П. Каждан)
3) История русского средневековья	В) «Иван Грозный» (Б. Н. Флоря)
4) Вспомогательные исторические дисциплины	Г) «Ключи к тайнам Клио» (Г. А. Леонтьева, П. А. Шорин, В. Б. Кобрин)
5) История Российской империи	Д) «Очерки начальной Руси» (А. П. Толочко)
6) История Древнерусского государства	Е) «Сталин. Жизнь одного вождя» (О. В. Хлевнюк)

Ответ:

1	2	3	4	5	6
Е	Б	В	Д	А	Б

За каждую верную пару – 2 балла. Максимум за задание – 12 баллов.

3. Расставьте годы и века в верной хронологической последовательности.

- А) I век до н. э.
- Б) 232 год до Р. Х.
- В) 1325 год н. э.
- Г) XIII век


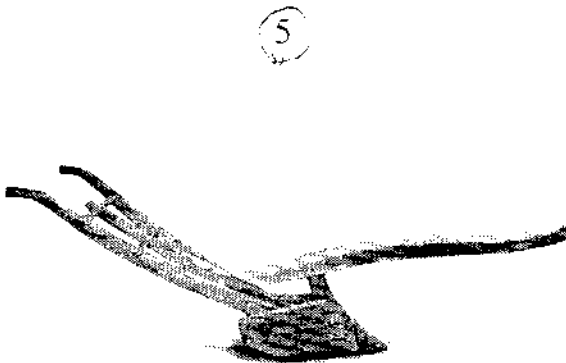




Ответ:

1	2	3	4
А	Б	Г	В

Максимум за задание – 5 баллов.

- 4–5. Перед вами различные изобретения человека, созданные им с древнейших времён до наших дней. Рассмотрите изображения и выполните задания.

21-05-04



4. Соотнесите изображения предметов с их названиями.

Номер изображения предмета	Название изобретения
1	А. персональный компьютер
2	Б. паровой двигатель (паровая машина)
3	В. бензиновый двигатель внутреннего сгорания
4	Г. деревянный плуг
5	Д. шадуф
6	Е. ручной книгопечатный станок

Ответ:

1	2	3	4	5	6
Д	Е	Б	В	Г	А

За каждую верную пару – 1 балл

Максимум за задание – 6 баллов.

5. Расположите представленные предметы в порядке их изобретения человеком.


Ответ:

1	2	3	4	5	6
Б	Е	Д	Г	В	А

За каждую верную пару – 1 балл

Максимум за задание – 6 баллов.

6. Ознакомьтесь с предложенной картой. Выберите верные утверждения.



1. На карте изображено государство Древнего Междуречья.
2. Зелёным цветом выделены на карте районы русла и дельты Нила – зоны наибольшего развития сельского хозяйства в изображённом на карте государстве.
3. Цифрой «4» на карте обозначено Средиземное море.
4. Цифрой «2» на карте обозначен город Мемфис.
5. Цифрой «5» на карте обозначена территория Синайского полуострова.
6. Цифрой «3» на карте обозначено море, которое не омывает берега России.
7. Цифрой «1» на карте обозначен город Фивы.
8. В истории государства, изображённого на схеме, выделяют следующие исторические периоды: Смутное время, Среднее царство, Новейшее царство.

Ответ: 2, 4, 5, 6.

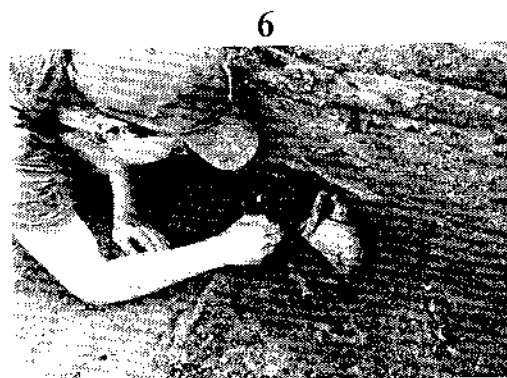

За каждое верно выбранное/невыбранное утверждение – 1 балл.

Максимум за задание – 8 баллов.

Максимум за работу – 40 баллов.

ВСЕРОССИЙСКАЯ ОЛИМПИАДА ШКОЛЬНИКОВ
ИСТОРИЯ. 2022–2023 уч. г. ШКОЛЬНЫЙ ЭТАП
5 КЛАСС

1. Перед вами фотографии, иллюстрирующие деятельность разных историков.
Выберите номера изображений, связанных с работой археологов.



Варианты:

- 1) 1, 3, 4
- 2) 2, 3, 4
- 3) 2, 5, 6
- 4) 3, 4, 5
- 5) 1, 3, 5

Ответ: _____

Максимум за задание – 3 балла.

2. У каждого историка, как правило, есть *специализация* – та область исторического знания, в которой он разбирается лучше, чем во всех остальных. Соотнесите названия трудов историков с теми областями исторического знания, к которым они относятся.

Название области исторического знания (специализации)	Название книги
1) История СССР	А) «Императорская Россия» (Е. В. Анисимов)
2) История Византии	Б) Средневековые историки о падении Константинополя (А. П. Каждан)
3) История русского средневековья	В) «Иван Грозный» (Б. Н. Флоря)
4) Вспомогательные исторические дисциплины	Г) «Ключи к тайнам Клио» (Г. А. Леонтьева, П. А. Шорин, В. Б. Кобрин)
5) История Российской империи	Д) «Очерки начальной Руси» (А. П. Толочко)
6) История Древнерусского государства	Е) «Сталин. Жизнь одного вождя» (О. В. Хлевнюк)

Ответ:

1	2	3	4	5	6
Е	Б	В	Г	А	Д

За каждую верную пару – 2 балла. Максимум за задание – 12 баллов.

3. Расставьте годы и века в верной хронологической последовательности.

- А) I век до н. э.
- Б) 232 год до Р. Х.
- В) 1325 год н. э.
- Г) XIII век

Ответ:

1	2	3	4
Г	Б	В	А


Максимум за задание – 5 баллов.

- 4–5. Перед вами различные изобретения человека, созданные им с древнейших времён до наших дней. Рассмотрите изображения и выполните задания.


1




2




3




4



5



6



4. Соотнесите изображения предметов с их названиями.

Номер изображения предмета	Название изобретения
1	А. персональный компьютер
2	Б. паровой двигатель (паровая машина)
3	В. бензиновый двигатель внутреннего сгорания
4	Г. деревянный плуг
5	Д. шадуф
6	Е. ручной книгопечатный станок

Ответ:

1	2	3	4	5	6
А	Б	В	Г	Д	Е

За каждую верную пару – 1 балл

Максимум за задание – 6 баллов.

5. Расположите представленные предметы в порядке их изобретения человеком.

Ответ:

1	2	3	4	5	6
Б	В	Г	Д	А	Е

За каждую верную пару – 1 балл

Максимум за задание – 6 баллов.

6. Ознакомьтесь с предложенной картой. Выберите верные утверждения.



1. На карте изображено государство Древнего Междуречья.
2. Зелёным цветом выделены на карте районы русла и дельты Нила – зоны наибольшего развития сельского хозяйства в изображённом на карте государстве.
3. Цифрой «4» на карте обозначено Средиземное море.
4. Цифрой «2» на карте обозначен город Мемфис.
5. Цифрой «5» на карте обозначена территория Синайского полуострова.
6. Цифрой «3» на карте обозначено море, которое не омывает берега России.
7. Цифрой «1» на карте обозначен город Фивы.
8. В истории государства, изображённого на схеме, выделяют следующие исторические периоды: Смутное время, Среднее царство, Новейшее царство.

Ответ: _____.

За каждое верно выбранное/невыбранное утверждение – 1 балл.

Максимум за задание – 8 баллов.

Максимум за работу – 40 баллов.

ВСЕРОССИЙСКАЯ ОЛИМПИАДА ШКОЛЬНИКОВ
ИСТОРИЯ. 2022–2023 уч. г. ШКОЛЬНЫЙ ЭТАП
6 КЛАСС

1. Выберите верные утверждения.

- 1) Фараоны в Древнем Египте считались сыновьями луны.
- 2) Понятие «царская дорога» относится к истории державы Ахеменидов.
- 3) Наставником и воспитателем Александра Македонского был философ Диоген.
- 4) На территории Причерноморья существовали норманнские колонии.
- 5) Последним императором Западной Римской империи был Ромул Августул.

Ответ: _____.

За каждое верно выбранное/невыбранное утверждение – 1 балл.

Максимум за задание – 5 баллов.

2. Какие из представленных изображений относятся к крито-микенской культуре?


А



Б



В



Г



Ответ: _____.

За каждое верно выбранное/невыбранное изображение – 1 балл.

Максимум за задание – 4 балла.

3. Выберите верную последовательность периодов истории Древнего Рима.

- А) Римский полис – Римский морской союз – Римская республика – Римская империя
- Б) Царский Рим – Римская республика – Принципат – Доминат
- В) Римская империя – Римская республика – Царский Рим
- Г) Восточная Римская империя – Западная Римская империя – Римская республика

Ответ: Б

Максимум за задание – 1 балл.

4. Установите соответствие между историческими деятелями и событиями, связанными с ними.

Исторические деятели	События
1) Диоклетиан	А) возобновление гонений на христиан
2) Константин I Великий	Б) первое применение проскрипций
3) Юлиан Отступник	В) сражение при мысе Акции
4) Октавиан Август	Г) введение системы тетрархии
5) Марк Лициний Красс	Д) миланский эдикт
6) Луций Корнелий Сулла	Е) подавление восстания Спартака

Ответ:

1	2	3	4	5	6
Г	Б	А	В	Е	Д

За каждую верную пару – 2 балла.

Максимум за задание – 12 баллов.

5–8. Перед вами – карта Римской империи по состоянию на 117 год. Арабскими цифрами на ней обозначены римские провинции.

Рим в 117 году



5. Укажите **ОДНИМ СЛОВОМ** название политической системы, которая существовала в Римской империи в момент её развития, отражённый на карте.

Ответ: авторитаризм

Максимум за задание – 2 балла.

6. Выберите из приведённого ниже списка имя императора, который был правителем Римской империи на момент, отражённый на карте.

- Септимий Север
- Диоклетиан
- Калигула
- Октавиан Август
- Феодосий I Великий
- Траян
- Нерон
- Тибериус

Ответ: Траян

Максимум за задание – 2 балла.

7. Сопоставьте номера обозначенных на карте провинций с посвящёнными

им текстами.

Тексты о провинциях

- А) Эта провинция была образована в ходе Первой Пунической войны и представляла собой первую римскую провинцию. Сохраняла свой статус провинции до фактического прекращения существования Западной Римской империи; была важнейшим центром сельского хозяйства, обеспечивающим италийские города Римской империи.
- Б) Эта провинция являлась одной из наиболее удалённых в империи и располагалась на её восточных рубежах. Своё название она получила от наименования государства, находившегося в древности в Месопотамии. Создание этой провинции приходится на время правление императора Траяна, который посредством успешных военных действий против Парфии смог закрепить за Римом этот сравнительно небольшой участок суши.
- В) На территории этой провинции на рубеже эр происходили события, имеющие колоссальное значение для истории христианства. Здесь же находился и Второй Иерусалимский Храм, разрушенный в ходе Первой Иудейской войны будущим императором Титом.
- Г) Территория этой провинции получила своё наименование по названию проживающего на её территории племени белгов. Географическое положение этой провинции во многом совпадает с положением современного государства, название которого, в свою очередь, происходит от названия этой провинции.
- Д) Эта провинция была образована в результате перехода под власть Рима территорий Пергамского царства. Долгое время она находилась как бы на периферии Римской империи; её расцвет связан с фактом переноса Константином I столицы империи в Византий, который находился неподалёку от этой провинции. Интересно и то, что название этой провинции стало впоследствии нарицательным: её именем стали называть одну из частей света.
- Е) Название этой провинции (с небольшими изменениями) и по сей день возможно обнаружить на географических картах практически на том же месте, где оно было некогда в составе Римской империи. Покорение этих территорий давалось римлянам весьма сложно; некоторые племена – среди них наиболее известными являются, вероятно, пикты – так и не были подчинены; для обороны от них римлянам приходилось строить протяжённые линии укреплений, среди которых наиболее известным является так называемый «Адрианов вал».
- Ж) Территория этой провинции вошла в состав Римской империи после поражения Марка Антония и Клеопатры в битве при мысе Акции в 30 году до н. э. и их последующей гибели. Тем самым в состав империи вошло одно из наиболее могущественных эллинистических государств;

его культура, уходящая корнями в глубокую древность, оказала значительное влияние на культуру Римской империи.

- 3) Эту провинцию от Италии отделяло лишь Адриатическое море. Название же этой провинции стало нарицательным для именования территорий, входящих в состав современной Хорватии и Черногории.

Ответ:

Описание провинции, буква	Б	М	В	А	Е	Г	Д	З
Географическое положение провинции, цифра	1	2	3	4	5	6	7	8

За каждую верную пару – 1 балл.

Максимум за задание – 8 баллов.

8. Сопоставьте названия провинций с посвящёнными им текстами. Обратите внимание на то, что в списке названий есть лишние варианты.

Названия провинций

- I. Египет
- II. Галлия
- III. Пафлагония
- IV. Азия
- V. Далмация
- VI. Ассирия
- VII. Сицилия
- VIII. Македония
- IX. Британия
- X. Иудея
- XI. Белгика
- XII. Каппадокия

Ответ:

Описание провинции, буква	Б	М	В	А	Е	Г	Д	З
Название провинции, римская цифра	VI	I	X	VII	XI	XII	IV	V

За каждую верную пару – 1 балл.

Максимум за задание – 8 баллов.

9. Перед вами изображения, связанные с историческими и мифологическими событиями различных государств Древнего мира и Средних веков. Определите, события из истории и культуры каких стран на них изображены, и соотнесите эти картины с названиями государств.

1



2



3




4



5



6



7



8



Ответ:

(А) Древний Рим	(Б) Древняя Греция	(В) Вавилонское царство	(Г) Византийская империя
1			6

За каждую верную пару – 1 балл.

Максимум за задание – 8 баллов.

Максимум за работу – 50 баллов.

ВСЕРОССИЙСКАЯ ОЛИМПИАДА ШКОЛЬНИКОВ
ИСТОРИЯ. 2022–2023 уч. г. ШКОЛЬНЫЙ ЭТАП
6 КЛАСС

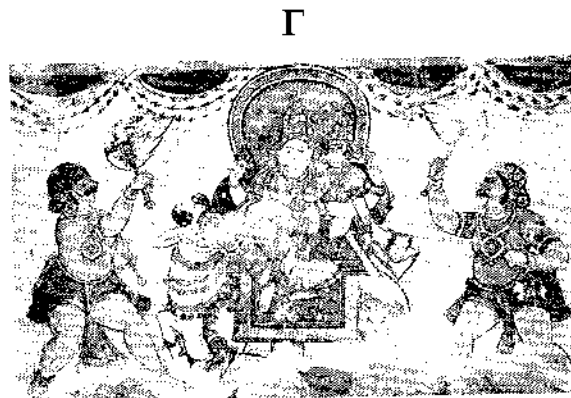

1. Выберите верные утверждения.

- 1) Фараоны в Древнем Египте считались сыновьями луны.
- 2) Понятие «царская дорога» относится к истории державы Ахеменидов.
- 3) Наставником и воспитателем Александра Македонского был философ Диоген.
- 4) На территории Причерноморья существовали норманнские колонии.
- 5) Последним императором Западной Римской империи был Ромул Августул.

Ответ: 2, 3, 5.

За каждое верно выбранное/невыбранное утверждение – 1 балл.
Максимум за задание – 5 баллов.

2. Какие из представленных изображений относятся к крито-микенской культуре?



Ответ: А, Б, Г.

За каждое верно выбранное/невыбранное изображение – 1 балл.
Максимум за задание – 4 балла.

3. Выберите верную последовательность периодов истории Древнего Рима.

- А) Римский полис – Римский морской союз – Римская республика – Римская империя
- Б) Царский Рим – Римская республика – Принципат – Доминат
- В) Римская империя – Римская республика – Царский Рим
- Г) Восточная Римская империя – Западная Римская империя – Римская республика

Ответ: Б.

Максимум за задание – 1 балл.

4. Установите соответствие между историческими деятелями и событиями, связанными с ними.

Исторические деятели	События
1) Диоклетиан	А) возобновление гонений на христиан
2) Константин I Великий	Б) первое применение проскрипций
3) Юлиан Отступник	В) сражение при мысе Акции
4) Октавиан Август	Г) введение системы тетрархии
5) Марк Лициний Красс	Д) миланский эдикт
6) Луций Корнелий Сулла	Е) подавление восстания Спартака

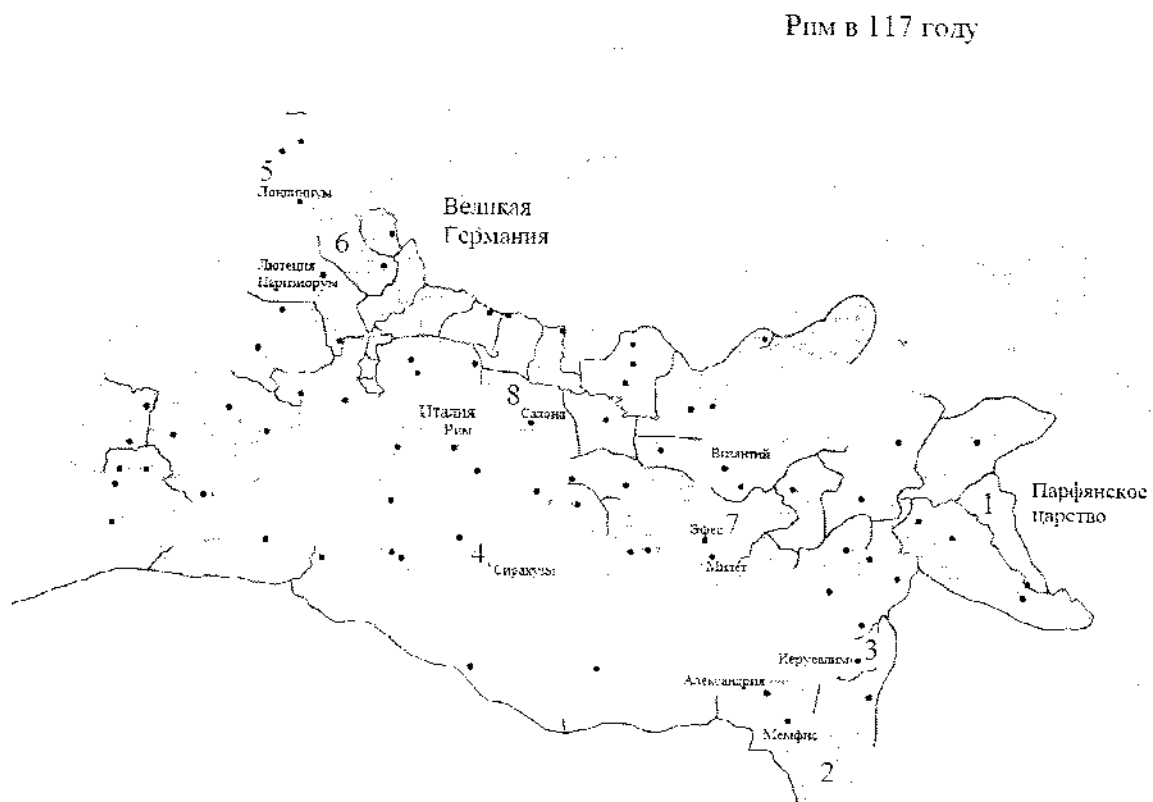
Ответ:

1	2	3	4	5	6
Г	Б	В	А	Д	Е

За каждую верную пару – 2 балла.

Максимум за задание – 12 баллов.

5–8. Перед вами – карта Римской империи по состоянию на 117 год. Арабскими цифрами на ней обозначены римские провинции.



5. Укажите **ОДНИМ СЛОВОМ** название политической системы, которая существовала в Римской империи в момент её развития, отражённый на карте.

Ответ: деспотизм

Максимум за задание – 2 балла.

6. Выберите из приведённого ниже списка имя императора, который был правителем Римской империи на момент, отражённый на карте.

- Септимий Север
- Диоклетиан
- Калигула
- Октавиан Август
- Феодосий I Великий
- Траян
- Нерон
- Тиберий

Ответ: Траян

Максимум за задание – 2 балла.

7. Сопоставьте номера обозначенных на карте провинций с посвящёнными

им текстами.

Тексты о провинциях

- А) Эта провинция была образована в ходе Первой Пунической войны и представляла собой первую римскую провинцию. Сохраняла свой статус провинции до фактического прекращения существования Западной Римской империи; была важнейшим центром сельского хозяйства, обеспечивающим италийские города Римской империи.
- Б) Эта провинция являлась одной из наиболее удалённых в империи и располагалась на её восточных рубежах. Своё название она получила от наименования государства, находившегося в древности в Месопотамии. Создание этой провинции приходится на время правления императора Траяна, который посредством успешных военных действий против Парфии смог закрепить за Римом этот сравнительно небольшой участок суши.
- В) На территории этой провинции на рубеже эр происходили события, имеющие колоссальное значение для истории христианства. Здесь же находился и Второй Иерусалимский Храм, разрушенный в ходе Первой Иудейской войны будущим императором Титом.
- Г) Территория этой провинции получила своё наименование по названию проживающего на её территории племени белгов. Географическое положение этой провинции во многом совпадает с положением современного государства, название которого, в свою очередь, происходит от названия этой провинции.
- Д) Эта провинция была образована в результате перехода под власть Рима территорий Пергамского царства. Долгое время она находилась как бы на периферии Римской империи; её расцвет связан с фактом переноса Константином I столицы империи в Византий, который находился неподалёку от этой провинции. Интересно и то, что название этой провинции стало впоследствии нарицательным: её именем стали называть одну из частей света.
- Е) Название этой провинции (с небольшими изменениями) и по сей день возможно обнаружить на географических картах практически на том же месте, где оно было некогда в составе Римской империи. Покорение этих территорий давалось римлянам весьма сложно; некоторые племена – среди них наиболее известными являются, вероятно, пикты – так и не были подчинены; для обороны от них римлянам приходилось строить протяжённые линии укреплений, среди которых наиболее известным является так называемый «Адрианов вал».
- Ж) Территория этой провинции вошла в состав Римской империи после поражения Марка Антония и Клеопатры в битве при мысе Акции в 30 году до н. э. и их последующей гибели. Тем самым в состав империи вошло одно из наиболее могущественных эллинистических государств;

его культура, уходящая корнями в глубокую древность, оказала значительное влияние на культуру Римской империи.

- 3) Эту провинцию от Италии отделяло лишь Адриатическое море. Название же этой провинции стало нарицательным для именованя территорий, входящих в состав современной Хорватии и Черногории.

Ответ:

Описание провинции, буква	А	В	С	Д	Е	Ж	З	И
Географическое положение провинции, цифра	4	2	3	7	5	1	6	8

За каждую верную пару – 1 балл.

Максимум за задание – 8 баллов.

8. Сопоставьте названия провинций с посвящёнными им текстами. Обратите внимание на то, что в списке названий есть лишние варианты.

Названия провинций

- I. Египет
- II. Галлия
- III. Пафлагония
- IV. Азия
- V. Далмация
- VI. Ассирия
- VII. Сицилия
- VIII. Македония
- IX. Британия
- X. Иудея
- XI. Белгика
- XII. Каппадокия

Ответ:

Описание провинции, буква	А	В	С	Д	Е	Ж	З	И
Название провинции, римская цифра	VII	VI	X	XI		XI	IV	I

За каждую верную пару – 1 балл.

Максимум за задание – 8 баллов.

9. Перед вами изображения, связанные с историческими и мифологическими событиями различных государств Древнего мира и Средних веков. Определите, события из истории и культуры каких стран на них изображены, и соотнесите эти картины с названиями государств.

1



2



3




4



5



6



7



8



Ответ:

(А) Древний Рим	(Б) Древняя Греция	(В) Вавилонское царство	(Г) Византийская империя
А, Г	---	Б, В	Г

За каждую верную пару – 1 балл.

Максимум за задание – 8 баллов.

Максимум за работу – 50 баллов.

ВСЕРОССИЙСКАЯ ОЛИМПИАДА ШКОЛЬНИКОВ
ИСТОРИЯ. 2022–2023 уч. г. ШКОЛЬНЫЙ ЭТАП
6 КЛАСС

И-01-01

1. Выберите верные утверждения.

- 1) Фараоны в Древнем Египте считались сыновьями луны.
- 2) Понятие «царская дорога» относится к истории державы Ахеменидов.
- 3) Наставником и воспитателем Александра Македонского был философ Диоген.
- 4) На территории Причерноморья существовали норманские колонии.
- 5) Последним императором Западной Римской империи был Ромул Августул.

Ответ: 5, 3

За каждое верно выбранное/невыбранное утверждение – 1 балл.

Максимум за задание – 5 баллов.

2. Какие из представленных изображений относятся к крито-микенской культуре?


А



Б



В



Г



Ответ: В, Б

За каждое верно выбранное/невыбранное изображение – 1 балл.

Максимум за задание – 4 балла.

3. Выберите верную последовательность периодов истории Древнего Рима.

- А) Римский полис – Римский морской союз – Римская республика – Римская империя
- Б) Царский Рим – Римская республика – Принципат – Доминат
- В) Римская империя – Римская республика – Царский Рим
- Г) Восточная Римская империя – Западная Римская империя – Римская республика

Ответ: А Б

И-06-01

Максимум за задание – 1 балл.

4. Установите соответствие между историческими деятелями и событиями, связанными с ними.

Исторические деятели	События
1) Диоклетиан	А) возобновление гонений на христиан
2) Константин I Великий	Б) первое применение проскрипций
3) Юлиан Отступник	В) сражение при мысе Акции
4) Октавиан Август	Г) введение системы тетрархии
5) Марк Лициний Красс	Д) миланский эдикт
6) Луций Корнелий Сулла	Е) подавление восстания Спартака

Ответ:

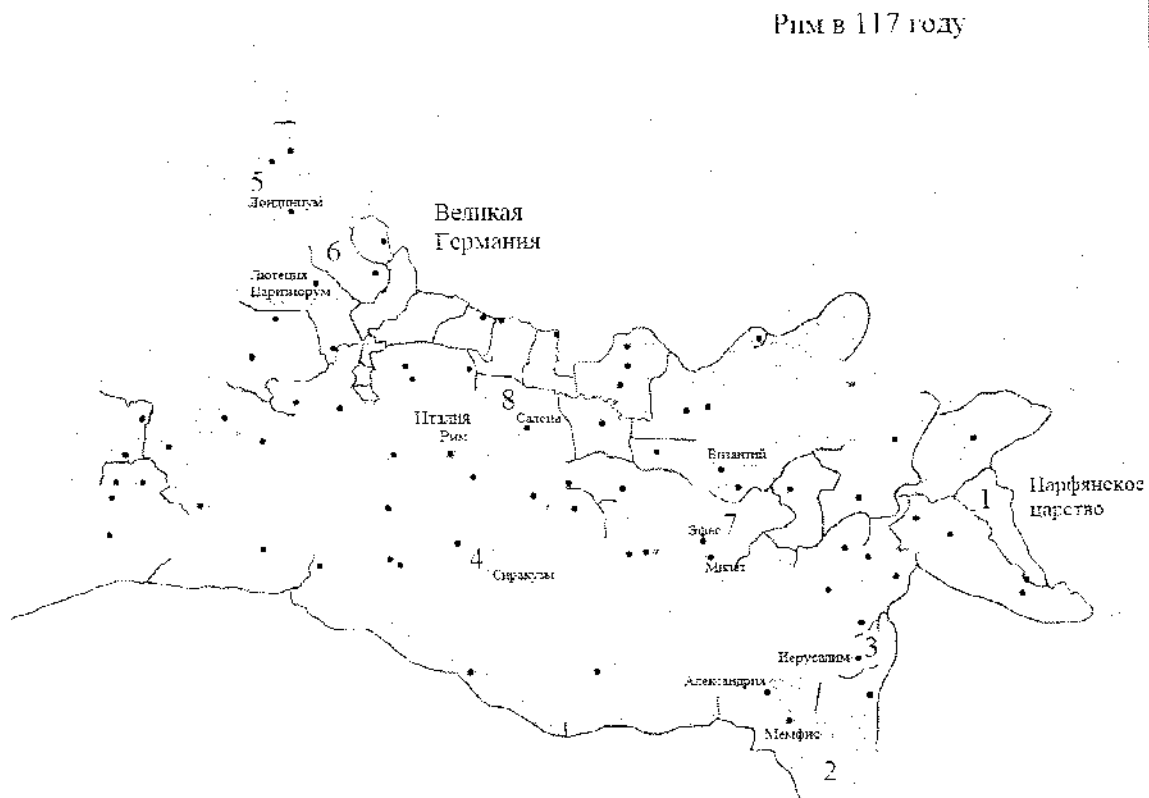
1	2	3	4	5	6
Б	В	Д	Г	А	Е

За каждую верную пару – 2 балла.

Максимум за задание – 12 баллов.

5–8. Перед вами – карта Римской империи по состоянию на 117 год. Арабскими цифрами на ней обозначены римские провинции.

2-00-01



5. Укажите **ОДНИМ СЛОВОМ** название политической системы, которая существовала в Римской империи в момент её развития, отражённый на карте.

Ответ: ДИКТАТУРА

Максимум за задание – 2 балла.

6. Выберите из приведённого ниже списка имя императора, который был правителем Римской империи на момент, отражённый на карте.

- Септимий Север
- Диоклетиан
- Калигула
- Октавиан Август
- Феодосий I Великий
- Траян
- Нерон
- Тиберий

Ответ: Септимий Север

Максимум за задание – 2 балла.

7. Сопоставьте номера обозначенных на карте провинций с посвящёнными

Тексты о провинциях

- А) Эта провинция была образована в ходе Первой Пунической войны и представляла собой первую римскую провинцию. Сохраняла свой статус провинции до фактического прекращения существования Западной Римской империи; была важнейшим центром сельского хозяйства, обеспечивающим италийские города Римской империи.
- Б) Эта провинция являлась одной из наиболее удалённых в империи и располагалась на её восточных рубежах. Своё название она получила от наименования государства, находившегося в древности в Месопотамии. Создание этой провинции приходится на время правление императора Траяна, который посредством успешных военных действий против Парфии смог закрепить за Римом этот сравнительно небольшой участок суши.
- В) На территории этой провинции на рубеже эр происходили события, имеющие колоссальное значение для истории христианства. Здесь же находился и Второй Иерусалимский Храм, разрушенный в ходе Первой Иудейской войны будущим императором Титом.
- Г) Территория этой провинции получила своё наименование по названию проживающего на её территории племени белгов. Географическое положение этой провинции во многом совпадает с положением современного государства, название которого, в свою очередь, происходит от названия этой провинции.
- Д) Эта провинция была образована в результате перехода под власть Рима территорий Пергамского царства. Долгое время она находилась как бы на периферии Римской империи; её расцвет связан с фактом переноса Константином I столицы империи в Византий, который находился неподалёку от этой провинции. Интересно и то, что название этой провинции стало впоследствии нарицательным: её именем стали называть одну из частей света.
- Е) Название этой провинции (с небольшими изменениями) и по сей день возможно обнаружить на географических картах практически на том же месте, где оно было некогда в составе Римской империи. Покорение этих территорий давалось римлянам весьма сложно; некоторые племена — среди них наиболее известными являются, вероятно, пикты — так и не были подчинены; для обороны от них римлянам приходилось строить протяжённые линии укреплений, среди которых наиболее известным является так называемый «Адрианов вал».
- Ж) Территория этой провинции вошла в состав Римской империи после поражения Марка Антония и Клеопатры в битве при мысе Акции в 30 году до н. э. и их последующей гибели. Тем самым в состав империи вошло одно из наиболее могущественных эллинистических государств;

его культура, уходящая корнями в глубокую древность, оказала значительное влияние на культуру Римской империи.

- 3) Эту провинцию от Италии отделяло лишь Адриатическое море. Название же этой провинции стало нарицательным для именованя территорий, входящих в состав современной Хорватии и Черногории.

И.ос.01

Ответ:

Описание провинции, буква	Б	Ж	В	А	Г	Д	Е	З
Географическое положение провинции, цифра	4	2	3	4	6	7	6	8

За каждую верную пару – 1 балл.

Максимум за задание – 8 баллов.

8. Сопоставьте названия провинций с посвящёнными им текстами. Обратите внимание на то, что в списке названий есть лишние варианты.

Названия провинций

- I. Египет
- II. Галлия
- III. Пафлагония
- IV. Азия
- V. Далмация
- VI. Ассирия
- VII. Сицилия
- VIII. Македония
- IX. Британия
- X. Иудея
- XI. Белгика
- XII. Каппадокия

Ответ:

Описание провинции, буква	Ж	Е	Д	Е	А	Г	В	З
Название провинции, римская цифра	I	VI	IV	IX	II	XI	VIII	III

За каждую верную пару – 1 балл.

Максимум за задание – 8 баллов.

9. Перед вами изображения, связанные с историческими и мифологическими событиями различных государств Древнего мира и Средних веков. Определите, события из истории и культуры каких стран на них изображены, и соотнесите эти картины с названиями государств.

1



2



3




4



5



6




7



8

2-06 07



Ответ:

(А) Древний Рим	(Б) Древняя Греция	(В) Вавилонское царство	(Г) Византийская империя
1, 7, 3	6, 7 & 5	2, 4	3, 8

За каждую верную пару – 1 балл.

Максимум за задание – 8 баллов.

Максимум за работу – 50 баллов.

И-07-21

ВСЕРОССИЙСКАЯ ОЛИМПИАДА ШКОЛЬНИКОВ
ИСТОРИЯ. 2022–2023 уч. г. ШКОЛЬНЫЙ ЭТАП
7 КЛАСС

1. В каком году произошли описанные в приведённом тексте события?

«Трубы трубятъ въ Новѣградѣ, стоятъ стязи въ Путивлѣ, Игорь ждётъ мила брата Всеволода. И рече ему Буй Туръ Всеволодъ: «Одинъ братъ, одинъ свѣтъ свѣтлый – ты, Игорю! Оба есвѣ Святъславличя! Съдлай, брате, свои бръзьи комони, а мои ти готови, осѣдлани у Курьска напереди».

- 1) 1185
- 2) 1174
- 3) 1237
- 4) 1380
- 5) 1480
- 6) 1500

Ответ: 1

Максимум за задание – 2 балла.

2. Укажите факт из биографии автора текста, приведённого ниже:

«Доколе же ты, Катилина, будешь злоупотреблять нашим терпением? Как долго ещё ты, в своём бешенстве, будешь издеваться над нами? До каких пределов ты будешь кичиться своей дерзостью, не знающей узды? Неужели тебя не встревожили ни ночные караулы на Палатине, ни стража, обходящая город, ни страх, охвативший народ, ни присутствие всех честных людей, ни выбор этого столь надёжно защищённого места для заседания сената, ни лица и взоры всех присутствующих? Неужели ты не понимаешь, что твои намерения открыты? Не видишь, что твой заговор уже известен всем присутствующим и раскрыт? Кто из нас, по твоему мнению, не знает, что делал ты последней, что предыдущей ночью, где ты был, кого сзывал, какое решение принял? О, времена! О, нравы! Сенат все это понимает, консул видит, а этот человек всё ещё жив!»

- 1) Участвовал в возведении Афинских «длинных стен».
- 2) Реформировал управление легионами Рима.
- 3) Является автором «Энеиды».
- 4) Командовал войсками Рима в битве на Каталаунских полях.
- 5) Построил крупнейший амфитеатр Рима, ныне более известный как Колизей.
- 6) Был убит в ходе проскрипций, проводимых вторым триумвиратом.

Ответ: 6

Максимум за задание – 2 балла.

3. Выберите название архитектурного сооружения, точно существовавшего на территории Владимиро-Суздальского княжества по состоянию на конец XIII века.

- 1) Десятинная церковь
- 2) Собор Святой Софии
- 3) Церковь Параскевы Пятницы на Торгу
- 4) Успенский собор
- 5) Церковь Покрова что на Рву (Собор Василия Блаженного)
- 6) Троице-Сергиев монастырь

Ответ: 4

Максимум за задание – 2 балла.

4. Укажите верные утверждения.

- 1) Октавиан Август – император, переименовавший месяц секстилий в свою честь.
- 2) Прокопий Кесарийский – автор эпической поэмы «Энеида».
- 3) Траян – император, при котором территория Рима достигла максимальных размеров.
- 4) Тулл Гостилий – основатель города Рима.
- 5) Перикл – афинский полководец в битве при Марафоне.
- 6) Каракалла – император, даровавший всем жителям Римского государства гражданство.

Ответ: 6

Максимум за задание – 3 балла.

5. Кто из этих исторических деятелей был правителем какого-либо государства в XIII веке?

- 1) Александр Невский
- 2) Алексей Комнин I
- 3) Михаил VIII Палеолог
- 4) Дмитрий Боброк-Волынский
- 5) Иоанн Безземельный
- 6) Карл V Габсбург

Ответ: 1, 2, 3

Максимум за задание – 3 балла.

6. Выберите факты, связанные с религиозной жизнью Европы в XVI–XVII вв.

- ① разрыв между Восточной и Западной христианскими церквями
- 2) вестфальский мир
- 3) появление «Индекса запрещённых книг»
- 4) авиньонское пленение пап
- 5) создание ордена иезуитов
- 6) крестоносное движение

Ответ: _____.

Максимум за задание – 3 балла.

7. Что с исторической точки зрения объединяет перечисленные исторические личности?

Франческо Петрарка, Джованни Боккаччо, Лоренцо Валла, Пико делла Мирандола

- 1) писатели и мыслители, получившие известность как представители «Северного гуманизма»
- 2) мореплаватели эпохи Великих географических открытий
- 3) наиболее известные венецианские дожи XIII – XV веков
- 4) итальянские гуманисты XIV – XV веков
- 5) великие герцоги Тосканские

Ответ: 2, 3, 5.

Максимум за задание – 2 балла.

8. Что с исторической точки зрения объединяет перечисленные в ряду элементы? 1346, 1356, 1415, 1428–1429

- 1) годы наиболее важных сражений и событий Столетней войны.
- 2) годы смертей правителей Московского княжества.
- 3) годы эпидемий чумы в Европе.
- 4) годы карательных походов Золотой Орды в Европу.
- 5) годы сражений в ходе Гуситских войн

Ответ: 2.

Максимум за задание – 2 балла.

9–10.

9. Что с исторической точки зрения объединяет три из четырех перечисленных в ряду элементов?

А) 1096–1099; Б) 1111; В) 1147–1149; Г) 1189–1192.

- 1) годы противостояний Руси и половцев
- 2) годы завоевательных походов Чингисхана и его наследников
- 3) годы крестовых походов на Восток
- 4) годы правления германских королей

Ответ: 2.

Максимум за задание – 2 балла.

10. Выберите из приведённого списка элемент, лишний по основанию, выбранному в предыдущем вопросе.

Ответ: 4.

Максимум за задание – 2 балла.

11-12.

11. Что с исторической точки зрения объединяет три из четырёх перечисленных в ряду элементов?

А) Галич; Б) Углич; В) Белоозеро; Г) Нижний Новгород.

- 1) города, получившие известность в качестве центров ремесла Древней Руси
- 2) города, в которых правили призванные варяги
- 3) города, присоединённые к Московскому княжеству при Иване Калите
- 4) города, больше прочих пострадавшие от разорения в ходе походов Батые

Ответ: В.

Максимум за задание – 2 балла.

12. Выберите из приведённого списка город, лишний по выбранному в предыдущем вопросе основанию.

Ответ: Г.

Максимум за задание – 2 балла.

13. Расположите в хронологической последовательности перечисленные события.

- А) строительство Успенского собора во Владимире
- Б) строительство собора Святой Софии в Константинополе
- В) строительство собора Святой Софии в Новгороде
- Г) строительство собора Санта-Мария-дель-Фьоре во Флоренции
- Д) строительство Успенского собора в Москве
- Е) строительство собора Святой Софии в Киеве

Ответ:

1	2	3	4	5	6
Б	Е	В	А	Д	Г

За каждую верную пару – 1 балл.

Максимум за задание – 6 баллов.

14. Определите пропущенные в тексте названия, слова, имена, даты, обозначенные порядковыми номерами. При необходимости при порядковых номерах даются пояснения о характере требуемой вставки. Варианты вставок даны в единственном числе, именительном падеже. Обратите внимание: среди предлагаемых вставок есть «лишние» элементы.

В (1) году началось вторжение монгольских сил на территорию Руси. Войска хана (2) покорили (3 – княжество), а затем вторглись на территорию Суздальской земли. Несмотря на то, что здесь (2) встретил самое упорное сопротивление за всё время военных походов на Руси, многие города были разорены, а владимирский князь (4) погиб в битве на реке (5) весной (6) года. Татары повернули в сторону города (7), однако до самого города они не дошли и, разорив Торжок, вернулись в степи. В (8) году монгольские войска

двинулись на территории Южной Руси. В кратчайшие сроки был взят (9), разорены Галицкая и Волынская земли. После этого татарские войска огнём и мечом прошли по ряду европейских стран и, как полагают исследователи, лишь известие о смерти хана (10 – имя хана Монгольской империи) заставило (2) прекратить поход и повернуть назад.

Варианты для пропусков 1, 6, 8	Варианты для пропусков 2, 4, 10	Варианты для пропуска 3	Варианты для пропуска 5	Варианты для пропусков 7, 9
1236	Батый	Рязанское	Сить	Новгород
1237	Тохта	Московское	Дон	Киев
1238	Ярослав Всеволодович	Новгородское	Колоча	Владимир
1239	Юрий Всеволодович	Нижегородское	Пьяна	Суздаль
1240	Угедей	Галицко-Волынское	Вожа	Козельск
	Чингисхан			Юрьев-Польский

Ответ:

Пропуск	Нужная вставка
1.	1237
2.	Император Хангай
3.	Рязанское
4.	Юрий Всеволодович
5.	Сить
6.	1238
7.	Колоча
8.	1239
9.	Киев
10.	Чинги

За каждую верную вставку – 1 балл.

Максимум за задание – 10 баллов.

- Б) Реконкиста
- В) Столетняя война
- Г) Война Алой и Белой розы
- Д) движение таборитов

Ответ: В

Максимум за задание – 1 балл.

17. Выберите из списка буквенное обозначение территорий, на которые претендовали обе воюющие стороны в силу экономической значимости этих территорий.

- 1) А
- 2) Б
- 3) В
- 4) Г
- 5) Д
- 6) Е

Ответ: 1, 2

Максимум за задание – 1 балл.

18. Напишите цифру, обозначающую город, в снятии осады которого приняла участие историческая личность, известная как «Орлеанская дева».

Ответ: 4

Максимум за задание – 1 балл.

19. Напишите цифру, обозначающую посёлок, близ которого развернулось первое значительное сражение изображённой войны, обернувшееся тяжёлыми потерями для одной из противоборствующих сторон.

Ответ: 4

Максимум за задание – 1 балл.

20. Укажите имя и порядковый номер правителя, который был пленён в результате поражения, понесённого его армией в битве у города, обозначенного на карте цифрой «2».

Ответ следует записать в формате: имя правителя в **именительном** падеже с **заглавной** буквы и порядковый номер правителя **арабской** цифрой **без** знаков препинания.

Внимание! Ответы с орфографическими ошибками не засчитываются.

Ответ: _____

Максимум за задание – 1 балл.

21. Выберите верные утверждения.

- А) Цифрой «3» на карте обозначен город, в котором некоторое время находилась резиденция Папы Римского.
- Б) Буквой «Д» на карте обозначено Адриатическое море

- В) По состоянию на время, отражённое на карте, территории, обозначенные буквами «В» и «Г», входили в состав Англии.
- Г) Территория, обозначенная буквой «А», являлась одним из крупнейших в Европе центром производства тканей вообще и сукна в частности.
- Д) В ходе битв близ населённых пунктов, обозначенных на карте цифрами «2» и «4», было выявлено значительное превосходство лучников одной воюющей стороны над арбалетчиками другой.

Ответ: АГД

За каждое верно выбранное/невыбранное утверждение – 1 балл.
Максимум за задание – 5 баллов.

22-23.

22. Прочитайте отрывки, повествующие о двух правителях Древнего Рима. Для каждого отрывка выберите императора, о котором идёт речь.

<p>А. Тяжёлые и позорные поражения испытал он только дважды, и оба раза в Германии: это были поражения Лоллия и Вара. Первое принесло больше позора, чем урона, но второе было почти губительным: оказались уничтожены три легиона с полководцем, легатами и всеми вспомогательными войсками. И говорят, он до того был сокрушён, что несколько месяцев подряд не стриг волос и бороды и не раз бился головою о косяк, восклицая: «Квинтилий Вар, верни легионы!»</p>	<p>Б. Словно ему претили безобразные старые дома и узкие кривые переулки, он поджёг Рим настолько открыто, что многие консуляры ловили у себя во дворах его слуг с факелами и паклей, но не осмеливались их трогать; а житницы, стоявшие поблизости от Золотого дворца и, по мнению (...), отнимавшие у него слишком много места, были как будто сначала разрушены военными машинами, а потом подожжены, потому что стены их были из камня. Шесть дней и семь ночей свирепствовало бедствие, а народ искал убежища в каменных памятниках и склепах...</p>
--	--

Список правителей Рима: Октавиан Август, Тиберий, Калигула, Нерон, Гальба, Каракалла, Гелиогабал, Диоклетиан.

Ответ:

Правитель Рима	Буквенное обозначение фрагмента
<i>Октавиан Август</i>	А
<i>Нерон</i>	Б

За каждый правильный ответ – 2 балла.
Максимум за задание – 4 балла.

23. Установите соответствие между отрывками, повествующими о правителях (из задания 22), и их изображениями.



Ответ:

Правитель Рима	Буквенное обозначение фрагмента	Связанные изображения
<i>Июльиан Кезарь</i>	А	1
<i>Нерон</i>	Б	2

2 балла за каждую верную пару. Максимум за задание – 4 балла.

24-28. Прочитайте фрагмент исторического источника и выполните задания.

В год... Пришли Святополк, и Владимир, и Давыд Игоревич, и Василько Ростиславич, и Давыд Святославич, и брат его Олег и собрались на совет в Любече для установления мира, и говорили друг другу: «Зачем губим Русскую землю, сами между собой устраивая распри? А половцы землю нашу несут розно и рады, что между нами до сих пор идут войны. Да отныне объединимся чистосердечно и будем блюсти Русскую землю, и пусть каждый владеет отчиной своей: Святополк – Киевом, Изяславовой отчиной, Владимир – Всеволодовой, Давыд и Олег и Ярослав – Святославовой, и те, кому Всеволод роздал города: Давыду – Владимир, Ростиславичам же: Володарю – Перемышль, Васильку – Теробовль». И на том целовали крест: «Если отныне кто на кого пойдет, против того будем мы все и крест честной». Сказали все: «Да будет против того крест честной и вся земля Русская». И попрощавшись, пошли восвосяи.

24. Укажите год, когда происходили события, описанные в тексте источника.

Ответ: 1094

Максимум за задание – 2 балла.

25. Укажите имя и отчество князя, правившего на момент описанных в источнике событий в Киеве.

В ответе запишите два слова через пробел без дополнительных знаков и символов.

Внимание! Ответы с орфографическими ошибками не засчитываются.

Ответ: Юрийчик Изюмкович

Максимум за задание – 2 балла.

26. Укажите прозвище упомянутого в источнике князя Владимира.

В ответ запишите одно слово без дополнительных знаков и символов.

Внимание! Ответы с орфографическими ошибками не засчитываются.

Ответ: Мачисах

Максимум за задание – 2 балла.

27. Укажите прозвище упомянутого в источнике князя Олега.

Внимание! Ответы с орфографическими ошибками не засчитываются.

Ответ: Важичи Гривович

Максимум за задание – 2 балла.

28. Какие последствия имел принятый на съезде принцип «каждый владеет отчиной своей»? Выберите верные утверждения.

- А) Принцип закрепил и лишь усилил политическую раздробленность, которая в это время уже начала складываться на Руси.
- Б) Принцип остановил раздробление государства и укрепил его внутреннее единство.
- В) Установление этого принципа сделало Киев самым политически значимым городом Руси.
- Г) Принцип привёл к усилению городов, которые находились в составе княжеских вотчин вдали от Киева.

Ответ: Б А Г

За каждое верно выбранное/невыбранное утверждение – 1 балл.

Максимум за задание – 4 балла.

29. Выберите из предложенного списка утверждения, которые характеризуют предпосылки и последствия съезда князей, описанного в источнике.

- А) Одним из последствий съезда стало объединение князей для противостояния половечской угрозе.
- Б) Важнейшей причиной съезда князей стоит считать усиление власти упомянутого в источнике князя Владимира.
- В) В источнике слово «отчина» употребляется в значении «место, откуда происходят все князья династии».
- Г) В источнике слово «отчина» употребляется в значении «родовое владение князя».

- Д) Непосредственной причиной съезда стал натиск печенежских орд на границы Руси.
- Е) Среди последствий съезда – формирование целого ряда родов представителей династии Рюриковичей, соперничающих за власть.
- Ж) Описанный в источнике съезд князей является единственным и уникальным: более съездов князей не проводилось.

Ответ: А, Д, Е

За каждое верно выбранное/невыбранное утверждение – 1 балл.
Максимум за задание – 7 баллов.

Максимум за работу – 81 балл.

ВСЕРОССИЙСКАЯ ОЛИМПИАДА ШКОЛЬНИКОВ
ИСТОРИЯ. 2022–2023 уч. г. ШКОЛЬНЫЙ ЭТАП
7 КЛАСС

1. В каком году произошли описанные в приведённом тексте события?

«Трубы трубятъ въ Новѣградѣ, стоять стязи въ Путивлѣ, Игорь ждётъ мила брата Всеволода. И рече ему Буй Туръ Всеволодь: «Одинъ братъ. одинъ свѣтъ свѣтлый – ты, Игорю! Оба есѣ Святъславличя! Съдлай. брате, свои бръзьи комони, а мои ти готови, осѣдлани у Курьска напереди».

- 1) 1185
- 2) 1174
- 3) 1237
- 4) 1380
- 5) 1480
- 6) 1500

Ответ: 1.

Максимум за задание – 2 балла.

2. Укажите факт из биографии автора текста, приведённого ниже:

«Доколе же ты, Катилина, будешь злоупотреблять нашим терпением? Как долго ещё ты, в своём бешенстве, будешь издеваться над нами? До каких пределов ты будешь кичиться своей дерзостью, не знающей узды? Неужели тебя не встревожили ни ночные караулы на Палатине, ни стража, обходящая город, ни страх, охвативший народ, ни присутствие всех честных людей, ни выбор этого столь надёжно защищённого места для заседания сената, ни лица и взоры всех присутствующих? Неужели ты не понимаешь, что твои намерения открыты? Не видишь, что твой заговор уже известен всем присутствующим и раскрыт? Кто из нас, по твоему мнению, не знает, что делал ты последней, что предыдущей ночью, где ты был, кого сзывал, какое решение принял? О, времена! О, нравы! Сенат все это понимает, консул видит, а этот человек всё ещё жив!»

- 1) Участвовал в возведении Афинских «длинных стен».
- 2) Реформировал управление легионами Рима.
- 3) Является автором «Энеиды».
- 4) Командовал войсками Рима в битве на Каталаунских полях.
- 5) Построил крупнейший амфитеатр Рима, ныне более известный как Колизей.
- 6) Был убит в ходе проскрипций, проводимых вторым триумвиратом.

Ответ: 6.

Максимум за задание – 2 балла.

3. Выберите название архитектурного сооружения, точно существовавшего на территории Владимиро-Суздальского княжества по состоянию на конец XIII века.

- 1) Десятинная церковь
- 2) Собор Святой Софии
- 3) Церковь Параскевы Пятницы на Торгу
- 4) Успенский собор
- 5) Церковь Покрова что на Рву (Собор Василия Блаженного)
- 6) Троице-Сергиев монастырь

Ответ: 3.

Максимум за задание – 2 балла.

4. Укажите верные утверждения.

- 1) Октавиан Август – император, переименовавший месяц секстилий в свою честь.
- 2) Прокопий Кесарийский – автор эпической поэмы «Энеида».
- 3) Траян – император, при котором территория Рима достигла максимальных размеров.
- 4) Тулл Гостилий – основатель города Рима.
- 5) Перикл – афинский полководец в битве при Марафоне.
- 6) Каракалла – император, даровавший всем жителям Римского государства гражданство.

Ответ: 1, 3, 5, 6.

Максимум за задание – 3 балла.

5. Кто из этих исторических деятелей был правителем какого-либо государства в XIII веке?

- 1) Александр Невский
- 2) Алексей Комнин I
- 3) Михаил VIII Палеолог
- 4) Дмитрий Боброк-Волынский
- 5) Иоанн Безземельный
- 6) Карл V Габсбург

Ответ: 4, 5, 6.

Максимум за задание – 3 балла.

6. Выберите факты, связанные с религиозной жизнью Европы в XVI–XVII вв.

- 1) разрыв между Восточной и Западной христианскими церквями
- 2) вестфальский мир
- 3) появление «Индекса запрещённых книг»
- 4) авиньонское пленение пап
- 5) создание ордена иезуитов
- 6) крестоносное движение

Ответ: _____.

Максимум за задание – 3 балла.

7. Что с исторической точки зрения объединяет перечисленные исторические личности?

Франческо Петрарка. Джованни Боккаччо. Лоренцо Валла. Пико делла Мирандола

- 1) писатели и мыслители, получившие известность как представители «Северного гуманизма»
- 2) мореплаватели эпохи Великих географических открытий
- 3) наиболее известные венецианские дожи XIII – XV веков
- 4) итальянские гуманисты XIV – XV веков
- 5) великие герцоги Тосканские

Ответ: _____.

Максимум за задание – 2 балла.

8. Что с исторической точки зрения объединяет перечисленные в ряду элементы?
1346, 1356, 1415, 1428–1429

- 1) годы наиболее важных сражений и событий Столетней войны.
- 2) годы смертей правителей Московского княжества.
- 3) годы эпидемий чумы в Европе.
- 4) годы карательных походов Золотой Орды в Европу.
- 5) годы сражений в ходе Гуситских войн

Ответ: 1.

Максимум за задание – 2 балла.

9–10.

9. Что с исторической точки зрения объединяет три из четырех перечисленных в ряду элементов?

А) 1096–1099; Б) 1111; В) 1147–1149; Г) 1189–1192.

- 1) годы противостояний Руси и половцев
- 2) годы завоевательных походов Чингисхана и его наследников
- 3) годы крестовых походов на Восток
- 4) годы правления германских королей

Ответ: _____.

Максимум за задание – 2 балла.

10. Выберите из приведённого списка элемент, лишний по основанию, выбранному в предыдущем вопросе.

Ответ: _____.

Максимум за задание – 2 балла.

11-12.

11. Что с исторической точки зрения объединяет три из четырёх перечисленных в ряду элементов?

А) Галич; Б) Углич; В) Белоозеро; Г) Нижний Новгород.

- 1) города, получившие известность в качестве центров ремесла Древней Руси
- 2) города, в которых правили призванные варяги
- 3) города, присоединённые к Московскому княжеству при Иване Калите
- 4) города, больше прочих пострадавшие от разорения в ходе походов Батые

Ответ: Б, В, Г.

Максимум за задание – 2 балла.

12. Выберите из приведённого списка город, лишний по выбранному в предыдущем вопросе основанию.

Ответ: Г.

Максимум за задание – 2 балла.

13. Расположите в хронологической последовательности перечисленные события.

- А) строительство Успенского собора во Владимире
- Б) строительство собора Святой Софии в Константинополе
- В) строительство собора Святой Софии в Новгороде
- Г) строительство собора Санта-Мария-дель-Фьоре во Флоренции
- Д) строительство Успенского собора в Москве
- Е) строительство собора Святой Софии в Киеве

Ответ:

1	2	3	4	5	6
Б	В	Д	А	Е	Г

За каждую верную пару – 1 балл.

Максимум за задание – 6 баллов.

14. Определите пропущенные в тексте названия, слова, имена, даты, обозначенные порядковыми номерами. При необходимости при порядковых номерах даются пояснения о характере требуемой вставки. Варианты вставок даны в единственном числе, именительном падеже. Обратите внимание: среди предлагаемых вставок есть «лишние» элементы.

В (1) году началось вторжение монгольских сил на территорию Руси. Войска хана (2) покорили (3 – княжество), а затем вторглись на территорию Суздальской земли. Несмотря на то, что здесь (2) встретил самое упорное сопротивление за всё время военных походов на Русь, многие города были разорены, а владимирский князь (4) погиб в битве на реке (5) весной (6) года. Татары повернули в сторону города (7), однако до самого города они не дошли и, разорив Торжок, вернулись в степи. В (8) году монгольские войска

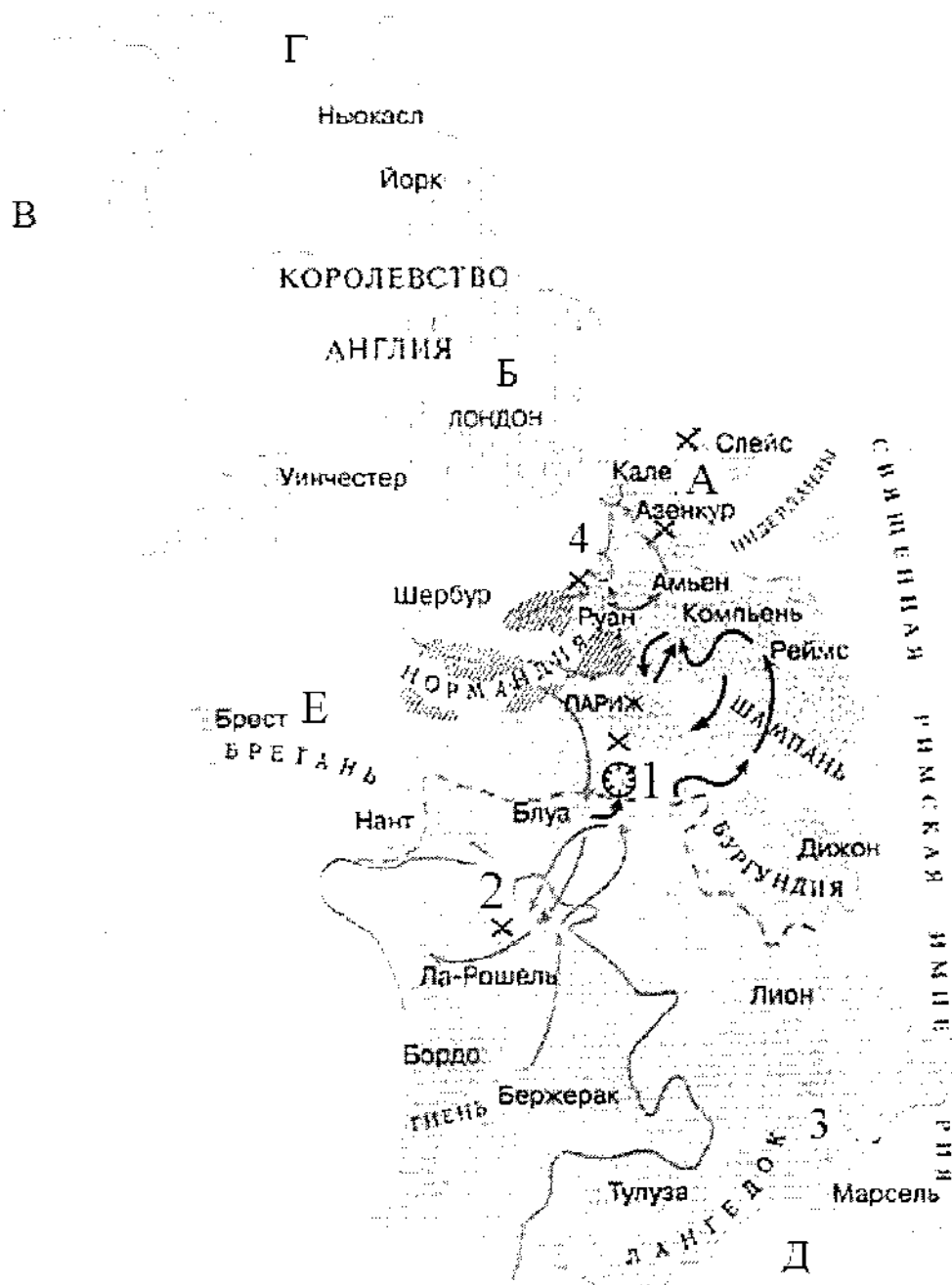
двинулись на территории Южной Руси. В кратчайшие сроки был взят (9), разорены Галицкая и Волынская земли. После этого татарские войска отнем и мечом прошлись по ряду европейских стран и, как полагают исследователи, лишь известие о смерти хана (10 – имя хана Монгольской империи) заставило (2) прекратить поход и повернуть назад.

Варианты для пропусков 1, 6, 8	Варианты для пропусков 2, 4, 10	Варианты для пропуска 3	Варианты для пропуска 5	Варианты для пропусков 7, 9
1236	Батый	Рязанское	Сить	Новгород
1237	Тохта	Московское	Дон	Киев
1238	Ярослав Всеволодович	Новгородское	Колоча	Владимир
1239	Юрий Всеволодович	Нижегородское	Пьяна	Суздаль
1240	Угедей	Галицко-Волынское	Вожа	Козельск
	Чингисхан			Юрьев-Польский

Ответ:	Нужная вставка
Пропуск	
1.	1237
2.	Батый
3.	Суздаль
4.	Юрий Всеволодович
5.	Дон
6.	Сить
7.	Колоча
8.	Пьяна
9.	Вожа
10.	Чингисхан

За каждую верную вставку – 1 балл.
Максимум за задание – 10 баллов.

15-21. Внимательно рассмотрите карту и выполните задания.



15. Выберите из списка корректную датировку событий, обозначенных на карте.

- А) 1337–1453 гг.
- Б) 1455–1585 гг.
- В) 732–1492 гг.
- Г) 1433–1453 гг.
- Д) 1565–1572 гг.

Ответ: _____.

Максимум за задание – 1 балл.

16. Выберите из списка корректное название событий, обозначенных на карте.

- А) Альбигойские войны

- Б) Реконкиста
- В) Столетняя война
- Г) Война Алой и Белой розы
- Д) движение таборитов

Ответ: Г.

Максимум за задание – 1 балл.

17. Выберите из списка буквенное обозначение территорий, на которые претендовали обе воюющие стороны в силу экономической значимости этих территорий.

- 1) А
- 2) Б
- 3) В
- 4) Г
- 5) Д
- 6) Е

Ответ: Г.

Максимум за задание – 1 балл.

18. Напишите цифру, обозначающую город, в снятии осады которого приняла участие историческая личность, известная как «Орлеанская дева».

Ответ: 4.

Максимум за задание – 1 балл.

19. Напишите цифру, обозначающую посёлок, близ которого развернулось первое значительное сражение изображённой войны, обернувшееся тяжёлыми потерями для одной из противоборствующих сторон.

Ответ: 4.

Максимум за задание – 1 балл.

20. Укажите имя и порядковый номер правителя, который был пленён в результате поражения, понесённого его армией в битве у города, обозначенного на карте цифрой «2».

Ответ следует записать в формате: имя правителя в **именительном** падеже с **заглавной** буквы и порядковый номер правителя **арабской** цифрой **без** знаков препинания.

Внимание! Ответы с орфографическими ошибками не засчитываются.

Ответ: Исаак 2.

Максимум за задание – 1 балл.

21. Выберите верные утверждения.

- А) Цифрой «3» на карте обозначен город, в котором некоторое время находилась резиденция Папы Римского.
- Б) Буквой «Д» на карте обозначено Адриатическое море

- В) По состоянию на время, отражённое на карте, территории, обозначенные буквами «В» и «Г», входили в состав Англии.
- Г) Территория, обозначенная буквой «А», являлась одним из крупнейших в Европе центром производства тканей вообще и сукна в частности.
- Д) В ходе битв близ населённых пунктов, обозначенных на карте цифрами «2» и «4», было выявлено значительное превосходство лучников одной воюющей стороны над арбалетчиками другой.

Ответ: в ГД

За каждое верно выбранное/невыбранное утверждение – 1 балл.
Максимум за задание – 5 баллов.

22-23.

22. Прочитайте отрывки, повествующие о двух правителях Древнего Рима. Для каждого отрывка выберите императора, о котором идёт речь.

<p>А. Тяжёлые и позорные поражения испытал он только дважды, и оба раза в Германии: это были поражения Лоллия и Вара. Первое принесло больше позора, чем урона, но второе было почти гибельным: оказались уничтожены три легиона с полководцем, легатами и всеми вспомогательными войсками. И говорят, он до того был сокрушён, что несколько месяцев подряд не стриг волос и бороды и не раз бился головою о косяк, восклицая: «Квинтилий Вар, верни легионы!»</p>	<p>Б. Словно ему претили безобразные старые дома и узкие кривые переулки, он поджёг Рим настолько открыто, что многие консуляры ловили у себя во дворах его слуг с факелами и паклей, но не осмеливались их трогать; а житницы, стоявшие поблизости от Золотого дворца и, по мнению (...), отнимавшие у него слишком много места, были как будто сначала разрушены военными машинами, а потом подожжены, потому что стены их были из камня. Шесть дней и семь ночей свирепствовало бедствие, а народ искал убежища в каменных памятниках и склепах...</p>
--	--

Список правителей Рима: Октавиан Август, Тиберий, Калигула, Нерон, Гальба, Каракалла, Гелиогабал, Диоклетиан.

Ответ:

Правитель Рима	Буквенное обозначение фрагмента
Калигула	А
Нерон	Б

За каждый правильный ответ – 2 балла.
Максимум за задание – 4 балла.

23. Установите соответствие между отрывками, повествующими о правителях (из задания 22), и их изображениями.



Ответ:

Правитель Рима	Буквенное обозначение фрагмента	Связанные изображения
Август	А	1
Византия	Б	2

2 балла за каждую верную пару. Максимум за задание – 4 балла.

24-28. Прочитайте фрагмент исторического источника и выполните задания.

В год... Пришли Святополк, и Владимир, и Давыд Игоревич, и Василько Ростиславич, и Давыд Святославич, и брат его Олег и собрались на совет в Любече для установления мира, и говорили друг другу: «Зачем губим Русскую землю, сами между собой устраивая распри? А половцы землю нашу несут розно и рады, что между нами до сих пор идут войны. Да отныне объединимся чистосердечно и будем блюсти Русскую землю, и пусть каждый владеет отчиной своей: Святополк – Киевом, Изяславовой отчиной, Владимир – Всеволодовой, Давыд и Олег и Ярослав – Святославовой, и те, кому Всеволод роздал города: Давыду – Владимир, Ростиславичам же: Володарю – Перемышль, Васильку – Теробовль». И на том целовали крест: «Если отныне кто на кого пойдет, против того будем мы все и крест честной». Сказали все: «Да будет против того крест честной и вся земля Русская». И попрощавшись, пошли восвосяи.

24. Укажите год, когда происходили события, описанные в тексте источника.

Ответ: 1016 г.

Максимум за задание – 2 балла.

25. Укажите имя и отчество князя, правившего на момент описанных в источнике событий в Киеве.

В ответе запишите два слова через пробел без дополнительных знаков и символов.

Внимание! Ответы с орфографическими ошибками не засчитываются.

Ответ: _____.

Максимум за задание – 2 балла.

26. Укажите прозвище упомянутого в источнике князя Владимира.

В ответ запишите одно слово без дополнительных знаков и символов.

Внимание! Ответы с орфографическими ошибками не засчитываются.

Ответ: Моремех.

Максимум за задание – 2 балла.

27. Укажите прозвище упомянутого в источнике князя Олега.

Внимание! Ответы с орфографическими ошибками не засчитываются.

Ответ: _____.

Максимум за задание – 2 балла.

28. Какие последствия имел принятый на съезде принцип «каждый владеет отчиной своей»? Выберите верные утверждения.

- А) Принцип закрепил и лишь усилил политическую раздробленность, которая в это время уже начала складываться на Руси.
- Б) Принцип остановил раздробление государства и укрепил его внутреннее единство.
- В) Установление этого принципа сделало Киев самым политически значимым городом Руси.
- Г) Принцип привёл к усилению городов, которые находились в составе княжеских вотчин вдали от Киева.

Ответ: БГ.

За каждое верно выбранное/невыбранное утверждение – 1 балл.

Максимум за задание – 4 балла.

29. Выберите из предложенного списка утверждения, которые характеризуют предпосылки и последствия съезда князей, описанного в источнике.

- А) Одним из последствий съезда стало объединение князей для противостояния половецкой угрозе.
- Б) Важнейшей причиной съезда князей стоит считать усиление власти упомянутого в источнике князя Владимира.
- В) В источнике слово «отчина» употребляется в значении «место, откуда происходят все князья династии».
- Г) В источнике слово «отчина» употребляется в значении «родовое владение князя».

В ответе запишите два слова через пробел без дополнительных знаков и символов.

Внимание! Ответы с орфографическими ошибками не засчитываются.

Ответ: _____.

Максимум за задание – 2 балла.

26. Укажите прозвище упомянутого в источнике князя Владимира.

В ответ запишите одно слово без дополнительных знаков и символов.

Внимание! Ответы с орфографическими ошибками не засчитываются.

Ответ: Меченый.

Максимум за задание – 2 балла.

27. Укажите прозвище упомянутого в источнике князя Олега.

Внимание! Ответы с орфографическими ошибками не засчитываются.

Ответ: _____.

Максимум за задание – 2 балла.

28. Какие последствия имел принятый на съезде принцип «каждый владеет отчиной своей»? Выберите верные утверждения.

- А) Принцип закрепил и лишь усилил политическую раздробленность, которая в это время уже начала складываться на Руси.
- Б) Принцип остановил раздробление государства и укрепил его внутреннее единство.
- В) Установление этого принципа сделало Киев самым политически значимым городом Руси.
- Г) Принцип привёл к усилению городов, которые находились в составе княжеских вотчин вдали от Киева.

Ответ: АБ.

За каждое верно выбранное/невыбранное утверждение – 1 балл.

Максимум за задание – 4 балла.

29. Выберите из предложенного списка утверждения, которые характеризуют предпосылки и последствия съезда князей, описанного в источнике.

- А) Одним из последствий съезда стало объединение князей для противостояния половецкой угрозе.
- Б) Важнейшей причиной съезда князей стоит считать усиление власти упомянутого в источнике князя Владимира.
- В) В источнике слово «отчина» употребляется в значении «место, откуда происходят все князья династии».
- Г) В источнике слово «отчина» употребляется в значении «родовое владение князя».

- Д) Непосредственной причиной съезда стал натиск печенежских орд на границы Руси.
- Е) Среди последствий съезда – формирование целого ряда родов представителей династии Рюриковичей, соперничающих за власть.
- Ж) Описанный в источнике съезд князей является единственным и уникальным; более съездов князей не проводилось.

Ответ: А Г Е.

За каждое верно выбранное/невыбранное утверждение – 1 балл.
Максимум за задание – 7 баллов.

Максимум за работу – 81 балл.

000000

ВСЕРОССИЙСКАЯ ОЛИМПИАДА ШКОЛЬНИКОВ
ИСТОРИЯ. 2022–2023 уч. г. ШКОЛЬНЫЙ ЭТАП
7 КЛАСС

1. В каком году произошли описанные в приведённом тексте события?

«Трубы трубятъ въ Новѣградѣ, стоятъ стязи въ Путивлѣ, Игорь ждётъ мила брата Всеволода. И рече ему Буй Турь Всеволодъ: «Одинъ братъ, одинъ свѣтъ свѣтлый – ты, Игорю! Оба есвѣ Святъславличя! Съдлай, брате, свои бръзьи комони, а мои ти готови, осѣдлани у Курьска напереди».

- 1) 1185
- 2) 1174
- 3) 1237
- 4) 1380
- 5) 1480
- 6) 1500

Ответ: 2 – 1174.

Максимум за задание – 2 балла.

2. Укажите факт из биографии автора текста, приведённого ниже:

«Доколе же ты, Катилина, будешь злоупотреблять нашим терпением? Как долго ещё ты, в своём бешенстве, будешь издеваться над нами? До каких пределов ты будешь кичиться своей дерзостью, не знающей узды? Неужели тебя не встревожили ни ночные караулы на Палатине, ни стража, обходящая город, ни страх, охвативший народ, ни присутствие всех честных людей, ни выбор этого столь надёжно защищённого места для заседания сената, ни лица и взоры всех присутствующих? Неужели ты не понимаешь, что твои намерения открыты? Не видишь, что твой заговор уже известен всем присутствующим и раскрыт? Кто из нас, по твоему мнению, не знает, что делал ты последней, что предыдущей ночью, где ты был, кого сзывал, какое решение принял? О, времена! О, нравы! Сенат все это понимает, консул видит, а этот человек всё ещё жив!»

- 1) Участвовал в возведении Афинских «длинных стен».
- 2) Реформировал управление легионами Рима.
- 3) Является автором «Энеиды».
- 4) Командовал войсками Рима в битве на Каталаунских полях.
- 5) Построил крупнейший амфитеатр Рима, ныне более известный как Колизей.
- 6) Был убит в ходе проскрипций, проводимых вторым триумвиратом.

Ответ: 6.

Максимум за задание – 2 балла.

3. Выберите название архитектурного сооружения, точно существовавшего на территории Владимиро-Суздальского княжества по состоянию на конец XIII века.

- 1) Десятинная церковь
- 2) Собор Святой Софии
- 3) Церковь Параскевы Пятницы на Торгу
- 4) Успенский собор
- 5) Церковь Покрова что на Рву (Собор Василия Блаженного)
- 6) Троице-Сергиев монастырь

Ответ: 3, 4, 5, 6

Максимум за задание – 2 балла.

4. Укажите верные утверждения.

- 1) Октавиан Август – император, переименовавший месяц секстилий в свою честь.
- 2) Прокопий Кесарийский – автор эпической поэмы «Энеида».
- 3) Траян – император, при котором территория Рима достигла максимальных размеров.
- 4) Тулл Гостилий – основатель города Рима.
- 5) Перикл – афинский полководец в битве при Марафоне.
- 6) Каракалла – император, даровавший всем жителям Римского государства гражданство.

Ответ: 1, 2, 3, 6

Максимум за задание – 3 балла.

5. Кто из этих исторических деятелей был правителем какого-либо государства в XIII веке?

- 1) Александр Невский
- 2) Алексей Комнин I
- 3) Михаил VIII Палеолог
- 4) Дмитрий Боброк-Волынский
- 5) Иоанн Безземельный
- 6) Карл V Габсбург

Ответ: 1, 2, 3, 4, 5

Максимум за задание – 3 балла.

6. Выберите факты, связанные с религиозной жизнью Европы в XVI–XVII вв.

- 1) разрыв между Восточной и Западной христианскими церквями
- 2) вестфальский мир
- 3) появление «Индекса запрещённых книг»
- 4) авиньонское пленение пап
- 5) создание ордена иезуитов
- 6) крестоносное движение

Ответ: _____.

Максимум за задание – 3 балла.

7. Что с исторической точки зрения объединяет перечисленные исторические личности?

Франческо Петрарка, Джованни Боккаччо, Лоренцо Валла, Пико делла Мирандола

- 1) писатели и мыслители, получившие известность как представители «Северного гуманизма»
- 2) мореплаватели эпохи Великих географических открытий
- 3) наиболее известные венецианские дожи XIII – XV веков
- 4) итальянские гуманисты XIV – XV веков
- 5) великие герцоги Тосканские

Ответ: 4.

Максимум за задание – 2 балла.

8. Что с исторической точки зрения объединяет перечисленные в ряду элементы?
1346, 1356, 1415, 1428–1429

- 1) годы наиболее важных сражений и событий Столетней войны.
- 2) годы смертей правителей Московского княжества.
- 3) годы эпидемий чумы в Европе.
- 4) годы карательных походов Золотой Орды в Европу.
- 5) годы сражений в ходе Гуситских войн

Ответ: 1.

Максимум за задание – 2 балла.

9–10.

9. Что с исторической точки зрения объединяет три из четырех перечисленных в ряду элементов?

А) 1096–1099; Б) 1111; В) 1147–1149; Г) 1189–1192.

- 1) годы противостояний Руси и половцев
- 2) годы завоевательных походов Чингисхана и его наследников
- 3) годы крестовых походов на Восток
- 4) годы правления германских королей

Ответ: 3.

Максимум за задание – 2 балла.

10. Выберите из приведённого списка элемент, лишний по основанию, выбранному в предыдущем вопросе.

Ответ: Б.

Максимум за задание – 2 балла.

11-12.

11. Что с исторической точки зрения объединяет три из четырёх перечисленных в ряду элементов?

А) Галич; Б) Углич; В) Белоозеро; Г) Нижний Новгород.

- 1) города, получившие известность в качестве центров ремесла Древней Руси
- 2) города, в которых правили призванные варяги
- 3) города, присоединённые к Московскому княжеству при Иване Калите
- 4) города, больше прочих пострадавшие от разорения в ходе походов Батыя

Ответ: _____.

Максимум за задание – 2 балла.

12. Выберите из приведённого списка город, лишний по выбранному в предыдущем вопросе основанию.

Ответ: _____.

Максимум за задание – 2 балла.

13. Расположите в хронологической последовательности перечисленные события.

- А) строительство Успенского собора во Владимире
- Б) строительство собора Святой Софии в Константинополе
- В) строительство собора Святой Софии в Новгороде
- Г) строительство собора Санта-Мария-дель-Фьоре во Флоренции
- Д) строительство Успенского собора в Москве
- Е) строительство собора Святой Софии в Киеве

Ответ:

1	2	3	4	5	6
Б	Е	В	А	Г	Д

За каждую верную пару – 1 балл.

Максимум за задание – 6 баллов.

14. Определите пропущенные в тексте названия, слова, имена, даты, обозначенные порядковыми номерами. При необходимости при порядковых номерах даются пояснения о характере требуемой вставки. Варианты вставок даны в единственном числе, именительном падеже. Обратите внимание: среди предлагаемых вставок есть «лишние» элементы.

В (1) году началось вторжение монгольских сил на территорию Руси. Войска хана (2) покорили (3 – княжество), а затем вторглись на территорию Суздальской земли. Несмотря на то, что здесь (2) встретил самое упорное сопротивление за всё время военных походов на Руси, многие города были разорены, а владимирский князь (4) погиб в битве на реке (5) весной (6) года. Татары повернули в сторону города (7), однако до самого города они не дошли и, разорив Торжок, вернулись в степи. В (8) году монгольские войска

двинулись на территории Южной Руси. В кратчайшие сроки был взят (9). разорены Галицкая и Волынская земли. После этого татарские войска огнём и мечом прошли по ряду европейских стран и, как полагают исследователи, лишь известие о смерти хана (10 – имя хана Монгольской империи) заставило (2) прекратить поход и повернуть назад.

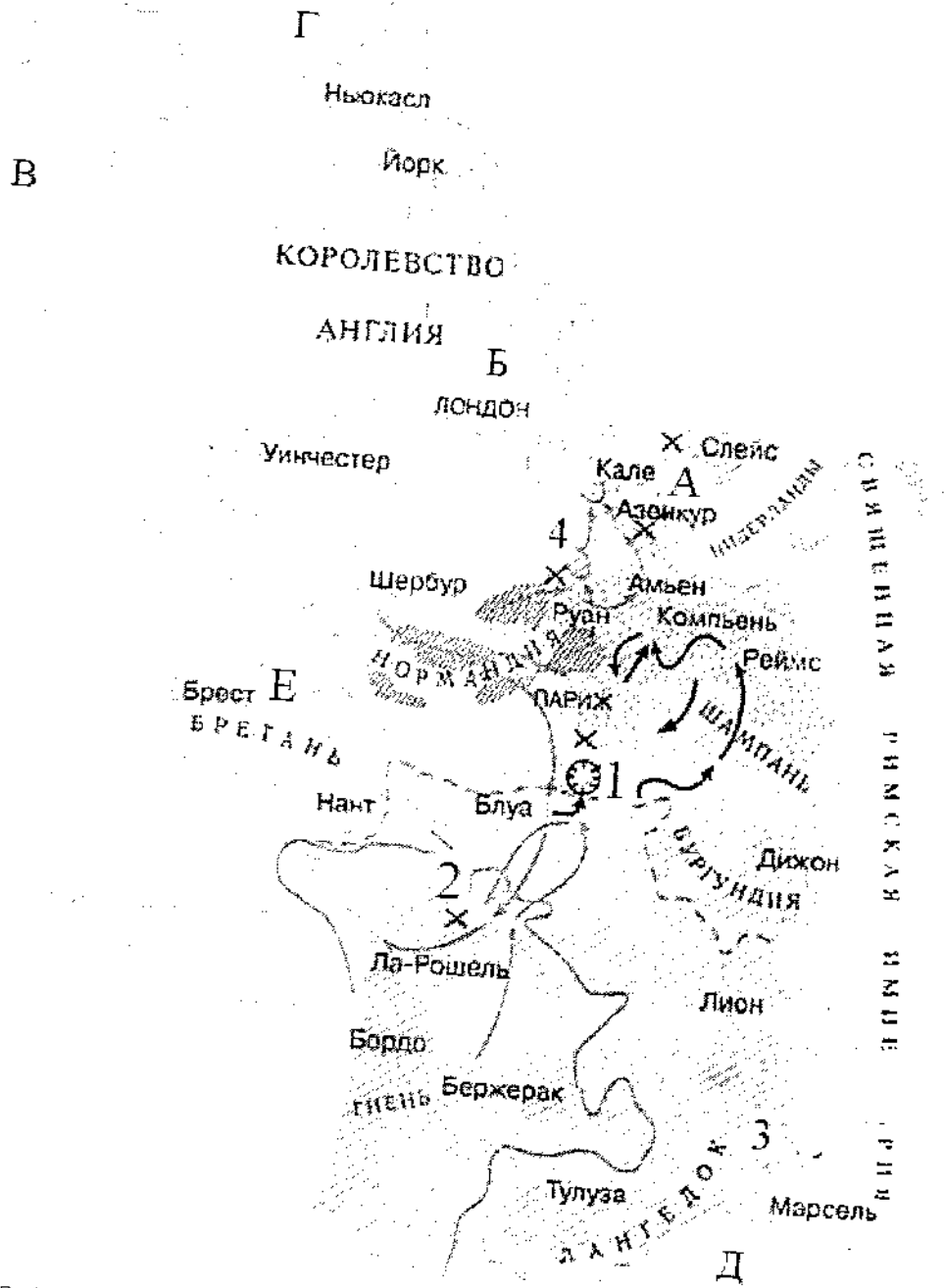
Варианты для пропусков 1, 6, 8	Варианты для пропусков 2, 4, 10	Варианты для пропуска 3	Варианты для пропуска 5	Варианты для пропусков 7, 9
1236	Батый	Рязанское	Сить	Новгород
1237	Тохта	Московское	Дон	Киев
1238	Ярослав Всеволодович	Новгородское	Колоча	Владимир
1239	Юрий Всеволодович	Нижегородское	Пьяна	Суздаль
1240	Угедей	Галицко-Волынское	Вожа	Козельск
	Чингисхан			Юрьев-Польский

Ответ:

Пропуск	Нужная вставка
1.	1241
2.	Батый
3.	Нижегородское
4.	Новгородское
5.	Вожа
6.	1238
7.	Суздаль
8.	Киев
9.	Владимир
10.	Имя хана Монгольской империи

За каждую верную вставку – 1 балл.
Максимум за задание – 10 баллов.

15-21. Внимательно рассмотрите карту и выполните задания.



15. Выберите из списка корректную датировку событий, обозначенных на карте.

- А) 1337–1453 гг.
- Б) 1455–1585 гг.
- В) 732–1492 гг.
- Г) 1433–1453 гг.
- Д) 1565–1572 гг.

Ответ: 1337–1453 гг.

Максимум за задание – 1 балл.

16. Выберите из списка корректное название событий, обозначенных на карте.

- А) Альбигойские войны

- Б) Реконкиста
- В) Столетняя война
- Г) Война Алой и Белой розы
- Д) движение таборитов

Ответ: Война Алой и Белой розы.

Максимум за задание – 1 балл.

17. Выберите из списка буквенное обозначение территорий, на которые претендовали обе воюющие стороны в силу экономической значимости этих территорий.

- 1) А
- 2) Б
- 3) В
- 4) Г
- 5) Д
- 6) Е

Ответ: 4.

Максимум за задание – 1 балл.

18. Напишите цифру, обозначающую город, в снятии осады которого приняла участие историческая личность, известная как «Орлеанская дева».

Ответ: 4.

Максимум за задание – 1 балл.

19. Напишите цифру, обозначающую посёлок, близ которого развернулось первое значительное сражение изображённой войны, обернувшееся тяжёлыми потерями для одной из противоборствующих сторон.

Ответ: 5.

Максимум за задание – 1 балл.

20. Укажите имя и порядковый номер правителя, который был пленён в результате поражения, понесённого его армией в битве у города, обозначенного на карте цифрой «2».

Ответ следует записать в формате: имя правителя в **именительном** падеже с **заглавной** буквы и порядковый номер правителя **арабской** цифрой **без** знаков препинания.

Внимание! Ответы с орфографическими ошибками не засчитываются.

Ответ: _____.

Максимум за задание – 1 балл.

21. Выберите верные утверждения.

- А) Цифрой «3» на карте обозначен город, в котором некоторое время находилась резиденция Папы Римского.
- Б) Буквой «Д» на карте обозначено Адриатическое море

- В) По состоянию на время, отражённое на карте, территории, обозначенные буквами «В» и «Г», входили в состав Англии.
- Г) Территория, обозначенная буквой «А», являлась одним из крупнейших в Европе центром производства тканей вообще и сукна в частности.
- Д) В ходе битв близ населённых пунктов, обозначенных на карте цифрами «2» и «4», было выявлено значительное превосходство лучников одной воюющей стороны над арбалетчиками другой.

Ответ: А В Г

**За каждое верно выбранное/невыбранное утверждение – 1 балл.
Максимум за задание – 5 баллов.**

22-23.

22. Прочитайте отрывки, повествующие о двух правителях Древнего Рима. Для каждого отрывка выберите императора, о котором идёт речь.

<p>А. Тяжёлые и позорные поражения испытал он только дважды, и оба раза в Германии: это были поражения Лоллия и Вара. Первое принесло больше позора, чем урона, но второе было почти гибельным: оказались уничтожены три легиона с полководцем, легатами и всеми вспомогательными войсками. И говорят, он до того был сокрушён, что несколько месяцев подряд не стриг волос и бороды и не раз бился головой о косяк, восклицая: «Квинтилий Вар, верни легионы!»</p>	<p>Б. Словно ему претили безобразные старые дома и узкие кривые переулки, он поджёг Рим настолько открыто, что многие консуляры ловили у себя во дворах его слуг с факелами и паклей, но не осмеливались их трогать; а житницы, стоявшие поблизости от Золотого дворца и, по мнению (...), отнимавшие у него слишком много места, были как будто сначала разрушены военными машинами, а потом подожжены, потому что стены их были из камня. Шесть дней и семь ночей свирепствовало бедствие, а народ искал убежища в каменных памятниках и склепах...</p>
--	--

Список правителей Рима: Октавиан Август, Тиберий, Калигула, Нерон, Гальба, Каракалла, Гелиогабал, Диоклетиан.

Ответ:

Правитель Рима	Буквенное обозначение фрагмента
	А
	Б

**За каждый правильный ответ – 2 балла.
Максимум за задание – 4 балла.**

23. Установите соответствие между отрывками, повествующими о правителях (из задания 22), и их изображениями.

1



2



Ответ:

Правитель Рима	Буквенное обозначение фрагмента	Связанные изображения
	А	
	Б	

2 балла за каждую верную пару. Максимум за задание – 4 балла.

24-28. Прочитайте фрагмент исторического источника и выполните задания.

В год... Пришли Святополк, и Владимир, и Давыд Игоревич, и Василько Ростиславич, и Давыд Святославич, и брат его Олег и собрались на совет в Любече для установления мира, и говорили друг другу: «Зачем губим Русскую землю, сами между собой устраивая распри? А половцы землю нашу несут розно и рады, что между нами до сих пор идут войны. Да отныне объединимся чистосердечно и будем блюсти Русскую землю, и пусть каждый владеет отчиной своей: Святополк – Киевом, Изяславовой отчиной, Владимир – Всеволодовой, Давыд и Олег и Ярослав – Святославовой, и те, кому Всеволод роздал города: Давыду – Владимир, Ростиславичам же: Володарю – Перемышль, Васильку – Теробовль». И на том целовали крест: «Если отныне кто на кого пойдет, против того будем мы все и крест честной». Сказали все: «Да будет против того крест честной и вся земля Русская». И попрощавшись, пошли восвояси.

24. Укажите год, когда происходили события, описанные в тексте источника.

Ответ: 1007.

Максимум за задание – 2 балла.

25. Укажите имя и отчество князя, правившего на момент описанных в источнике событий в Киеве.

В ответе запишите два слова через пробел без дополнительных знаков и символов.

Внимание! Ответы с орфографическими ошибками не засчитываются.

Ответ: _____.

Максимум за задание – 2 балла.

26. Укажите прозвище упомянутого в источнике князя Владимира.

В ответ запишите одно слово без дополнительных знаков и символов.

Внимание! Ответы с орфографическими ошибками не засчитываются.

Ответ: Кривое плечо.

Максимум за задание – 2 балла.

27. Укажите прозвище упомянутого в источнике князя Олега.

Внимание! Ответы с орфографическими ошибками не засчитываются.

Ответ: Кудимир.

Максимум за задание – 2 балла.

28. Какие последствия имел принятый на съезде принцип «каждый владеет отчиной своей»? Выберите верные утверждения.

- А) Принцип закрепил и лишь усилил политическую раздробленность, которая в это время уже начала складываться на Руси.
- Б) Принцип остановил раздробление государства и укрепил его внутреннее единство.
- В) Установление этого принципа сделало Киев самым политически значимым городом Руси.
- Г) Принцип привёл к усилению городов, которые находились в составе княжеских вотчин вдали от Киева.

Ответ: Б.

За каждое верно выбранное/невыбранное утверждение – 1 балл.

Максимум за задание – 4 балла.

29. Выберите из предложенного списка утверждения, которые характеризуют предпосылки и последствия съезда князей, описанного в источнике.

- А) Одним из последствий съезда стало объединение князей для противостояния половецкой угрозе.
- Б) Важнейшей причиной съезда князей стоит считать усиление власти упомянутого в источнике князя Владимира.
- В) В источнике слово «отчина» употребляется в значении «место, откуда происходят все князья династии».
- Г) В источнике слово «отчина» употребляется в значении «родовое владение князя».

Д) Непосредственной причиной съезда стал натиск печенежских орд на границы Руси.

Е) Среди последствий съезда – формирование целого ряда родов представителей династии Рюриковичей, соперничающих за власть.

Ж) Описанный в источнике съезд князей является единственным и уникальным; более съездов князей не проводилось.

Ответ: А, Б, В, Г, Д, Е, Ж.

За каждое верно выбранное/невыбранное утверждение – 1 балл.

Максимум за задание – 7 баллов.

Максимум за работу – 81 балл.

ВСЕРОССИЙСКАЯ ОЛИМПИАДА ШКОЛЬНИКОВ ИСТОРИЯ.
2022–2023 уч. г.
ШКОЛЬНЫЙ ЭТАП. 8 КЛАСС

1. Укажите участника особого административно-территориального образования в составе русского государства, пропущенного в приведённом ряду.

Алексей Басманов, Афанасий Вяземский, Малюта Скуратов, ... Богдан Бельский
Алексей Алашев
Андрей Курбский
Иван Фёдоров

Ответ: _____

Максимум за задание – 1 балл.

2. Укажите год заключения мирного договора России с одним из иностранных государств, пропущенный в приведённом ряду.

1618 г., 1634 г., 1667 г., ...

1672 г.

1681 г.

1686 г.

1689 г.

Ответ: _____

Максимум за задание – 1 балл.

3. Какие из перечисленных дат отражают годы смены российских монархов на престоле в XVII веке?

1) 1633 г.

2) 1645 г.

3) 1652 г.

4) 1676 г.

5) 1682 г.

6) 1690 г.

Ответ: _____

За полностью правильный ответ – 2 балла.

За ответ с одной ошибкой – 1 балл.

Максимум за задание – 2 балла.

4. Какие из перечисленных явлений возникли в Российском государстве в XV веке?

1) кормления

2) местничество

3) подворное налогообложение

4) уплата пожилого

5) полки иноземного строя

6) старообрядчество.

Ответ: _____

За полностью правильный ответ – 2 балла.

За ответ с одной ошибкой – 1 балл.

Максимум за задание – 2 балла.

5. Какие из приведённых событий произошли в 1492 году?

- 1) битва на реке Шелони
- 2) женитьба Ивана III на Софье Палеолог
- 3) захват Константинополя турками-османами
- 4) открытие Америки Христофором Колумбом
- 5) переход с мартовского года на сентябрьский в Московском государстве
- 6) прекращение существования Гранадского эмирата на территории Пиренейского полуострова.

Ответ: _____

За полностью правильный ответ – 2 балла.

За ответ с одной ошибкой – 1 балл.

Максимум за задание – 2 балла.

6. Расположите приведённые названия городов в хронологической последовательности их присоединения к Московскому княжеству/ государству.

- 1) Коломна
- 2) Нижний Новгород
- 3) Искон
- 4) Рязань
- 5) Тверь
- 6) Ярославль

Ответ:

1	2	3	4	5	6
6	3	1	5	4	2

За каждую верную пару – 1 балл.

Максимум за задание – 6 баллов.

7. Установите соответствие между годами и событиями всеобщей истории, произошедшими в эти годы.

Год	Событие
А) 1204 г.	1) битва при Босворте, окончание Войны Алой и Белой розы в Англии
Б) 1302 г.	2) взятие Константинополя крестоносцами
В) 1485 г.	3) окончание Столетней войны
Г) 1517 г.	4) опубликование «95 тезисов» Мартина Лютера
Д) 1683 г.	5) осада Вены войсками Османской империи
	6) создание Генеральных штатов во Франции

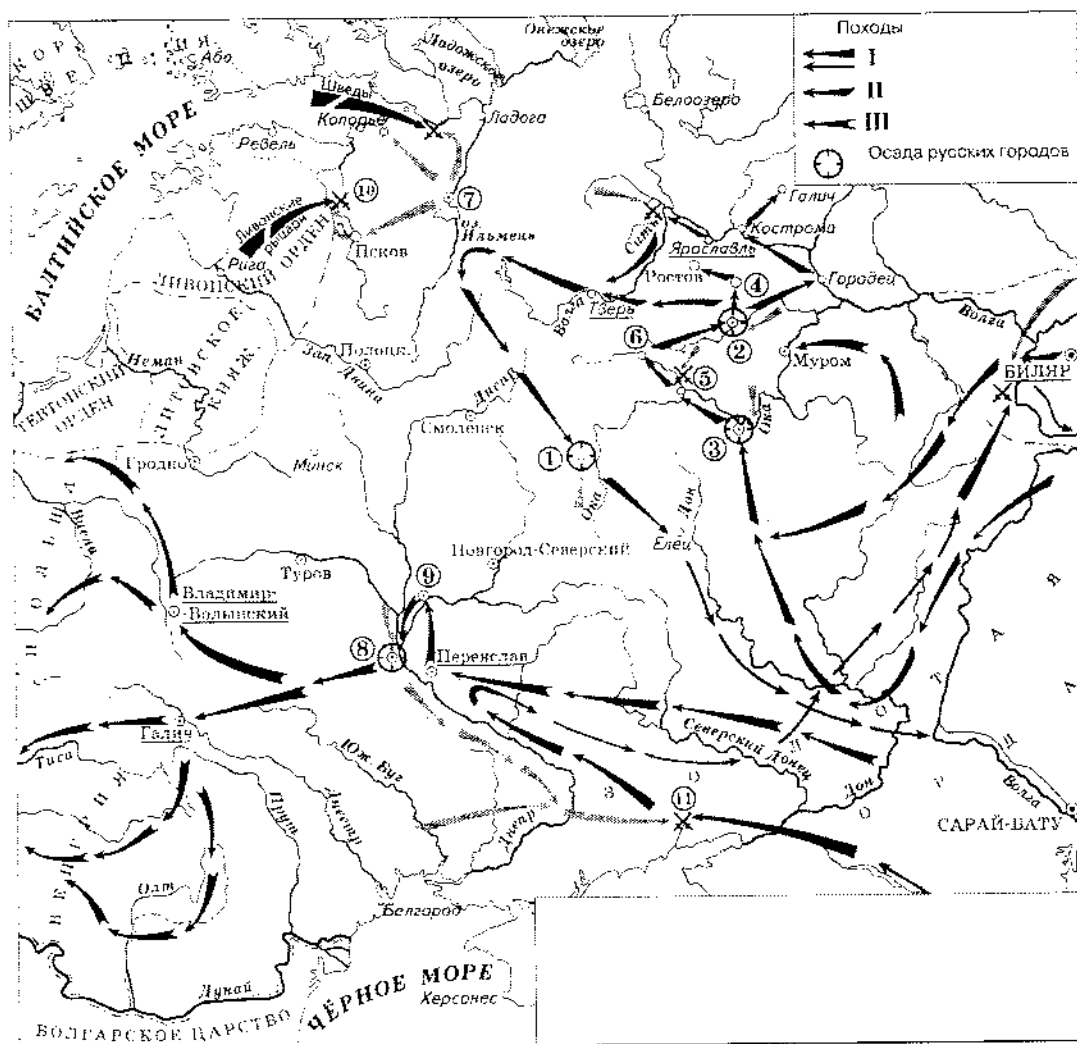
Ответ:

А	Б	В	Г	Д
5	6	2	3	1

За каждую верную пару – 1 балл.

Максимум за задание – 5 баллов.

8. Установите соответствие между названиями произведений средневековой русской литературы и именами их авторов.



Произведения	Авторы
А) «Благохотящим царём правительницаи зсмлемерие»	1) Авраамий Палицын
Б) «Житие преподобного Сергия» В)	2) Епифаний Премудрый
«Сказание о Магмет-салтане»	3) Ермолай-Еразм
Г) «Сказание о осаде Троицкого Сергиева монастыря от поляков и литвы и о бывшихпотом в России мятежах»	4) Иван Пересвостов
Д) «Слово о законе и благодати»	5) митрополит Иларион
	6) протопоп Аввакум

Ответ:

А	Б	В	Г	Д
3	2	4	5	6

За каждую верную пару – 1 балл.
Максимум за задание – 5 баллов.

9–14. Внимательно рассмотрите схему и выполните задания.

9. Назовите город, обозначенный на схеме цифрой 2. Название следует записать в

именительном падеже с заглавной буквы без каких-либо знаков препинания.

Внимание! Ответы с орфографическими ошибками не засчитываются.

Ответ: Имя князя

Максимум за задание – 1 балл.

10. Укажите год, когда произошло сражение, обозначенное на схеме цифрой 10.

Ответ: _____

Максимум за задание – 1 балл.

11. Укажите имя военачальника и правителя, осуществлявшего общее руководство походами на русские земли, обозначенными в легенде схемы цифрами II и III. Имя следует указать в **именительном** падеже с **заглавной** буквы без каких-либо знаков препинания.

Внимание! Ответы с орфографическими ошибками не засчитываются.

Ответ: Рюрик

Максимум за задание – 1 балл.

12. Найдите на схеме и выпишите название реки, в ходе сражения на которой погиб великий князь Юрий Всеволодович. Название следует указать в **именительном** падеже с **заглавной** буквы без каких-либо знаков препинания.

Внимание! Ответы с орфографическими ошибками не засчитываются.

Ответ: Волга

Максимум за задание – 1 балл.

13. Укажите год, когда состоялся поход, обозначенный в легенде схемы цифрой 1.

Ответ: _____

Максимум за задание – 1 балл.

14. Выберите верные утверждения.

- 1) В результате похода, обозначенного в легенде схемы цифрой 1, был разгромлен Хазарский каганат.
- 2) Город, обозначенный на схеме цифрой 1, сопротивлялся противнику в течение семи недель.
- 3) Город, обозначенный на схеме цифрой 8, был взят противником в 1240 году.
- 4) Город, обозначенный на схеме цифрой 7, был взят и разграблен в ходе похода, обозначенного в легенде схемы цифрой II.
- 5) Город, обозначенный на схеме цифрой 5, после взятия и разорения противником восстановился и продолжил оставаться столицей удельного княжества.
- 6) В сражении, обозначенном на схеме цифрой 11, погиб галицкий князь Мстислав Мстиславич Удатный.

Ответ: _____

За каждое верно выбранное/невыбранное утверждение – 1 балл. Максимум

за задание – 6 баллов.

15. Определите пропущенные в таблице события, даты и исторические документы, обозначенные заглавными буквами. Обратите внимание: среди предлагаемых вариантов

«лишние» элементы.

Фрагмент законодательного акта	Название законодательного акта	Год	События всеобщей истории, происшедшее в тот же год
(А)	Указ о единонаследии	(Б)	Окончание войны за польское наследство
«Будет кто каким умышлением учнет мыслиги на Государское здоровье злое дело, и про то его злое умышление кто известить, и по тому извету про то его злоеумышление сыщется до пряма, что он на Царское Величество злое дело мыслил, и делать хотели такова по сыску казнити смертию»	(В)	1649 г.	(Г)
«... Бояре, Окольничие и Думные люди, тако ж Стольники, и Стряпчие, Дворяне и дети Боярские [...] познавше, что те дела местничества отеческого ничто ино, токмо гордость и любви и отсечение и Нашим Государским всяким делам повреждение приносят, вси радостными сердцы Нам Великому Государю донесли, чтобы Мы, Великий Государь, Царь и Великий Князь Феодор Алексеевич указали, то виновное всякия злобы дело и братоненавидение, разоряющее любовь, то есть местничество отечественное оставить и вечно и искоренить...».	Соборное деяние об уничтожении местничества	(Д)	(Е)

Выберите варианты:

Варианты для пропусков А, Ж	Варианты для пропусков В, З	Варианты для пропусков Б, Д	Варианты для пропусков Г, Е
<p>«А Христианом отказыватися из волости, ис села в село, один срок в году, за неделю до Юрьева дни осеннего и неделю после Юрьева дни осеннего. Дворы пожилые платят в полех за двор рубль, а в лесех полтина. А которой христианин поживет за ким год, да пойдет прочь, и он платит четверть двора, а два года поживет да пойдет прочь, и он полдвора платит; а три годы поживет, а пойдет прочь, и он платит три четверти двора; а четыре года поживет, и он весь двор платит»</p>	<p>Соборное уложение</p>	<p>1667 г.</p>	<p>основание французскими исследователями колонии в устье реки Миссисипи</p>
<p>«Которые крестьяне от сего числа пред сим за 15 лет в книгах 101-го году положены, и тем быть за теми, за кем писаны; а буде те крестьяне вышли за кого иного, и в том есть на крестьян тех или на тех, кто их держит, челобитье, и те дела не вершены, или кто сентебря по 1-е число сего года будет бить челом, и тех крестьян отдавати по тем книгам, с женами и детьми и со всеми их животы, тем, за кем они писаны, до сроку рождества христова 116 году без пожитого ...»</p>	<p>Судебник</p>	<p>1682 г.</p>	<p>заключение Вестфальского мира, завершение Тридцатилетней войны</p>

<p>«Кто имеет сыновей и ему же, аще хошет, единому из оных дать недвижимое, чрез духовную, тому в наследие и будет. Другие же дети обоюго полу да награждены будут движимыми имениями, которые должен отец их или мать разделить им при себе, как сыновьям, так и дочерям, колико их будет, по своей воли, кроме одного, который в недвижимых наследником будет»</p>	<p>Уложение о крестьянах</p>	<p>1714 г.</p>	<p>Иван Федорович, король Вартла Стефан</p>
<p>Оубьеть мужь мужа, то мьстить брату брата, или сынови отца, либо отцо сына, или брату чадю, либо сестриноу сынови; аще не боудеть кто мьстя, то 40 гривень за голову; аще боудеть роусинь, либо гридинь, либо коушчина, либо ябетникь, либо мечникь, аще изьгой боудеть, либо словенинь, то 40 гривень положити за нь.</p>	<p>Духовный регламент</p>	<p>1581 г.</p>	<p>Крестьянская война в Германии</p>
<p>А князь и посадник на вечисуду не судить; судити им у князя на сенех, взираа в правду, по крестному целованию. А не вьсудят в правду, ино Бог буди им судиа на втором пришествии Христове. А тайных посулов не имать ни князю, ни посадику.</p>	<p>Указ о заповедных летах</p>	<p>1550 г.</p>	<p>Публикация «95 тезисов» доктора богословия Мартина Лютера</p>

<p>Должна же есть Коллегия сия, и новыми впредь правилами дополнять Регламент свой, яковых правил востребууют разные разных дел случаи. Однакож делать сие должна Коллегия Духовная на базе Нашего соизволения. Определяем же в ссей Духовной Коллегии быть именованным зде Членам: единому Президенту, двоим Вице-Президентам, четырем Советникам, четырем Ассессорам.</p>	<p>Указ урочных годах</p>	<p>об 1721 г.</p>	<p>Нантский эдикт</p>
		<p>1722 г.</p>	

Ответ:

Пропуск	Нужная вставка
А)	
Б)	1722 г.
В)	Сенатский эдикт
Г)	1721 г.
Д)	1722 г.
Е)	
Ж)	
3)	1722 г.

За каждое верное соотнесение – 2 балла.

Максимум за задание – 16 баллов.

16. Определите пропущенные в тексте названия, имена, годы, обозначенные буквами. При буквенных обозначениях пропусков даются пояснения о характере требуемой

вставки. Порядковые номера необходимых вставок впроектированную таблицу буквами в приведённую таблицу. Варианты вставок даны в именительном падеже. Обратите внимание на то, что среди вставок есть и лишние.

В (А – год) недалеко от Твери произошло сражение. Москвичи и князь (Б) убит. Московскому князю (Б – имя и отчество) удалось бежать, но его жена (В – имя и отчество) оказалась в плену. В Твери она неожиданно умерла. Старики подозревали, что ее отравили.

(Б) и Кавгадый поехали к брату покойной ордынского хана (Г – имя и отчество) тверского князя (Д – имя и отчество) в убийстве. Хан вызвал князя к себе и устроил над ним суд. Его признали виновным в том, что он противился воле хана и бился с его войском, а также в смерти княгини. Почти месяц он терпел унижения, а потом к нему подослали убийц. Князя повалили на землю и вонзили ему в грудь нож.

(Б) стал великим князем и сидел в (Е – название города) до 1322 года а затем (Г) хан передал ярлык (Ж – имя и прозвище), сыну (Д). В (З – год) (Ж), встретив в Орде (Б), убил его, мстя за отца, и тут же был казнён по приказу хана (Г). Но великое княжение осталось за тверскими князьями.

В Москве же на престол взойшёл брат (Б) (И – имя и прозвище) – человек коварный, хитрый, склонный к накопительству. Он жаждал получить ярлык, но умел ждать своего часа. Подарками хану и его окружению (И) заслужил расположение в Орде.

Варианты для пропусков А, З	Варианты для пропусков Б, В, Г, Д, Ж	Варианты для пропуска Е
1317 г.	Александр Михайлович	Владимир
1322 г.	Дмитрий Грозные Очи	Киев
1325 г.	Иван Калита	Рязань
1326 г.	Кончака	Великий Новгород
1327 г.	Михаил Ярославич	Нижний Новгород
1328 г.	Ногай	Псков
	Тайдула	
	Узбек	
	Юрий Данилович	

Ответ:

Пропуск	Нужная вставка
А)	1317 г.
Б)	Иван Калита
В)	Великий Новгород
Г)	Михаил Ярославич
Д)	Дмитрий Грозные Очи
Е)	Владимир
Ж)	Узбек
З)	1322 г.
И)	Юрий Данилович

За каждое верное соотнесение – 1 балл.

Максимум за задание – 10 баллов.

17. Установите соответствие между фрагментами исторических источников и их краткими характеристиками: к каждому фрагменту, обозначенному буквой, подберите по три соответствующие характеристики, обозначенные цифрами. Обратите внимание на то, что среди приведённых характеристик есть «лишние».

Фрагменты источников:

- А) «Скончался благоверный и великий князь русский Владимир, сын благоверного отца Всеслода, украшенный добрыми нравами, прославленный победами. Перед его именем трепсали все страны, и по всеземлям прошепел слух о нем, поскольку он всей душой возлюбил Бога... Потому и не падал имущества своего, раздавая страждущим, и церкви воздвигая и украшая; особенно же почитал (монашеский) чин и священнический, давая им необходимос и принимая от них молитвы. Великую веру имел к Богу и родичам своим, к святым мученикам Борису и Глебу, потому и церковь прекрасную создал на Альте в имя их, где была пролита кровь святого Бориса. И жалостлив был чрезмерно, и дар этот от Бога принял, так что когда входил в церковь и слышал пение, тотчас испускал слезу и молибы к Владыке Христу со слезами обращал: поэтому и Бог все прощенья его удовлетворял, и лета его наполнил благополучием».
- Б) «Да в нынешнем во 7117-м году, декабря в 5 день приходили к Нижнему воровские люди: нижегородцы и арзамасцы, дети боярские и черемисаи всякие подымные люди, к Нижнему приступали и Божию милостию и Пречистые Богородицы и Московских чудотворцов помощью и государевым счастьем на выласке воевода Ондрей Семенович Олябьев з дворяны и з детми боярскими и з головы стрелецкими, с литвою и с немцы и с нижегородцы с посалцкими с охочими со всякими служилыми людьми воров в Нижнем всех побили и языков поймали болши трёх сот человек, а побивали их, воровских людей, на пятнадцати верстех и болши, а знамена и набаты поймали, а ушло тех воровских людей не много врознь потому, что стала ночная пора и государевы люди пришли в Нижней дал Бог здорovy».
- В) «Кольми же паче должны мы иметь попечение о целости всего нашего государства, которое с помощью божиею, ныне паче распространено, как всем видимо есть; чего для заблагорасудили мы сей устав учинить, дабы сие было всегда в воле правительствующего государя, кому оной хочет, тому и определит наследство, и определенному, видя какое непотребство, пакы отменит, дабы дети и потомки не впали в такую злость, как выше писано, имея сию узду на себе».

Характеристики:

- 1) Время создания источника, фрагмент которого приведён, относится к периоду правления Петра I.
- 2) Вид данного исторического источника – летопись.
- 3) Князь, о котором идёт речь в приведённом фрагменте источника, – Владимир Мономах.
- 4) Вид данного исторического источника – законодательный акт.
- 5) В источнике, фрагмент которого приведён, идёт речь об установлении четких системы и порядка престолонаследия.
- 6) Источник, фрагмент которого приведён, представляет собой отчёт должностных лиц о своих действиях.
- 7) Автор даёт князю, о котором идёт речь в приведённом фрагменте, резко отрицательную характеристику, упрекая его в участии в междоусобных войнах.

- 8) Автор даёт позитивную характеристику князю. В приведённом фрагменте автор, описывая приведённом фрагменте, отмечая прежде всего его заслуги перед страной.
- 9) События, о которых идёт речь в приведённом фрагменте истинны и произошли в период правления Василия Шуйского.
- 10) В источнике рассказывается о победе верных «официальному» монарху людей над людьми, находившимися на службе самозванца.
- 11) В источнике рассказывается о победе людей, находившихся на службе самозванца над верными «официальному» монарху людьми.
- 12) В источнике, фрагмент которого приведён, говорится о праве монарха самостоятельно назначать себе наследника.

Ответ:

А	Б	В

За каждое верное соотнесение – 2 балла.

Максимум за задание – 18 баллов.

Максимум за работу – 79 баллов.

ВСЕРОССИЙСКАЯ ОЛИМПИАДА ШКОЛЬНИКОВ ИСТОРИЯ.
2022-2023 уч. г.
ШКОЛЬНЫЙ ЭТАП. 8 КЛАСС

1. Укажите участника особого административно-территориального образования в составе русского государства, пропущенного в приведённом ряду.

Алексей Басманов. Афанасий Вяземский, Малюта Скуратов. ... Богдан Бельский
Алексей Адашев
Андрей Курбский
Иван Фёдоров

Ответ: Андрей Курбский

Максимум за задание – 1 балл.

2. Укажите год заключения мирного договора России с одним из иностранных государств, пропущенный в приведённом ряду.

1618 г., 1634 г., 1667 г., ...
1672 г.
1681 г.
1686 г.
1689 г.

Ответ: 1672

Максимум за задание – 1 балл.

3. Какие из перечисленных дат отражают годы смены российских монархов на престоле в XVII веке?

- 1) 1633 г.
- 2) 1645 г.
- 3) 1652 г.
- 4) 1676 г.
- 5) 1682 г.
- 6) 1690 г.

Ответ: 1652 г. 2, 4, 5

За полностью правильный ответ – 2 балла.

За ответ с одной ошибкой – 1 балл.

Максимум за задание – 2 балла.

4. Какие из перечисленных явлений возникли в Российском государстве в XV веке?

- 1) кормления
- 2) местничество
- 3) подворное налогообложение
- 4) уплата пожилого
- 5) полки иноземного строя
- 6) старообрядчество.

Ответ: 6

За полностью правильный ответ – 2 балла.

За ответ с одной ошибкой – 1 балл.

Максимум за задание – 2 балла.

5. Какие из приведённых событий произошли в 1492 году?

- 1) битва на реке Шелони
- 2) женитьба Ивана III на Софье Палеолог
- 3) захват Константинополя турками-османами
- 4) открытие Америки Христофором Колумбом
- 5) переход с мартовского года на сентябрьский в Московском государстве
- 6) прекращение существования Гранадского эмирата на территории Пиренейского полуострова.

Ответ: 4 5 6

За полностью правильный ответ – 2 балла.

За ответ с одной ошибкой – 1 балл.

Максимум за задание – 2 балла.

6. Расположите приведённые названия городов в хронологической последовательности их присоединения к Московскому княжеству / государству.

- 1) Коломна
- 2) Нижний Новгород
- 3) Псков
- 4) Рязань
- 5) Тверь
- 6) Ярославль

Ответ:

1	2	3	4	5	6
6	5	4	3	2	1

За каждую верную пару – 1 балл.

Максимум за задание – 6 баллов.

7. Установите соответствие между годами и событиями всеобщей истории, произошедшими в эти годы.

Год	Событие
А) 1204 г.	1) битва при Босворте, окончание Войны Алой и Белой розы в Англии
Б) 1302 г.	2) взятие Константинополя крестоносцами
В) 1485 г.	3) окончание Столетней войны
Г) 1517 г.	4) опубликование «95 тезисов» Мартина Лютера
Д) 1683 г.	5) осада Вены войсками Османской империи
	6) создание Генеральных штатов во Франции

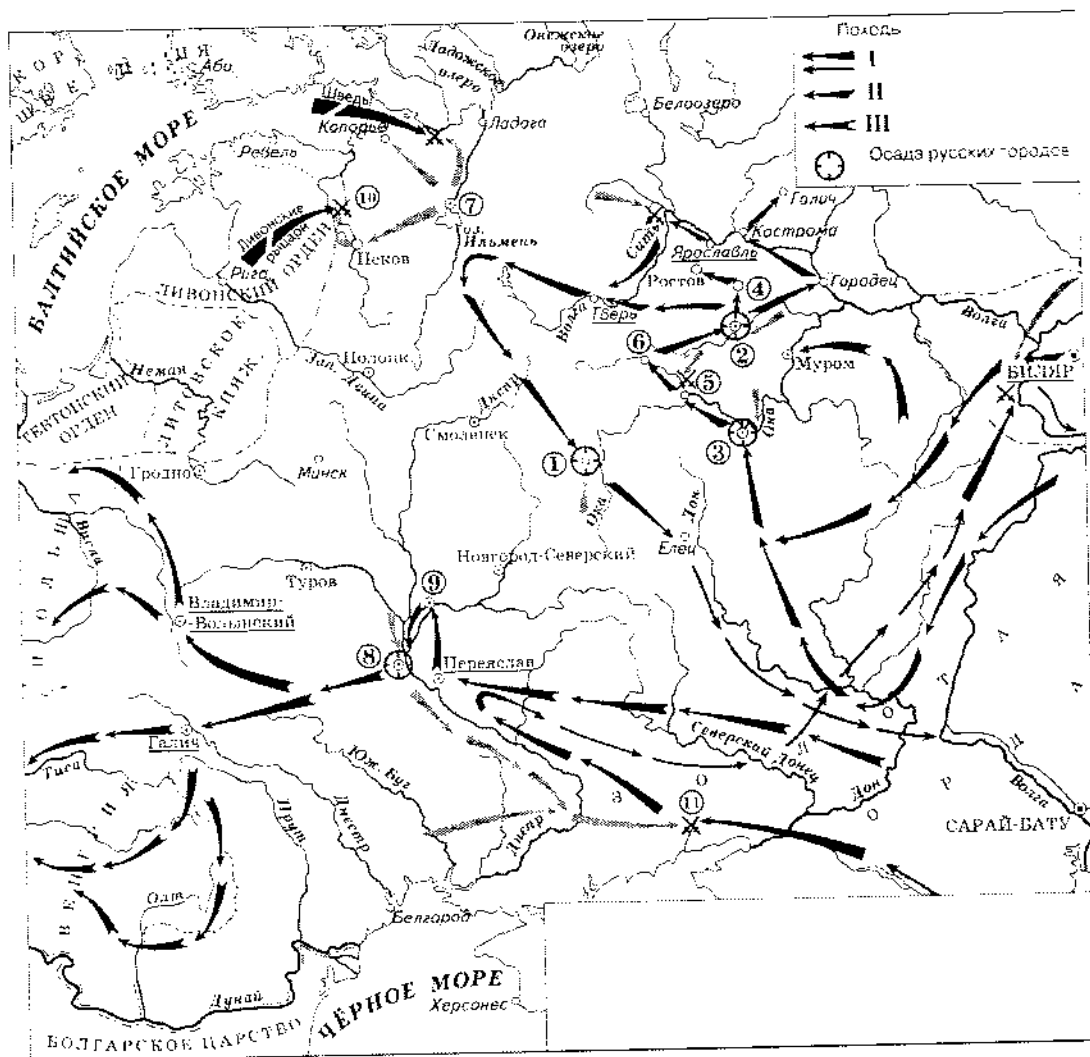
Ответ:

А	Б	В	Г	Д
3	2	1	4 5	6

За каждую верную пару – 1 балл.

Максимум за задание – 5 баллов.

8. Установите соответствие между названиями произведений средневековой русской литературы и именами их авторов.



Произведения	Авторы
А) «Благохотящим царём правительницаи землемерие»	1) Авраамий Палицын
Б) «Житие преподобного Сергия»	2) Епифаний Премудрый
В) «Сказание о Магмет-салтане»	3) Ермолай-Еразм
Г) «Сказание о осаде Троицкого Сергиева монастыря от поляков и литвы и о бывших потом в России мятежах»	4) Иван Пересветов
Д) «Слово о законе и благодати»	5) митрополит Иларион
	6) протопоп Аввакум

Ответ:

А	Б	В	Г	Д

За каждую верную пару – 1 балл.
Максимум за задание – 5 баллов.

9–14. Внимательно рассмотрите схему и выполните задания.

9. Назовите город, обозначенный на схеме цифрой 2. Название следует записать в

именительном падеже с заглавной буквы без каких-либо знаков препинания.

Внимание! Ответы с орфографическими ошибками не засчитываются.

Ответ: _____.

Максимум за задание – 1 балл.

10. Укажите год, когда произошло сражение, обозначенное на схеме цифрой 10.

Ответ: _____.

Максимум за задание – 1 балл.

11. Укажите имя военачальника и правителя, осуществлявшего общее руководство походами на русские земли, обозначенными в легенде схемы цифрами II и III. Имя следует указать в **именительном падеже с заглавной буквы без каких-либо знаков препинания.**

Внимание! Ответы с орфографическими ошибками не засчитываются.

Ответ: _____.

Максимум за задание – 1 балл.

12. Найдите на схеме и выпишите название реки, в ходе сражения на которой погиб великий князь Юрий Всеволодович. Название следует указать в **именительном падеже с заглавной буквы без каких-либо знаков препинания.**

Внимание! Ответы с орфографическими ошибками не засчитываются.

Ответ: _____.

Максимум за задание – 1 балл.

13. Укажите год, когда состоялся поход, обозначенный в легенде схемы цифрой I.

Ответ: _____.

Максимум за задание – 1 балл.

14. Выберите верные утверждения.

- 1) В результате похода, обозначенного в легенде схемы цифрой I, был разгромлен Хазарский каганат.
- 2) Город, обозначенный на схеме цифрой 1, сопротивлялся противнику в течение семи недель.
- 3) Город, обозначенный на схеме цифрой 8, был взят противником в 1240 году.
- 4) Город, обозначенный на схеме цифрой 7, был взят и разграблен в ходе похода, обозначенного в легенде схемы цифрой II.
- 5) Город, обозначенный на схеме цифрой 3, после взятия и разорения противником восстановился и продолжил оставаться столицей удельного княжества.
- 6) В сражении, обозначенном на схеме цифрой 11, погиб галицкий князь Мстислав Мстиславич Удатный.

Ответ: _____.

За каждое верно выбранное/невыбранное утверждение – 1 балл. Максимум за задание – 6 баллов.

15. Определите пропущенные в таблице события, даты и исторические документы, обозначенные заглавными буквами. Обратите внимание: среди предлагаемых вставок есть

«лишние» элементы.

Фрагмент законодательного акта	Название законодательного акта	Год	Событие всеобщей истории, происшедшее в тот же год
(А)	Указ о единонаследии	(Б)	Окончание войны за испанское наследство
«Будет кто каким умышлением учнет мыслити на Государское здоровье злое дело, и про то его злое умышление кто известить, и по тому извету про то его злосумышление сыщется до прями, что он на Царское Величество злое дело мыслил, и делать хотели: такова по сыску казнити смертию»	(В)	1649 г.	(Г)
«...Бояре, Окольничие и Думные люди, тако ж Стольники, и Стряпчие, Дворяне и дети Боярские [...] познавше, что тедела местничества отеческого ничто ино, токмо гордость и любви и отсеечение и Нашим Государским всяким делам повреждение приносят, вси радостными сердцы Нам Великому Государю донесли, чтобы Мы, Великий Государь, Царь и Великий Князь Феодор Алексеевич указали, то виновное всякия злобы дело и братоненавидение, разоряющее любовь, то есть местничество отечественное оставить и вечно и искоренить...».	Соборное деяние об уничтожении местничества	(Д)	(Е)

Выберите варианты:

Варианты для пропусков А, Ж	Варианты для пропусков В, З	Варианты для пропусков Б, Д	Варианты для пропусков Г, Е
<p>«А Христианом отказыватися из волости, ис села в село, один срок в году, за неделю до Юрьева дни осеннего и неделю после Юрьева дни осеннего. Дворы пожилые платят в полех за двор рубль, а в лесех полгина. А которой христианин поживет за ким год, да пойдет прочь, и он платит четверть двора, а два года поживет да пойдет прочь, и он полдвора платит; а три годы поживет, а пойдет прочь, и он платит три четверти двора; а четыре года поживет, и он весь двор платит»</p>	<p>Соборное уложение</p>	<p>1667 г.</p>	<p>основание французскими исследователями колонии в устье реки Миссисипи</p>
<p>«Которые крестьяне от сего числа пред сим за 15 лет в книгах 101-го году положены, и тем быть за теми, за кем писаны; а буде те крестьяне вышли за кого иного, и в том есть на крестьян тех или на тех, кто их держит, челобитье, и те дела не вершены, или кто сентября по 1-е число сего года будет бить челом, и тех крестьян отдавати по тем книгам, с женами и детьми и со всеми их животы, тем, за кем они писаны, до сроку рождества христова 116 году без пожилаго ...»</p>	<p>Судебник</p>	<p>1682 г.</p>	<p>заключение Вестфальского мира, завершение Тридцатилетней войны</p>

<p>«Кто имеет сыновей и ему же, аще хочет, единому из оных дать недвижимое, чрез духовную, тому в наследие и будет. Другие же дети обоего полу да награждены будут движимыми имениями, которые должен отец их или мать разделить им при себе, как сыновьям, так и дочерям, колико их будет, по своей воли, кроме одного, который в недвижимых наследником будет»</p>	<p>Уложение о крестьянах</p>	<p>1714 г.</p>	<p>казнь английских королей Карла I Стюарта</p>
<p>Оубьеть моужь моужа, то мьстить братоу брата, или сынови отца, либо отцю сына, или братоучадоу, либо сестриноу сынови; аще не боудеть кто мьстя, то 40 гривень за голову; аще боудеть роусинь, либо гридинь, либо коулчина, либо ябегникь, либо мечникь, аще изьгой боудеть, либо словенинь, то 40 гривень положити за нь.</p>	<p>Духовный регламент</p>	<p>1581 г.</p>	<p>Крестьянская война в Германии</p>
<p>А князь и посадник на вечисуду не судить; судити им у князя на сенех, взираа в правду, по крестному целованию. А не вьсулят в правду, ино Бог буди им судиа на втором пришествии Христове. А тайных посулов не имать ни князю, ни посаднику.</p>	<p>Указ заповедных летех</p>	<p>1550 г.</p>	<p>Публикация «95 тезисов» доктора богословия Мартина Лютера</p>

<p>Должна же ссть Коллегия сия,и новыми впредь правилами дополнять Регламент свой, яковых правил востребуот разные разных дел случаи. Однакож делать сие должна Коллегия Духовная на базе Нашего соизволения. Определяем же в ссей Духовной Коллегии быть именованным зде Членам: единому Президенту, двоим Вице-Президентам, четырем Советникам, четырем Ассессорам.</p>	<p>Указ урочных летах</p>	<p>об 1721 г.</p>	<p>Навский эдикт</p>
			<p>1722 г.</p>

Ответ:

Пропуск	Нужная вставка
А)	
Б)	
В)	
Г)	
Д)	
Е)	
Ж)	
З)	

За каждое верное соотнесение – 2 балла.

Максимум за задание – 16 баллов.

16. Определите пропущенные в тексте названия, имена, годы, обозначенные буквами. При буквенных обозначениях пропусков даются пояснения о характере требуемой

вставки. Порядковые номера необходимых вставок впишите под соответствующими буквами в приведённую таблицу. Варианты вставок даны в единственном числе именительном падеже. Обратите внимание на то, что среди вставок есть лишние.

В (А – год) недалеко от Твери произошло сражение. Москвичи и монголы были разбиты. Московскому князю (Б – имя и отчество) удалось бежать, но его жена (В – монгольское имя) оказалась в плену. В Твери она неожиданно умерла. Стали поговаривать, что ее отравили.

(Б) и Кавгадый поехали к брату покойной ордынскому хану (Г – имя) и обвинили тверского князя (Д – имя и отчество) в убийстве. Хан вызвал князя к себе и устроил над ним суд. Его признали виновным в том, что он противился воле хана и бился с его войском, а также в смерти княгини. Почти месяц он терпел унижения, а потом к нему подослали убийц. Князя повалили на землю и вонзили ему в грудь нож.

(Б) стал великим князем и сидел в (Е – название города) до 1322 года а затем (Г) хан передал ярлык (Ж – имя и прозвище), сыну (Д). В (З – год) (Ж), встретив в Орде (Б), убил его, мстя за отца, и тут же был казнён по приказу хана (Г). Но великое княжение осталось за тверскими князьями.

В Москве же на престол взошёл брат (Б) (И – имя и прозвище) – человек коварный, хитрый, склонный к накопительству. Он жаждал получить ярлык, но умел ждать своего часа. Подарками хану и его окружению (И) заслужил расположение в Орде.

Варианты для пропусков А, З	Варианты для пропусков Б, В, Г, Д, Ж	Варианты для пропуска Е
1317 г.	Александр Михайлович	Владимир
1322 г.	Дмитрий Грозные Очи	Киев
1325 г.	Иван Калита	Рязань
1326 г.	Кончака	Великий Новгород
1327 г.	Михаил Ярославич	Нижний Новгород
1328 г.	Ногай	Псков
	Тайдула	
	Узбек	
	Юрий Данилович	

Ответ:

Пропуск	Нужная вставка
А)	
Б)	
В)	
Г)	
Д)	
Е)	
Ж)	
З)	
И)	

За каждое верное соотнесение – 1 балл.

Максимум за задание – 10 баллов.

17. Установите соответствие между фрагментами исторических источников и их краткими характеристиками: к каждому фрагменту, обозначенному буквой, подберите по **три** соответствующие характеристики, обозначенные цифрами. Обратите внимание на то, что среди приведённых характеристик есть «лишние».

Фрагменты источников:

- А)** «Скончался благоверный и великий князь русский Владимир, сын благоверного отца Всеслода, украшенный добрыми нравами, прославленный победами. Перед его именем трепетали все страны, и по всеземлям прошел слух о нем, поскольку он всей душой возлюбил Бога... Потому и не шадил имущества своего, раздавая страждущим, и церкви воздвигая и украшая; особенно же почитал (монашеский) чин и священнический, давая им необходимое и принимая от них молитвы. Великую веру имел к Богу и родичам своим, к святым мученикам Борису и Глебу, потому и церковь прекрасную создал на Альте в имя их, где была пролита кровь святого Бориса. И жалостлив был чрезмерно, и дар этот от Бога принял, так что когда входил в церковь и слышал пение, тотчас испускал слезу и мольбы к Владыке Христу со слезами обращал: поэтому и Бог все прощенья его удовлетворял, и лета его наполнил благополучием».
- Б)** «Да в нынешнем во 7117-м году, декабря в 5 день приходили к Нижнему воровские люди: нижегородцы и арзамасы, дети боярские и черемиса и всякие подымные люди, к Нижнему приступали и Божиею милостию и Пречистые Богородицы и Московских чудотворцов помощью и государевым счастьем на выласке воевода Ондрей Семенович Олябьев з дворяны и з детми боярскими и з головы стрелецкими, с литвою и с немцы и с нижегородцы с посадцкими с охочими со всякими служилыми людьми воров в Нижнем всех побили и языков поимали болши трёх сот человек, а побивали их, воровских людей, на пятнатцати верстех и болши, а знамена и набаты поимали, а ушло тех воровских людей не много врознь потому, что стала ночная пора и государевы люди пришли в Нижней дал Бог здоровь».
- В)** «Кольми же паче должны мы иметь попечение о целости всего нашего государства, которое с помощью божиею, ныне паче распространено, как всем видимо есть; чего для заблагодарасудили мы сей устав учинить, дабы сие было всегда в воле правительствующего государя, кому оной хочет, тому и определит наследство, и определенному, видя какое непотребство, паки отменит, дабы дети и потомки не впали в такую злость, как выше писано, имея силу узду на себе».

Характеристики:

- 1) Время создания источника, фрагмент которого приведён, относится к периоду правления Петра I.
- 2) Вид данного исторического источника – летопись.
- 3) Князь, о котором идёт речь в приведённом фрагменте источника, – Владимир Мономах.
- 4) Вид данного исторического источника – законодательный акт.
- 5) В источнике, фрагмент которого приведён, идёт речь об установлении четких системы и порядка престолонаследия.
- 6) Источник, фрагмент которого приведён, представляет собой отчёт должностных лиц о своих действиях.
- 7) Автор даёт князю, о котором идёт речь в приведённом фрагменте, резко отрицательную характеристику, упрекая его в участии в междоусобных войнах.

- 8) Автор даст позитивную характеристику Ивану Грозному, основываясь на приведённом фрагменте, отмечая прежде всего его искреннюю доброту.
- 9) События, о которых идёт речь в приведённом фрагменте источника произошли в период правления Василия Шуйского.
- 10) В источнике рассказывается о победе верных «официальному» монарху людей над людьми, находившимися на службе самозванца.
- 11) В источнике рассказывается о победе людей, находившихся на службе самозванца над верными «официальному» монарху людьми.
- 12) В источнике, фрагмент которого приведён, говорится о праве монарха самостоятельно назначать себе наследника.

Ответ:

	А	Б	В

За каждое верное соотнесение – 2 балла.

Максимум за задание – 18 баллов.

Максимум за работу – 79 баллов.

А-ОГ-С-С

- 8) Автор даёт позитивную характеристику князю, о котором идёт речь в приведённом фрагменте, отмечая прежде всего его искреннюю набожность.
- 9) События, о которых идёт речь в приведённом фрагменте источника, происходили в период правления Василия Шуйского.
- 10) В источнике рассказывается о победе верных «официальному» монарху людей над людьми, находившимися на службе самозванца.
- 11) В источнике рассказывается о победе людей, находившихся на службе самозванца, над верными «официальному» монарху людьми.
- 12) В источнике, фрагмент которого приведён, говорится о праве монарха самостоятельно назначать себе наследника.

Ответ:

А		Б		В	

За каждое верное соотнесение – 2 балла.
Максимум за задание – 18 баллов.

Максимум за работу – 79 баллов.

ВСЕРОССИЙСКАЯ ОЛИМПИАДА ШКОЛЬНИКОВ ИСТОРИЯ,
2022–2023 уч. г.
ШКОЛЬНЫЙ ЭТАП. 8 КЛАСС

1. Укажите участника особого административно-территориального образования в составе русского государства, пропущенного в приведённом ряду.

Алексей Басманов, Афанасий Вяземский, Малюта Скуратов, ... Богдан Бельский
Алексей Алашев
Андрей Курбский
Иван Фёдоров

Ответ: Алексей Алашев

Максимум за задание – 1 балл.

2. Укажите год заключения мирного договора России с одним из иностранных государств, пропущенный в приведённом ряду.

1618 г., 1634 г., 1667 г., ...

1672 г.

1681 г.

1686 г.

1689 г.

Ответ: 1681 г.

Максимум за задание – 1 балл.

3. Какие из перечисленных дат отражают годы смены российских монархов на престоле в XVII веке?

1) 1633 г.

2) 1645 г.

3) 1652 г.

4) 1676 г.

5) 1682 г.

6) 1690 г.

Ответ: 2, 3, 5

За полностью правильный ответ – 2 балла.

За ответ с одной ошибкой – –1 балл.

Максимум за задание – 2 балла.

4. Какие из перечисленных явлений возникли в Российском государстве в XV веке?

1) кормления

2) местничество

3) подворное налогообложение

4) уплата пожилого

5) полки иноземного строя

6) старообрядчество.

Ответ: 1, 2, 3, 4, 5

За полностью правильный ответ – 2 балла.

За ответ с одной ошибкой – –1 балл.

Максимум за задание – 2 балла.

5. Какие из приведённых событий произошли в 1492 году?

- 1) битва на реке Шелони
- 2) женитьба Ивана III на Софье Палолог
- 3) захват Константинополя турками-османами
- 4) открытие Америки Христофором Колумбом
- 5) переход с мартовского года на сентябрьский в Московском государстве
- 6) прекращение существования Гранадского эмирата на территории Пиренейского полуострова.

Ответ: _____

За полностью правильный ответ – 2 балла.

За ответ с одной ошибкой – –1 балл.

Максимум за задание – 2 балла.

6. Расположите приведённые названия городов в хронологической последовательности их присоединения к Московскому княжеству/ государству.

- 1) Коломна
- 2) Нижний Новгород
- 3) Псков
- 4) Рязань
- 5) Гверь
- 6) Ярославль

Ответ:

1	2	3	4	5	6

За каждую верную пару – 1 балл.

Максимум за задание – 6 баллов.

7. Установите соответствие между годами и событиями всеобщей истории, произошедшими в эти годы.

Год	Событие
А) 1204 г.	1) битва при Босворте, окончание Войны Алой и Белой розы в Англии
Б) 1302 г.	2) взятие Константинополя крестоносцами
В) 1485 г.	3) окончание Столетней войны
Г) 1517 г.	4) опубликование «95 тезисов» Мартина Лютера
Д) 1683 г.	5) осада Вены войсками Османской империи
	6) создание Генеральных штатов во Франции

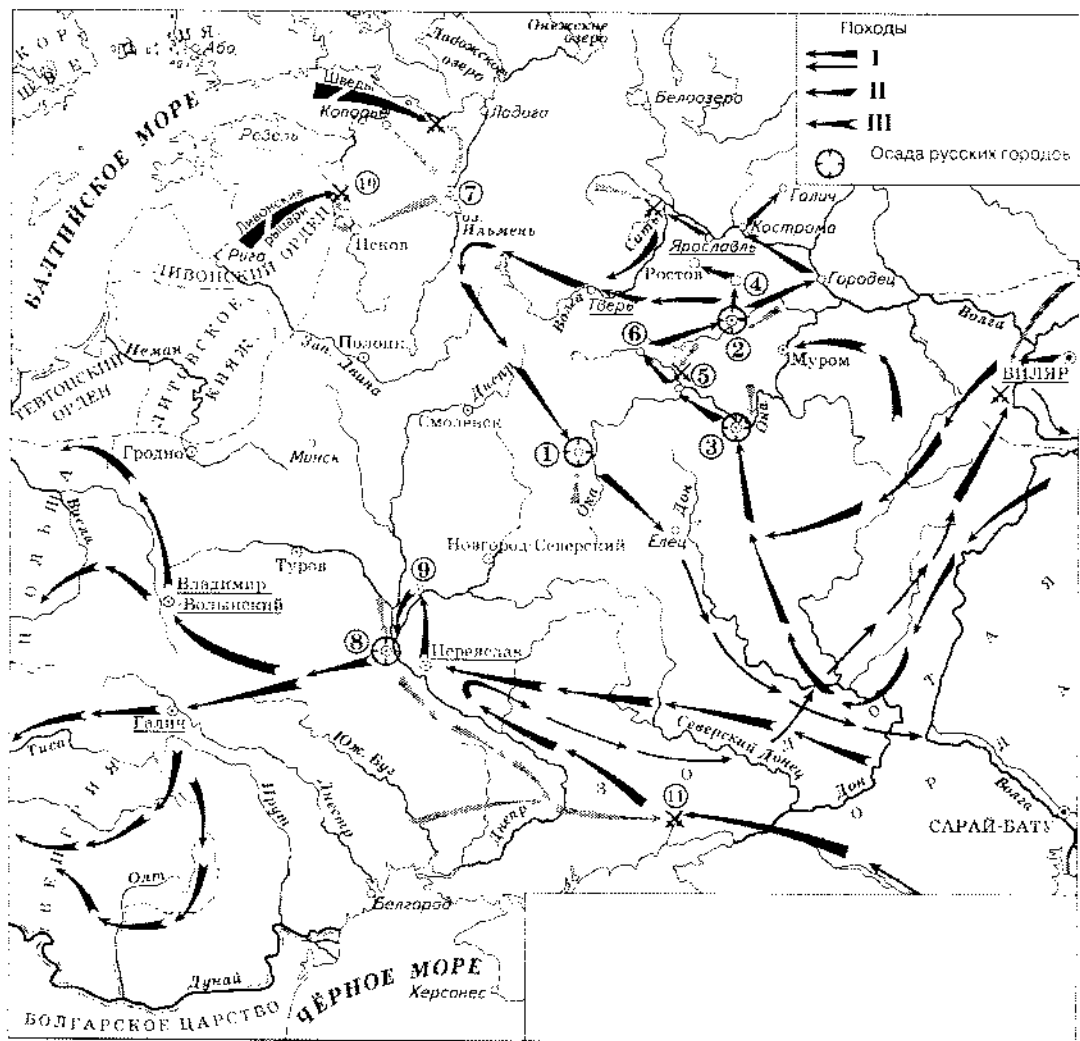
Ответ:

А	Б	В	Г	Д

За каждую верную пару – 1 балл.

Максимум за задание – 5 баллов.

8. Установите соответствие между названиями произведений средневековой русской литературы и именами их авторов.



Произведения	Авторы
А) «Благохотящим царём правительницаи землемерие»	1) Авраамий Палицын
Б) «Житие преподобного Сергия»	2) Елифаний Премудрый
В) «Сказание о Магмет-салтане»	3) Ермолай-Еразм
Г) «Сказание о осаде Троицкого Сергиева монастыря от поляков и литвы и о бывшихпотом в России мятежах»	4) Иван Пересветов
Д) «Слово о законе и благодати»	5) митрополит Иларион
	6) протопоп Аввакум

Ответ:

А	Б	В	Г	Д
		✓		

За каждую верную пару – 1 балл.
Максимум за задание – 5 баллов.

9–14. Внимательно рассмотрите схему и выполните задания.

9. Назовите город, обозначенный на схеме цифрой 2. Название следует записать в

Именительном падеже с заглавной буквы без каких-либо знаков препинания.

Внимание! Ответы с орфографическими ошибками не засчитываются.

Ответ: _____

Максимум за задание – 1 балл.

10. Укажите год, когда произошло сражение, обозначенное на схеме цифрой 10.

Ответ: _____

Максимум за задание – 1 балл.

11. Укажите имя военачальника и правителя, осуществлявшего общее руководство походами на русские земли, обозначенными в легенде схемы цифрами II и III. Имя следует указать в **именительном** падеже с **заглавной** буквы без каких-либо знаков препинания.

Внимание! Ответы с орфографическими ошибками не засчитываются.

Ответ: _____

Максимум за задание – 1 балл.

12. Найдите на схеме и выпишите название реки, в ходе сражения на которой погиб великий князь Юрий Всеволодович. Название следует указать в **именительном** падеже с **заглавной** буквы без каких-либо знаков препинания.

Внимание! Ответы с орфографическими ошибками не засчитываются.

Ответ: _____

Максимум за задание – 1 балл.

13. Укажите год, когда состоялся поход, обозначенный в легенде схемы цифрой 1.

Ответ: _____

Максимум за задание – 1 балл.

14. Выберите верные утверждения.

- 1) В результате похода, обозначенного в легенде схемы цифрой 1, был разгромлен Хазарский каганат.
- 2) Город, обозначенный на схеме цифрой 1, сопротивлялся противнику в течение семи недель.
- 3) Город, обозначенный на схеме цифрой 8, был взят противником в 1240 году.
- 4) Город, обозначенный на схеме цифрой 7, был взят и разграблен в ходе похода, обозначенного в легенде схемы цифрой II.
- 5) Город, обозначенный на схеме цифрой 3, после взятия и разорения противником восстановился и продолжил оставаться столицей удельного княжества.
- 6) В сражении, обозначенном на схеме цифрой 11, погиб галицкий князь Мстислав Мстиславич Удатный.

Ответ: _____

За каждое верно выбранное/невыбранное утверждение – 1 балл. Максимум за задание – 6 баллов.

15. Определите пропущенные в таблице события, даты и исторические документы, обозначенные заглавными буквами. Обратите внимание: среди предлагаемых вариантов

«лишние» элементы, Фрагмент законодательного акта	Название законодательного акта	Год	Событие всеобщей истории, происшедшее в тот же год
(А)	Указ о единонаследии	(Б)	Окончание войны за испанское наследство
«Будет кто каким умышлением учнет мыслити на Государское здорovie злое дело, и про то его злое умышление кто известить, и по тому извету про то его злоумышление сыщется до прямиа, что он на Царское Величество злое дело мыслил, и делать хотели такова по сыску казнити смертию»	(В)	1649 г.	(Г)
«... Бояре, Окольничие и Думные люди, тако ж Стольники, и Стряпчие, Дворяне и дети Боярские [...] познавше, что седела местничества отческого ничто ино, токмо гордость и любви и отсечение и Нашим Государским всяким делам повреждение приносят, все радостными сердцы Нам Великому Государю донесли, чтобы Мы, Великий Государь, Царь и Великий Князь Феодор Алексеевич указали, то виновное всякия злобы дело и братоненавидение, разоряющее любовь, то есть местничество отчественное оставить и вечно и искоренить...».	Соборное деяние об уничтожении местничества	(Д)	(Е)

Выберите варианты:

Варианты для пропусков А, Ж	Варианты для пропусков В, З	Варианты для пропусков Б, Д	Варианты для пропусков Г, Е
<p>«А Христианом отказыватися из волости, ис села в село, один срок в году, за неделю до Юрьева дни осеннего и неделю после Юрьева дни осеннего. Дворы пожилые платят в полех за двор рубль, а в лесех полтина. А которой христианин поживет за ким год, да пойдет прочь, и он платит четверть двора, а два года поживет да пойдет прочь, и он полдвора платит; а три годы поживет, а пойдет прочь, и он платит три четверти двора; а четыре года поживет, и он весь двор платит»</p>	<p>Соборное уложение</p>	<p>1667 г.</p>	<p>основание французскими исследователями колонии в устье реки Миссисипи</p>
<p>«Которые крестьяне от сего числа пред сим за 15 лет в книгах 101-го году положены, и тем быть за теми, за кем писаны; а буде те крестьяне вышли за кого иного, и в том есть на крестьян тех или на тех, кто их держит, челобитье, и те дела не вершены, или кто сентября по 1-е число сего года будет бить челом, и тех крестьян отдавати по тем книгам, с женами и детьми и со всеми их животы, тем, за кем они писаны, до сроку рождества христово 116 году без пожитаго ...»</p>	<p>Судебник</p>	<p>1682 г.</p>	<p>заключение Вестфальского мира, завершение Тридцатилетней войны</p>

<p>«Кто имсет сыновей и ему же, аще хошет, единому из оных дать недвижимое, чрез духовную, тому в наследис и будет. Другис же дети обоего полу да награждены будут движимыми имении, которые должен отец их или мать разделить им при себе, как сыновьям, так и дочерям, колико их будет, по своей воли, кроме оногo одного, который в недвижимых наследником будет»</p>	<p>Уложение о крестьянах</p>	<p>1714 г.</p>	<p>казнь английск. короля Карла I Стюарта</p>
<p>Оубьеть мужь мужа, то мьстити брату брата, или сынови отца, либо отцю сына, или брату чалоу, либо сестриноу сынови; аще не боудеть кто мьстя, то 40 гривень за голову; аще боудеть роусинь, либо гридинь, либо коупчина, либо ябетникь, либо мечникь, аще изьгой боудеть, либо словенинь, то 40 гривень положити за нь.</p>	<p>Духовный регламент</p>	<p>1581 г.</p>	<p>Крестьянская война в Германии</p>
<p>А князь и посадник на вечисуду не судить; судити им у князя на сенех, взираа в правду, по крестному целованию. А не всудят в правду, ино Бог буди им судиа на втором пришествии Христове. А тайных посулов не иматъ ни князю, ни посаднику.</p>	<p>Указ о заповедных летах</p>	<p>1550 г.</p>	<p>Публикация «95 тезисов» доктора богословия Мартина Лютера</p>

<p>Должна же есть Коллегия сия, и новыми впродь правилами дополнять Регламент свой, яковых правил востребуют разные разных дел случаи. Однакож делать сие должна Коллегия Духовная на базе Нашего соизволения. Определяем же в сей Духовной Коллегии быть именованным зде Членам: единому Президенту, двоим Вице-Президентам, четырем Советникам, четырем Ассессорам.</p>	<p>Указ урочных летах</p>	<p>об 1721 г.</p>	<p>Нантский эдикт</p>
		<p>1722 г.</p>	

Ответ:

Пропуск	Нужная вставка
А)	
Б)	
В)	
Г)	
Д)	
Е)	
Ж)	
З)	

За каждое верное соотнесение – 2 балла.

Максимум за задание – 16 баллов.

16. Определите пропущенные в тексте названия, имена, годы, обозначенные буквами. При буквенных обозначениях пропусков даются пояснения о характере требуемой

вставки. Порядковые номера необходимых вставок выписаны под соответствующими буквами в приведённую таблицу. Варианты вставок даны в единственном числе, именительном падеже. Обратите внимание на то, что среди вставок есть «лишние»

В (А – год) недалеко от Твери произошло сражение. Москвичи и монголы были разбиты. Московскому князю (Б – имя и отчество) удалось бежать, но его жена (В – монгольское имя) оказалась в плену. В Твери она неожиданно умерла. Стали поговаривать, что ее отравили.

(Б) и Кавгальдй поехали к брату покойной ордынскому хану (Г – имя) и обвинили тверского князя (Д – имя и отчество) в убийстве. Хан вызвал князя к себе и устроил над ним суд. Его признали виновным в том, что он прогивился воле хана и бился с его войском, а также в смерти княгини. Почти месяц он терпел унижения, а потом к нему подослали убийц. Князя повалили на землю и вонзили ему в грудь нож.

(Б) стал великим князем и сидел в (Е – название города) до 1322 года а затем (Г) хан передал ярлык (Ж – имя и прозвище), сыну (Д). В (З – год) (Ж), встретив в Орде (Б), убил его, мстя за отца, и тут же был казнён по приказу хана (Г). Но великое княжение осталось за тверскими князьями.

В Москве же на престол взошёл брат (Б) (И – имя и прозвище) – человек коварный, хитрый, склонный к накопительству. Он жаждал получить ярлык, но умел ждать своего часа. Подарками хану и его окружению (И) заслужил расположение в Орде.

Варианты для пропусков А, З	Варианты для пропусков Б, В, Г, Д, Ж	Варианты для пропуска Е
1317 г.	Александр Михайлович	Владимир
1322 г.	Дмитрий Грозные Очи	Киев
1325 г.	Иван Калита	Рязань
1326 г.	Кончака	Великий Новгород
1327 г.	Михаил Ярославич	Нижний Новгород
1328 г.	Ногай	Псков
	Гайдула	
	Узбек	
	Юрий Данилович	

Ответ:

Пропуск	Нужная вставка
А)	
Б)	
В)	
Г)	
Д)	
Е)	
Ж)	
З)	
И)	

За каждое верное соотнесение – 1 балл.
Максимум за задание – 10 баллов.

17. Установите соответствие между фрагментами исторических источников и их краткими характеристиками: к каждому фрагменту, обозначенному буквой, подберите по три соответствующие характеристики, обозначенные цифрами. Обратите внимание на то, что среди приведённых характеристик есть «лишние».

Фрагменты источников:

- А)** «Скончался благоверный и великий князь русский Владимир, сын благоверного отца Всеслода, украшенный добрыми нравами, прославленный победами. Перед его именем трепетали все страны, и по всем землям прошел слух о нем, поскольку он всей душой возлюбил Бога... Потому и не шадил имущества своего, раздавая страждущим, и церкви воздвигая и украшая; особенно же почитал (монашеский) чин и священнический, давая им необходимое и принимая от них молитвы. Великую веру имел к Богу и родичам своим, к святым мученикам Борису и Глебу, потому и церковь прекрасную создал на Альте в имя их, где была пролита кровь святого Бориса. И жалостлив был чрезмерно, и дар этот от Бога принял, так что когда входил в церковь и слышал пение, тотчас испускал слезу и мольбы к Владыке Христу со слезами обращал: поэтому и Бог все прощенья его удовлетворял, и уста его наполнил благополучием».
- Б)** «Да в ныншнем во 7117-м году, декабря в 5 день приходили к Нижнему воровские люди: нижегородцы и арзамасцы, дети боярские и черемисаи всякие подымные люди, к Нижнему приступали и Божию милостию и Пречистые Богородицы и Московских чудотворцов помощью и государевым счастьем на выласке воевода Ондрей Семенович Олябьев з дворяны и з детми боярскими и з головы стрелецкими, с литвою и с немцы и с нижегородцы с посадцкими с охочими со всякими служилыми людьми воров в Нижнем всех побили и языков поимали болши грех сот человек, а побивали их, воровских людей, на пятнатцати верстех и болши, а знамена и набаты поимали, а ушло тех воровских людей не много врознь потому, что стала ночная пора и государевы люди припли в Нижней дал Бог здоровь».
- В)** «Кольми же паче должны мы иметь попечение о целости всего нашего государства, которое с помощью божиею, ныне паче распространено, как всем видимо есть; чего для заблагодарасудили мы сей устав учинить, дабы сие было всегда в воле правительствующего государя, кому оной хочет, тому и определит наследство, и определенному, видя какое непотребство, паки отменит, дабы дети и потомки не впали в такую злость, как выше писано, имея сию узду на себе».

Характеристики:

- 1) Время создания источника, фрагмент которого приведён, относится к периоду правления Петра I.
- 2) Вид данного исторического источника – летопись.
- 3) Князь, о котором идёт речь в приведённом фрагменте источника, – Владимир Мономах.
- 4) Вид данного исторического источника – законодательный акт.
- 5) В источнике, фрагмент которого приведён, идёт речь об установлении четких системы и порядка престолонаследия.
- 6) Источник, фрагмент которого приведён, представляет собой отчёт должностных лиц о своих действиях.
- 7) Автор даёт князю, о котором идёт речь в приведённом фрагменте, резко отрицательную характеристику, упрекая его в участии в междоусобных войнах.

- 8) Автор даёт позитивную характеристику князю, о котором идёт речь в приведённом фрагменте, отмечая прежде всего его искреннюю набожность.
- 9) События, о которых идёт речь в приведённом фрагменте источника, происходили в период правления Василия Шуйского.
- 10) В источнике рассказывается о победе верных «официальному» монарху людей над людьми, находившимися на службе самозванца.
- 11) В источнике рассказывается о победе людей, находившихся на службе самозванца, над верными «официальному» монарху людьми.
- 12) В источнике, фрагмент которого приведён, говорится о праве монарха самостоятельно назначать себе наследника.

Ответ:

А			Б			В		
а	б	в	г	д	е	ж	з	и

За каждое верное соотнесение – 2 балла.
 Максимум за задание – 18 баллов.

Максимум за работу – 79 баллов.