

ВСЕРОССИЙСКАЯ ОЛИМПИАДА ШКОЛЬНИКОВ ИСТОРИЯ.  
2024-2025 уч. г.  
ШКОЛЬНЫЙ ЭТАП. 8 КЛАСС

1. Укажите участника особого административно-территориального образования в составе русского государства, пропущенного в приведённом ряду.  
Алексей Басманов, Афанасий Вяземский, Малюта Скуратов, ... Батдан  
Бельский  
Алексей Адашев  
Андрей Курбский  
Иван Фёдоров

Ответ: Батдан Бельский 15  
Максимум за задание – 1 балл.

2. Укажите год заключения мирного договора России с одним из иностранных государств, пропущенный в приведённом ряду.

1618 г., 1634 г., 1667 г., ...

1672 г.

1681 г.

1686 г.

1689 г.

Ответ: 1686 г. 15  
Максимум за задание – 1 балл.

3. Какие из перечисленных дат отражают годы смены российских монархов на престоле в XVII веке?

1) 1633 г.

2) 1645 г.

3) 1652 г.

4) 1676 г.

5) 1682 г.

6) 1690 г.

Ответ: 2, 4, 5 25  
За полностью правильный ответ – 2 балла.  
За ответ с одной ошибкой – 1 балл.  
Максимум за задание – 2 балла.

4. Какие из перечисленных явлений возникли в Российском государстве XV веке?

1) кормление

2) местничество

3) подворное налогообложение

4) уплата пожилого

5) поляки иноземного строя

6) старообрядчество.

Ответ: 1, 2, 4 25  
За полностью правильный ответ – 2 балла.  
За ответ с одной ошибкой – 1 балл.  
Максимум за задание – 2 балла.

5. Какие из приведённых событий произошли в 1492 году?

- 1) битва на реке Шелони
- 2) женитьба Ивана III на Софье Палеолог
- 3) захват Константинополя турками-османами
- 4) открытие Америки Христофором Колумбом
- 5) переход с мартовского года на сентябрьский в Московском государстве
- 6) прекращение существования Граладского эмирата на территории Пиренейского полуострова.

Ответ: 4, 5, 6 26

За полностью правильный ответ – 2 балла.

За ответ с одной ошибкой – 1 балл.

Максимум за задание – 2 балла.

6. Расположите приведённые названия городов в хронологической последовательности их присоединения к Московскому княжеству/государству.

- 1) Коломна
- 2) Нижний Новгород
- 3) Псков
- 4) Рязань
- 5) Тверь
- 6) Ярославль

Ответ:

1	2	3	4	5	6
Коломна	Нижний Новгород	Ярославль	Рязань	Тверь	Псков

За каждую верную пару – 1 балл.

66

Максимум за задание – 6 баллов.

7. Установите соответствие между годами и событиями всеобщей истории, произошедшими в эти годы.

Год	Событие
А) 1204 г.	1) битва при Босворте, окончание Войны Алой и Белой розы в Англии
Б) 1302 г.	2) взятие Константинополя крестоносцами
В) 1485 г.	3) окончание Столетней войны
Г) 1517 г.	4) опубликование «95 тезисов» Мартина Лютера
Д) 1683 г.	5) осада Вены войсками Османской империи
	6) создание Генеральных штатов во Франции

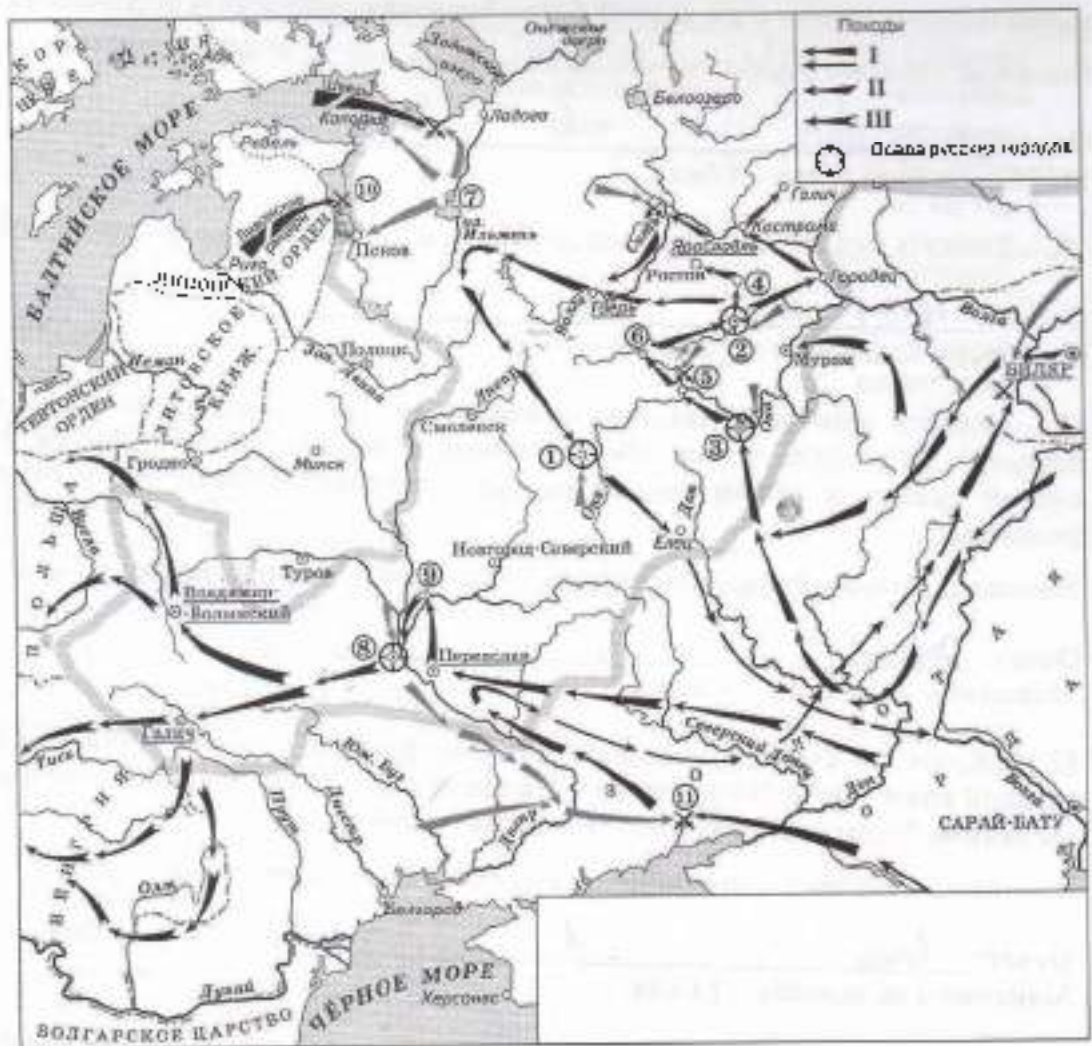
Ответ:

А	Б	В	Г	Д
2	6	1	4	5

За каждую верную пару – 1 балл.

Максимум за задание – 5 баллов.

8. Установите соответствие между названиями произведений средневековой русской литературы и именами их авторов.



Произведения	Авторы
А) «Благохотящим црём: правительницам землемерие»	1) Авраамий Палицын
Б) «Житие преподобного Сергия» В) «Сказание о Магмет-салтане»	2) Епифаний Премудрый
Г) «Сказание о осаде Троицкого Сергиева монастыря от татар и литвы и о бывших тогда в России мятежах»	3) Ермилей-Бразм
Д) «Слово о законе и благодати»	4) Иван Пересветов
	5) митрополит Иларион
	6) протопол Аввакум

Ответ: 50

А	Б	В	Г	Д
3	2	4	1	5

За каждую верную пару – 1 балл.  
Максимум за задание – 5 баллов.

9–14. Внимательно рассмотрите схему и выполните задания.

9. Назовите город, обозначенный на схеме цифрой 2. Название следует записать в

именительном падеже с заглавной буквы без каких-либо знаков препинания.

*Внимание! Ответы с орфографическими ошибками не засчитываются.*

Ответ: Владимир 1  
Максимум за задание – 1 балл.

10. Укажите год, когда произошло сражение, обозначенное на схеме цифрой 10.

Ответ: 1242 1  
Максимум за задание – 1 балл.

11. Укажите имя военачальника и правителя, осуществлявшего общее руководство походами на русские земли, обозначенными в легенде схемы цифрами II и III. Имя следует указать в именительном падеже с заглавной буквы без каких-либо знаков препинания.

*Внимание! Ответы с орфографическими ошибками не засчитываются.*

Ответ: Хангай 1  
Максимум за задание – 1 балл.

12. Найдите на схеме и выпишите название реки, в ходе сражения на которой погиб великий князь Юрий Всеволодович. Название следует указать в именительном падеже с заглавной буквы без каких-либо знаков препинания.

*Внимание! Ответы с орфографическими ошибками не засчитываются.*

Ответ: Витязь 1  
Максимум за задание – 1 балл.

13. Укажите год, когда состоялся поход, обозначенный в легенде схемы цифрой I.

Ответ: 1223 1  
Максимум за задание – 1 балл.

14. Выберите верные утверждения.

- 1) В результате похода, обозначенного в легенде схемы цифрой I, был разгромлен Хазарский каганат.
- 2) Город, обозначенный на схеме цифрой 1, сопротивлялся пригивнику в течение семи недель.
- 3) Город, обозначенный на схеме цифрой 8, был взят противником в 1240 году.
- 4) Город, обозначенный на схеме цифрой 7, был взят и разграблен в ходе похода, обозначенного в легенде схемы цифрой II.
- 5) Город, обозначенный на схеме цифрой 3, после взятия и разорения противником восстановился и продолжил оставаться столицей удельного княжества.
- 6) В сражении, обозначенном на схеме цифрой II, погиб галицкий князь Мстислав Мстиславич Удатный.

Ответ: 2, 3 6

За каждое верно выбранное/невыбранное утверждение – 1 балл. Максимум за задание – 6 баллов.

15. Определите пропущенные в таблице события, даты и исторические документы, обозначенные заглавными буквами. Обратите внимание: среди предлагаемых вставок есть

«лишние» элементы.

Фрагмент законодательного акта	Название законодательного акта	Год	Событие в истории, происшедшее в тот же год
(А)	Указ о единонаследии	(Б)	Окончание войны за испанское наследство
«Будет кто каким умышлением учнет мыслити на Государское здоровье злое дело, и про то сгозлое умышление кто известить, и по тому извету про то его злосумышление сыщется до прямиа, что он на Царское Величество злое дело мыслит, и делать хотел, и такова по сыску казнити смертию»	(В)	1649 г.	(Г)
«... Бояре, Окольничие и Думные люди, тако ж Стольники, и Стряпчие, Дворяне и дети Боярские [...] познавше, что гонела местничества отеческого ничто иное, токмо гордость и любви и отсечение и Нашим Государским всяким делам повреждение приносят, вси радостными сердцы Нам Великому Государю понесли, чтобы Мы, Великий Государь, Царь и Великий Князь Феодор Алексеевич указали, то виновное всякия злобы дело и братоненавидение, разоряющее любовь, то есть местничество отечесственное оставить и вечно и искоренить...»	Соборное деяние об уничтожении местничества	(Д)	(Е)

Выберите варианты:

Варианты для пропусков А, Ж	Варианты для пропусков В, З	Варианты для пропусков Б, Д	Варианты для пропусков Г, Е
<p>«А Христианом отказыватися из волости, ис села в село, один срок в году, за неделю до Юрьева дни осеннего и незелю после Юрьева дни осеннего. Дворы пожилые платят в полех за двор рубль, а в лесех полтина. А колотный христианин поживает за ким год, да пойдеть прочь, и он платит четверть двора, а два года поживет да пойдеть прочь, и он полдвора платит; а три годы поживет, а пойдеть прочь, и он платит три четверти двора; а четыре года поживет, и он весь двор платит»</p>	<p>Соборное уложение</p>	<p>1667 г.</p>	<p>основание французскими исследователями колонии в устье реки Миссисипи</p>
<p>«Которые крестьяне от сего числа пред сим за 15 лет в книгах 101-го году положены, и тем быть за теми, за кем писаны; а буде те крестьяне пошли за кому иного, и в том есть на крестьян тех или на тех, кто их держит, челобитье, и те дела не вершены, или кто сентября по 1-е число сего года будет бить челом, и тех крестьян отдавати по тем книгам, с женами и детьми в со всеми их жиноты, тем, за кем они писаны. До сроку рождества христови 116 году без пожитого ...»</p>	<p>Судебник</p>	<p>1682 г.</p>	<p>заключени Вестфальского мира, завершения Тридцатилетней войны</p>

<p>«Кто имеет сыновей и ему же, аще хошет, единому из оных дать недвижимос, чрез духовную, тому в наследие и будет. Другие же дети обоего полу да награждены будут движимыми имения, которые должен отец их или мать разделить им при себе, как сыновьям, так и дочерям, колико их будет, по своей воли, кроме одного, который в недвижимых наследником будет»</p>	<p>Уложение о крестьянах</p>	<p>1714 г.</p>	<p>казнь английского короля Карла I Стюарта</p>
<p>Оубьет мужь мужа, то мьстить брату брата, или сынови отца, либо отцо сына, или братоу тядоу, либо сестриноу сынови; аще не боудеть кто мьстят, то 40 гривень за голову; аще боудеть роусинь, либо гридинь, либо коупчина, либо ябстанькь, либо мечникь, аще изьгон боудеть, либо словенинь, то 40 гривень положить за нь.</p>	<p>Духовный регламент</p>	<p>1581 г.</p>	<p>Крестьянская война в Германии</p>
<p>А князь и посадник на вчисуду не судить; судити им у князи на сенех, взираа в правду, по крестному целованию. А не всудят в правду, ино Бог буди им судия на втором пришествии Христова. А тайных посулов не имать ни князю, ни посаднику.</p>	<p>Указ о заповедных летах</p>	<p>1550 г.</p>	<p>Публикация «95 тезисов» доктора богословия Мартина Лютера</p>

<p>Должна же есть Коллегия сия, и новыми впредь правилами диниовать Регламент свой. яковых правил востребуи разные разных дел случаи. Однакож делать сие должна Коллегия Духовная на базе Нашего соизнания. Определяем же в сей Духовной Коллегии быть именовавшим зде Членам: единому Президенту, двоим Вице-Президентам, четырем Советникам, четырем Ассессорам.</p>	<p>Указ урочных летах</p>	<p>об 1721 г.</p>	<p>Нантекий эдикт</p>
		<p>1722 г.</p>	

Ответ:

Пропуск	Нужная вставка
А)	<p>Кто имеет канвей и или же, или хочет, единому из оных дать недвижимое, чрез духовную, талу в наследие и будет. Врине же дети обого талу да канвейена будут движимыми и чени, которые даются отец их или мать родилили или при себе, как канвейи, так и дочерям, какико их будет по своей воле, граде оного родно, которой в недвижимая наследником будет.</p>
Б)	1714г
В)	Собрание цожение
Г)	казнь авинийского короля Фрэнсиса I Испанца
Д)	1682г
Е)	Основание французскими ислелователями канжи в устье реки Миссисипи.
Ж)	<p>В христианам откариватис из вавосии, и сии в сии сии сии в году, за неделю до Юрива дни осеннего и неделю после Юрива дни осеннего. Юрива пошине платят в паек за двор рубль, а в лесех платиша. В которой христианам пошине за мии год, да поидет рубль, и он платит четверть дворя, а два года пошине да и поидет рубль, и он платит четверть дворя, а три года пошине, и поидет рубль, и он платит три четверти дворя: а четвере года пошине, и он все двор платит.</p>
З)	Буденник

За каждое верно соотнесение - 2 балла.  
Максимум за задание - 16 баллов.

166

16. Определите пропущенные в тексте названия, имена, толы, обозначающие буквы. При буквенных обозначениях пропусков даются пояснения о характере требуемой



вставки. Порядковые номера необходимых вставок впишите под соответствующими буквами в приведённую таблицу. Варианты вставок даны в единственном числе, именительном падеже. Обратите внимание на то, что среди вставок есть «лишние».

В (А – год) недалеко от Твери произошло сражение. Москвичи и монголы были разбиты. Московскому князю (Б – имя и отчество) удалось бежать, но его жена (В – монгольское имя) оказалась в плену. В Твери она неожиданно умерла. Стали поговаривать, что ее отравили.

(Б) и Кавкалый поехали к брату покойной ордынского хану (Г – имя) и обвинили тверского князя (Д – имя и отчество) в убийстве. Хан вызвал князя к себе и устроил над ним суд. Его признали виновным в том, что он противился воле хана и бился с его войском, а также в смерти княгини. Почти месяц он терпел унижения, а потом к нему подослали убийц. Князя повалили на землю и вонзили ему в грудь нож.

(Б) стал великим князем и сидел в (Е – название города) до 1322 года а затем (Г) хан передал ярлык (Ж – имя и прозвище), сыну (Д). В (З – год) (Ж), встретив в Орде (Б), убил его, мстя за отца, и тут же был казнён по приказу хана (Г). Но великое княжские осталось за тверскими князьями.

В Москве же на престол взошёл брат (Б) (И – имя и прозвище) – человек коварный, хитрый, склонный к накопительству. Он жаждал получить ярлык, но умел ждать своего часа. Подарками хану и его окружению (И) заслужил расположение в Орде.

Варианты для пропусков А, З	Варианты для пропусков Б, В, Г, Д, Ж	Варианты для пропуска Е
1317 г.	Александр Михайлович	Владимир
1322 г.	Дмитрий Грозные Очи	Киев
1325 г.	Иван Калита	Рязань
1326 г.	Кончака	Великий Новгород
1327 г.	Михаил Ярославич	Нижний Новгород
1328 г.	Ногай	Псков
	Тайдула	
	Узбек	
	Юрий Данилович	

Ответ:

Пропуск	Нужная вставка
А)	1317
Б)	Юрий Данилович
В)	Кончака
Г)	Узбек
Д)	Михаил Ярославич
Е)	Владимир
Ж)	Виктор Грозные Очи
З)	1325
И)	Иван Калита

За каждое верное соответствие – 1 балл.  
Максимум за задание – 10 баллов.

100

17. Установите соответствие между фрагментами исторических источников и краткими характеристиками: к каждому фрагменту, обозначенному буквой, подберите по три соответствующие характеристики, обозначенные цифрами. Обратите внимание на то, что среди приведённых характеристик есть «лишние».

### Фрагменты источников:

А) «Скничаеся благоверный и великий князь русский Владимир, сын благоверного отца Всеволода, украшенный днбрными нравами, прославленный победами. Перед его именем трепетали все страны, и по всем землям прошел слух о нем, поскольку он всей душой возлюбил Бога... Потому и не шадил имуществом своего, раздаяя страждущим, и церкви воздвигая и украшая; особенно же почитал (монашеский) чин и священнический, давая им необходимое и припичая от них молитвы. Великую веру имеет к Богу и родичам своим, к святым мученикам Борису и Глебу, потому и церковь прекрасную создал на Альте в имя их, где была пролита кровь святого Бориса. И жалостлив был чрезмерно, и дар тот от Бога принял, так что когда входил в церковь и слышал пение, тотчас испускал слезу и мольбы к Владыке Христу со слезами обращал: потому и Бог все прошения его удовлетворил, и лета его наполнил благомыслием».

Б) «Да в нынешнем во 7117-м году, декабря в 5 день приходили к Нижнему воровские люди: нижегородцы и арзамасцы, дети боярские и черемисы всякие подымные люди, к Нижнему присгупати и Божию милостию и Пречистые Богородицы и Московских чудотворцов помещию и государевым счастьем на выласке всеволода Андреем Семёновичем Олябьев з дворяны и з детьми боярскими и з гилоны стрельцами, с литвою и с немцы и с нижегородцы с посадскими с охочими со всякими служилыми людьми воров в Нижнем всех побили и языков поимали боши трёх сот человек, а побивали их, вировских людей не много врознь потому, что знамена и набагы поимали, а ушло тех воровских людей не много врознь потому, что стала ночная пора и государевы люди пришли и Нижней дал Бог зловровы».

В) «Кольки же паче должны мы иметь попечение о целости всего нашего государства, которое с помощью божиею, ныне паче распространено, как всем виднко есть; чего для заблаторазсудати мы сей устав учинить, дабы сие было всегда в воле правительствующего имуларя, кому оной хочет, тому и определит наследство, и определенному, види какие нехитребества, пакы отменит, дабы дети и попомки не впали в такую злость, как выше писано, имея силу узду на себел».

### Характеристики:

- 1) Время создания источника, фрагмент которого приведён, относится к периоду правления Петра I
- 2) Вид данного исторического источника - летопись.
- 3) Князь, о котором идёт речь в приведённом фрагменте источника, - Владимир Мономах.
- 4) Вид данного исторического источника - законодательный акт.
- 5) В источнике, фрагмент которого приведён, идёт речь об установлении четких системы и порядка престолонаследия.
- 6) Источник, фрагмент которого приведён, представляет собой отчёт должностных лиц о своих действиях.
- 7) Автор даёт князю, о котором идёт речь в приведённом фрагменте, резко отрицательную характеристику, упрекая его в участии в междоусобных войнах.

Ц-0801

- 8) Автор дает позитивную характеристику князю, о котором идет речь в приведённом фрагменте, отмечая прежде всего его искреннюю набожность.
- 9) События, о которых идет речь в приведённом фрагменте источника, происходили в период правления Василия Шуйского.
- 10) В источнике рассказывается о победе верных «официальному» монарху людей над людьми, находившимися на службе самозванца.
- 11) В источнике рассказывается о победе людей, находившихся на службе самозванца над верными «официальному» монарху людьми.
- 12) В источнике, фрагмент которого приведён, говорится о праве монарха самостоятельно назначать себе наследника.

Ответ:

А			Б			В		
12	3	8	6	3	10	11	4	12

За каждое верное соотнесение - 2 балла.

Максимум за задание - 18 баллов.

125

Максимум за работу - 79 баллов.

ВСЕРОССИЙСКАЯ ОЛИМПИАДА ШКОЛЬНИКОВ ИСТОРИЯ.  
2024–2025 уч. г.  
ШКОЛЬНЫЙ ЭТАП. 8 КЛАСС

1. Укажите участника особого административно-территориального образования в составе русского государства, пропущенного в приведённом ряду.

Алексей Басманов, Афанасий Вяземский, Малюта Скуратов, ... Богдан Бельский  
Алексей Адашев  
Андрей Курбский  
Иван Фёдоров

Ответ: Богдан Бельский 15  
Максимум за задание – 1 балл.

2. Укажите год заключения мирного договора России с одним из иностранных государств, пропущенный в приведённом ряду.

1618 г., 1634 г., 1667 г., ...  
1672 г.  
1681 г.  
1686 г.  
1689 г.

Ответ: 1686 г. 15  
Максимум за задание – 1 балл.

3. Какие из перечисленных дат отражают годы смены российских монархов на престоле в XVII веке?

- 1) 1633 г.
- 2) 1645 г.
- 3) 1652 г.
- 4) 1676 г.
- 5) 1682 г.
- 6) 1690 г.

Ответ: 2, 3, 4, 5 25  
За полностью правильный ответ – 2 балла.  
За ответ с одной ошибкой – 1 балл.  
Максимум за задание – 2 балла.

4. Какие из перечисленных явлений возникли в Рижском государстве в XV веке?

- 1) кормления
- 2) мещинство
- 3) подворное налогообложение
- 4) уплата пожилого
- 5) полки иноземного строя
- 6) старообрядчество.

Ответ: 1, 2, 4 15  
За полностью правильный ответ – 2 балла.  
За ответ с одной ошибкой – 1 балл.  
Максимум за задание – 2 балла.

5. Какие из приведённых событий произошли в 1492 году?

- 1) битва на реке Шепони
- 2) женитьба Ивана III на Софье Палеолог
- 3) захват Константинополя турками-османами
- 4) открытие Америки Христофором Колумбом
- 5) переход с мартовского года на сентябрьский в Московском государстве
- 6) прекращение существования Гранадского эмирата на территории Пиренейского полуострова.

Ответ: 4, 5, 6. 10

За полностью правильный ответ – 2 балла.

За ответ с одной ошибкой – 1 балл.

Максимум за задание – 2 балла.

6. Расположите приведённые названия городов в хронологической последовательности их приращения к Московскому княжеству/государству.

- 1) Коломна
- 2) Нижний Новгород
- 3) Псков
- 4) Рязань
- 5) Тверь
- 6) Ярославль

Ответ:

1	2	3	4	5	6
Коломна	Нижний Новгород	Ярославль	Тверь	Псков	Рязань

За каждую верную пару – 1 балл.

80

Максимум за задание – 6 баллов.

7. Установите соответствие между годами и событиями всеобщей истории, произошедшими в эти годы.

Год	Событие
А) 1204 г.	1) битва при Босворте, окончание Войны Алой и Белой розы в Англии
Б) 1302 г.	2) взятие Константинополя крестоносцами
В) 1485 г.	3) окончание Столетней войны
Г) 1517 г.	4) опубликование «95 тезисов» Мартина Лютера
Д) 1683 г.	5) осада Вены войсками Османской империи
	6) создание Генеральных штабов во Франции

Ответ:

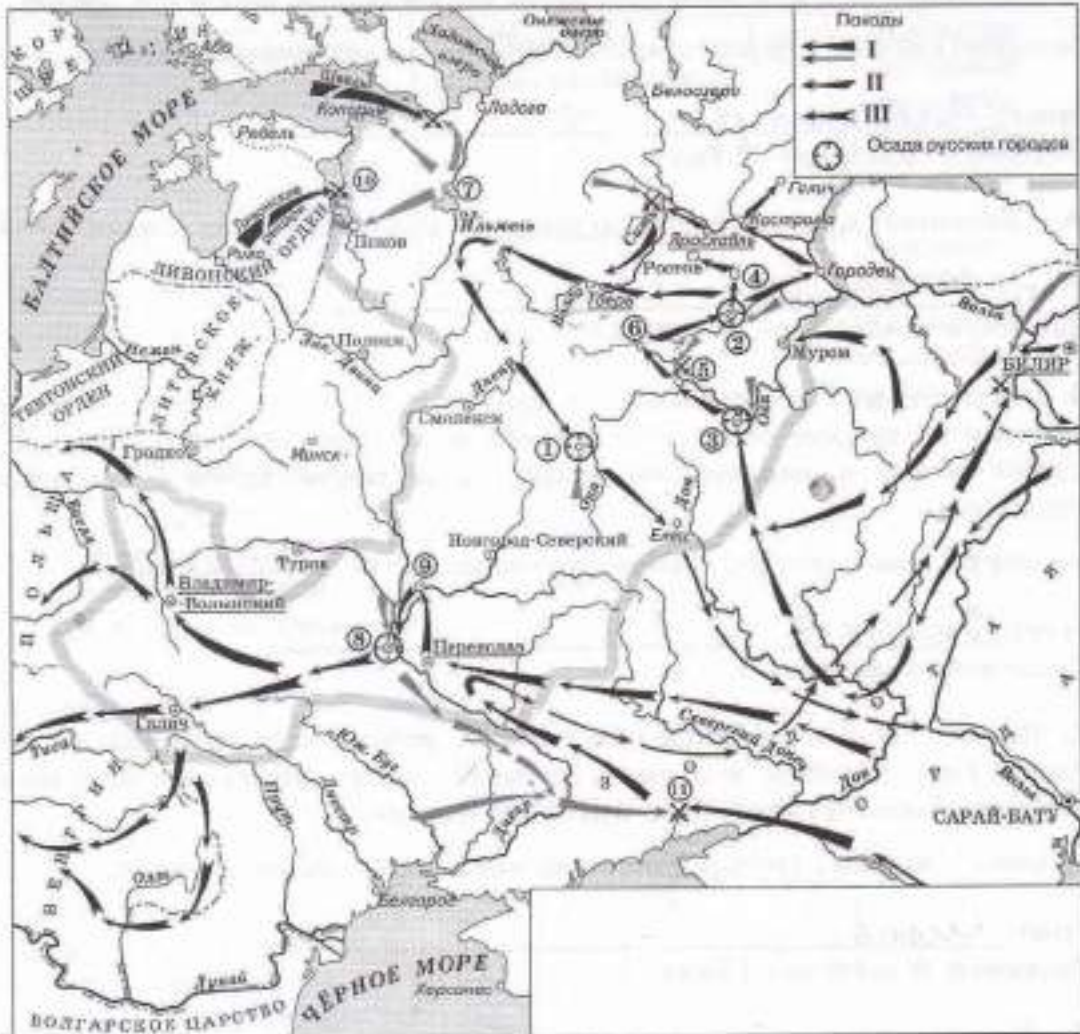
А	Б	В	Г	Д
2	6	1	4	5

За каждую верную пару – 1 балл.

Максимум за задание – 5 баллов.

50

8. Установите соответствие между названиями произведений средневековой русской литературы и именами их авторов.



Произведения	Авторы
А) «Блаженно почтим царём правительницам землемерце»	1) Авраамий Палицын
Б) «Житие преподобного Сергия» В) «Сказание о Магмет-салтане»	2) Епифаний Премудрый
Г) «Сказание о осаде Троицкого Сергиева монастыря от поляков и литвы и о бывших тогда в России мятежах»	3) Ермолай-Еразм
Д) «Слово о законе и благодати»	4) Иван Пересветов
	5) митрополит Иларион
	6) протопоп Аввакум

Ответ:

А	Б	В	Г	Д
2	3	4	5	1

За каждую верную пару – 1 балл.  
Максимум за задание – 5 баллов.

9–14. Внимательно рассмотрите схему и выполните задания.

9. Назовите город, обозначенный на схеме цифрой 2. Название следует записать в

8) + Владимир

именительном падеже с заглавной буквы без каких-либо знаков препинания.

Внимание! Ответы с орфографическими ошибками не засчитываются.

Ответ: Владимир 1

Максимум за задание – 1 балл.

10. Укажите год, когда произошло сражение, обозначенное на схеме цифрой 10.

Ответ: 1242 1

Максимум за задание – 1 балл.

11. Укажите имя военачальника и правителя, осуществлявшего общее руководство походами на русские земли, обозначенными в легенде схемы цифрами II и III. Имя следует указать в именительном падеже с заглавной буквы без каких-либо знаков препинания.

Внимание! Ответы с орфографическими ошибками не засчитываются.

Ответ: Батый 1

Максимум за задание – 1 балл.

12. Найдите на схеме и выпишите название реки, в ходе сражения на которой погиб великий князь Юрий Всеволодович. Название следует указать в именительном падеже с заглавной буквы без каких-либо знаков препинания.

Внимание! Ответы с орфографическими ошибками не засчитываются.

Ответ: Сима 1

Максимум за задание – 1 балл.

13. Укажите год, когда состоялся поход, обозначенный в легенде схемы цифрой 1.

Ответ: 1223 1

Максимум за задание – 1 балл.

14. Выберите верные утверждения.

- 1) В результате похода, обозначенного в легенде схемы цифрой 1, был разгромлен Хазарский каганат.
- 2) Город, обозначенный на схеме цифрой 1, сопротивлялся противнику в течение семи недель.
- 3) Город, обозначенный на схеме цифрой 8, был взят противником в 1240 году.
- 4) Город, обозначенный на схеме цифрой 7, был взят и разграблен в ходе похода, обозначенного в легенде схемы цифрой II.
- 5) Город, обозначенный на схеме цифрой 3, после взятия и разорения противником восстановился и продолжил оставаться столицей удельного княжества.
- 6) В сражении, обозначенном на схеме цифрой II, погиб галицкий князь Мстислав Мстиславич Удатый.

Ответ: 2, 3, 5 1

За каждое верно выбранное/невыбранное утверждение – 1 балл. Максимум за задание – 6 баллов.

15. Определите пропущенные в таблице события, даты и исторические документы, обозначенные заглавными буквами. Обратите внимание: среди предлагаемых вставок есть

«длинные» элементы.

Фрагмент законодательного акта	Название законодательного акта	Год	Событие всеобщей истории, происшедшее в тот же год
(А)	Указ о единонаследии	(Б)	Окончание войны за испанское наследство
«будет кто каким умышлением учнет мыслити на Государское здоровье злое дело, и про то его злое умышление кто известит, и по тому извету про то его злоумышление сыщется до права, что он на Царское Величество злое дело мыслит, и делать хотети: такова по сыску казнити смертию»	(В)	1649 г.	(Г)
«... Бояре, Околыничие и Думные люди, тако ж Стольники и Стряпчие, Дворяне и дети Боярские [...] познавше, что те дела местничества отеческого ничто ино, токмо гордость и любви и отсечение и Нашим Государем всяким делам повреждение приносят, вси радостными сердцы Нам Великому Государю донесли, чтобы Мы, Великий Государь Царь и Великий Князь Феодор Алексеевич указали, то виновное всякия злобы дело и браноспавидение, разоряющее любовь, то есть местничество отечественное оставить и вечно и искоренить...»	Соборное деяние об уничтожении местничества	(Д)	(Е)



Выберите варианты:

Варианты для пропусков А, Ж	Варианты для пропусков В, З	Варианты для пропусков Б, Д	Варианты для пропусков Г, Е
<p>«А христианами отказывались из волости. Ис села в село, один срок в году, за неделю до Юрьева дни осеннего и неделю после Юрьева дни осеннего. Дворы пожилые платят в полех за двор рубль, а в лесех полтина. А койрой христианин поживет за ким год, да пойдеть прочь, и он платит четверть двора, а два года поживет да пойдеть прочь, и он полдвора платит; а три годы поживет, а пойдеть прочь, и он платит три четверти двора; а четыре года поживет, и он весь двор платит»</p>	Соборное уложение	1667 г.	основание французскими исследователями колонии в устье реки Миссисипи
<p>«Которые крестьяне от сего числа пред сим за 15 лет в книгах 101-го году положены, и тем быль за теми за кем писаны, а буде те крестьяне вышли за кого иного, и в том сечь на крестьян тех или на тех, кто их держит, челобитье, и те дела не вершены, или кто сентября по 1-е число сего года будет бить челом, и тех крестьян отдавати по тем книгам, с женами и детьми и со всеми их животы, тем за кем они писаны, до сроку рождества христово 116 голубез пожитого ...»</p>	Судебник	1682 г.	заключение Вестфальского мира, завершение Тридцатилетней войны

<p>«Кто имеет сыновей и ему же, аще хоощет, единому из оных дать недвижимое, чрез духовника, тому в наследие и будет. Другие же дети обоего полу да награждены будут движимыми именни, которые должен отец их или мать разделить им при себе, как сыновьям, так и дочерям, колики их будет, по своей воли, кроме одного одного, который в недвижимых наследником будет»</p>	<p>Уложение о крестьянах</p>	<p>1714 г.</p>	<p>казнь английского короля Карла I Стюарта</p>
<p>Оубьетъ мужъ мужа, или сынови отца, либо отцю сына, или братоучаюу, либо сестриноу сынови; аще не боудеть кто мьста, то 40 гривенъ за голову; аще боудеть роусинъ, либо гридинъ, либо коупчина, либо ибелщикъ, либо мечникъ, аще изътой боудеть, либо словеникъ, то 40 гривенъ положить за нь.</p>	<p>Духовный регламент</p>	<p>1581 г.</p>	<p>Крестьянская война в Германии</p>
<p>А князь и посадник на вече суду не судить; судити им у князя на сенех, изираа в правду, по крестному целованию. А не възсудят в правду, ино Бог буди им судна на втором пришествии Христове. А тайных посулов не имать ни князю, ни посаднику.</p>	<p>Указ о таможенных делах</p>	<p>1550 г.</p>	<p>Публикация «95 тезисов» доктора богословия Мартина Лютера</p>

<p>Должна же есть Коллегия сия, и поныне впрямь правилами дополнить Регламент свой, яковых правил не требует разные разных дел случаи. Однакож делать сие должна Коллегия Духовная на базе Нашего соизволения. Определяем же в сей Духовной Коллегии быть именованным зде Членам: единому Президенту, двоим Вице-Президентам, четверем Советникам, четверем Ассессорам.</p>	<p>Указ урочных тетях</p>	<p>об 1721 г.</p>	<p>Нанковский элиит</p>
		<p>1722 г.</p>	

Ответ:

Пропуск	Нужная вставка
А)	<p>" Кто имеет сыновей и ему же, аще хо- щет, единичу из оных дать первичную, через духовную, тому в наследие и будет. Другие же дети обелопалу да неупахорона будут дворянскими именами, которые даже отцы их или мать не держали или при себе, как свидетельств так и вольно и купно их будет по своей воле, право от одного, который в наследство не наследует, а и будет."</p>
Б)	1714 г.
В)	Соборное уложение
Г)	казнь английского короля Карла I Стюарта
Д)	1682 г.
Е)	основание французскими исследователями в Азии реки Амурская.
Ж)	
З)	Судебник.

За каждое верное соотнесение - 2 балла.

Максимум за задание - 16 баллов.

16. Определите пропущенные в тексте названия, имена, годы, обозначенные буквами. При буквенных обозначениях пропусков даются пояснения о характере требуемой

вставки. Порядковые номера необходимых вставок впишите под соответствующими буквами в приведённую таблицу. Варианты вставок даны в единственном числе, именительном падеже. Обратите внимание на то, что среди вставок есть «лишние».

В (А – год) недалеко от Твери произошло сражение. Москвичи и монголы были разбиты. Московскому князю (Б – имя и отчество) удалось бежать, но его жена (В – монгольское имя) оказалась в плену. В Твери она неожиданно умерла. Стали поговаривать, что ее отравили.

(Б) и Кавказый послали к брату покойной ордынскому хану (Г – имя) и обвинили тверского князя (Д – имя и отчество) в убийстве. Хан вызвал князя к себе и устроил над ним суд. Его признали виновным в том, что он противился воле хана и бился с его войском, а также в смерти княгини. Почти месяц он терпел унижения, а потом к нему подослали убийц. Князя повалили на землю и вонзили ему в грудь нож.

(Б) стал великим князем и сидел в (Е – название города) до 1322 года, а затем (Г) хан передал ярлык (Ж – имя и прозвище), сыну (Д). В (З – год) (Ж), встретив в Орде (Б), убил его, мстя за отца, и тут же был казнён по приказу хана (Г). Но великое княжение осталось за тверскими князьями.

В Москве же на престол вышел брат (Б) (И – имя и прозвище) – человек коварный, хитрый, склонный к накопительству. Он жаждал получить ярлык, но умел ждать своего часа. Подарками хану и его окружению (И) заслужил расположение в Орде.

Варианты для пропусков А, З	Варианты для пропусков Б, В, Г, Д, Ж	Варианты для пропуска Е
1317 г.	Александр Михайлович	Владимир
1322 г.	Дмитрий Грозные Очи	Киев
1325 г.	Иван Калита	Рязань
1326 г.	Кончыка	Великий Новгород
1327 г.	Михаил Ярославич	Нижний Новгород
1328 г.	Ногай	Псков
	Тайдула	
	Узбек	
	Юрий Данилович	

Ответ:

Пропуск	Нужная вставка
А)	1317 г.
Б)	Юрий Данилович
В)	Кончыка
Г)	Узбек
Д)	Михаил Ярославич
Е)	Владимир
Ж)	Дмитрий Грозные Очи
З)	1325 г.
И)	Иван Калита

За каждое верное соответствие – 1 балл.

Максимум за задание – 10 баллов.

100

17. Установите соответствие между фрагментами исторических источников и их краткими характеристиками: к каждому фрагменту, обозначенному буквой, подберите по три соответствующие характеристики, обозначенные цифрами. Обратите внимание на то, что среди приведённых характеристик есть «лишние».

Фрагменты источников:

- А) «Скончался благоверный и великий князь русский Владимир, сын благоверного отца Всеволода, украшенный добрыми нравами, прославленный победами. Перед его именем трепетали все страны, и по всем землям прошел слух о нем, поскольку он всей душой возлюбил Бога... Поэтому и не пали имуществу своего, разлавав страждущим, и церкви воздвигая и украшая; особенно же почитал (монашеский) чин и священнический, давая им необходимое и принимая от них молитвы. Великую веру имел к Богу и родичам своим, к святым мученикам Борису и Глебу, потому и церковь прекрасную создал на Альте в имя их, где была принята кровь святого Бориса. И жалостлив был чрезмерно, и дар отот от Бога принял, так что когда входил в церковь и слышал пение, тотчас испускал слезу и молился к Владыке Христу со слезами обращения; поэтому и Бог все прошения его удовлетворял, и дела его выполнял благополучием».
- Б) «Да в нынешнем во 7117-м году, декабря в 5 день приходили к Нижнему воровские люди: нижегородцы и арзамасцы, дети боярские и черемисы всякие подьяные люди, к Нижнему приступали и Божию милостию и Пречистые Богородицы и Московских чудотворцов помощию и государевым счастьем на выльске воеводи Ондрей Семенович Олябсьев з дворяны и з детьми боярскими и з головы стрельцкими, с литвою и с немцы и с нижегородцы с посадцкими с охочими со всякими служилыми людьми воров в Нижнем всех побили и языков поимаша болши грех сог человек, а побивали их, воровских людей, на пятнадцати верстех и болши, а знамена и набаты поимали, а ушло тех воровских людей не много врознь потому, что стала ночная пора и государевы люди пришли в Нижней дал Бог здоровья».
- В) «Кольми же паче должны мы иметь попечение о целости всего нашего государства, которое с помощию божиею, ныне паче распространено, как всем видимо есть; чего для заблагоразуудили мы сей устав учинить, дабы сие было всегда в веле правительствующего государя, кому оной хитет, тому и определит наследство, и определенному, видя какое неспотребство, паки отменит, дабы дети и потомки не ввали в такую злость, как выше писано, имея силу узду на себе».

Характеристики:

- 1) Время создания источника, фрагмент которого приведён, относится к периоду правления Петра I.
- 2) Вид данного исторического источника - летопись.
- 3) Князь, о котором идёт речь в приведённом фрагменте источника, - Владимир Мономах.
- 4) Вид данного исторического источника - законодательный акт.
- 5) В источнике, фрагмент которого приведён, идёт речь об установлении четких системы и порядка престолонаследия.
- 6) Источник, фрагмент которого приведён, представляет собой отчёт должностных лиц о своих действиях.
- 7) Автор даёт князю, о котором идёт речь в приведённом фрагменте, резко отрицательную характеристику, упрекая его в участии в междоусобных войнах.

- 8) Автор даёт позитивную характеристику князю, о котором идёт речь и приведённом фрагменте, отмечая прежде всего его искреннюю набожность.
- 9) События, о которых идёт речь в приведённом фрагменте источника, происходили в период правления Василия Шуйского.
- 10) В источнике рассказывается о победе верных «официальному» монарху людей над людьми, находившимися на службе самозванца.
- 11) В источнике рассказывается о победе людей, находившихся на службе самозванца, над верными «официальному» монарху людьми.
- 12) В источнике, фрагмент которого приведён, говорится о праве монарха самостоятельно назначать себе наследника.

Ответ:

А			Б			В		
12	5	8	6	5	10	1	4	12

За каждое верное соответствие – 2 балла.

Максимум за задание – 18 баллов.

Максимум за работу – 79 баллов.

ВСЕРОССИЙСКАЯ ОЛИМПИАДА ШКОЛЬНИКОВ ИСТОРИИ.  
2024-2025 уч. г.  
ШКОЛЬНЫЙ ЭТАП. 8 КЛАСС

1. Укажите участника особого административно-территориального образования в составе русского государства, пропущенного и приведенного в ряд.

- Алексей Басманов, Афанасий Вяземский, Малюта Скуратов, ... Богдан Бельский
- Алексей Адашев
- Андрей Курбский
- Иван Фёдоров

Ответ: Богдан Бельский 1  
Максимум за задание – 1 балл.

2. Укажите год заключения мирного договора России с одним из иностранных государств, пропущенный и приведенный в ряд.

- 1618 г., 1634 г., 1667 г., ...
- 1672 г.
- 1681 г.
- 1686 г.
- 1689 г.

Ответ: 1686 г. 1  
Максимум за задание – 1 балл.

3. Какие из перечисленных дат отражают годы смены российских монархов на престоле в XVII веке?

- 1) 1633 г.
- 2) 1645 г.
- 3) 1652 г.
- 4) 1676 г.
- 5) 1682 г.
- 6) 1690 г.

Ответ: 2, 4, 5 25  
За полностью правильный ответ – 2 балла.  
За ответ с одной ошибкой – 1 балл.  
Максимум за задание – 2 балла.

4. Какие из перечисленных явлений возникли в Российском государстве XV веке?

- 1) кормления
- 2) местничество
- 3) подворное налогообложение
- 4) уплата пожилого
- 5) полки иноземного строя
- 6) старообрядчество.

Ответ: 1, 2, 4 20  
За полностью правильный ответ – 2 балла.  
За ответ с одной ошибкой – 1 балл.  
Максимум за задание – 2 балла.

ВСЕРОССИЙСКАЯ ОЛИМПИАДА ШКОЛЬНИКОВ ИСТОРИЯ.  
2024–2025 уч. г.  
ШКОЛЬНЫЙ ЭТАП. 8 КЛАСС

1. Укажите участника особого административно-территориального образования в составе русского государства, пропущенного в приведённом ряду.

- Алексей Басманов, Афанасий Вяземский, Малюта Скуратов, ... Билдан Бельский
- Алексей Адашев
- Андрей Курбский
- Иван Фёдоров

Ответ: Богдан Бельский 1  
Максимум за задание – 1 балл.

2. Укажите год заключения мирного договора Россия с одним из иностранных государств, пропущенный в приведённом ряду.

- 1618 г., 1634 г., 1667 г., ...
- 1672 г.
- 1681 г.
- 1686 г.
- 1689 г.

Ответ: 1686 г. 1  
Максимум за задание – 1 балл.

3. Какие из перечисленных дат отражают годы смены российских монархов на престоле в XVII веке?

- 1) 1633 г.
- 2) 1645 г.
- 3) 1652 г.
- 4) 1676 г.
- 5) 1682 г.
- 6) 1690 г.

Ответ: 2, 4, 5 2Б  
За полностью правильный ответ – 2 балла.  
За ответ с одной ошибкой – 1 балл.  
Максимум за задание – 2 балла.

4. Какие из перечисленных явлений возникли в Российском государстве XV веке?

- 1) кормление
- 2) местничество
- 3) подворное налогообложение
- 4) уплата пожлого
- 5) полки иноземного строя
- 6) старообрядчество.

Ответ: 1, 2, 4 2Б  
За полностью правильный ответ – 2 балла.  
За ответ с одной ошибкой – 1 балл.  
Максимум за задание – 2 балла.



5. Какие из приведённых событий произошли в 1492 году?

- 1) битва на реке Шелони
- 2) женитьба Ивана III на Софье Палеолог
- 3) захват Константинополя турками-османами
- 4) открытие Америки Христофором Колумбом
- 5) переход с мартовского года на сентябрьский в Московском государстве
- 6) прекращение существования Гранадского эмирата на территории Пиренейского полуострова.

Ответ: 1, 2, 6

За полностью правильный ответ – 2 балла.

За ответ с одной ошибкой – 1 балл.

Максимум за задание – 2 балла.

6. Расположите приведённые названия городов в хронологической последовательности их присоединения к Московскому княжеству/государству.

- 1) Коломна
- 2) Нижний Новгород
- 3) Псков
- 4) Рязань
- 5) Тверь
- 6) Ярославль

Ответ:

1	2	3	4	5	6
Коломна	Нижний-Новгород	Ярославль	Тверь	Псков	Рязань

За каждую верную пару – 1 балл.

Максимум за задание – 6 баллов.

7. Установите соответствие между годами и событиями всеобщей истории, произошедшими в эти годы.

Год	Событие
А) 1204 г.	1) битва при Босворте, окончание Войны Алой и Белой розы в Англии
Б) 1302 г.	2) взятие Константинополя крестоносцами
В) 1485 г.	3) окончание Столетней войны
Г) 1517 г.	4) опубликование «95 тезисов» Мартина Лютера
Д) 1683 г.	5) осада Вены войсками Османской империи
	6) создание Генеральных штатов во Франции

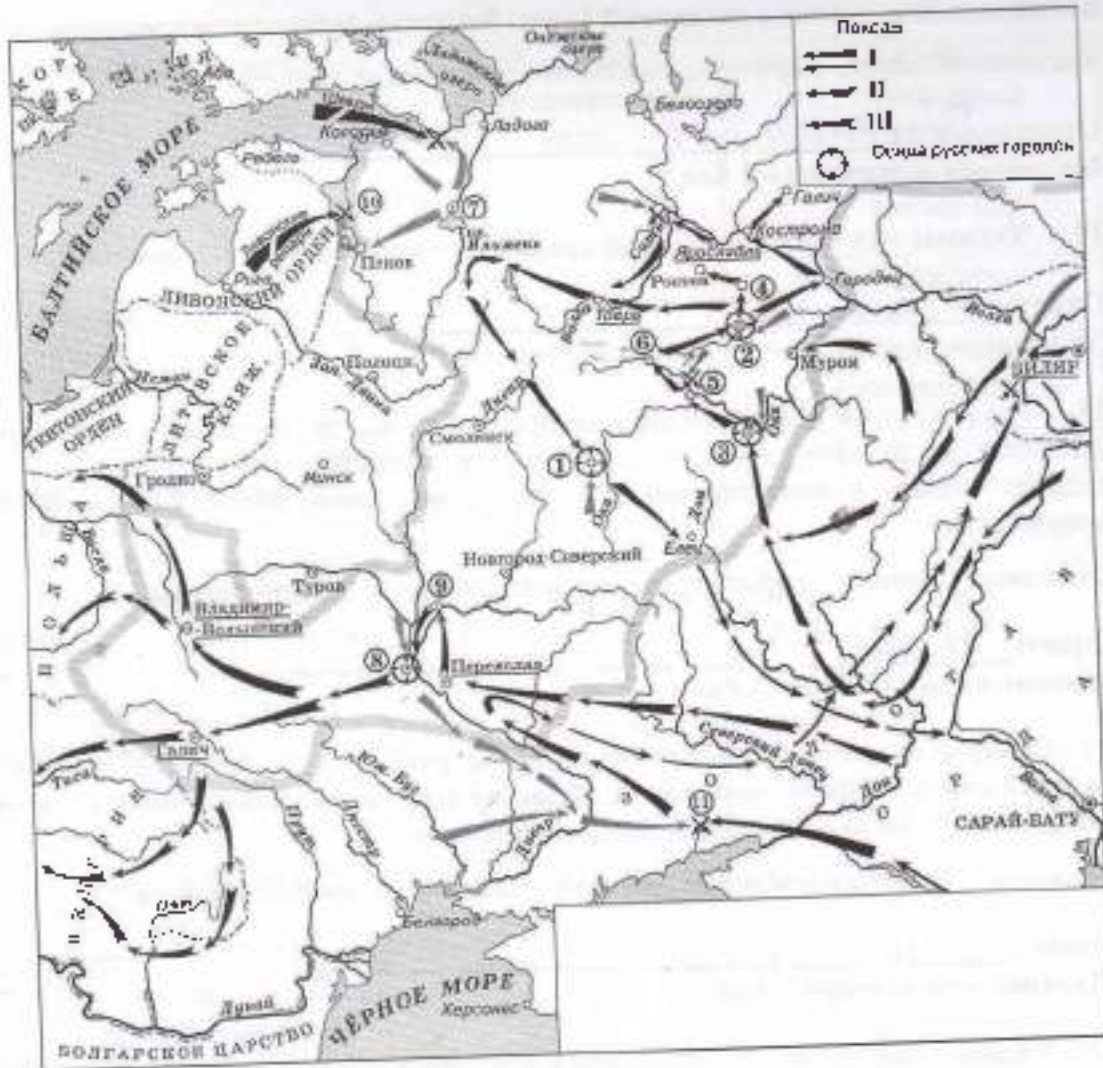
Ответ:

А	Б	В	Г	Д
2	5	1	4	3

За каждую верную пару – 1 балл.

Максимум за задание – 5 баллов.

8. Установите соответствие между названиями произведений средневековой русской литературы и именами их авторов.



Произведения	Авторы
А) «Благоухающим царём правительницей землемерне»	1) Авраамий Палицын
Б) «Житие преподобного Сергия»	2) Феофанит Премудрый
В) «Сказание о Малмет-салтане»	3) Ермолай-Еразм
Г) «Сказание о оселе Гривянокки Сергиева монастыря от пняков и дигвы и о бывшихном в России мятежах»	4) Иван Пересветов
Д) «Слово о законе и благодеянии»	5) митрополит Иларион
	6) протопоп Аввакум

Ответ:

А	Б	В	Г	Д
1	2	3	4	5

За каждую верную пару – 1 балл.  
 Минимум за задание – 5 баллов.

9–14. Внимательно рассмотрите схему и выполните задания.

9. Назовите город, обозначенный на схеме цифрой 2. Название следует записать в

именительном падеже с заглавной буквы без каких-либо знаков препинания.

*Внимание! Ответы с орфографическими ошибками не засчитываются.*

Ответ: Владимир 1

Максимум за задание – 1 балл.

10. Укажите год, когда произошло сражение, обозначенное на схеме цифрой 10.

Ответ: 1242 1

Максимум за задание – 1 балл.

11. Укажите имя военачальника и правителя, осуществлявшего общее руководство походами на русские земли, обозначенными в легенде схемы цифрами II и III. Имя следует указать в именительном падеже с заглавной буквы без каких-либо знаков препинания.

*Внимание! Ответы с орфографическими ошибками не засчитываются.*

Ответ: Батый 1

Максимум за задание – 1 балл.

12. Найдите на схеме и выпишите название реки, в ходе сражения на которой погиб великий князь Юрий Всеволодович. Название следует указать в именительном падеже с заглавной буквы без каких-либо знаков препинания.

*Внимание! Ответы с орфографическими ошибками не засчитываются.*

Ответ: Сеть 1

Максимум за задание – 1 балл.

13. Укажите год, когда состоялся поход, обозначенный в легенде схемы цифрой 1.

Ответ: 1123 1

Максимум за задание – 1 балл.

14. Выберите верные утверждения.

- 1) В результате похода, обозначенного в легенде схемы цифрой 1, был разгромлен Хазарский каганат.
- 2) Город, обозначенный на схеме цифрой 1, сопротивлялся противнику в течение семи недель.
- 3) Город, обозначенный на схеме цифрой 8, был взят противником в 1240 году.
- 4) Город, обозначенный на схеме цифрой 7, был взят и разграблен в ходе похода, обозначенного в легенде схемы цифрой II.
- 5) Город, обозначенный на схеме цифрой 3, после взятия и разорения противником восстановился и продолжил оставаться столицей удельного княжества.
- 6) В сражении, обозначенном на схеме цифрой 11, погиб галицкий князь Мстислав Мстиславич Удатный.

15  
Ответ: 4, 3

За каждое верно выбранное/невыбранное утверждение – 1 балл. Максимум за задание – 6 баллов.

15. Определите пропущенные в таблице события, даты и исторические документы, обозначенные заглавными буквами. Обратите внимание, среди предлагаемых вариантов есть

«лишние» элементы.

Фрагмент законодательного акта	Название законодательного акта	Год	Событие всеобщей истории, происшедшее в тот же год
(А)	Указ о едипонаследии	(Б)	Окончание войны за испанское наследство
«Будет кто каким умышлением учнет мыслити на Государское здоровье злое дело, и про то злое злое умышление кто известит, и по тому известу про то его злосумышление сыщется до прима, что он на Царское Величество злое дело мыслит, и делать хотел: таково по сыску казнити смертию»	(В)	1649 г.	(Г)
«... Бояре, Окольные и Думные люди, тако ж Стольники и Стрельцы, Дворяне и дети Боярские [...] познавше, что те дела местничества отеческого личто ино, токмо гордость и любия и отосечение и Нашим Государским всяким делам повреждение приносят, вси радостными сердцы Нам Великому Государю донесли, чтобы Мы, Великий Государь Царь и Великий Князь Феодор Алексеевич указали, то виновитое всякия злобы дело и братоненавидение, разоряющее чюбовь, то есть местничество отечественное истадить и вечно и искоренить...»	Соборное деяние об уничтожении местничества	(Д)	(Е)

## Выберите варианты:

Варианты для пропусков А, Ж	Варианты для пропусков В, З	Варианты для пропусков Б, Д	Варианты для пропусков Г, Е
<p>«А Христианом отказывались из волости, не села и село, один срок в году, за неделю до Юрьева дни осеннего и неделю после Юрьева дни осеннего. Дворы пожилые платят в полех за двор рубль, а в лесех пштына. А каковой христианин проживет за ким год, да пойдет прочь, и он платит четверть двора, а два года проживет да пойдет прочь, и он полдвора платит; а три годы проживет, а пойдет прочь, и он платит три четверти двора; а четыре года проживет, и он весь двор платит»</p>	Соборное уложение	1667 г.	основание французскими исследователями колонии в устье реки Миссисипи
<p>«Каковы крестьяне от сего числа пред сим за 15 лет в книгах 161-го году положены, и тем бысть за тем, за кем писаны; а буде те крестьяне вышли за кого иного, и в том есть ли крестьян тех или на тех, кто их держит, челобитье, и те дела не вершены, или кто сентября по 1-е число сего года будет быть челом, и тех крестьян отдавати по тем книгам, с женами и детьми и со всеми их животы, тем, за кем они писаны, до сроку рождества христово 116 году без пожитого ...»</p>	Судебник	1682 г.	заключение Вестфальского мира, завершение Тридцатилетней войны

<p>«Кто имеет сыновей и ему жене холмет, единому из оных дать недвижимое, чрез духовника, тому в наследие и будет. Другие же дети обоего полу да награждены будут движимыми именами, которые должен отец их или мать разделить им при себе, как сыновьям, так и дочерям, колики их будет, по своей воли, кроме одного одного, который в недвижимых наследником будет»</p>	<p>Уложение крестьян</p>	<p>о 1714 г.</p>	<p>казнь английского короля Карла I Стокорта</p>
<p>Оубьеть мужь мужа, то мьстить братю брата, или сынови отца, либо отцю сына, или братючалоу, либо сестрицу сынови, аще не боудеть кто мьстить, то 40 гривень за голову; аще боудеть роусить, либо гридинь, либо коупчина, либо ябетникъ, либо мечникъ, аще изъгон боудеть, либо слонениць, то 40 гривень положи ти за нь.</p>	<p>Духовный регламент</p>	<p>1581 г.</p>	<p>Крестьянская война в Германии</p>
<p>А князи и посадник на вчисуду не судить; судити им у князя на сенех, взираа в правду, по крестному целованию. А не въсудят в правду, ино Бог буди им судия на втором пришествии Христове. А тайных посулов не имать ни князю, ни посаднику.</p>	<p>Указ заповедных дегач</p>	<p>о 1550 г.</p>	<p>Публикация «95 тезисов» доктора богословия Мартина Лютера</p>

<p>Должна же есть Коллегия сия и          новыми истреблять правилами          дополнять Регламент свой.          яковых правил востребуют          разные разных дел случаи.          Однакож делать сие должна          Коллегия Духовная на базе          Нашего соизволения.          Определяем же в сей          Духовной Коллегии быть          именованным иде Членам:          единому Президенту, двоим          Вице-Президентам, четырем          Советникам, четырем          Ассессорам.</p>	<p>Указ          урочных          летах</p>	<p>об          1721 г.</p>	<p>Найтский эдикт</p>
		<p>1722 г.</p>	

Ответ:

Пропуск	Нужная вставка
А)	<p>« Кто имеет сыновей и ему же, аще хошет, един-          ому из оных дать недвижимое, чрез духовную, кому в          наше дни и будет. Другие же дети об оном или за каражди          буду: движимыми имениями, которые должны отцу их или матери раз-          делити или при себе, как сыновьями, так и дочерям, коимно          их будет, по воле воле, кроме оного одного, который в недви-          жимах наследником будет. »</p>
Б)	1714
В)	соборное уложение
Г)	казней австрийского короля Карла I Гюрга
Д)	1692
Е)	основание французскими и испанскими колони в числе рек
Ж)	первый вариант.
З)	Судейник.

За каждое верное сопоставление – 2 балла.

Максимум за задание – 16 баллов.

16. Определите пропущенные в тексте названия, имена, топы, обозначенные буквами.  
 При буквенных обозначениях пропусков даются пояснения о характере требуемой

148

вставки. Порядковые номера необходимых вставок впишите под соответствующими буквами в приведённую таблицу. Варианты вставок даны в единственном числе, именительном падеже. Обратите внимание на то, что среди вставок есть «лишние».

В (А – год) недалеко от Твери произошло сражение. Москвичи и монголы были разбиты. Московскому князю (Б – имя и отчество) удалось бежать, но его жена (В – монгольское имя) оказалась в плену. В Твери она неожиданно умерла. Стали поговаривать, что ее отравили.

(Г) и Кавгадий послали к брату покойной ордынскому хану (Д – имя) и обвинили тверского князя (Е – имя и отчество) в убийстве. Хан вызвал князя к себе и устроил над ним суд. Его признали виновным в том, что он противился воле хана и бился с его войском, а также в смерти княгини. Почти месяц он терпел унижения, а потом к нему подослали убийц. Князя повалили на землю и вонзили ему в грудь нож.

(Б) стал великим князем и сидел в (Е – название города) до 1322 года, а затем (Г) хан передал ярлык (Ж – имя и прозвище), сыну (Д). В (З – год) (Ж), встретив в Орде (Б), убил его, мстя за отца, и тут же был казнён по приказу хана (Г). Но великое княжение осталось за тверскими князьями.

В Москве же на престол взошёл брат (Б) (И – имя и прозвище) – человек коварный, хитрый, склонный к законничеству. Он жаждал получить ярлык, но умел ждать своего часа. Подарками хану и его окружению (И) заслужил расположение в Орде.

Варианты для пропусков А, З	Варианты для пропусков Б, В, Г, Д, Ж	Варианты для пропуска Е
1317 г.	Александр Михайлович	Владимир
1322 г.	Дмитрий Грозные Очи	Киев
1325 г.	Иван Калита	Рязань
1326 г.	Кончак	Великий Новгород
1327 г.	Михаил Ярославич	Нижний Новгород
1328 г.	Ногай	Пекин
	Тайдул	
	Узбек	
	Юрий Данилович	

Ответ:

Пропуск	Нужная вставка
А)	1317
Б)	Юрий Данилович
В)	Кончак
Г)	Узбек
Д)	Михаил Ярославич
Е)	Владимир
Ж)	Дмитрий Грозные Очи
З)	1325
И)	Иван Калита

За каждое верное соотнесение – 1 балл.  
Максимум за задание – 10 баллов.

100



17. Установите соответствие между фрагментами исторических источников и их краткими характеристиками: к каждому фрагменту, обозначенному буквой, выберите по три соответствующие характеристики, обозначенные цифрами. Обратите внимание на то, что среди приведённых характеристик есть «лишние».

#### Фрагменты источников:

- А) «Скончался благоверный и великий князь русский Владимир, сын благоверного отца Всеслоода, украшенный добрыми нравами, прославленный победами. Перед его именем трепетали все страны, и по всем землям прошел слух о нем, и жилось ему всей душой возлюбил Бога... Потому и не щадил имущества своего, раздавая страждущим, и церкви воздвигал и украшая: особенно же почитал (монашеский) чин и священнический, давая им необходимое и принимая от них молитвы. Великую веру имеет к Богу и родичам своим, к святым мученикам Борису и Глебу, потому и церковь прекрасную создал на Аляге в имя их, где была пролита кровь святого Бориса. И жалостлив был чрезмерно, и дар этот от Бога принят, так что когда входил в церковь и слышал пение, тотчас выпускал слезу и молился к Владыке Христу со слезами, обращая: поэтому и Бог все прощенья его удовлетворял, и лета его наполнил благополучием».
- Б) «Да в нынешнем во 7117-м году, декабря в 5 день приходили к Нижнему воровские люди: нижегородцы и арзамасцы, леги боярские и черемиса и всякие льдьяные люди, к Нижнему приступали и Божию милостию и Пречистые Божородицы и Московских чудотворцов помощию и государеным счастьем на вытаске нововода Андрей Семенович Олябьев з шворяны и з детьми боярскими и з головы стрелецкими, с литвою и с немцы и с нижегородцы и посадскими с охочими со всякими служилыми людьми воров в Нижнем всех побили и языков поимали болши трёх сот человек, а побивали их, вяржанских людей, на пятнадцати верстах и болши, а знамена и набыты поимали, а ушло тех воровских людей не много врознь потому, что стала почная зора и государовы люди пришли в Нижней дал Бог здоровья».
- В) «Кольми же паче должны мы иметь киченение о целости всего нашего государства, которое с помощью божиею, ныне паче распространено, как всем видимо есть; чего для заблаговреудили мы сей устав учинить, дабы сие было всегда и ныне правительствующего государя, кому оной хочет, тому и определит наследство, и определенному, види какие непотребство, паки отменил, дабы дети и потомки не впади в такую злость, как выше писано, имея сию узду на себе».

#### Характеристики:

- 1) Время создания источника, фрагмент которого приведён, относится к периоду правления Петра I.
- 2) Вид данного исторического источника – летопись.
- 3) Князь, о котором идёт речь в приведённом фрагменте источника, – Владимир Мономах.
- 4) Вид данного исторического источника – законодательный акт.
- 5) В источнике, фрагмент которого приведён, идёт речь об установлении четких системы и порядка престолонаследия.
- 6) Источник, фрагмент которого приведён, представляет собой отчёт должностных лиц о своих действиях.
- 7) Автор даёт князю, о котором идёт речь в приведённом фрагменте, резко отрицательную характеристику, упрекая его в участии в междоусобных войнах.

- 8) Автор даёт позитивную характеристику князю, о котором идёт речь в приведённом фрагменте, отмечая прежде всего его искреннюю набожность.
- 9) События, о которых идёт речь в приведённом фрагменте источника, происходили в период правления Василия Шуйского.
- 10) В источнике рассказывается о победе верных «официальному» монарху людей над людьми, находившимися на службе самозванца.
- 11) В источнике рассказывается о победе людей, находившихся на службе самозванца, над верными «официальному» монарху людьми.
- 12) В источнике, фрагмент которого приведён, говорится о праве монарха самостоятельно назначать себе наследника.

Ответ:

А			Б			В		
12	3	8	6	9	10	11	4	12

За каждое верное соотнесение – 2 балла.

148 Максимум за задание – 18 баллов.

Максимум за работу – 79 баллов.

ВСЕРОССИЙСКАЯ ОЛИМПИАДА ШКОЛЬНИКОВ ИСТОРИЯ.  
2024-2025 уч. г.  
ШКОЛЬНЫЙ ЭТАП 9 КЛАСС

1. Укажите государственного деятеля, фамилия которого пропущена в приведённом ряду.  
И.М. Висковатый, А.Л. Ордин-Нащокин, А.С. Матвеев, ... В.В.

Голицын  
Б.И. Моркнов Н.И.  
Одоевский Ф.М.  
Ртвицев

16 Ответ: ГОЛИЦЫН

Максимум за задание – 1 балл.

2. Укажите год, которым следует заполнить пропуск в приведённом ряду. 1700 г., 1741 г., 1788 г., ...  
1805 г.  
1806 г.  
1807 г.  
1808 г.

1 Ответ: 1808

Максимум за задание – 1 балл.

3. Какие из перечисленных дат отражают годы смены российских монархов на престоле в эпоху дворцовых переворотов?

- 1) 1682 г.
- 2) 1730 г.
- 3) 1735 г.
- 4) 1741 г.
- 5) 1761 г.
- 6) 1825 г.

2 Ответ: 2, 5, 4

За полностью правильный ответ – 2 балла.

За ответ с одной ошибкой – 1 балл.

Максимум за задание – 2 балла.

4. Какие из перечисленных явлений возникли в Российском государстве XVII веке?

- 1) кормления
- 2) местничество
- 3) подворное налогообложение
- 4) уплата подушного
- 5) полки иноземного строя
- 6) старобоярчество.

08 Ответ: \_\_\_\_\_

За полностью правильный ответ – 2 балла.

За ответ с одной ошибкой – 1 балл.

Максимум за задание – 2 балла.

5. Какие из приведённых событий произошли в 1598 году?

- 1) введение патриаршества в России
- 2) заключение Гамбургского мирного договора между Россией и Швецией
- 3) избрание на царство Бориса Годунова

- 4) издание во Франции Нантского эдикта  
 5) окончание правления Елизаветы I в Англии  
 6) окончательное завоевание Сибирского ханства Московским государством

25 Ответ: 3, 4, 6

За полностью правильный ответ – 2 балла.

За ответ с одной ошибкой – 1 балл.

Максимум за задание – 2 балла.

6. Расположите приведённые названия городов в хронологической последовательности взятия их монголами в ходе нашествия Батые.

- 1) Владимир  
 2) Киев  
 3) Переяславль-Южный  
 4) Рязань  
 5) Торжок  
 6) Чернигов

Ответ:

1	2	3	4	5	6
4	1	5	3	6	2

65 За каждую верную пару – 1 балл.

Максимум за задание – 6 баллов.

7. Установите соответствие между именами художников и названиями их произведений, принадлежащих их кисти

Художники	Произведения
А) В.Д. Боровиковский	1) «Пётр I на смертном ложе»
Б) Д.Г. Левицкий	2) «Портрет А.П. Струйской»
В) А.П. Лосенко	3) «Владимир и Роксана»
Г) И.Н. Никитин	4) «Портрет неизвестной крестьянки в русском костюме»
Д) Ф.С. Рокотов	5) «Екатерина II – законодательница в храме богини Правосудия»
	6) «Портрет М.И. Лопухиной»

Ответ:

А	Б	В	Г	Д
6	5	3	1	2

55 За каждую верную пару – 1 балл.

Максимум за задание – 5 баллов.

8–13. Внимательно рассмотрите схему и выполните задания.



Укажите, как назывался город, обозначенный на схеме цифрой 3, во время событий, отраженных на схеме. Название следует записать в именительном падеже с заглавной буквы без каких-либо знаков препинания.

15 *Внимание! Ответы с орфографическими ошибками не засчитываются.*

Ответ: Севастополь

Максимум за задание – 1 балл.

8. Укажите год, когда произошло сражение, обозначенное на схеме цифрой 4.

15 Ответ: 1791

Максимум за задание – 1 балл.

9. Укажите имя и номер российского монарха, в чье правление шла война, события которой обозначены на схеме. Ответ следует записать в формате: имя императора в именительном падеже с заглавной буквы порядковый номер императора римской цифрой без знаков препинания (например: Павел I).

*Внимание! Ответы с орфографическими ошибками не засчитываются.*

15 Ответ: Екатерина II

Максимум за задание – 1 балл.

10. Укажите название крепости, которая обозначена на схеме цифрой 1. *Внимание!*

*Ответы с орфографическими ошибками не засчитываются.* Ответ: Измаил

Максимум за задание – 1 балл.

11. Укажите год, когда в состав Российской империи вошла территория, обозначенная на схеме цифрой I.

15 Ответ: 1783

Максимум за задание – 1 балл.

12. Выберите верные утверждения.

- 1) Отраженная на схеме война стала первой войной с Османской империей для российского монарха, к правлению которого относятся обозначенные на схеме военные действия

- 2) Русскими войсками, взявшими крепость, обозначенную на схеме цифрой 2, руководил Г.А. Пётржицкий.
- 3) На схеме нанесено название города, впервые вошедшего в состав России при Петре I в соответствии с международным договором.
- 4) Командование русским флотом в сражении, обозначенном на схеме цифрой 4, осуществлял А.Г. Орлов.
- 5) Карта отражает первый в XVIII веке военный конфликт между странами, военные действия которых на ней изображены.
- 6) Город, обозначенный на схеме цифрой 3, был именован в период войны, события которой отражены на схеме.
- 7) На схеме обозначена река, название которой стало частью титула русского полководца, принимавшего участие в событиях, обозначенных на схеме.

Ответ: 2, 3, 4

За каждое верно выбранное/невыбранное утверждение – 1 балл. Максимум за задание – 7 баллов.

13. Определите пропущенные в таблице даты, события и исторические документы, обозначенные заглавными буквами. Обратите внимание, что среди предлагаемых вставок есть «лишние» элементы.

Фрагмент законодательного акта	Название законодательного акта	Год	Событие всеобщей истории, происшедшее в тот же год
(А)	Указ о единонаследии	(Б)	окончание войны за испанское наследство
«Будет кто каким умышлением учнет мыслити на Государское здоровье злое дело, и про то злое умышление кто извести, и по тому извету дрото него злое умышление същется до прями, что он на Царское Величество злое дело мыслит, и делати хотел, и таково по съскуказати смертию».	(В)	1649 г.	(Г)

<p>«1. Дабы губернии, или наместничества, порядочно могла быть управляема, полагается в одной из трех до четырехсот тысяч душ. 2. Для управления же губернии или наместничества полагается государев наместник или генерал-губернатор. 3. В губернии или наместничестве учреждается правитель наместничества или губернатор. 4. В губернии учреждается правление наместническое или губернское...».</p>	<p>«Учреждения для управления губерний Всероссийской империи»</p>	<p>(Д)</p>	<p>(Е)</p>
---	---	------------	------------

Выберите варианты:

Варианты для пропусков А, Ж	Варианты для пропусков В, З	Варианты для пропусков Б, Д	Варианты для пропусков Г, Е
<p>«Кольми же паче должны мы иметь попечение о целости всего нашего государства, которое с помощию божиею, ныне паче распространено, как всем видимо есть; чего для заблуждения мы сей устав учинили, дабы сие было всегда в воле правительствующего государя, к кому оной хочет, тому определит наследию, и определенному, ни на какое непотребство, пачи отменит, дабы дети и потомки не впаши такую злость, как выше писано, имея сию уму на себе».</p>	<p>Акт в порядке престолонаследия</p>	<p>1714 г.</p>	<p>начало войны за независимость североамериканских колоний</p>

<p>Кто имеет сыновей и ему же, аще хочет, единому из оных дать недвижимое, чрез духовную, тому в наследие и будет. Другие же дети обоготочену да названы будут движимыми имени, которые живех отец их или мать раздаст им при себе, как сыновьям, так и дочерям, колико их будет, по своей воли, кроме одного одного, который в недвижимых наследником будет».</p>	<p>Устав о наследии престола</p>	<p>1775 г.</p>	<p>законение Вестфальского мира, завершение Тридцатилетней войны</p>
<p>«Общим нашим добровольным взаимным согласием, по зрелом рассуждении и с спокойным духом доставили сей акт нам общий, которым по любви к Отечеству избираем наследником, по праву естественному, после смерти моей сына нашего большого, по нем все его мужское поколение. По прелетении всего мужского поколения наследство переходит в род второго моего сына, где и следовать тому, что сказано о возведении старшего моего сына, и так далее, если бы не у меня сыновей было; это и есть первоначалом».</p>	<p>Русская правда</p>	<p>1785 г.</p>	<p>казнь английского короля Карла I Стюарта</p>
<p>Оубьеть мужь мужа, го мьстить брату брата, или сынови отца, либо отцу сына, или брату чадю, либо сестриноу сынови; аще не боудеть кто мьстя, то 40 гривень за голову; аще боудеть роусинь, либо гридинь, либо коупчина, либо ябе пиркь, либо мечникь, аще ичт он боудеть, либо слоненянь, то 40 гривень пкложити за нь.</p>	<p>Соборное уложение</p>	<p>1722</p>	<p>Принятие «Билля о правах»</p>



<p>А князь и посадник на вече судуно судиты; судити им у князя на сенех, взираа в правду, по крестному целованику. А не вьсудят в правду, ино Бог буди им судиа на втором пришествии Христове. А тайных посулов не имать ни князю, ни посаднику.</p>	<p>Судебник 1497 г.</p>	<p>1649</p>	<p>Принятие «Великой ремонстрации»</p>
<p>А Христианом отказывалися из волости, ис села в село, один срок в году, за неделю до Юрьева дни осеннего и неделю после Юрьева дни осеннего. Дворы пожилые платят в полях за двор рубль, а в лесах полтина. А которой христианин поживет за кем год, да пойдет прочь, и он платит четверть двора, а два года поживет да поидеть прочь, и он полдвора платит; а три толы поживет, а поидет прочь, и он платит три четверти двора; а четыре года поживет, и он весь двор платит.</p>	<p>Судебник 1550 г.</p>	<p>1550</p>	<p>Учреждение парламента в Англии</p>
		<p>1497</p>	

Ответ:

Пропуск	Нужная вставка
А.	
Б.	1714 г
В.	Соборное уложение
Г.	казнь английского короля <u>Карла I</u> <u>Стирарда</u>
Д.	1745 г
Е.	на начало войны за независимость северных американин <sup>США</sup> <sup>Колонии</sup>
Ж.	

125

3.	Акт о порядке престолонаследия

За каждое верное соотнесение – 2 балла.

Максимум за задание – 16 баллов.

14. Установите соответствие между фрагментами исторических источников и их краткими характеристиками: к каждому фрагменту, обозначенному буквой, подберите по три соответствующие характеристики, обозначенные цифрами. Обратите внимание, что среди приведённых характеристик есть «лишние».

**Фрагменты источников:**

- А) «Никогда не забуду одного вечера, проведённого мною, 18-летним юношей, у внучатого брата моего Михаила Михайловича Нарыпкина [...]. На этом вечере были Рылеев, кн. Оболенский, Пущин и некоторые другие, впоследствии сосланные в Сибирь. Рылеев читал свои патриотические "Думы", а все свободно говорили о необходимости покончить с этим правительством. Этот вечер произвёл на меня самое сильное впечатление; и я на другой же день утром сообщил всё слышанное Ивану Киреевскому, и с ним вместе мы отправились к Дмитрию Веневитинову [...]. Много мы в этот день говорили о политике и о том, что необходимо произвести в России перемену в образе правления».
- Б) «Скончался благоверный и великий князь русский Владимир, сын благоверного отца Всеволода, украшенный добрыми нравами, прославленный победами. Перед его именем трепетали все страны, и по всем землям прошёл слух о нём, поскольку он всей душой возлюбил Бога... Потому и не щадил имущества своего, раздавая страждущим, и церкви воздвигая и украшая; особенно же почитал монашеский чин и священнический, давая им необходимое и принимая от них молитвы. Великую веру имел к Богу и родичам своим, к святым мученикам Борису и Глебу, потому и церковь прекрасную создал на Аляте в имя их, где была пролита кровь святого Бориса. И жалостлив был чрезмерно, и дар этот от Бога принял, так что когда входил в церковь и слышал пение, тотчас испускал слезу и мольбы к Владыке Христу со слезами обращал: поэтому и Бог все прощенья его удовлетворял, и лета его наполнил благополучием».
- В) «Мы читаем в прекрасной душе Александра сильное желание утвердить в России действие закона... Оставив прежние формы, но двигая, так сказать, оные постоянным духом ревности к общему добру, он скорее мог бы достигнуть сей цели и затруднил бы для наследников исполнение от законного порядка. Гораздо легче отменить новое, нежели старое: гораздо легче придать важности Сенату, нежели дать важность нынешнему Совету в глазах будущего преемника Александрова; новости ведут к новостям и благоприятствуют необузданностям привилегии. Скажем ли, повторим ли, что одна из главных причин неудовольствия россиян на нынешнее правительство есть излишняя любовь его к государственным преобразованиям, которые потрясают основу империи, и коих благотворность остаётся доселе сомнительной».
- Г) «Да в нынешнем во 7117-м году, декабря в 5 день приходили к Нижнему новорские люди: нижегородцы и арзамасцы, дети боярские и татаровья черемиса и всякие видные люди, к Нижнему приступали и Божию милостию и Пречистые Богородицы и Московских чудотворцов поможением государевым счастьем на вылазке

восвода Андрей Семенович Олябьев дворяны и з детьми боярскими и з головы стрелецкими, с литвою и с немцы и с нижегородцы с посадскими с охотными со всякими служилыми людьми воров в Нижнем всех любил и языков подматв болши трех сот человек, а побинали их, воронских людей, на пятнадцать верстех и болши, а знамена и набаты принимали, а ушло тех воронских людей не мною врознь потому, что стала почная пира и государены люди приехали в Нижней дал Бог здорковы».

Д) «Ныне, с помощью Вышнего, положили мы совершить сие образование на следующих главных началах: I. В порядке государственных установлений Совет составляет советские, в коем все части управления в главных их отношениях к законодательству соображаются и через него восходит к верховной императорской власти II. По сему все законы, уставы и учреждения в первообразных их начертаниях предлагаются и рассматриваются в Государственном совете и потом действием державной власти поступают к предназначенному им совершению. III. Никакой закон, устав и учреждение не исходит из Совета и не может иметь своего совершения без утверждения державной власти...».

**Характеристики:**

- 1) Автор источника подчеркивает, что в обществе существует недовольство частыми преобразованиями действующего правителя государства.
- 2) В источнике подчеркивается законодательный характер органа государственной власти, создававшегося в соответствии с ним.
- 3) В источнике, фрагмент которого приведен, упомянуты видные деятели декабристского движения.
- 4) Автор разделяет идеи о необходимости преобразований, услышанные им во время события, которое описано в приведенном фрагменте источника.
- 5) События, о которых идет речь в приведенном фрагменте источника, происходили в период правления Василия Шуйского.
- 6) Автор негативно относится к идеям о необходимости преобразований, услышанным им во время события, которое описано в приведенном фрагменте источника.
- 7) Автор источника, фрагмент которого приведен, придерживается консервативных политических взглядов, не приветствует необоснованных, на его взгляд, нововведений.
- 8) Источник, фрагмент которого приведен, представляет собой отчет должностных лиц о своих действиях.
- 9) Автор дает князю, о котором идет речь в приведенном фрагменте, резко отрицательную характеристику, упрекая его в участии в междоусобных войнах.
- 10) В источнике рассказывается о победе верных «официальному» монарху людей над людьми, находившимися на службе самозванца.
- 11) В источнике подчеркивается законосовещательный характер органа государственной власти, создававшегося в соответствии с ним.
- 12) Автор дает позитивную характеристику князю, о котором идет речь в приведенном фрагменте, отмечая прежде всего его искреннюю набожность.
- 13) Вид данного исторического источника – публицистика (политическое сочинение).
- 14) Вид данного исторического источника – законодательный акт.
- 15) Князь, о котором идет речь в приведенном фрагменте источника, - Владимир

посыла Андрей Семенович Олябьев дворяны и з детми боярскими и з толвы стрельцами. с литвою и с немцы и с нижегородцы с посадскими с охотыми со всякими служилыми людьми воров в Нижнем всех побили и языкю помати больш грех сот человек, а пубивали их, воровских людей, на пятнацати верстех в болни, и знамена и избаты помати, и ушло тех воровских людей не много врозь потому, что стала ночная пора и государевы люди пришли в Нижней дат Бог здоровы».

Д) «Ныне, с помощью Вышнего, положили мы совершить сие образование на следующих главных началах: I. В порядке государственных установлений Совет составляет основное, в коем все власти управления в главных их отношениях к законодательству соотносятся и через него восходят к верховной императорской власти. II. По сему все законы, уставы и учреждения в первообразных их начертаниях представляются и рассматриваются в Государственном совете и потом действием державной власти поступают к предназначенному им совершению. III. Никакой закон, устав и учреждение не исходит из Совета и не может иметь своего совершенства без утверждения державной власти...»

**Характеристики:**

- 1) Автор источника подчёркивает, что в обществе существует недовольство частыми преобразованиями действующего правительства государства.
- 2) В источнике подчёркивается законодательный характер органа государственной власти, создававшегося в соответствии с ним.
- 3) В источнике фрагмент которого приведён, упомянуты видные деятели декабристского движения.
- 4) Автор разделяет идеи о необходимости преобразований, услышанные им во время события, которое описано в приведённом фрагменте источника.
- 5) События, о которых идёт речь в приведённом фрагменте источника, происходили в период правления Василия Шуйского.
- 6) Автор негативно относится к идеям о необходимости преобразований, услышанным им во время события, которое описано в приведённом фрагменте источника.
- 7) Автор источника фрагмент которого приведён, придерживается консервативных политических взглядов, не принимает необоснованных, на его взгляд, нововведений.
- 8) Источник, фрагмент которого приведён, представляет собой отчёт должностных лиц о своих действиях.
- 9) Автор даёт князю, о котором идёт речь в приведённом фрагменте, резко отрицательную характеристику, упрекая его в участии в междоусобных войнах.
- 10) В источнике рассказывается о гибели верных «официальному» монарху людей над людьми, находившимися на службе самозванца.
- 11) В источнике подчёркивается законодательный характер органа государственной власти, создававшегося в соответствии с ним.
- 12) Автор даёт позитивную характеристику князю, о котором идёт речь в приведённом фрагменте, отмечая прежде всего его искреннюю набожность.
- 13) Вид данного исторического источника – публицистика (политическое сочинение).
- 14) Вид данного исторического источника – законодательный акт.
- 15) Князь, о котором идёт речь в приведённом фрагменте источника, – Владимир

Мономах.

- 16) События, о которых идет речь в приведенном фрагменте источника, происходили в период правления Бориса Годунова.
- 17) Вид данного исторического источника – летопись.
- 18) В источнике рассказывается о победе людей, находившихся на службе самозванца над верными «официальному» монарху людьми.
- 19) Источник, фрагмент которого приведен, был обнаружен в 1810 году.
- 20) Приведенный текст можно идентифицировать как фрагмент источника личного происхождения.

Ответ:

А			Б			В			Г			Д		
3	4	20	12	15	17	1	7	18	5	10	8	11	14	19

За каждое верное соответствие – 2 балла.

308 Максимум за задание – 30 баллов.

15. Установите соответствие между приведёнными высказываниями историков и формулировками проблем, наиболее точно отвечающими сути этих высказываний (иными словами, необходимо подобрать вопрос, ответом на который может служить приведенное высказывание историка). Обратите внимание: среди формулировок проблем есть «лишние».

**Высказывания историков**

- А) «На основах, заложенных Владимиром, Ярослав завершил строение Киевского государства. Он правит подвластными городами, заново стягивая власть над всей Русью к киевскому центру. Таким же завершителем организации Киевского государства выступает Ярослав и в церковных делах» (А.Е. Престяков).
- Б) «Основной смысл «юридичных преобразований сводился к завершающему удару, который был нанесён последним оплотам удельной раздробленности. Ликвидация удела Владимира Старшеского и разгром Новгородца позволили финальную черту под длительную борьбу за объединение русских земель под эгидой московского правительства в годы опричнины» (А.А. Зимин).
- В) «При всей косности и отсталости Московское государство эпохи Алексея Михайловича уже обращено к Европе. Страна вслушивается, всматривается в Запад и в странном противоречии с традицией неприятия готовится принять и перенять многое. Она и перенимает. В результате во всех областях жизни происходит резкое раздвоение» (И.И. Андреев).
- Г) «Сперанский и Карамзин — вот лица русского Просвещения в начале XIX века. В их проектах и идеях много различий, но едва ли не больше общего» (Л.В. Жигальцова).
- Д) «Пытаясь во всем подражать Петру I, он смотрел на государство как на инструмент, который способен изменять мир. Однако в отличие от своего великого предка Николай I на самом деле вовсе не стремился к изменению окружающего мира. Ему было достаточно того, что бюрократический аппарат позволяет регулировать и держать под контролем жизнь общества» (С.В. Мироненко).

**Формулировки проблем**

- 1) Взаимное соотношение идей и проектов Сперанского и Карамзина

- эпохи Пржевальского
- 2) Процесс европеизации России при царе Алексее Михайловиче
  - 3) Преемственность Владимира Святославича и Ярослава Мудрого в деле развития Киевского государства
  - 4) Сходство и различие между проектами государственного устройства Карамзина и Сперанского
  - 5) Основные направления деятельности Ярослава Мудрого и их результаты
  - 6) Сущность и итоги политики опричнины
  - 7) Роль государства и бюрократических методов управления во взглядах деятельности Николая I в сопоставлении с Петром I
  - 8) Сущность и итоги объединительной политики московских князей
  - 9) Процесс европеизации духовно-культурной жизни России при царе Алексее Михайловиче
  - 10) Роль государства и бюрократических методов управления во взглядах деятельности Николая I

Ответ:

А	Б	В	Г	Д

За каждое верное соответствие – 2 балла.  
 Максимум за задание – 10 баллов.

Максимум за работу – 87 баллов.

595 И-0302

ВСЕРОССИЙСКАЯ ОЛИМПИАДА ШКОЛЬНИКОВ ИСТОРИЯ.  
2024–2025 уч. г.  
ШКОЛЬНЫЙ ЭТАП. 9 КЛАСС

1. Укажите государственного деятеля, фамилия которого пропущена в приведённом ряду.  
И.М. Висковатый, А.Л. Ордин-Напокин, А.С. Матвеев, ... В.В.  
Голицын  
Б.И. Морозов П.И.  
Одоевский Ф.М.  
Утицев

✓ Ответ: Голицын  
Максимум за задание – 1 балл.

2. Укажите год, которым следует заполнить пропуск в приведённом ряду. 1700 г.,  
1741 г., 1788 г., ...  
1805 г.  
1806 г.  
1807 г.  
1808 г.

✓ Ответ: 1808  
Максимум за задание – 1 балл.

3. Какие из перечисленных дат отражают годы смены российских монархов на престоле в эпоху дворцовых переворотов?  
1) 1682 г.  
2) 1730 г.  
3) 1735 г.  
4) 1741 г.  
5) 1761 г.  
6) 1825 г.

✓ Ответ: 3,4,5  
За полностью правильный ответ – 2 балла.  
За ответ с одной ошибкой – 1 балл.  
Максимум за задание – 2 балла.

4. Какие из перечисленных явлений возникли в Российском государстве XVII веке?  
1) кормления  
2) местничество  
3) подворное налогообложение  
4) уплата пожлого  
5) полки явеземного строя  
6) старообрядчество.

✓ Ответ: \_\_\_\_\_  
За полностью правильный ответ – 2 балла.  
За ответ с одной ошибкой – 1 балл.  
Максимум за задание – 2 балла.

5. Какие из приведённых событий произошли в 1598 году?  
1) введение патриаршества в России  
2) заключение Тявзинского мирного договора между Россией и Швецией  
3) избрание на царство Бориса Годунова

- 4) издание во Франции Нантского эдикта
- 5) окончание правления Елизаветы I в Англии
- 6) окончательное завоевание Сибири о ханства Московским государством

Ответ: 2, 3, 6

За полностью правильный ответ – 2 балла.

За ответ с одной ошибкой – 1 балл.

Максимум за задание – 2 балла.

2

6. Разделите приведённые названия городов в хронологической последовательности вятичи их монголами в ходе нашествия Батыя.

- 1) Владимир
- 2) Киев
- 3) Переяславль-Южный
- 4) Рязань
- 5) Торжок
- 6) Чернигов

Ответ:

1	2	3	4	5	6
4-5	1-6	3-5	4-3	4-6	2

2б

За каждую верную пару – 1 балл.

Максимум за задание – 6 баллов.

7. Установите соответствие между именами художников и названиями произведений, принадлежащих их кисти.

Художники	Произведения
А) В.Л. Боровиковский	1) «Пётр I на смертном ложе»
Б) Д.Г. Ленцковский	2) «Портрет А.П. Струйской»
В) А.П. Лосенко	3) «Владимир и Рогнеда»
Г) И.Н. Никитин	4) «Портрет неизвестной крестьянки в русском костюме»
Д) Ф.С. Рокотов	5) «Екатерина II – законодательница в храме богини Правосудия»
	6) «Портрет М.И. Лопухиной»

Ответ:

А	Б	В	Г	Д
6	4	3	1	2

5

За каждую верную пару – 1 балл.

Максимум за задание – 5 баллов.

8-13. Внимательно рассмотрите схему и выполните задания.





Укажите, как назывался город, обозначенный на схеме цифрой 3, во время событий, отраженных на схеме. Название следует записать в **именительном** падеже с **заглавной** буквы без каких-либо знаков препинания.

*Внимание! Ответы с орфографическими ошибками не засчитываются.*

16 **Ответ:** Севастополь

Максимум за задание – 1 балл.

8. Укажите год, когда произошло сражение, обозначенное на схеме цифрой 4.

15 **Ответ:** 1751

Максимум за задание – 1 балл.

9. Укажите имя и номер российского монарха, в чье правление шла война, события которой обозначены на схеме. *Ответ следует записать в формате: имя императора в именительном падеже с заглавной буквы порядковый номер императора римской цифрой без знаков препинания (например: Павел I).*

*Внимание! Ответы с орфографическими ошибками не засчитываются.*

**Ответ:** Елизавета II

Максимум за задание – 1 балл.

10. Укажите название крепости, которая обозначена на схеме цифрой 1. *Внимание!*

*Ответы с орфографическими ошибками не засчитываются.* **Ответ:** ...

Максимум за задание – 1 балл.

11. Укажите год, когда в состав Российской империи вошла территория, обозначенная на схеме цифрой I.

16 **Ответ:** 1783

Максимум за задание – 1 балл.

12. Выберите верные утверждения.

- ① Отражения на схеме войны стала первой войной с Османской империей для российского монарха, к правлению которого относятся обозначенные на схеме военные действия.

- 2) Русскими войсками, взявшими крепость, обозначенную на схеме цифрой 2, руководил Г.А. Потёмкин.
- 3) На схему нанесено название города, впервые вошедшего в состав России при Петре I в соответствии с международным договором.
- 4) Командование русским флотом в сражении, обозначенном на схеме цифрой 4, осуществлял А.Г. Орлов.
- 5) Карта отражает первый в XVIII веке военный конфликт между странами, военные действия которых на ней изображены.
- 6) Город, обозначенный на схеме цифрой 3, был основан в период войны, события которой отражены на схеме.
- 7) На схеме обозначена река, название которой стало частью титула русского полководца, принимавшего участие в событиях, обозначенных на схеме.

45 Ответ: 2 3 4 7

За каждое верно выбранное/невыбранное утверждение - 1 балл. Максимум за задание - 7 баллов.

13. Определите пропущенные в таблице даты, события и исторические документы, обозначенные заглавными буквами. Обратите внимание, что среди предлагаемых вставок есть «лишние» элементы.

Фрагмент законодательного акта	Название законодательного акта	Год	Событие всеобщей истории, происшедшее в тот же год
(А)	Указ о синасследии	(Б)	окончание войны за испанское наследство
«Будет кто каким умысленем учнет мыслити на Государское здоровье злое дело, и про то его злое умышление кто известит, и по тому извету про то его злое умышление същется до прями, что он на Царске Величество злое дело мыслит, и длатать хотел: и таково по сыску казнити смертию».	(В)	1649 г.	(Г)

<p>«1. Дабы губерния, или наместничество, порядочно могла быть управляема, полагается в оной от трех до четырехсот тысяч душ. 2. Для управления же губернии или наместничества полагается государев наместник или генерал-губернатор. 3. В губерниях или наместничестве учреждается правитель наместничества или губернатор. 4. В губернии учреждается правление наместническое или губернское...»</p>	<p>«Учреждения для управления губерний Всероссийской империи»</p>	<p>(Д)</p>	<p>(Е)</p>
--	---	------------	------------

Выберите варианты:

Варианты для пропусков А, Ж	Варианты для пропусков В, З	Варианты для пропусков Б, Д	Варианты для пропусков Г, Е
<p>«Кольми же паче должны мы иметь поличение о целости всего вашего государства, которое с помощью божиею, ныне паче распространено, как всем видимо есть; что для заблагоуразудили мы сей уставчинить, дабы сие было всегда в неле правительствующего государя, кому оной хочет, тому определит наследство, и определенному, видя какое наследство, паки оменит, дабы дети и потомки не впаля такую злость, как выше писано, имея сию узду на себе».</p>	<p>Аки порядке престолонаследия</p>	<p>1714 г.</p>	<p>начало Войны за независимость североамериканских колоний</p>

<p>Кто имеет сыновей и ему же еще хочет, единому из оных дать недвижимое, чрез духовную, тому в наследие и будет. Другие же дети обоюдополу да награждены будут движимыми именни, которых должен отец их или мать разделить им при себе, как сыновьям, так и дочерям, какиков будет, по своей воли, кроме одного одного, который в недвижимых наследником будет».</p>	<p>Устав о наследии престола</p>	<p>1775 г.</p>	<p>заключенные Вестфальского мира, законные Тридцатилетней войны</p>
<p>«Общим нашим добровольными взаимным согласием, на зрелом рассуждении и с спокойным духом поставили сей акт наш обильней, которым по любви к Отечеству избираем наследником, по праву естественному, после смерти моей сына нашего старшего по нам все его мужское поколение. По пресечении сего мужского поколения наследство переходит в род второго моего сына, где и следовать тому, что сказано о поколении старшего моего сына, и так далее, если бы более у меня сыновей было, что и есть первородство».</p>	<p>Русская правда</p>	<p>1785 г.</p>	<p>казнь английского короля Карла I Стюарта</p>
<p>Оубьет мужь мужа, го мстить брату брата, или сынови отца, либо отцу сына, или братучадоу, либо сестриноу сынови; аще не боудеть кто мстя, то 40 гривень за гамову; аще боудеть роуспнь, либо гридинь, либо коупчина, либо ябегань, либо мечникъ, аще изьган боудеть, либо словенинь, то 40 гривень положити за нь.</p>	<p>Соборное уложение</p>	<p>1722</p>	<p>Принятие «Билля о правах»</p>

<p>А князь и посадник на вechи суду не судиты; судити им у князя на сенех. взираа и правду, по крестному целованию. А не вьсузят в правду, ино Бог будя им судиа на втором пришестнии Христоне. А тайных посулов не имать ни князю, ни посаднику.</p>	<p>Судебник 1497 г.</p>	<p>1649</p>	<p>Принятие «Великой ремонстрации»</p>
<p>А Христианом отказыватися из волости, не села в село, один срок в году, за неделю до Юрьева дни осеннего и неделю после Юрьева дни осеннего. Дворы пожилые платят в пелех за двор рубль, а в лесех пологла. А которой христианин поживет за кем год, да пойдет прочь, и оплатит четверть двора, а два года поживет да поидет прочь, и он полдвора платит; а три годы поживет, а пойдет прочь, и он платит три четверти двора; а четыре года поживет, и он весь двор платит.</p>	<p>Судебник 1550 г</p>	<p>1550</p>	<p>Учреждение парламента в Англии</p>
		<p>1497</p>	

Ответ:

Пропуск	Нужная вставка
А.	
Б.	1711 год в Сибирное целование
В.	Сибирное целование
Г.	карты английского короля Карла I Стюарта
Д.	1775
Е.	начало войны за независимость Северной Америки
Ж.	

3.	Дитя похороде престолонаследия

125

За каждое верное соотнесение — 2 балла.  
Максимум за задание — 16 баллов.

14. Установите соответствие между фрагментами исторических источников или краткими характеристиками: к каждому фрагменту, обозначенному буквой, подберите по три соответствующие характеристики, обозначенные цифрами. Обратите внимание, что среди приведённых характеристик есть «лишние».

**Фрагменты источников:**

- А) «Никогда не забуду одного вечера, проведённого мною, 18-летним юношей, у внучатого брата моего Михаила Михайловича Нарышкина [...]. На этом вечере были: Рылеев, кн. Оболенский, Пущин и некоторые другие, впоследствии сосланные в Сибирь. Рылеев читал свои патриотические "Думы", и все свободно говорили о необходимости покончить с этим правительством. Этот вечер произвёл на меня самое сильное впечатление; и я на другой же день утром сообщил всё слышанное Ивану Киреевскому, и с ним вместе мы отправились к Дмитрию Вененикинову [...]. Много мы в этот день толковали глупости и о том, что необходимо произвести в России перемену в образе правления».
- Б) «Скончался благоверный и великий князь русский Владимир, сын благоверного отца Всеволода, украшенный добрыми нравами, прославленный победами. Перед его именем трепетали все страны, и по всем землям проносился слух о нем, поскольку он всей душой возлюбил Бога... Потому и не щадил имущества своего, раздавая страждущим, и церкви воздвигая и украшая; особенно же почитал монашеский чин и священнический, давая им необходимое и принимая от них молитвы. Великую веру имел к Богу и родичам своим, к святым мученикам Борису и Глебу, потому и церковь прекрасную создал на Альте в имя их, где была пролита кровь святого Бориса. И жалостлив был чрезмерно, и дар этот от Бога принял, так что когда входил в церковь и слышал пение, тотчас испускал слезу и мольбы к Владыке Христу со слезами обращал; поэтому и Бог все прощенья его угодливоряд, и лета его наполнил благополучием».
- В) «Мы читаем в прекрасной душе Александра сильное желание утвердить в России действие закона... Оставив прежние формы, но двигая, так сказать, оные постоянным духом ревности к общему добру, он скорее мог бы достигнуть сей цели и затруднил бы лишь наследников отступление от законного порядка. Гораздо легче отменить новое, нежели старое, гораздо легче признать важность Сенату, нежели дать важность нынешнему Сенату в глазах будущего преемника Александрова; новости ведут к новостям и благонравности необузданностям произвола. Скажем ли, повторим ли, что одна из главных причин неудовольствия россиян на нынешнее правительство есть излишняя любовь его к государственным преобразованиям, которые потрясут основу империи, и коих благодетельность остается доселе сомнительной».
- Г) «Да в нынешнем во 7117-м году, декабря в 5 день приходили к Нижнему воровские люди: нижесторядцы и арзамасцы, дети бийские и татарояи черемиса и всякие подлые люди, к Нижнему приступали и Божию милостию и Пречистые Богородицы и Московских чудотворцев помощию государевым счастьем на йласке

восвоя Ондрей Семёнович Олябьев дворяны и з дѣтя бѣорскыи и з голыи стрелецкыи, с литвыи и немцы и с нижегородцы с послыцкыи с охочыи со всякыи служилыи люди воры в Нижнем всех побил и языков поимати болши трех сот человек, а побивали их, воровских людей, на пятнадцати верстех и болши, а знамена и набагы поймаши, а ушты тех воровских людей не много врознь потому, что стали почная цора и государевы люди пришли в Нижней дал Бог здоровы».

- Д) «Нынѣ, с помощью Вышнего, положили мы совершить сие образование на следующих главных началах: I. В порядке государственных установлений Совет составляет сословие, в коем все части управления и главных их откопсных к законодательству соотнобжаются и через него восходят к верховной императорской власти. II. По сему все законы, уставы и учреждения в первообразных их начертаниях предлагаются и рассматриваются в Государственном совете и потом действием державной власти поступают к предначинанному им совершенно. III. Никакой закон, устав и учреждение не исходит из Совета и не может иметь своего совершения без утверждения державной власти...».

### Характеристики:

- 1) Автор источника подчёркивает, что в обществе существует недонольство частыми преобразованиями действующего правительства государства.
- 2) В источнике подчёркивается законодательный характер органа государственной власти, создававшегося в соответствии с ним.
- 3) В источнике, фрагмент которого приведён, упоминаются видные деятели декабристского движения.
- 4) Автор разделяет идеи о необходимости преобразований, услышанные им во время события, которое описано в приведённом фрагменте источника.
- 5) События, о которых идёт речь в приведённом фрагменте источника, происходили в период правления Василия Шуйского.
- 6) Автор негативно относится к идеям о необходимости преобразований, услышанным им во время события, которое описано в приведённом фрагменте источника.
- 7) Автор источника, фрагмент которого приведён, придерживается консервативных политических взглядов, не приветствует необоснованных, на его взгляд, нововведений.
- 8) Источник, фрагмент которого приведён, представляет собой отчёт должностных лиц о своих действиях.
- 9) Автор даёт князю, о котором идёт речь в приведённом фрагменте, резко отрицательную характеристику, упрекая его в участии в междоусобных войнах.
- 10) В источнике рассказывается о победе верных «официальному» монарху людей над людьми, находившимися на службе самозванца.
- 11) В источнике подчёркивается законосовещательный характер органа государственной власти, создававшегося в соответствии с ним.
- 12) Автор даёт негативную характеристику князю, о котором идёт речь в приведённом фрагменте, отмечая прежде всего его искреннюю набожность.
- 13) Вид данного исторического источника – публицистика (политические сочинения).
- 14) Вид данного исторического источника – законодательный акт.
- 15) Князь, о котором идёт речь в приведённом фрагменте источника, - Владимир

Мономах.

- 16) События, о которых идет речь в приведённом фрагменте источника, происходили в период правления Бориса Годунова.
- 17) Вид данного исторического источника – летопись.
- 18) В источнике рассказывается о победе людей, находившихся на службесамозванца, над верными «официальному» монарху людьми.
- 19) Источник, фрагмент которого приведён, был обнаружен в 1810 году.
- 20) Приведенный текст можно идентифицировать как фрагмент источникаличного происхождения.

Ответ:

А	Б	В	Г	Д
1	2	3	4	5
1	2	3	4	5

За каждое верное соотношение – 2 балла.

Максимум за задание – 30 баллов.

15. Установите соответствие между приведёнными высказываниями историков и формулировками проблем, наиболее точно отвечающими сути этих высказываний (иными словами, необходимо подобрать вопрос, ответом на который может служить приведенное высказывание историка). Обратите внимание: среди формулировок проблем есть «лишние».

**Высказывания историков**

- А) «На основах, заложенных Владимиром, Ярослав завершил строение Киевского государства. Он правит полувластными городами, заново стягивая власть над всей Русью к киевскому центру. Таким же завершителем организации Киевского государства выступает Ярослав в церковных делах» (А.Е. Пресняков)
- Б) «Основной смысл опричных преобразований сводился к завершающему удару, который был нанесён последним властям удельной раздробленности. Ликвидация удела Владимира Старичьего и разгром Новгорода подняли финальную черту под длительную борьбу за объединение русских земель под эгидой московского правительства в годы опричнины» (А.А. Зимин).
- В) «При всей косности и отсталости Московское государство эпохи Алексея Михайловича уже обращено к Европе. Страна неслышавшая, всматривается в Запад и в странном противоречии с традицией неприятия готовится принять и пережить многое. Она и переживает. В результате во всех областях жизни происходит резкое раздвоение» (И.Л. Андреев)
- Г) «Сперанский и Карамзин – вот души русского Просвещения в начале XIX века. В их проектах и идеях много различного, но едва ли не больше общего» (Л.В. Житальцова)
- Д) «Пытаясь во всём подражать Петру I, он смотрит на государство как на инструмент, который способен изменять мир. Однако в отличие от своего великого предка Николай I на самом деле вовсе не стремился к изменению окружающего мира. Ему было достаточно того, что бюрократический аппарат позволяет регулировать и держать под контролем жизнь общества» (С.В. Мироненко).

**Формулировки проблем**

- 1) Взаимное соотношение идей и проектов Сперанского и Карамзина и идеями



эпохи Просвещения

- 2) Процесс европеизации России при царе Алексее Михайловиче
- 3) Преемственность Владимира Святославича и Ярослава Мудрого в деле развития Киевского государства
- 4) Сходство и различие между проектами государственного устройства Карамзина и Сперанского
- 5) Основные направления деятельности Ярослава Мудрого и их результаты
- 6) Сущность и итоги политики опричнины
- 7) Роль государства и бюрократических методов управления во взглядах деятельности Николая I в сопоставлении с Петром I
- 8) Сущность и итоги объединительной политики московских князей
- 9) Процесс европеизации духовно-культурной жизни России при царе Алексее Михайловиче
- 10) Роль государства и бюрократических методов управления во взглядах деятельности Николая I

Ответ:

А	Б	В	Г	Д
3	6	4-7, 2	4, 7	7

За каждое верное соотнесение - 2 балла.

Максимум за задание - 10 баллов.

Максимум за работу - 87 баллов.

ВСЕРОССИЙСКАЯ ОЛИМПИАДА ШКОЛЬНИКОВ ИСТОРИЯ.  
2024–2025 уч. г.  
ШКОЛЬНЫЙ ЭТАП. 9 КЛАСС

1. Укажите государственного деятеля, фамилия которого пропущена в приведённом ряду.  
И.М. Висковатый, А.Л. Ордин-Нащокин, А.С. Магвеев, ...В.В.

- Голицын
- Б.И. Морозов Н.И.
- Одоевский Ф.М.
- Ртищев

1  
Ответ: Голицын  
Максимум за задание – 1 балл.

2. Укажите год, которым следует заполнить пропуск в приведённом ряду. 1700 г.,  
1741 г., 1788 г., ...

- 1805 г.
- 1806 г.
- 1807 г.
- 1808 г.

1  
Ответ: 1808  
Максимум за задание – 1 балл.

3. Какие из перечисленных дат отражают годы смены российских монархов на престоле в эпоху дворцовых переворотов?

- 1) 1682 г.
- 2) 1730 г.
- 3) 1735 г.
- 4) 1741 г.
- 5) 1761 г.
- 6) 1825 г.

2  
Ответ: 2,4,5.  
За полностью правильный ответ – 2 балла.  
За ответ с одной ошибкой – 1 балл.  
Максимум за задание – 2 балла.

4. Какие из перечисленных явлений возникли в Российском государстве XVII веке?

- 1) кормления
- 2) местничество
- 3) подворное наместничество
- 4) уплата пожиточного
- 5) полки иноземного строя
- 6) старообрядчество.

2  
Ответ: 3,5,6  
За полностью правильный ответ – 2 балла.  
За ответ с одной ошибкой – 1 балл.  
Максимум за задание – 2 балла.

5. Какие из приведённых событий произошли в 1598 году?

- 1) введение патриаршества в России
- 2) заключение Гявзинского мирного договора между Россией и Швецией
- 3) избрание на царство Бориса Годунова

- 4) издание во Франции Навтского эдикта
- 5) окончание правления Елизаветы I в Англии
- 6) окончательное завоевание Сибирского ханства Московским государством

Ответ: 3, 4, 6

За полностью правильный ответ – 2 балла.

За ответ с одной ошибкой – 1 балл.

Максимум за задание – 2 балла.

6. Расположите приведённые названия городов в хронологической последовательности взятия их монголами в ходе нашествия Батыя.

- 1) Владимир
- 2) Киев
- 3) Переяславль-Южный
- 4) Рязань
- 5) Торжок
- 6) Чернигов

Ответ:

1	2	3	4	5	6
Торжок	Владимир	Торжок	Переяславль-Южный	Чернигов	Киев

За каждую верную пару – 1 балл.

Максимум за задание – 6 баллов.

7. Установите соответствие между именами художников и названиями произведений, принадлежащих их кисти.

Художники	Произведения
А) В.И. Бородинский Б) Д.Г. Левицкий В) А.П. Лосенко Г) И.Н. Никитин Д) Ф.С. Рокоткин	1) «Пётр I на смертном ложе» 2) «Портрет А.И. Струйской» 3) «Владимир и Рюрика» 4) «Портрет неизвестной крестьянки в русском костюме» 5) «Екатерина II – законодательница в храме богини Правосудия» 6) «Портрет М.И. Лопухиной»

Ответ:

А	Б	В	Г	Д
6	5	3	1	3, 4

За каждую верную пару – 1 балл.

Максимум за задание – 5 баллов.

8–13. Внимательно рассмотрите схему и выполните задания.



Укажите, как назывался город, обозначенный на схеме цифрой 3, во время событий, отраженных на схеме. Название следует записать в именительном падеже с заглавной буквы без каких-либо знаков препинания.

Внимание! Ответы с орфографическими ошибками не считаются.

0 Ответ: Севастополь  
 Максимум за задание - 1 балл.

8. Укажите год, когда произошли сражение, обозначенное на схеме цифрой 4.

05 Ответ: Севастополь 1791  
 Максимум за задание - 1 балл.

9. Укажите имя и номер российского монарха, в чье правление шла война, события которой обозначены на схеме. Ответ следует записать в формате: имя императора в именительном падеже с заглавной буквы порядковый номер императора римской цифрой без знаков препинания (например: Павел I).

Внимание! Ответы с орфографическими ошибками не считаются.

1 Ответ: Екатерина II  
 Максимум за задание - 1 балл.

10. Укажите название крепости, которая обозначена на схеме цифрой 1. Внимание!

Ответы с орфографическими ошибками не считаются. Ответ: Акерман

1 Максимум за задание - 1 балл.

11. Укажите год, когда в состав Российской империи вошла территория, обозначенная на схеме цифрой I.

0 Ответ: Царьград 1783  
 Максимум за задание - 1 балл.

12. Выберите верные утверждения.

1) Отраженная на схеме война стала первой войной с Османской империей для российского монарха, к правлению которого относятся обозначенные на схеме военные действия.

- 2) Русскими войсками, взявшими крепость, обозначенную на схеме цифрой 2, руководил Г.А. Потёмкин.
- 3) На схему нанесено название города, впервые вошедшего в состав России при Петре I в соответствии с международным договором
- 4) Командование русским флотом в сражении, обозначенном на схеме цифрой 4, осуществлял А.Г. Орлов.
- 5) Карта отражает первый в XVIII веке военный конфликт между странами, военные действия которых на ней изображены.
- 6) Город, обозначенный на схеме цифрой 3, был основан в период войны, события которой отражены на схеме.
- 7) На схеме обозначена река, название которой стало частью титула русского полководца, принимавшего участие в событиях, обозначенных на схеме.

75

Ответ: 2, 3, 7.

За каждое верно выбранное/невыбранное утверждение – 1 балл. Максимум за задание – 7 баллов.

13. Определите пропущенные в таблице даты, события и исторические документы, обозначенные заглавными буквами. Обратите внимание, что среди предлагаемых вариантов есть «лишние» элементы.

Фрагмент законодательного акта	Название законодательного акта	Год	Событие всеобщей истории, происшедшее в тот же год
(А)	Указ о единонаследии	(Б)	окончание войны за испанское наследство
«Будет кто каким умышленцем учнет мыслити на Государское старшее злое дело, и про то его злое умышление кто извещать, и по тому извету про то его злое умышление същется до прима, что он на Царское Величество злое дело мыслил, и делать хотел: и зазва на сыску казнить смертно».	(В)	1649 г.	(Г)

<p>«1. Дабы губерния, или наместничество, порядочно могла быть управляема, полагается в одной от трех до четырехсот тысяч душ. 2. Для управления же губернии или наместничества полагается государев наместник или генерал-губернатор. 3. В губернии или наместничестве учреждается правитель наместничества или губернатор. 4. В губернии учреждается правление наместническое или губернское...».</p>	<p>«Учреждения для управления губерний Всероссийской империи»</p>	<p>(Д)</p>	<p>(Е)</p>
---	---	------------	------------

**Выберите варианты:**

Варианты для пропусков А, Ж	Варианты для пропусков В, З	Варианты для пропусков Б, Д	Варианты для пропусков Г, Е
<p>«Кольми же наче должны мы иметь попечение о целости всего нашего государства, которое с помощью божиею, ныне наче распространено, как всем видимо есть; чего для заблаговременно мы себя уставучинить, дабы сие было всегда в ноще правительствующего государя, кому оной хочет, тому и определит наследство, и определенному, видя какое нештребетви, сакки отменит, дабы дети и потомки не видели такую злость, как выше писано, явися сию уаду на себем.</p>	<p>Акт порожде престолонаследия</p>	<p>1714 г.</p>	<p>начало Войны за независимость североамериканских колоний</p>

<p>Кто имеет сыновей и ему же ланс хошет, единому из оныхдать недвижимое, чрез духовную, тому в наследие и будет. Другие же дети обестолоду да награждены будут движимыми имения, которые должен отец их или мать разделить им при себе, как сыновьям, так и дочерям, коликых будет, по своей воли, кроме одного одного, который в недвижимых наследником будет».</p>	<p>Устав о наследии престола</p>	<p>1775 г.</p>	<p>заключение Вестфальского мира, завершение Тридцатилетней войны</p>
<p>«Общим нашим добровольными взаимным согласием, во зрелом рассуждении и с спокойным духом постановили сей акт наш общий, которым по любви к Отечеству избираем наследником, по праву естественному, после смерти моей сына нашего большего, а по нем все его мужеское поколение. По пресечении сего мужеского поколения наследство переходит в ряд второго моего сына, где и следовать токму, что сказано о поколении старшего моего сына, и так далее, если бы болше у меня сыновей было: что и есть первородство».</p>	<p>Русская правда</p>	<p>1785 г.</p>	<p>казнь английского короля Карла I Стюарта</p>
<p>Оубнегь мужь мужка, то мьстити брату брата, или сынови оца, либо отци сына, или братоучаину, либо сестриноу сынови; аще не боудеть кто мьстити, то 40 гривень за гоживу; аще боудеть роусинь, либо гридинь, либо коулчина, либо ябетникъ, либо мечникъ, аще изьган боудеть, либо словенинь, то 40 гривель положи на нь.</p>	<p>Соборное уложение</p>	<p>1722</p>	<p>Принятие «Билля о правах»</p>

<p>А князь и посадник на вече судуне судить, судити им у князя на сенех, взираа в правду, по крестному целованику. А не вьсудят в правду, ино Бог буди им судна на втором пришествии Христова. А тайных посулов не имать ни князю, ни посаднику.</p>	<p>Судебник 1497 г.</p>	<p>1649</p>	<p>Принятие «Великой регластрации»</p>
<p>А Христианам отказыватися из волости, из села в село, или срок и году, за неделю до Юрьева дни осеннего и неделю после Юрьева дни осеннего. Диоры пожилые платят в годех на двор рубль, а в лесех полтина. А котирый христианин поживет за кем год, да пойдет прочь, и он платит четверть двора, а два года поживет: да пойдет прочь, и он под двора платит; а три годы поживет, а пойдет прочь, и он платит три четверти двора; а четыре года поживет, и он весь двор платит.</p>	<p>Судебник 1550 г.</p>	<p>1550</p>	<p>Учреждение парламента в Англии</p>
		<p>1497</p>	

Ответ:

Продукт	Нужная вставка
А.	
Б.	1714.
В.	Крестное целование
Г.	
Д.	1775.
Е.	Война Койна за независимость северно американин колоний
Ж.	



3.	Мит о королке Фриды Кассины

За каждое верное соотнесение – 2 балла,  
 Максимум за задание – 16 баллов.

14. Установите соответствие между фрагментами исторических источников и их краткими характеристиками: к каждому фрагменту, обозначенному буквой, подберите по три соответствующие характеристики, обозначенные цифрами. Обратите внимание, что среди приведённых характеристик есть «лишние».

**Фрагменты источников:**

- А) «Никогда не забуду одного вечера, проведённого мною, 18-летним юношей, у влиятельного брата моего Михаила Михайловича Парышкина [...]. На этом вечере были: Рылев, кн. Оболенский, Пушкин и некоторые другие, впоследствии сосланные в Сибирь. Рылев читал свои патристические «Думы», а все свободно говорили о необходимости покончить с этим правительством. Этот вечер произвёл на меня самое сильное впечатление; и я на другой же день утром сообщил всё слышанное Ивану Киреевскому, и с ним вместе мы отправились к Дмитрию Веневитинову [...]. Много мы в этот день толковали политике и о том, что необходимо произвести в России переменную образ правления».
- Б) «Скончался благоверный и великий князь русский Владимир, сын благоверного отца Всеволода, украшенный добрыми нравами, прославленный победами. Перед его именем трепетали все страны, и по всем землям прошёл слух о нём, поскольку он всей душой возлюбил Бога... Потому и не имел имущества своего, раздавая страждущим, и церкви воздвигая и украшая; особенно же почитал монашеский чин и священнический, давая им необходимое и принимая от них молитвы. Великую веру имел к Богу и родичам своим, к святым мученикам Борису и Глебу, потому и церковь прекрасную создал на Альте в имя их, где была пролита кровь святого Бориса. И жалостлив был чрезмерно, и дар этот от Бога принял, так что когда входил в церковь и слышал пение, тотчас испускал слезы и мольбы к Владыке Христу со слезами обращал: поэтому и Бог все прошения его удовлетворял, и лета его наполнил благополучием».
- В) «Мы читаем в прекрасной душе Александра сильное желание утвердить в России действие закона... Оставив прежние формы, но двигая, так сказать, оные постоянным духом ревности к общему добру, он скорее мог бы достигнуть сей цели и затруднил бы для последующих отступление от законного порядка. Гораздо легче отменить новое, нежели старое; гораздо легче придать важности Сенату, нежели дать важность нынешнему Совету в глазах будущего преемника Александрова; новости ведут к новостям и благоприятствуют необузданностям произвола. Скажем ли, повторим ли, что одна из главных причин неудовольствия россиян на нынешнее правительство есть излишняя любовь его к государственным преобразованиям, которые потрясают основу империи, и коих благоверность остаётся до сих пор сомнительной».
- Г) «Да в нынешнем на 7117-м году, декабря в 5 день приходили к Нижнему новоросские люди; нижегородцы и арзамасцы, дети боярские и татаровья и черемиса и всякие податные люди, к Нижнему приступили и Божию милостию и Пречистые Богородицы и Московских чудотворцев помощию государевым счастьем на выласке

воевода Андрей Семенович Флябьев дворяны и з дотыа боярскими и з головы стрелцкими. с литвино и с немцы и с нижегородцы с посадскими с охочими со всякими служилыми людьми ворон в Нижнем всех побили и языков поймали болши трех сот человек, а побивали их, коровских людей, на пятнадцати верстех и болши, а знамена и шабаты поймали, а ушло тех воровских людей не много нрознь потому, что стала ночная пора и государевы люди пришли в Нижней дал Бог здорovia.

Д) «Ныне, с помощью Вышнего, положили мы совершить сие образование на следующих главных началах: I. В порядке государственных установлений Совет составляет сословие, в коем все части управления в главных их отношениях к законодательству соотносятся и через него восходят к верховной императорской власти. II. По сему все законы, уставы и учреждения в первообразных их начертаниях предлагаются и рассматриваются в Государственном совете и потом действием державной власти поступают к предназначенному им совершению. III. Никакой закон, устав и учреждение не исходит из Совета и не может иметь своего совершения без утверждения державной власти...».

### Характеристики:

- 1) Автор источника подчёркивает, что в обществе существует недовольство частыми преобразованиями действующего правительства.
- 2) В источнике подчёркивается законодательный характер органа государственной власти, создававшегося в соответствии с ним.
- 3) В источнике, фрагмент которого приведён, упомянуты видные деятели декабристского движения.
- 4) Автор разделяет идеи о необходимости преобразований, услышанные им во время события, которое описано в приведённом фрагменте источника.
- 5) События, о которых идёт речь в приведённом фрагменте источника, происходили в период правления Василия Шуйского.
- 6) Автор негативно относится к идеям о необходимости преобразований, услышанным им во время события, которое описано в приведённом фрагменте источника.
- 7) Автор источника, фрагмент которого приведён, придерживается консервативных политических взглядов, не приветствует необоснованных, на его взгляд, нововведений.
- 8) Источник, фрагмент которого приведён, представляет собой отчёт должностных лиц о своих действиях.
- 9) Автор даёт князю, о котором идёт речь в приведённом фрагменте, резко отрицательную характеристику, упрекая его в участии в междоусобных войнах.
- 10) В источнике рассказывается о победе верных «официальному» монарху людей над людьми, находившимися на службе самозванца.
- 11) В источнике подчёркивается законосовещательный характер органа государственной власти, создававшегося в соответствии с ним.
- 12) Автор даёт позитивную характеристику князю, о котором идёт речь в приведённом фрагменте, отмечая прежде всего его искреннюю набожность.
- 13) Вид данного исторического источника – публицистика (политическое сочинение).
- 14) Вид данного исторического источника – законодательный акт.
- 15) Князь, о котором идёт речь в приведённом фрагменте источника, – Владимир

Минимум

- 16) События, о которых идет речь в приведенном фрагменте источника, происходили в период правления Бориса Годунова.
- 17) Вид данного исторического источника – летопись.
- 18) В источнике рассказывается о победе людей, находившихся на службе у молдавца, над верными «официальному» монарху людьми.
- 19) Источник, фрагмент которого приведен, был обнаружен в 1810 году.
- 20) Приведенный текст можно идентифицировать как фрагмент источника личного происхождения.

Ответ:

А			Б			В			Г			Д		
3	4	16	6	12	15	1	7	8	10	15	5	10	11	14

200

За каждое верное соотнесение – 2 балла.  
 Максимум за задание – 30 баллов.

15. Установите соответствия между приведёнными высказываниями историков и формулировками проблем, наиболее точно отвечающими сути этих высказываний (нельзя ставить несколько ответов на который может служить приведенное высказывание историка). Обратите внимание: среди формулировок проблем есть «лишние».

Высказывания историков

- А) «На основах, заложенных Владимиром Ярослав завершил строение Киевского государства. Он принял подвластными городами, заново стягивая власть над всей Русью к киевскому центру. Таким же завершителем организации Киевского государства выступает Ярослав в церковных делах» (А.Ф. Пресняков).
- Б) «Основной смысл опричных преобразований сводился к завершению унитару, который был нанесён последним оплотом удельной раздробленности. Ликвидация удела Владимира Старинного и разгром Новгородца положили финальную черту подлинную борьбу за объединение русских земель под эгидой московского правительства в годы опричнины» (А.А. Зимин).
- В) «При всей косности и олеталости Московское государство эпохи Алексея Михайловича уже обращено к Европе. Страна вслушивается, всматривается в Запад и в странном принижении с традицией неприятия готовится принять и пережить многое. Она и переживает. В результате во всех областях жизни происходит резкое развошение» (И.И. Андреев).
- Г) «Сперанский и Карамзин – вот лица русского Просвещения в начале XIX века. В их проектах и идеях много различного, но едва ли не больше общего» (Л.В. Жильцова).
- Д) «Пытаясь во всём подражать Петру I, он смотрел на государство как на инструмент, который способен изменить мир. Однако в отличие от своего великого преемника Николай I на самом деле вовсе не стремился к изменению окружающего мира. Ему было достаточно того, что бюрократический аппарат позволяет регулировать и держать под контролем жизнь общества» (С.В. Мироненко).

Формулировки проблем

- 1) Взаимное соотношение идей и проектов Сперанского и Карамзина идеями

## эпохи Просвещения

- 2) Процесс европизации России при царе Алексее Михайловиче
- 3) Преемственность Владимира Святославича и Ярослава Мудрого в деле развития Киевского государства
- 4) Сходство и различие между проектами государственного устройства Карамзина и Сперанского
- 5) Основные направления деятельности Ярослава Мудрого и их результаты
- 6) Сущность и итоги политики ипричины
- 7) Роль государства и бюрократических методов управления во взглядах деятельности Николая I в сопоставлении с Петром I
- 8) Сущность и итоги объединительной политики московских князей
- 9) Процесс европизации духовно-культурной жизни России при царе Алексее Михайловиче
- 10) Роль государства и бюрократических методов управления во взглядах деятельности Николая I

Ответ:

А	Б	В	Г	Д

За каждое верное соотнесение – 2 балла.

Максимум за задание – 10 баллов.

Максимум за работу – 87 баллов.

эпохи Просвещения

- 2) Процесс европеизации России при царе Алексее Михайловиче
- 3) Преступность Владимира Святославича и Ярослава Мудрого в деле развития Киевского государства
- 4) Сходство и различие между проектами государственного устройства Карамзина и Сперанского
- 5) Основные направления деятельности Ярослава Мудрого и их результаты
- 6) Сущность и итоги политики опричнины
- 7) Роль государства и бюрократических методов управления во взглядах деятельности Николая I в сопоставлении с Петром I
- 8) Сущность и итоги объединительной политики московских князей
- 9) Процесс европеизации духовно-культурной жизни России при царе Алексее Михайловиче
- 10) Роль государства и бюрократических методов управления во взглядах деятельности Николая I

Ответ:

А	Б	В	Г	Д

За каждое верное сопоставление – 2 балла.

Максимум за задание – 10 баллов.

Максимум за работу – 87 баллов.