

ВСЕРОССИЙСКАЯ ОЛИМПИАДА ШКОЛЬНИКОВ ИСТОРИЯ.  
2022–2023 уч. г.  
ШКОЛЬНЫЙ ЭТАП. 8 КЛАСС

1. Укажите участника особого административно-территориального образования в составе русского государства, пропущенного в приведённом ряду.

Алексей Басманов, Афанасий Вяземский, Малюта Скуратов, ... Богдан

Бельский

Алексей Адашев

Андрей Курбский

Иван Фёдоров

1 Ответ: Бельский

Максимум за задание – 1 балл.

2. Укажите год заключения мирного договора России с одним из иностранных государств, пропущенный в приведённом ряду.

1618 г., 1634 г., 1667 г., ...

1672 г.

1681 г.

1686 г.

1689 г.

1 Ответ: 1686

Максимум за задание – 1 балл.

3. Какие из перечисленных дат отражают годы смены российских монархов на престоле в XVII веке?

1) 1633 г.

2) 1645 г.

3) 1652 г.

4) 1676 г.

5) 1682 г.

6) 1690 г.

1 Ответ: 2, 3, 5

За полностью правильный ответ – 2 балла.

За ответ с одной ошибкой – –1 балл.

Максимум за задание – 2 балла.

4. Какие из перечисленных явлений возникли в Российском государстве в XV веке?

1) кормления

2) местничество

3) подворное налогообложение

4) уплата пожилого

5) полки иноземного строя

6) старообрядчество.

25 Ответ: 2, 3

За полностью правильный ответ – 2 балла.

За ответ с одной ошибкой – –1 балл.

Максимум за задание – 2 балла.

5. Какие из приведённых событий произошли в 1492 году?

- 1) битва на реке Шелони
- 2) женитьба Ивана III на Софье Палеолог
- 3) захват Константинополя турками-османами
- 4) открытие Америки Христофором Колумбом
- 5) переход с мартовского года на сентябрьский в Московском государстве
- 6) прекращение существования Гранадского эмирата на территории Пиренейского полуострова.

25  
 Ответ: уск

За полностью правильный ответ – 2 балла.

За ответ с одной ошибкой – 1 балл.

Максимум за задание – 2 балла.

6. Расположите приведённые названия городов в хронологической последовательности их присоединения к Московскому княжеству/ государству.

- 1) Коломна
- 2) Нижний Новгород
- 3) Псков
- 4) Рязань
- 5) Тверь
- 6) Ярославль

25  
 Ответ:

1	2	3	4	5	6
<u>ч -</u>	<u>2 +</u>	<u>3 +</u>	<u>3 -</u>	<u>5 -</u>	<u>6 -</u>

За каждую верную пару – 1 балл.

Максимум за задание – 6 баллов.

7. Установите соответствие между годами и событиями всеобщей истории, произошедшими в эти годы.

Год	Событие
А) 1204 г.	1) битва при Босворте, окончание Войны Алой и Белой розы в Англии
Б) 1302 г.	2) взятие Константинополя крестоносцами
В) 1485 г.	3) окончание Столетней войны
Г) 1517 г.	4) опубликование «95 тезисов» Мартина Лютера
Д) 1683 г.	5) осада Вены войсками Османской империи
	6) создание Генеральных штатов во Франции

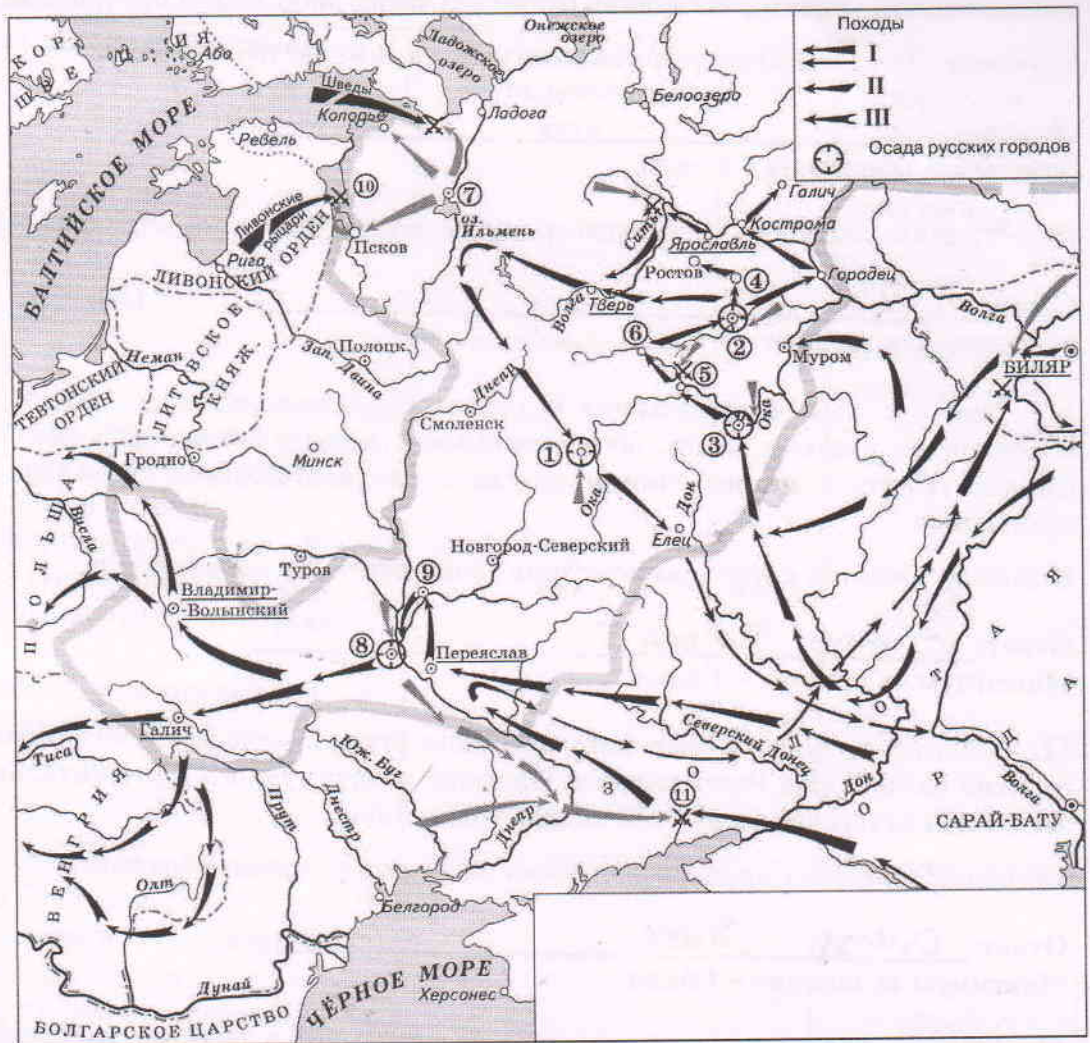
25  
 Ответ:

А	Б	В	Г	Д
<u>ч -</u>	<u>2 +</u>	<u>3 -</u>	<u>5 -</u>	<u>6 -</u>

За каждую верную пару – 1 балл.

Максимум за задание – 5 баллов.

8. Установите соответствие между названиями произведений средневековой русской литературы и именами их авторов.



Произведения	Авторы
А) «Благохотящим царём правительницаи землемерие»	1) Авраамий Палицын
Б) «Житие преподобного Сергия» В) «Сказание о Магмет-салтане»	2) Епифаний Премудрый
Г) «Сказание о осаде Троицкого Сергиева монастыря от поляков и литвы и о бывших потом в России мятежах»	3) Ермолай-Еразм
Д) «Слово о законе и благодати»	4) Иван Пересветов
	5) митрополит Иларион
	6) протопоп Аввакум

Ответ:

А	Б	В	Г	Д
3 +	2 +	4 +	7 +	5 +

58

За каждую верную пару – 1 балл.  
Максимум за задание – 5 баллов.

9–14. Внимательно рассмотрите схему и выполните задания.

9. Назовите город, обозначенный на схеме цифрой 2. Название следует записать в



именительном падеже с заглавной буквы без каких-либо знаков препинания.

Внимание! Ответы с орфографическими ошибками не засчитываются.

Ответ: \_\_\_\_\_.

Максимум за задание – 1 балл.

10. Укажите год, когда произошло сражение, обозначенное на схеме цифрой 10.

10 Ответ: 1147

Максимум за задание – 1 балл.

11. Укажите имя военачальника и правителя, осуществлявшего общее руководство походами на русские земли, обозначенными в легенде схемы цифрами II и III. Имя следует указать в именительном падеже с заглавной буквы без каких-либо знаков препинания.

Внимание! Ответы с орфографическими ошибками не засчитываются.

11 Ответ: Анур Батый

Максимум за задание – 1 балл.

12. Найдите на схеме и выпишите название реки, в ходе сражения на которой погиб великий князь Юрий Всеволодович. Название следует указать в именительном падеже с заглавной буквы без каких-либо знаков препинания.

Внимание! Ответы с орфографическими ошибками не засчитываются.

12 Ответ: Днепр Сеть

Максимум за задание – 1 балл.

13. Укажите год, когда состоялся поход, обозначенный в легенде схемы цифрой I.

13 Ответ: 1223

Максимум за задание – 1 балл.

14. Выберите верные утверждения.

- 1) В результате похода, обозначенного в легенде схемы цифрой I, был разгромлен Хазарский каганат.
- 2) Город, обозначенный на схеме цифрой 1, сопротивлялся противнику в течение семи недель.
- 3) Город, обозначенный на схеме цифрой 8, был взят противником в 1240 году.
- 4) Город, обозначенный на схеме цифрой 7, был взят и разграблен в ходе похода, обозначенного в легенде схемы цифрой II.
- 5) Город, обозначенный на схеме цифрой 3, после взятия и разорения противником восстановился и продолжил оставаться столицей удельного княжества.
- 6) В сражении, обозначенном на схеме цифрой 11, погиб галицкий князь Мстислав Мстиславич Удатный.

14 Ответ: 2 3

За каждое верно выбранное/невыбранное утверждение – 1 балл. Максимум за задание – 6 баллов.

15. Определите пропущенные в таблице события, даты и исторические документы, обозначенные заглавными буквами. Обратите внимание: среди предлагаемых вставок есть

«лишние» элементы.

Фрагмент законодательного акта	Название законодательного акта	Год	Событие всеобщей истории, происшедшее в тот же год
(А)	Указ о единонаследии	(Б)	Окончание войны за испанское наследство
«Будет кто каким умышлением учнет мыслити на Государское здоровье злое дело, и про то его злое умышление кто известить, и по тому извету про то его злоеумышление сыщется до прямиа, что он на Царское Величество злое дело мыслил, и делать хотел: и такова по сыску казнити смертию»	(В)	1649 г.	(Г)
«...Бояре, Окольничие и Думные люди, тако ж Стольники, и Стряпчие, Дворяне и дети Боярские [...] познавше, что тедела местничества отеческого ничто ино, токмо гордость и любви и отсечение и Нашим Государским всяким делам повреждение приносят, вси радостными сердцы Нам Великому Государю донесли, чтобы Мы, Великий Государь, Царь и Великий Князь Феодор Алексеевич указали, то виновное всякия злобы дело и братоненавидение, разоряющее любовь, то есть местничество отечественное оставить и вечно и искоренить...».	Соборное деяние об уничтожении местничества	(Д)	(Е)

Выберите варианты:

Варианты для пропусков А, Ж	Варианты для пропусков В, З	Варианты для пропусков Б, Д	Варианты для пропусков Г, Е
<p>«А Христианом отказыватися из волости, ис села в село, один срок в году, за неделю до Юрьева дни осеннего и неделю после Юрьева дни осеннего. Дворы пожилые платят в полех за двор рубль, а в лесех полтина. А которой христианин поживет за ким год, да пойдет прочь, и он платит четверть двора, а два года поживет да поидеть прочь, и он полдвора платит; а три годы поживет, а пойдет прочь, и он платит три четверти двора; а четыре года поживет, и он весь двор платит»</p>	<p>Соборное уложение</p>	<p>1667 г.</p>	<p>основание французскими исследователями колонии в устье реки Миссисипи</p>
<p>«Которые крестьяне от сего числа пред сим за 15 лет в книгах 101-го году положены, и тем быть за теми, за кем писаны; а буде те крестьяне вышли за кого иного, и в том есть на крестьян тех или на тех, кто их держит, челобитье, и те дела не вершены, или кто сентебря по 1-е число сего года будет бить челом, и тех крестьян отдавати по тем книгам, с женами и детьми и со всеми их животы, тем, за кем они писаны, до сроку рождества христова 116 году без пожилаго ...»</p>	<p>Судебник</p>	<p>1682 г.</p>	<p>заключение Вестфальского мира, завершение Тридцатилетней войны</p>

<p>«Кто имеет сыновей и ему же, аще хошет, единому из оных дать недвижимое, чрез духовную, тому в наследие и будет. Другие же дети обоого полу да награждены будут движимыми имении, которые должен отец их или мать разделить им при себе, как сыновьям, так и дочерям, колико их будет, по своей воли, кроме оног одного, который в недвижимых наследником будет»</p>	<p>Уложение о крестьянах</p>	<p>1714 г.</p>	<p>казнь английского короля Карла I Стюарта</p>
<p>Оубьеть моужь моужа, то мьстить братоу брата, или сынови отца, любо отцю сына, или братоучадоу, любо сестриноу сынови; аще не боудеть кто мьстя, то 40 гривень за голову; аще боудеть роусинь, любо гридинь, любо коупчина, любо ябетникь, любо мечникь, аще изьгой боудеть, любо словенинь, то 40 гривень положить за нь.</p>	<p>Духовный регламент</p>	<p>1581 г.</p>	<p>Крестьянская война в Германии</p>
<p>А князь и посадник на вечисуду не судить; судити им у князя на сенех, взираа в правду, по крестному целованию. А не въсудят в правду, ино Бог буди им судиа на втором пришествии Христове. А тайных посулов не имать ни князю, ни посаднику.</p>	<p>Указ о заповедных летах</p>	<p>1550 г.</p>	<p>Публикация «95 тезисов» доктора богословия Мартина Лютера</p>



<p>Должна же есть Коллегия сия, и новыми впредь правилами дополнять Регламент свой, яковых правил востребуют разные разных дел случаи. Однакож делать сие должна Коллегия Духовная на базе Нашего соизволения. Определяем же в сей Духовной Коллегии быть именованным зде Членам: единому Президенту, двоим Вице-Президентам, четырем Советникам, четырем Ассессорам.</p>	<p>Указ об урочных годах</p>	<p>1721 г.</p>	<p>Навтский эдикт</p>
		<p>1722 г.</p>	

**Ответ:**

Пропуск	Нужная вставка
А)	
Б)	
В)	
Г)	
Д)	
Е)	
Ж)	
З)	

За каждое верное соотнесение – 2 балла.  
Максимум за задание – 16 баллов.

16. Определите пропущенные в тексте названия, имена, годы, обозначенные буквами. При буквенных обозначениях пропусков даются пояснения о характере требуемой



вставки. Порядковые номера необходимых вставок впишите под соответствующими буквами в приведённую таблицу. Варианты вставок даны в единственном числе, именительном падеже. Обратите внимание на то, что среди вставок есть «лишние».

В (А – год) недалеко от Твери произошло сражение. Москвичи и монголы были разбиты. Московскому князю (Б – имя и отчество) удалось бежать, но его жена (В – монгольское имя) оказалась в плену. В Твери она неожиданно умерла. Стали поговаривать, что ее отравили.

(Б) и Кавгадый поехали к брату покойной ордынскому хану (Г – имя) и обвинили тверского князя (Д – имя и отчество) в убийстве. Хан вызвал князя к себе и устроил над ним суд. Его признали виновным в том, что он противился воле хана и бился с его войском, а также в смерти княгини. Почти месяц он терпел унижения, а потом к нему подослали убийц. Князя повалили на землю и вонзили ему в грудь нож.

(Б) стал великим князем и сидел в (Е – название города) до 1322 года а затем (Г) хан передал ярлык (Ж – имя и прозвище), сыну (Д). В (З – год) (Ж), встретив в Орде (Б), убил его, мстя за отца, и тут же был казнён по приказу хана (Г). Но великое княжение осталось за тверскими князьями.

В Москве же на престол взошёл брат (Б) (И – имя и прозвище) – человек коварный, хитрый, склонный к накопительству. Он жаждал получить ярлык, но умел ждать своего часа. Подарками хану и его окружению (И) заслужил расположение в Орде.

Варианты для пропусков А, З	Варианты для пропусков Б, В, Г, Д, Ж	Варианты для пропуска Е
1317 г.	Александр Михайлович	Владимир
1322 г.	Дмитрий Грозные Очи	Киев
1325 г.	Иван Калита	Рязань
1326 г.	Кончака	Великий Новгород
1327 г.	Михаил Ярославич	Нижний Новгород
1328 г.	Ногай	Псков
	Тайдула	
	Узбек	
	Юрий Данилович	

Ответ:

Пропуск	Нужная вставка
А)	1317 г. +
Б)	Юрий Данилович +
В)	Кончака +
Г)	Узбек +
Д)	Михаил Ярославич +
Е)	Владимир +
Ж)	Дмитрий Грозные очи +
З)	1325 г. +
И)	Иван Калита +

За каждое верное соотнесение – 1 балл.  
Максимум за задание – 10 баллов.



17. Установите соответствие между фрагментами исторических источников и их краткими характеристиками: к каждому фрагменту, обозначенному буквой, подберите по три соответствующие характеристики, обозначенные цифрами. Обратите внимание на то, что среди приведённых характеристик есть «лишние».

**Фрагменты источников:**

- А) «Скончался благоверный и великий князь русский Владимир, сын благоверного отца Всеволода, украшенный добрыми нравами, прославленный победами. Перед его именем трепетали все страны, и по всем землям прошел слух о нем, поскольку он всей душой возлюбил Бога... Потому и не щадил имущества своего, раздавая страждущим, и церкви воздвигая и украшая; особенно же почитал (монашеский) чин и священнический, давая им необходимое и принимая от них молитвы. Великую веру имел к Богу и родичам своим, к святым мученикам Борису и Глебу, потому и церковь прекрасную создал на Альте в имя их, где была пролита кровь святого Бориса. И жалостлив был чрезмерно, и дар этот от Бога принял, так что когда входил в церковь и слышал пение, тотчас испускал слезу и мольбы к Владыке Христу со слезами обращал: поэтому и Бог все прощенья его удовлетворял, и лета его наполнил благополучием».
- Б) «Да в нынешнем во 7117-м году, декабря в 5 день приходили к Нижнему воровские люди: нижегородцы и арзамасцы, дети боярские и черемиса и всякие подымные люди, к Нижнему приступали и Божию милостию и Пречистые Богородицы и Московских чудотворцов помощью и государевым счастьем на выласке воевода Ондрей Семенович Олябьев з дворяны и з детми боярскими и з головы стрелецкими, с литвою и с немцы и с нижегородцы с посадцкими с охочими со всякими служилыми людми воров в Нижнем всех побили и языков поймали болши трёх сот человек, а побивали их, воровских людей, на пятнатцати верстех и болши, а знамена и набаты поймали, а ушло тех воровских людей не много врознь потому, что стала ночная пора и государевы люди пришли в Нижней дал Бог здоровы».
- В) «Кольми же паче должны мы иметь попечение о целости всего нашего государства, которое с помощью божию, ныне паче распространено, как всем видимо есть; чего для заблагодарсудили мы сей устав учинить, дабы сие было всегда в воле правительствующего государя, кому оной хочет, тому и определит наследство, и определенному, видя какое непотребство, паки отменит, дабы дети и потомки не впали в такую злость, как выше писано, имея сию узду на себе».

**Характеристики:**

- 1) Время создания источника, фрагмент которого приведён, относится к периоду правления Петра I.
- 2) Вид данного исторического источника – летопись.
- 3) Князь, о котором идёт речь в приведённом фрагменте источника, – Владимир Мономах.
- 4) Вид данного исторического источника – законодательный акт.
- 5) В источнике, фрагмент которого приведён, идёт речь об установлении четких системы и порядка престолонаследия.
- 6) Источник, фрагмент которого приведён, представляет собой отчёт должностных лиц о своих действиях.
- 7) Автор даёт князю, о котором идёт речь в приведённом фрагменте, резко отрицательную характеристику, упрекая его в участии в междоусобных войнах.

- 8) Автор дает позитивную характеристику князю, о котором идёт речь в приведённом фрагменте, отмечая прежде всего его искреннюю набожность.
- 9) События, о которых идёт речь в приведённом фрагменте источника, происходили в период правления Василия Шуйского.
- 10) В источнике рассказывается о победе верных «официальному» монарху людей над людьми, находившимися на службе самозванца.
- 11) В источнике рассказывается о победе людей, находившихся на службесамозванца, над верными «официальному» монарху людьми.
- 12) В источнике, фрагмент которого приведён, говорится о праве монарха самостоятельно назначать себе наследника.

46  
**Ответ:**

А			Б			В		
2+	3+	8+	6+	9+	10+	1+	4+	

**За каждое верное соотнесение – 2 балла.**

**Максимум за задание – 18 баллов.**

**Максимум за работу – 79 баллов.**

## ВСЕРОССИЙСКАЯ ОЛИМПИАДА ШКОЛЬНИКОВ ИСТОРИЯ.

2022–2023 уч. г.

## ШКОЛЬНЫЙ ЭТАП. 8 КЛАСС

1. Укажите участника особого административно-территориального образования в составе русского государства, пропущенного в приведённом ряду.

Алексей Басманов, Афанасий Вяземский, Малюта Скуратов, ... Богдан Бельский  
Алексей Адашев  
Андрей Курбский  
Иван Фёдоров

10 Ответ: Богдан Бельский

Максимум за задание – 1 балл.

2. Укажите год заключения мирного договора России с одним из иностранных государств, пропущенный в приведённом ряду.

1618 г., 1634 г., 1667 г., ...

1672 г.

1681 г.

1686 г.

1689 г.

15 Ответ: 1686

Максимум за задание – 1 балл.

3. Какие из перечисленных дат отражают годы смены российских монархов на престоле в XVII веке?

1) 1633 г.

2) 1645 г.

3) 1652 г.

4) 1676 г.

5) 1682 г.

6) 1690 г.

25 Ответ: 2 4 5

За полностью правильный ответ – 2 балла.

За ответ с одной ошибкой – 1 балл.

Максимум за задание – 2 балла.

4. Какие из перечисленных явлений возникли в Российском государстве XV веке?

1) кормления

2) местничество

3) подворное налогообложение

4) уплата пожилого

5) полки иноземного строя

6) старообрядчество.

25 Ответ: 1, 2, 4

За полностью правильный ответ – 2 балла.

За ответ с одной ошибкой – 1 балл.

Максимум за задание – 2 балла.



5. Какие из приведённых событий произошли в 1492 году?

- 1) битва на реке Шелони
- 2) женитьба Ивана III на Софье Палеолог
- 3) захват Константинополя турками-османами
- 4) открытие Америки Христофором Колумбом
- 5) переход с мартовского года на сентябрьский в Московском государстве
- 6) прекращение существования Гранадского эмирата на территории Пиренейского полуострова.

25  
 Ответ: 456

За полностью правильный ответ – 2 балла.

За ответ с одной ошибкой – 1 балл.

Максимум за задание – 2 балла.

6. Расположите приведённые названия городов в хронологической последовательности их присоединения к Московскому княжеству/ государству.

- 1) Коломна
- 2) Нижний Новгород
- 3) Псков
- 4) Рязань
- 5) Тверь
- 6) Ярославль

Ответ:

1	2	3	4	5	6

За каждую верную пару – 1 балл.

Максимум за задание – 6 баллов.

7. Установите соответствие между годами и событиями всеобщей истории, произошедшими в эти годы.

Год	Событие
А) 1204 г.	1) битва при Босворте, окончание Войны Алой и Белой розы в Англии
Б) 1302 г.	2) взятие Константинополя крестоносцами
В) 1485 г.	3) окончание Столетней войны
Г) 1517 г.	4) опубликование «95 тезисов» Мартина Лютера
Д) 1683 г.	5) осада Вены войсками Османской империи
	6) создание Генеральных штатов во Франции

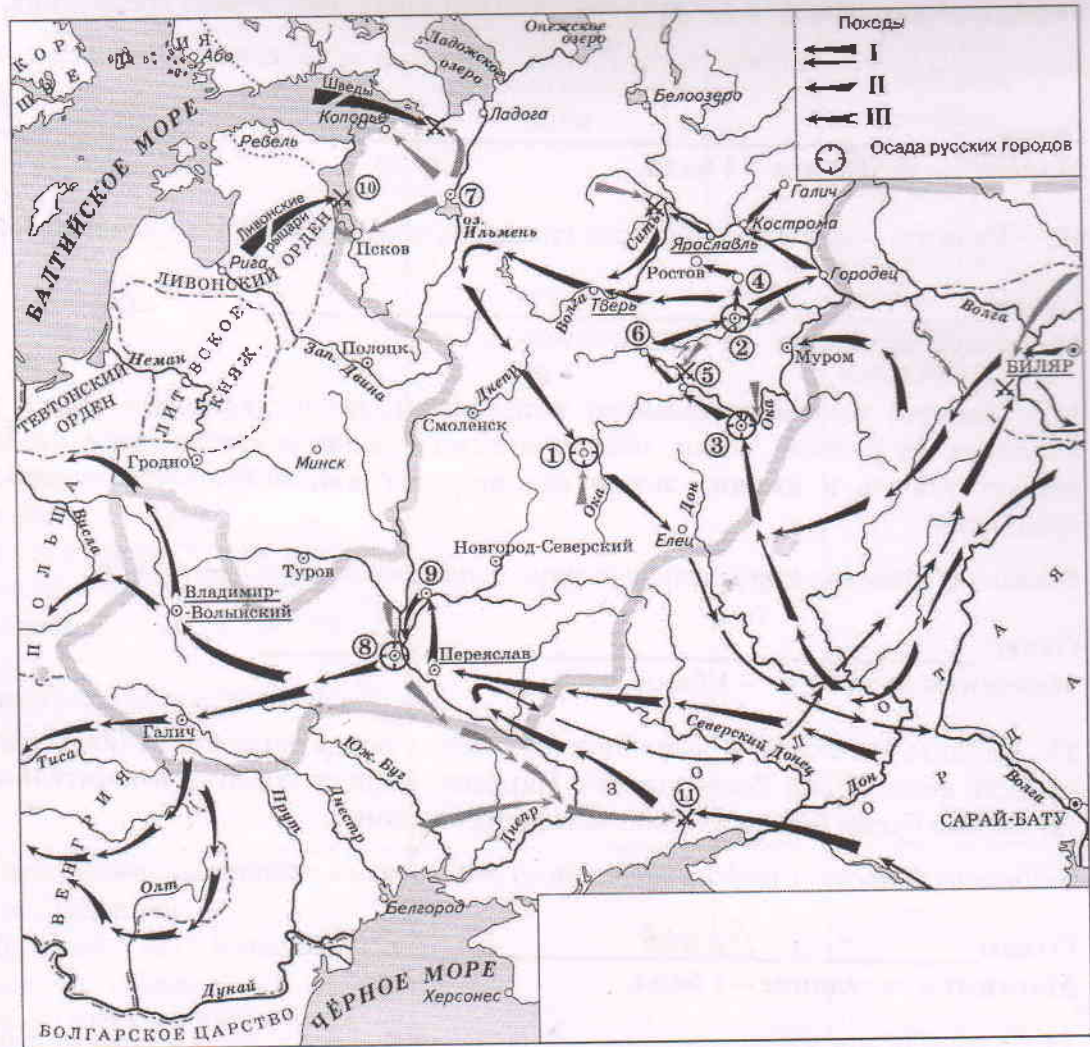
58  
 Ответ:

А	Б	В	Г	Д
2	6	1	4	5

За каждую верную пару – 1 балл.

Максимум за задание – 5 баллов.

8. Установите соответствие между названиями произведений средневековой русской литературы и именами их авторов.



Произведения	Авторы
А) «Благохотящим царём правительницаи землемерие»	1) Авраамий Палицын
Б) «Житие преподобного Сергия» В)	2) Епифаний Премудрый
«Сказание о Магмет-салтане»	3) Ермолай-Еразм
Г) «Сказание о осаде Троицкого Сергиева монастыря от поляков и литвы и о бывшихпотом в России мятежах»	4) Иван Пересветов
Д) «Слово о законе и благодати»	5) митрополит Иларион
	6) протопоп Аввакум

Ответ:

А	Б	В	Г	Д
3 +	2 +	4 +	1 +	5 +

За каждую верную пару – 1 балл.  
Максимум за задание – 5 баллов.

9–14. Внимательно рассмотрите схему и выполните задания.

9. Назовите город, обозначенный на схеме цифрой 2. Название следует записать в

именительном падеже с заглавной буквы без каких-либо знаков препинания.

Внимание! Ответы с орфографическими ошибками не засчитываются.

Ответ: \_\_\_\_\_

Максимум за задание – 1 балл.

10. Укажите год, когда произошло сражение, обозначенное на схеме цифрой 10.

10 Ответ: 1242

Максимум за задание – 1 балл.

11. Укажите имя военачальника и правителя, осуществлявшего общее руководство походами на русские земли, обозначенными в легенде схемы цифрами II и III. Имя следует указать в именительном падеже с заглавной буквы без каких-либо знаков препинания.

Внимание! Ответы с орфографическими ошибками не засчитываются.

Ответ: \_\_\_\_\_

Максимум за задание – 1 балл.

12. Найдите на схеме и выпишите название реки, в ходе сражения на которой погиб великий князь Юрий Всеволодович. Название следует указать в именительном падеже с заглавной буквы без каких-либо знаков препинания.

Внимание! Ответы с орфографическими ошибками не засчитываются.

Ответ: 1456 Реть

Максимум за задание – 1 балл.

13. Укажите год, когда состоялся поход, обозначенный в легенде схемы цифрой I.

Ответ: \_\_\_\_\_

Максимум за задание – 1 балл.

14. Выберите верные утверждения.

- 1) В результате похода, обозначенного в легенде схемы цифрой I, был разгромлен Хазарский каганат.
- 2) Город, обозначенный на схеме цифрой 1, сопротивлялся противнику в течение семи недель.
- 3) Город, обозначенный на схеме цифрой 8, был взят противником в 1240 году.
- 4) Город, обозначенный на схеме цифрой 7, был взят и разграблен в ходе похода, обозначенного в легенде схемы цифрой II.
- 5) Город, обозначенный на схеме цифрой 3, после взятия и разорения противником восстановился и продолжил оставаться столицей удельного княжества.
- 6) В сражении, обозначенном на схеме цифрой 11, погиб галицкий князь Мстислав Мстиславич Удатный.

15 Ответ: 1 3 5 8

За каждое верно выбранное/невыбранное утверждение – 1 балл. Максимум за задание – 6 баллов.

15. Определите пропущенные в таблице события, даты и исторические документы, обозначенные заглавными буквами. Обратите внимание: среди предлагаемых вставок есть



«лишние» элементы.

Фрагмент законодательного акта	Название законодательного акта	Год	Событие всеобщей истории, происшедшее в тот же год
(А)	Указ о единонаследии	(Б)	Окончание войны за испанское наследство
«Будет кто каким умышлением учнет мыслити на Государское здоровье злое дело, и про то его злое умышление кто известить, и по тому извету про то его злоеумышление сыщется до прямиа, что он на Царское Величество злое дело мыслил, и делать хотел: и такова по сыску казнити смертию»	(В)	1649 г.	(Г)
«...Бояре, Окольничие и Думные люди, тако ж Стольники, и Стряпчие, Дворяне и дети Боярские [...] познавше, что те дела местничества отеческого ничто ино, токмо гордость и любви и отсечение и Нашим Государским всяким делам повреждение приносят, вси радостными сердцы Нам Великому Государю донесли, чтобы Мы, Великий Государь, Царь и Великий Князь Феодор Алексеевич указали, то виновное всякия злобы дело и братоненавидение, разоряющее любовь, то есть местничество отечественное оставить и вечно и искоренить...».	Соборное деяние об уничтожении местничества	(Д)	(Е)



И-08-03

Выберите варианты:

Варианты для пропуска А, Ж	Варианты для пропусков В, З	Варианты для пропусков Б, Д	Варианты для пропусков Г, Е
<p>«А Христианом отказыватися из волости, ис села в село, один срок в году, за неделю до Юрьева дни осеннего и неделю после Юрьева дни осеннего. Дворы пожилые платят в полех за двор рубль, а в лесех полтина. А которой христианин поживет за ким год, да пойдет прочь, и он платит четверть двора, а два года поживет да поидеть прочь, и он полдвора платит; а три годы поживет, а поидет прочь, и он платит три четверти двора; а четыре года поживет, и он весь двор платит»</p>	Соборное уложение	1667 г.	основание французскими исследователями колонии в устье реки Миссисипи
<p>«Которые крестьяне от сего числа пред сим за 15 лет в книгах 101-го году положены, и тем быть за теми, за кем писаны; а буде те крестьяне вышли за кого иного, и в том есть на крестьян тех или на тех, кто их держит, челобитье, и те дела не вершены, или кто сентября по 1-е число сего года будет бить челом, и тех крестьян отдавати по тем книгам, с женами и детми и со всеми их животы, тем, за кем они писаны, до сроку рождества христова 116 году без пожилаго ...»</p>	Судебник	1682 г.	заклучение Вестфальского мира, завершение Тридцатилетней войны

«Кто имеет сыновей и ему же, аще хошет, единому из оных дать недвижимое, чрез духовную, тому в наследие и будет. Другие же дети обоого полу да награждены будут движимыми имении, которые должен отец их или мать разделить им при себе, как сыновьям, так и дочерям, колико их будет, по своей воли, кроме оногo одного, который в недвижимых наследником будет»	Уложение о крестьянах	1714 г.	казнь английского короля Карла I Стюарта
Оубьеть моужь моужа, то мьстить братоу брата, или сынови отца, любо отцю сына, или братоучадоу, любо сестриноу сынови; аще не боудеть кто мьстя, то 40 гривень за голову; аще боудеть роусинь, любо гридинь, любо коупчина, любо ябетникь, любо мечникь, аще изьгой боудеть, любо словенинь, то 40 гривень положити за нь.	Духовный регламент	1581 г.	Крестьянская война в Германии
А князь и посадник на вечисуду не судить; судити им у князя на сенех, взираа в правду, по крестному целованию. А не вьсудят в правду, ино Бог буди им судиа на втором пришествии Христове. А тайных посулов не имать ни князю, ни посаднику.	Указ о заповедных летах	1550 г.	Публикация «95 тезисов» доктора богословия Мартина Лютера

<p>Должна же есть Коллегия сия, и новыми впредь правилами дополнять Регламент свой, яковых правил востребуют разные разных дел случаи. Однакож делать сие должна Коллегия Духовная на базе Нашего соизволения. Определяем же в сей Духовной Коллегии быть именованным зде Членам: единому Президенту, двоим Вице-Президентам, четырем Советникам, четырем Ассессорам.</p>	Указ урочных годах	об 1721 г.	Нантский эдикт
		1722 г.	

Ответ:

Пропуск	Нужная вставка
А)	
Б)	
В)	
Г)	
Д)	
Е)	
Ж)	
З)	

За каждое верное соотнесение – 2 балла.  
Максимум за задание – 16 баллов.

16. Определите пропущенные в тексте названия, имена, годы, обозначенные буквами. При буквенных обозначениях пропусков даются пояснения о характере требуемой



вставки. Порядковые номера необходимых вставок впишите под соответствующими буквами в приведённую таблицу. Варианты вставок даны в единственном числе, именительном падеже. Обратите внимание на то, что среди вставок есть «лишние».

В (А – год) недалеко от Твери произошло сражение. Москвичи и монголы были разбиты. Московскому князю (Б – имя и отчество) удалось бежать, но его жена (В – монгольское имя) оказалась в плену. В Твери она неожиданно умерла. Стали поговаривать, что ее отравили.

(Б) и Кавгадый поехали к брату покойной ордынскому хану (Г – имя) и обвинили тверского князя (Д – имя и отчество) в убийстве. Хан вызвал князя к себе и устроил над ним суд. Его признали виновным в том, что он противился воле хана и бился с его войском, а также в смерти княгини. Почти месяц он терпел унижения, а потом к нему подослали убийц. Князя повалили на землю и вонзили ему в грудь нож.

(Б) стал великим князем и сидел в (Е – название города) до 1322 года а затем (Г) хан передал ярлык (Ж – имя и прозвище), сыну (Д). В (З – год) (Ж), встретив в Орде (Б), убил его, мстя за отца, и тут же был казнён по приказу хана (Г). Но великое княжение осталось за тверскими князьями.

В Москве же на престол взошёл брат (Б) (И – имя и прозвище) – человек коварный, хитрый, склонный к накопительству. Он жаждал получить ярлык, но умел ждать своего часа. Подарками хану и его окружению (И) заслужил расположение в Орде.

Варианты для пропусков А, З	Варианты для пропусков Б, В, Г, Д, Ж	Варианты для пропуска Е
1317 г.	Александр Михайлович	Владимир
1322 г.	Дмитрий Грозные Очи	Киев
1325 г.	Иван Калита	Рязань
1326 г.	Кончака	Великий Новгород
1327 г.	Михаил Ярославич	Нижний Новгород
1328 г.	Ногай	Псков
	Тайдула	
	Узбек	
	Юрий Данилович	

Ответ:

Пропуск	Нужная вставка
А)	1317 +
Б)	Юрий Данилович +
В)	Кончака +
Г)	Узбек +
Д)	Михаил Ярославич +
Е)	Владимир +
Ж)	Дмитрий Грозные Очи +
З)	1325 +
И)	Иван Калита +

За каждое верное соотнесение – 1 балл.  
Максимум за задание – 10 баллов.



17. Установите соответствие между фрагментами исторических источников и их краткими характеристиками: к каждому фрагменту, обозначенному буквой, подберите по три соответствующие характеристики, обозначенные цифрами. Обратите внимание на то, что среди приведённых характеристик есть «лишние».

**Фрагменты источников:**

- А) «Скончался благоверный и великий князь русский Владимир, сын благоверного отца Всеволода, украшенный добрыми нравами, прославленный победами. Перед его именем трепетали все страны, и по всем землям прошел слух о нем, поскольку он всей душой возлюбил Бога... Потому и не щадил имущества своего, раздавая страждущим, и церкви воздвигая и украшая; особенно же почитал (монашеский) чин и священнический, давая им необходимое и принимая от них молитвы. Великую веру имел к Богу и родичам своим, к святым мученикам Борису и Глебу, потому и церковь прекрасную создал на Альте в имя их, где была пролита кровь святого Бориса. И жалостлив был чрезмерно; и дар этот от Бога принял, так что когда входил в церковь и слышал пение, тотчас испускал слезу и молился к Владыке Христу со слезами обращал: поэтому и Бог все прощенья его удовлетворял, и лета его наполнил благополучием».
- Б) «Да в нынешнем во 7117-м году, декабря в 5 день приходили к Нижнему воровские люди: нижегородцы и арзамасцы, дети боярские и черемиса и всякие подымные люди, к Нижнему приступали и Божиею милостию и Пречистые Богородицы и Московских чудотворцов помощью и государевым счастьем на выласке воевода Ондрей Семенович Олябьев з дворяны и з детми боярскими и з головы стрелецкими, с литвою и с немцы и с нижегородцы с посадцкими с охочими со всякими служилыми людьми воров в Нижнем всех побили и языков поймали болши трёх сот человек, а побивали их, воровских людей, на пятнатцати верстех и болши, а знамена и набаты поймали, а ушло тех воровских людей не много врознь потому, что стала ночная пора и государевы люди пришли в Нижней дал Бог здоровы».
- В) «Кольми же паче должны мы иметь попечение о целости всего нашего государства, которое с помощью божиею, ныне паче распространено, как всем видимо есть; чего для заблагорасудили мы сей устав учинить, дабы сие было всегда в воле правительствующего государя, кому оной хочет, тому и определит наследство, и определенному, видя какое непотребство, паки отменит, дабы дети и потомки не впали в такую злость, как выше писано, имея сию узду на себе».

**Характеристики:**

- 1) Время создания источника, фрагмент которого приведён, относится к периоду правления Петра I.
- 2) Вид данного исторического источника – летопись.
- 3) Князь, о котором идёт речь в приведённом фрагменте источника, – Владимир Мономах.
- 4) Вид данного исторического источника – законодательный акт.
- 5) В источнике, фрагмент которого приведён, идёт речь об установлении четких системы и порядка престолонаследия.
- 6) Источник, фрагмент которого приведён, представляет собой отчёт должностных лиц о своих действиях.
- 7) Автор даёт князю, о котором идёт речь в приведённом фрагменте, резко отрицательную характеристику, упрекая его в участии в междоусобных войнах.

- 8) Автор дает позитивную характеристику князю, о котором идёт речь в приведённом фрагменте, отмечая прежде всего его искреннюю набожность.
- 9) События, о которых идёт речь в приведённом фрагменте источника, происходили в период правления Василия Шуйского.
- 10) В источнике рассказывается о победе верных «официальному» монарху людей над людьми, находившимися на службе самозванца.
- 11) В источнике рассказывается о победе людей, находившихся на службе самозванца, над верными «официальному» монарху людьми.
- 12) В источнике, фрагмент которого приведён, говорится о праве монарха самостоятельно назначать себе наследника.

**Ответ:**

А			Б			В		
2	3	8	6	9	10	1	4	12

За каждое верное соотнесение – 2 балла.  
 Максимум за задание – 18 баллов.

Максимум за работу – 79 баллов.

185

ВСЕРОССИЙСКАЯ ОЛИМПИАДА ШКОЛЬНИКОВ ИСТОРИЯ.  
2022–2023 уч. г.  
ШКОЛЬНЫЙ ЭТАП. 8 КЛАСС

1. Укажите участника особого административно-территориального образования в составе русского государства, пропущенного в приведённом ряду.

Алексей Басманов, Афанасий Вяземский, Малюта Скуратов, ... Богдан Бельский  
Алексей Адашев  
Андрей Курбский  
Иван Фёдоров

— Ответ: Иван Фёдоров Бельский

Максимум за задание – 1 балл.

2. Укажите год заключения мирного договора России с одним из иностранных государств, пропущенный в приведённом ряду.

1618 г., 1634 г., 1667 г., ...

1672 г.

1681 г.

1686 г.

1689 г.

15 Ответ: 1686г

Максимум за задание – 1 балл.

3. Какие из перечисленных дат отражают годы смены российских монархов на престоле в XVII веке?

1) 1633 г.

2) 1645 г.

3) 1652 г.

4) 1676 г.

5) 1682 г.

6) 1690 г.

05 Ответ: 1645г 245

За полностью правильный ответ – 2 балла.

За ответ с одной ошибкой – 1 балл.

Максимум за задание – 2 балла.

4. Какие из перечисленных явлений возникли в Российском государстве в XV веке?

1) кормления

2) местничество

3) подворное налогообложение

4) уплата пожилого

5) полки иноземного строя

6) старообрядчество.

15 Ответ: 1, 4, 5

За полностью правильный ответ – 2 балла.

За ответ с одной ошибкой – 1 балл.

Максимум за задание – 2 балла.



5. Какие из приведённых событий произошли в 1492 году?

- 1) битва на реке Шелони
- 2) женитьба Ивана III на Софье Палеолог
- 3) захват Константинополя турками-османами
- 4) открытие Америки Христофором Колумбом
- 5) переход с мартовского года на сентябрьский в Московском государстве
- 6) прекращение существования Гранадского эмирата на территории Иберийского полуострова.

06  
 Ответ: 4, 5, 6.

За полностью правильный ответ – 2 балла.

За ответ с одной ошибкой – –1 балл.

Максимум за задание – 2 балла.

6. Расположите приведённые названия городов в хронологической последовательности их присоединения к Московскому княжеству/ государству.

- 1) Коломна
- 2) Нижний Новгород
- 3) Псков
- 4) Рязань
- 5) Тверь
- 6) Ярославль

48  
 Ответ:

1	2	3	4	5	6
1	2	6	54	3	46

За каждую верную пару – 1 балл.

Максимум за задание – 6 баллов.

7. Установите соответствие между годами и событиями всеобщей истории, произошедшими в эти годы.

Год	Событие
А) 1204 г.	1) битва при Босворте, окончание Войны Алой и Белой розы в Англии
Б) 1302 г.	2) взятие Константинополя крестоносцами
В) 1485 г.	3) окончание Столетней войны
Г) 1517 г.	4) опубликование «95 тезисов» Мартина Лютера
Д) 1683 г.	5) осада Вены войсками Османской империи
	6) создание Генеральных штатов во Франции

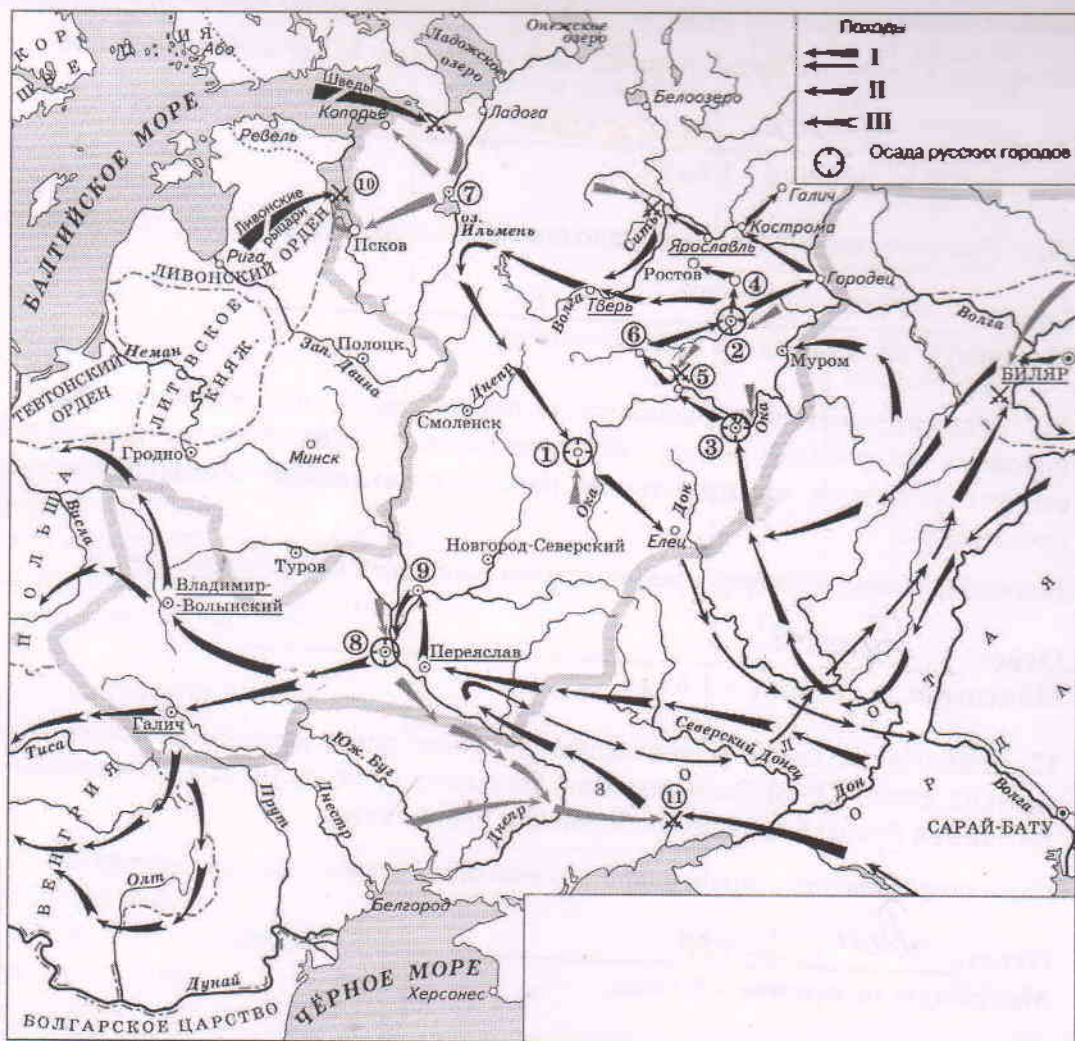
38  
 Ответ:

А	Б	В	Г	Д
52	6+	1+	4+	4-

За каждую верную пару – 1 балл.

Максимум за задание – 5 баллов.

8. Установите соответствие между названиями произведений средневековой русской литературы и именами их авторов.



Произведения	Авторы
А) «Благохотящим царём правительницаи землемерие»	1) Авраамий Палицын
Б) «Житие преподобного Сергия» В) «Сказание о Магмет-салтане»	2) Епифаний Премудрый
Г) «Сказание о осаде Троицкого Сергиева монастыря от поляков и литвы и о бывших потом в России мятежах»	3) Ермолай-Еразм
Д) «Слово о законе и благодати»	4) Иван Пересветов
	5) митрополит Иларион
	6) протопоп Аввакум

Ответ:

об

А	Б	В	Г	Д
4 3	1 2	3 4	6 1	2 5

За каждую верную пару – 1 балл.  
Максимум за задание – 5 баллов.

9–14. Внимательно рассмотрите схему и выполните задания.

9. Назовите город, обозначенный на схеме цифрой 2. Название следует записать в

именительном падеже с заглавной буквы без каких-либо знаков препинания.

Внимание! Ответы с орфографическими ошибками не засчитываются.

0 Ответ: Минск Владимир  
Максимум за задание – 1 балл.

10. Укажите год, когда произошло сражение, обозначенное на схеме цифрой 10.

10 Ответ: 1242  
Максимум за задание – 1 балл.

11. Укажите имя военачальника и правителя, осуществлявшего общее руководство походами на русские земли, обозначенными в легенде схемы цифрами II и III. Имя следует указать в именительном падеже с заглавной буквы без каких-либо знаков препинания.

Внимание! Ответы с орфографическими ошибками не засчитываются.

1 Ответ: Батый  
Максимум за задание – 1 балл.

12. Найдите на схеме и выпишите название реки, в ходе сражения на которой погиб великий князь Юрий Всеволодович. Название следует указать в именительном падеже с заглавной буквы без каких-либо знаков препинания.

Внимание! Ответы с орфографическими ошибками не засчитываются.

0 Ответ: Дон Сеть  
Максимум за задание – 1 балл.

13. Укажите год, когда состоялся поход, обозначенный в легенде схемы цифрой I.

0 Ответ: 1240, 1223  
Максимум за задание – 1 балл.

14. Выберите верные утверждения.

- 1) В результате похода, обозначенного в легенде схемы цифрой I, был разгромлен Хазарский каганат.
- 2) Город, обозначенный на схеме цифрой 1, сопротивлялся противнику в течение семи недель.
- 3) Город, обозначенный на схеме цифрой 8, был взят противником в 1240 году.
- 4) Город, обозначенный на схеме цифрой 7, был взят и разграблен в ходе похода, обозначенного в легенде схемы цифрой II.
- 5) Город, обозначенный на схеме цифрой 3, после взятия и разорения противником восстановился и продолжил оставаться столицей удельного княжества.
- 6) В сражении, обозначенном на схеме цифрой 11, погиб галицкий князь Мстислав Мстиславич Удатный.

55 Ответ: 2, 3, 5

За каждое верно выбранное/невыбранное утверждение – 1 балл. Максимум за задание – 6 баллов.

15. Определите пропущенные в таблице события, даты и исторические документы, обозначенные заглавными буквами. Обратите внимание: среди предлагаемых вставок есть



«лишние» элементы.

Фрагмент законодательного акта	Название законодательного акта	Год	Событие всеобщей истории, происшедшее в тот же год
(А)	Указ о единонаследии	(Б)	Окончание войны за испанское наследство
«Будет кто каким умышлением учнет мыслити на Государское здоровье злое дело, и про то его злое умышление кто известить, и по тому извету про то его злоеумышление сыщется до пряма, что он на Царское Величество злое дело мыслил, и делать хотел: и такова по сыску казнити смертию»	(В)	1649 г.	(Г)
«...Бояре, Окольничие и Думные люди, тако ж Стольники, и Стряпчие, Дворяне и дети Боярские [...] познавше, что тедела местничества отеческого ничто ино, токмо гордость и любви и отсечение и Нашим Государским всяким делам повреждение приносят, вси радостными сердцы Нам Великому Государю донесли, чтобы Мы, Великий Государь, Царь и Великий Князь Феодор Алексеевич указали, то виновное всякия злобы дело и братоненавидение, разоряющее любовь, то есть местничество отечественное оставить и вечно и искоренить...».	Соборное деяние об уничтожении местничества	(Д)	(Е)

Выберите варианты:

Варианты для пропусков А, Ж	Варианты для пропусков В, З	Варианты для пропусков Б, Д	Варианты для пропусков Г, Е
<p>«А Христианом отказыватися из волости, ис села в село, один срок в году, за неделю до Юрьева дни осеннего и неделю после Юрьева дни осеннего. Дворы пожилые платят в полех за двор рубль, а в лесех полтина. А которой христианин поживет за ким год, да пойдет прочь, и он платит четверть двора, а два года поживет да пойдет прочь, и он полдвора платит; а три годы поживет, а пойдет прочь, и он платит три четверти двора; а четыре года поживет, и он весь двор платит»</p>	Соборное уложение	1667 г.	основание французскими исследователями колонии в устье реки Миссисипи
<p>«Которые крестьяне от сего числа пред сим за 15 лет в книгах 101-го году положены, и тем быть за теми, за кем писаны; а буде те крестьяне вышли за кого иного, и в том есть на крестьян тех или на тех, кто их держит, челобитье, и те дела не вершены, или кто сентебря по 1-е число сего года будет бить челом, и тех крестьян отдавати по тем книгам, с женами и детьми и со всеми их животы, тем, за кем они писаны, до сроку рождества христова 116 году без пожилаго ...»</p>	Судебник	1682 г.	заклочение Вестфальского мира, завершение Тридцатилетней войны

«Кто имеет сыновей и ему же, аще хошет, единому из оных дать недвижимое, чрез духовную, тому в наследие и будет. Другие же дети обоего полу да награждены будут движимыми имении, которые должен отец их или мать разделить им при себе, как сыновьям, так и дочерям, колико их будет, по своей воли, кроме одного, который в недвижимых наследником будет»	Уложение о крестьянах	1714 г.	казнь английского короля Карла I Стюарта
Оубьеть моужь моужа, то мьстить братоу брата, или сынови отца, либо отцю сына, или братоучадоу, либо сестриноу сынови; аще не боудеть кто мьстя, то 40 гривень за голову; аще боудеть роусинь, либо гридинь, либо коупчина, либо ябетникь, либо мечникь, аще изьгой боудеть, либо словенинь, то 40 гривень положити за нь.	Духовный регламент	1581 г.	Крестьянская война в Германии
А князь и посадник на вечисуду не судить; судити им у князя на сенех, взираа в правду, по крестному целованию. А не въсудят в правду, ино Бог буди им судиа на втором пришествии Христове. А тайных посулов не иматъ ни князю, ни посаднику.	Указ о заповедных летах	1550 г.	Публикация «95 тезисов» доктора богословия Мартина Лютера



<p>Должна же есть Коллегия сия, и новыми впредь правилами дополнять Регламент свой, яковых правил востребуяют разные разных дел-случаи. Однакож делать сие должна Коллегия Духовная на базе Нашего соизволения. Определяем же в сей Духовной Коллегии быть именованным зде Членам: единому Президенту, двоим Вице-Президентам, четырем Советникам, четырем Ассессорам.</p>	<p>Указ урочных годах</p>	<p>об 1721 г.</p>	<p>Нантский эдикт</p>
		<p>1722 г.</p>	

Ответ:

Пропуск	Нужная вставка
А)	(2)(01 а) с
Б)	(В) (02 В) 2
В)	(Б) (03 2) 2
Г)	(2)(03 В) а
Д)	(В)(01 В) В
Е)	(Е) (04 Ж) Ж
Ж)	(Ж)(05 3) 3
З)	(З)(02 а) Д

За каждое верное соотнесение – 2 балла.  
Максимум за задание – 16 баллов.

16. Определите пропущенные в тексте названия, имена, годы, обозначенные буквами. При буквенных обозначениях пропусков даются пояснения о характере требуемой

И-0803

вставки. Порядковые номера необходимых вставок впишите под соответствующими буквами в приведённую таблицу. Варианты вставок даны в единственном числе, именительном падеже. Обратите внимание на то, что среди вставок есть «лишние».

В (А – год) недалеко от Твери произошло сражение. Москвичи и монголы были разбиты. Московскому князю (Б – имя и отчество) удалось бежать, но его жена (В – монгольское имя) оказалась в плену. В Твери она неожиданно умерла. Стали поговаривать, что ее отравили.

(Б) и Кавгадый поехали к брату покойной ордынскому хану (Г – имя) и обвинили тверского князя (Д – имя и отчество) в убийстве. Хан вызвал князя к себе и устроил над ним суд. Его признали виновным в том, что он противился воле хана и бился с его войском, а также в смерти княгини. Почти месяц он терпел унижения, а потом к нему подослали убийц. Князя повалили на землю и вонзили ему в грудь нож.

(Б) стал великим князем и сидел в (Е – название города) до 1322 года а затем (Г) хан передал ярлык (Ж – имя и прозвище), сыну (Д). В (З – год) (Ж), встретив в Орде (Б), убил его, мстя за отца, и тут же был казнён по приказу хана (Г). Но великое княжение осталось за тверскими князьями.

В Москве же на престол взошёл брат (Б) (И – имя и прозвище) – человек коварный, хитрый, склонный к накопительству. Он жаждал получить ярлык, но умел ждать своего часа. Подарками хану и его окружению (И) заслужил расположение в Орде.

Варианты для пропусков А, З	Варианты для пропусков Б, В, Г, Д, Ж	Варианты для пропуска Е
1317 г.	1 Александр Михайлович	010 Владимир
1322 г.	2 Дмитрий Грозные Очи	020 Киев
1325 г.	3 Иван Калита	030 Рязань
1326 г.	4 Кончака	040 Великий Новгород
1327 г.	5 Михаил Ярославич	050 Нижний Новгород
1328 г.	6 Ногай	060 Псков
	7 Тайдула	
	8 Узбек	
	9 Юрий Данилович	

Ответ:

Пропуск	Нужная вставка
А)	1317 г (010) +
Б)	1 -
В)	4 +
Г)	3 -
Д)	8 -
Е)	050 -
Ж)	2 +
З)	1328 г (060) -
И)	060 -

За каждое верное соотнесение – 1 балл.  
Максимум за задание – 10 баллов.

17. Установите соответствие между фрагментами исторических источников и их краткими характеристиками: к каждому фрагменту, обозначенному буквой, подберите по три соответствующие характеристики, обозначенные цифрами. Обратите внимание на то, что среди приведённых характеристик есть «лишние».

#### Фрагменты источников:

- А) «Скончался благоверный и великий князь русский Владимир, сын благоверного отца Всеволода, украшенный добрыми нравами, прославленный победами. Перед его именем трепетали все страны, и по всем землям прошел слух о нем, поскольку он всей душой возлюбил Бога... Потому и не щадил имущества своего, раздавая страждущим, и церкви воздвигая и украшая; особенно же почитал (монашеский) чин и священнический, давая им необходимое и принимая от них молитвы. Великую веру имел к Богу и родичам своим, к святым мученикам Борису и Глебу, потому и церковь прекрасную создал на Альте в имя их, где была пролита кровь святого Бориса. И жалостлив был чрезмерно, и дар этот от Бога принял, так что когда входил в церковь и слышал пение, тотчас испускал слезу и мольбы к Владыке Христу со слезами обращал: поэтому и Бог все прощенья его удовлетворял, и лета его наполнил благополучием».
- Б) «Да в нынешнем во 7117-м году, декабря в 5 день приходили к Нижнему воровские люди: нижегородцы и арзамасцы, дети боярские и черемисаи всякие подымные люди, к Нижнему приступали и Божиею милостию и Пречистые Богородицы и Московских чудотворцов помощью и государевым счастьем на выласке воевода Ондрей Семенович Олябьев з дворяны и з детми боярскими и з головы стрелецкими, с литвою и с немцы и с нижегородцы с посадскими с охочими со всякими служилыми людьми воров в Нижнем всех побили и языков поймали болши трёх сот человек, а побивали их, воровских людей, на пятнатцати верстех и болши, а знамена и набаты поймали, а ушло тех воровских людей не много врознь потому, что стала ночная пора и государевы люди пришли в Нижней дал Бог здоровы».
- В) «Кольми же паче должны мы иметь попечение о целости всего нашего государства, которое с помощью божиею, ныне паче распространено, как всем видимо есть; чего для заблагоразсудили мы сей устав учинить, дабы сие было всегда в воле правительствующего государя, кому оной хочет, тому и определит наследство, и определенному, видя какое непотребство, паки отменит, дабы дети и потомки не впали в такую злость, как выше писано, имея сию узду на себе».

#### Характеристики:

- 1) Время создания источника, фрагмент которого приведён, относится к периоду правления Петра I.
- 2) Вид данного исторического источника – летопись.
- 3) Князь, о котором идёт речь в приведённом фрагменте источника, – Владимир Мономах.
- 4) Вид данного исторического источника – законодательный акт.
- 5) В источнике, фрагмент которого приведён, идёт речь об установлении четких системы и порядка престолонаследия.
- 6) Источник, фрагмент которого приведён, представляет собой отчёт должностных лиц о своих действиях.
- 7) Автор даёт князю, о котором идёт речь в приведённом фрагменте, резко отрицательную характеристику, упрекая его в участии в междоусобных войнах.



- 8) Автор дает позитивную характеристику князю, о котором идёт речь в приведённом фрагменте, отмечая прежде всего его искреннюю набожность.
- 9) События, о которых идёт речь в приведённом фрагменте источника, происходили в период правления Василия Шуйского.
- 10) В источнике рассказывается о победе верных «официальному» монарху людей над людьми, находившимися на службе самозванца.
- 11) В источнике рассказывается о победе людей, находившихся на службе самозванца, над верными «официальному» монарху людьми.
- 12) В источнике, фрагмент которого приведён, говорится о праве монарха самостоятельно назначать себе наследника.

Ответ:

А			Б			В		
2+	3+	8+	1-	4-	10+	4-	11-	12+

За каждое верное соотнесение – 2 балла.

Максимум за задание – 18 баллов.

Максимум за работу – 79 баллов.

ВСЕРОССИЙСКАЯ ОЛИМПИАДА ШКОЛЬНИКОВ ИСТОРИЯ.  
2022–2023 уч. г.  
ШКОЛЬНЫЙ ЭТАП. 8 КЛАСС

1. Укажите участника особого административно-территориального образования в составе русского государства, пропущенного в приведённом ряду.

Алексей Басманов, Афанасий Вяземский, Малюта Скуратов, ... Богдан Бельский  
Алексей Адашев  
Андрей Курбский  
Иван Фёдоров

10

Ответ: Богдан Бельский

Максимум за задание – 1 балл.

2. Укажите год заключения мирного договора России с одним из иностранных государств, пропущенный в приведённом ряду:

1618 г., 1634 г., 1667 г., ...

1672 г.

1681 г.

1686 г.

1689 г.

15

Ответ: 1686

Максимум за задание – 1 балл.

3. Какие из перечисленных дат отражают годы смены российских монархов на престоле в XVII веке?

1) 1633 г.

2) 1645 г.

3) 1652 г.

4) 1676 г.

5) 1682 г.

6) 1690 г.

25

Ответ: 2, 4, 5

За полностью правильный ответ – 2 балла.

За ответ с одной ошибкой – 1 балл.

Максимум за задание – 2 балла.

4. Какие из перечисленных явлений возникли в Российском государстве в XV веке?

1) кормления

2) местничество

3) подворное налогообложение

4) уплата пожилого

5) полки иноземного строя

6) старообрядчество.

25

Ответ: 1, 2, 4

За полностью правильный ответ – 2 балла.

За ответ с одной ошибкой – 1 балл.

Максимум за задание – 2 балла.

5. Какие из приведённых событий произошли в 1492 году?

- 1) битва на реке Шелони
- 2) женитьба Ивана III на Софье Палеолог
- 3) захват Константинополя турками-османами
- 4) открытие Америки Христофором Колумбом
- 5) переход с мартовского года на сентябрьский в Московском государстве
- 6) прекращение существования Гранадского эмирата на территории Пиренейского полуострова.

25

Ответ: 4, 5, 6

За полностью правильный ответ – 2 балла.

За ответ с одной ошибкой – 1 балл.

Максимум за задание – 2 балла.

6. Расположите приведённые названия городов в хронологической последовательности их присоединения к Московскому княжеству/ государству.

- 1) Коломна
- 2) Нижний Новгород
- 3) Псков
- 4) Рязань
- 5) Тверь
- 6) Ярославль

Ответ:

68

1	2	3	4	5	6
1	2	6	4	5	3

За каждую верную пару – 1 балл.

Максимум за задание – 6 баллов.

7. Установите соответствие между годами и событиями всеобщей истории, произошедшими в эти годы.

Год	Событие
А) 1204 г.	1) битва при Босворте, окончание Войны Алой и Белой розы в Англии
Б) 1302 г.	2) взятие Константинополя крестоносцами
В) 1485 г.	3) окончание Столетней войны
Г) 1517 г.	4) опубликование «95 тезисов» Мартина Лютера
Д) 1683 г.	5) осада Вены войсками Османской империи
	6) создание Генеральных штатов во Франции

Ответ:

38

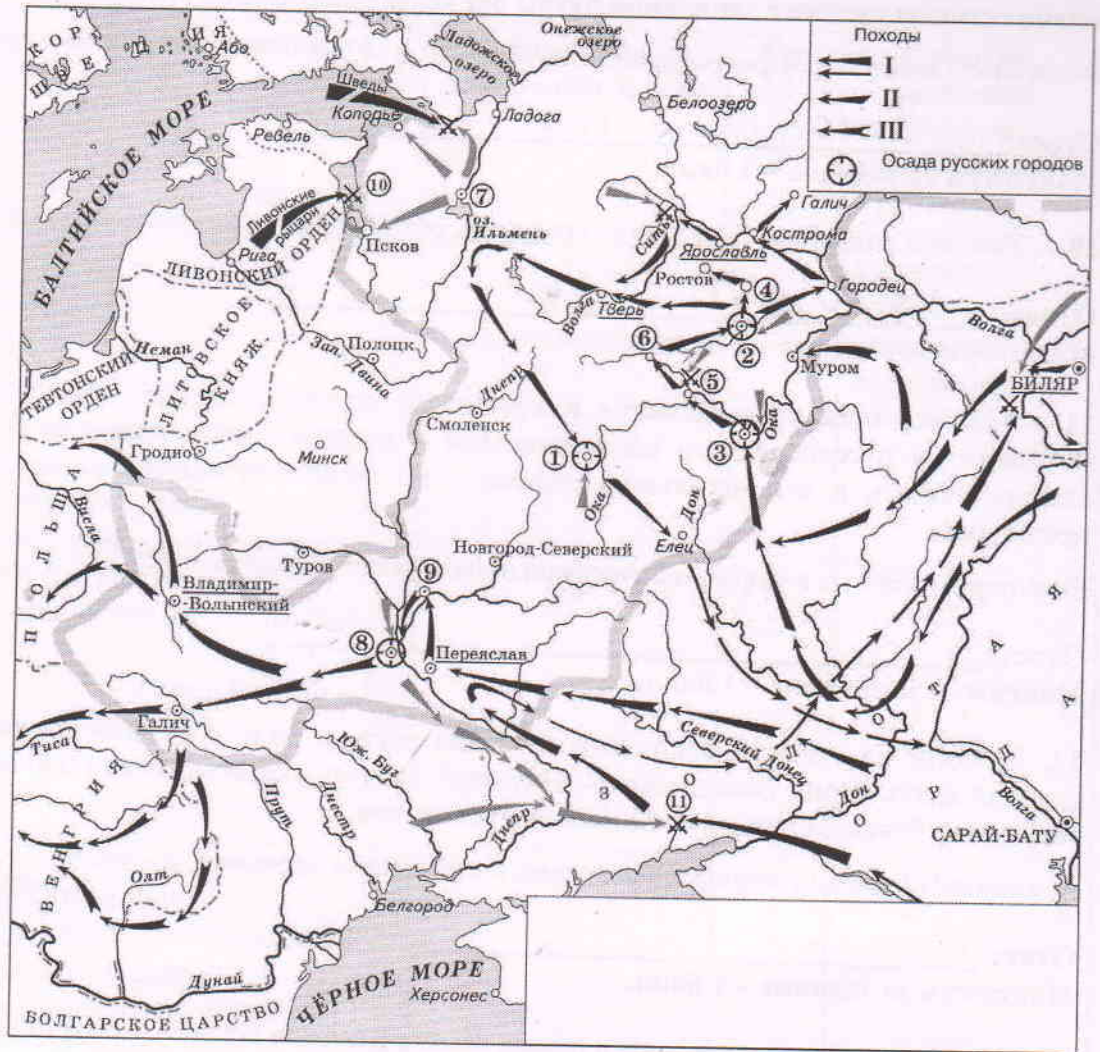
А	Б	В	Г	Д
2	1	6	4	5

За каждую верную пару – 1 балл.

Максимум за задание – 5 баллов.

8. Установите соответствие между названиями произведений средневековой русской литературы и именами их авторов.





Произведения	Авторы
А) «Благохотящим царём правительницаи землемерие»	1) Авраамий Палицын
Б) «Житие преподобного Сергия»	2) Епифаний Премудрый
В) «Сказание о Магмет-салтане»	3) Ермолай-Еразм
Г) «Сказание о осаде Троицкого Сергиева монастыря от поляков и литвы и о бывшихпотом в России мятежах»	4) Иван Пересветов
Д) «Слово о законе и благодати»	5) митрополит Иларион
	6) протопоп Аввакум

Ответ:

А	Б	В	Г	Д
2 3	4 2	1 4	5 1	6 5

За каждую верную пару – 1 балл.  
 Максимум за задание – 5 баллов.

9–14. Внимательно рассмотрите схему и выполните задания.

9. Назовите город, обозначенный на схеме цифрой 2. Название следует записать в

именительном падеже с заглавной буквы без каких-либо знаков препинания.

Внимание! Ответы с орфографическими ошибками не засчитываются.

10 Ответ: Владимир  
Максимум за задание – 1 балл.

10. Укажите год, когда произошло сражение, обозначенное на схеме цифрой 10.

0 Ответ: 1240 1242  
Максимум за задание – 1 балл.

11. Укажите имя военачальника и правителя, осуществлявшего общее руководство походами на русские земли, обозначенными в легенде схемы цифрами II и III. Имя следует указать в именительном падеже с заглавной буквы без каких-либо знаков препинания.

Внимание! Ответы с орфографическими ошибками не засчитываются.

Ответ: \_\_\_\_\_  
Максимум за задание – 1 балл.

12. Найдите на схеме и выпишите название реки, в ходе сражения на которой погиб великий князь Юрий Всеволодович. Название следует указать в именительном падеже с заглавной буквы без каких-либо знаков препинания.

Внимание! Ответы с орфографическими ошибками не засчитываются.

Ответ: \_\_\_\_\_  
Максимум за задание – 1 балл.

13. Укажите год, когда состоялся поход, обозначенный в легенде схемы цифрой I.

Ответ: \_\_\_\_\_  
Максимум за задание – 1 балл.

14. Выберите верные утверждения.

- 1) В результате похода, обозначенного в легенде схемы цифрой I, был разгромлен Хазарский каганат.
- 2) Город, обозначенный на схеме цифрой 1, сопротивлялся противнику в течение семи недель.
- 3) Город, обозначенный на схеме цифрой 8, был взят противником в 1240 году.
- 4) Город, обозначенный на схеме цифрой 7, был взят и разграблен в ходе похода, обозначенного в легенде схемы цифрой II.
- 5) Город, обозначенный на схеме цифрой 3, после взятия и разорения противником восстановился и продолжил оставаться столицей удельного княжества.
- 6) В сражении, обозначенном на схеме цифрой 11, погиб галицкий князь Мстислав Мстиславич Удатный.

05 Ответ: 2,3

За каждое верно выбранное/невыбранное утверждение – 1 балл. Максимум за задание – 6 баллов.

15. Определите пропущенные в таблице события, даты и исторические документы, обозначенные заглавными буквами. Обратите внимание: среди предлагаемых вставок есть

«лишние» элементы.

Фрагмент законодательного акта	Название законодательного акта	Год	Событие всеобщей истории, происшедшее в тот же год
(А)	Указ о единонаследии	(Б)	Окончание войны за испанское наследство
«Будет кто каким умышлением учнет мыслити на Государское здоровье злое дело, и про то его злое умышление кто известить, и до тому извету про то его злоеумышление сыщется до пряма, что он на Царское Величество злое дело мыслил, и делать хотел: и такова по сыску казнити смертию»	(В)	1649 г.	(Г)
«...Бояре, Окольничие и Думные люди, тако ж Стольники, и Стряпчие, Дворяне и дети Боярские [...] познавше, что те дела местничества отеческого ничто ино, токмо гордость и любви и отсечение и Нашим Государским всяким делам повреждение приносят, вси радостными сердцы Нам Великому Государю донесли, чтобы Мы, Великий Государь, Царь и Великий Князь Феодор Алексеевич указали, то виновное всякия злобы дело и братоненавидение, разоряющее любовь, то есть местничество отечественное оставить и вечно и искоренить...».	Соборное деяние об уничтожении местничества	(Д)	(Е)



## Выберите варианты:

Варианты для пропусков А, Ж	Варианты для пропусков В, З	Варианты для пропусков Б, Д	Варианты для пропусков Г, Е
<p>«А Христианом отказыватисяиз волости, ис села в село, один срок в году, за неделю до Юрьева дни осеннего и неделю после Юрьева дни осеннего. Дворы пожилые платят в полех за двор рубль, а в лесех полтина. А которой христианин поживет за ким год, да пойдет прочь, и он платит четверть двора, а два года поживет да поидеть прочь, и он полдвора платит; а три годы поживет, а пойдет прочь, и он платит три четверти двора; а четыре года поживет, и он весь двор платит»</p>	Соборное уложение	1667 г.	основание французскими исследователями колонии в устье реки Миссисипи
<p>«Которые крестьяне от сего числа пред сим за 15 лет в книгах 101-го году положены, и тем быть за теми, за кем писаны; а буде те крестьяне вышли за кого иного, и в том есть на крестьян тех или на тех, кто их держит, челобитье, и те дела не вершены, или кто сентебря по 1-е число сего года будет бить челом, и тех крестьян отдавати по тем книгам, с женами и детми и со всеми их животы, тем, за кем они писаны, до сроку рождества христова 116 году без пожилаго ...»</p>	Судебник	1682 г.	заключение Вестфальского мира, завершение Тридцатилетней войны

<p>«Кто имеет сыновей и ему же, аще хошет, единому из оных дать недвижимое, чрез духовную, тому в наследие и будет. Другие же дети обоего полу да награждены будут движимыми имении, которые должен отец их или мать разделить им при себе, как сыновьям, так и дочерям, колико их будет, по своей воли, кроме одного, который в недвижимых наследником будет»</p>	<p>Уложение о крестьянах</p>	<p>1714 г.</p>	<p>казнь английского короля Карла I Стюарта</p>
<p>Оубьеть моужь моужа, то мьстити братоу брата, или сынови отца, любо отцю сына, или братоучадоу, любо сестриноу сынови; аще не боудеть кто мьстя, то 40 гривень за голову; аще боудеть роусинь, любо гридинь, любо коупчина, любо ябетникь, любо мечникь, аще изьгон боудеть, любо словенинь, то 40 гривень положити за нь.</p>	<p>Духовный регламент</p>	<p>1581 г.</p>	<p>Крестьянская война в Германии</p>
<p>А князь и посадник на вечисуду не судить; судити им у князя на сенех, зриаа в правду, по крестному целованию. А не всудят в правду, ино Бог буди им судиа на втором пришествии Христове. А тайных посулов не имать ни князю, ни посаднику.</p>	<p>Указ о заповедных летах</p>	<p>1550 г.</p>	<p>Публикация «95 тезисов» доктора богословия Мартина Лютера</p>

<p>Должна же есть Коллегия сия, и новыми впредь правилами дополнять Регламент свой, яковых правил востребуяют разные разных дел случаи. Однакож делать сие должна Коллегия Духовная на базе Нашего соизволения. Определяем же в сей Духовной Коллегии быть именованным зде Членам: единому Президенту, двоим Вице-Президентам, четверем Советникам, четверем Ассессорам.</p>	<p>Указ урочных годах</p>	<p>об 1721 г.</p>	<p>Нантский эдикт</p>
		<p>1722 г.</p>	

**Ответ:**

Пропуск	Нужная вставка
А)	
Б)	
В)	
Г)	
Д)	
Е)	
Ж)	
З)	

**За каждое верное соотнесение – 2 балла.**

**Максимум за задание – 16 баллов.**

16. Определите пропущенные в тексте названия, имена, годы, обозначенные буквами. При буквенных обозначениях пропусков даются пояснения о характере требуемой



вставки. Порядковые номера необходимых вставок впишите под соответствующими буквами в приведённую таблицу. Варианты вставок даны в единственном числе, именительном падеже. Обратите внимание на то, что среди вставок есть «лишние».

В (А – год) недалеко от Твери произошло сражение. Москвичи и монголы были разбиты. Московскому князю (Б – имя и отчество) удалось бежать, но его жена (В – монгольское имя) оказалась в плену. В Твери она неожиданно умерла. Стали поговаривать, что ее отравили.

(Б) и Кавгадый поехали к брату покойной ордынскому хану (Г – имя) и обвинили тверского князя (Д – имя и отчество) в убийстве. Хан вызвал князя к себе и устроил над ним суд. Его признали виновным в том, что он противился воле хана и бился с его войском, а также в смерти княгини. Почти месяц он терпел унижения, а потом к нему подослали убийц. Князя повалили на землю и вонзили ему в грудь нож.

(Б) стал великим князем и сидел в (Е – название города) до 1322 года а затем (Г) хан передал ярлык (Ж – имя и прозвище), сыну (Д). В (З – год) (Ж), встретив в Орде (Б), убил его, мстя за отца, и тут же был казнён по приказу хана (Г). Но великое княжение осталось за тверскими князьями.

В Москве же на престол взошёл брат (Б) (И – имя и прозвище) – человек коварный, хитрый, склонный к накопительству. Он жаждал получить ярлык, но умел ждать своего часа. Подарками хану и его окружению (И) заслужил расположение в Орде.

Варианты для пропусков А, З	Варианты для пропусков Б, В, Г, Д, Ж	Варианты для пропуска Е
1317 г.	Александр Михайлович	Владимир
1322 г.	Дмитрий Грозные Очи	Киев
1325 г.	Иван Калита	Рязань
1326 г.	Кончака	Великий Новгород
1327 г.	Михаил Ярославич	Нижний Новгород
1328 г.	Ногай	Псков
	Тайдула	
	Узбек	
	Юрий Данилович	

Ответ:

Пропуск	Нужная вставка
А)	
Б)	
В)	
Г)	
Д)	
Е)	
Ж)	
З)	
И)	

За каждое верное соотнесение – 1 балл.  
Максимум за задание – 10 баллов.

17. Установите соответствие между фрагментами исторических источников и их краткими характеристиками: к каждому фрагменту, обозначенному буквой, подберите по три соответствующие характеристики, обозначенные цифрами. Обратите внимание на то, что среди приведённых характеристик есть «лишние».

**Фрагменты источников:**

- А) «Скончался благоверный и великий князь русский Владимир, сын благоверного отца Всеволода, украшенный добрыми нравами, прославленный победами. Перед его именем трепетали все страны, и по всеземлям прошел слух о нем, поскольку он всей душой возлюбил Бога... Потому и не шадил имущества своего, раздавая страждущим, и церкви воздвигая и украшая; особенно же почитал (монашеский) чин и священнический, давая им необходимое и принимая от них молитвы. Великую веру имел к Богу и родичам своим, к святым мученикам Борису и Глебу, потому и церковь прекрасную создал на Альте в имя их, где была пролита кровь святого Бориса. И жалостлив был чрезмерно, и дар этот от Бога принял, так что когда входил в церковь и слышал пение, тотчас испускал слезу и мольбы к Владыке Христу со слезами обращал: поэтому и Бог все прощенья его удовлетворял, и лета его наполнил благополучием».
- Б) «Да в нынешнем во 7117-м году, декабря в 5 день приходили к Нижнему воровские люди: нижегородцы и арзамасцы, дети боярские и черемиса и всякие подъемные люди, к Нижнему приступали и Божию милостию и Пречистые Богородицы и Московских чудотворцов помощью и государевым счастьем на выласке воевода Ондрей Семенович Олябьев з дворяны и з детми боярскими и з головы стрелецкими, с литвою и с немцы и с нижегородцы с посадцкими с охочими со всякими служилыми людьми воров в Нижнем всех побили и языков поймали болши трёх сот человек, а побивали их, воровских людей, на пятнатцати верстех и болши, а знамена и набаты поймали, а ушло тех воровских людей не много врознь потому, что стала ночная пора и государевы люди пришли в Нижней дал Бог здорovy».
- В) «Кольми же паче должны мы иметь попечение о целости всего нашего государства, которое с помощью божиею, ныне паче распространено, как всем видимо есть; чего для заблагорасудили мы сей устав учинить, дабы сие было всегда в воле правительствующего государя, кому оной хочет, тому и определит наследство, и определенному, видя какое непотребство, паки отменит, дабы дети и потомки не впали в такую злость, как выше писано, имея сию узду на себе».

**Характеристики:**

- 1) Время создания источника, фрагмент которого приведён, относится к периоду правления Петра I.
- 2) Вид данного исторического источника – летопись.
- 3) Князь, о котором идёт речь в приведённом фрагменте источника, – Владимир Мономах.
- 4) Вид данного исторического источника – законодательный акт.
- 5) В источнике, фрагмент которого приведён, идёт речь об установлении четких системы и порядка престолонаследия.
- 6) Источник, фрагмент которого приведён, представляет собой отчёт должностных лиц о своих действиях.
- 7) Автор даёт князю, о котором идёт речь в приведённом фрагменте, резко отрицательную характеристику, упрекая его в участии в междоусобных войнах.

- 8) Автор дает позитивную характеристику князю, о котором идёт речь в приведённом фрагменте, отмечая прежде всего его искреннюю набожность.
- 9) События, о которых идёт речь в приведённом фрагменте источника, происходили в период правления Василия Шуйского.
- 10) В источнике рассказывается о победе верных «официальному» монарху людей над людьми, находившимися на службе самозванца.
- 11) В источнике рассказывается о победе людей, находившихся на службе самозванца, над верными «официальному» монарху людьми.
- 12) В источнике, фрагмент которого приведён, говорится о праве монарха самостоятельно назначать себе наследника.

Ответ:

А			Б			В		
2+	8-	8+	6+	9+	10+	10-	4+	12+

148

За каждое верное соотнесение – 2 балла.  
 Максимум за задание – 18 баллов.

Максимум за работу – 79 баллов.



ВСЕРОССИЙСКАЯ ОЛИМПИАДА ШКОЛЬНИКОВ ИСТОРИЯ.  
2022–2023 уч. г.  
ШКОЛЬНЫЙ ЭТАП. 8 КЛАСС

1. Укажите участника особого административно-территориального образования в составе русского государства, пропущенного в приведённом ряду.

Алексей Басманов, Афанасий Вяземский, Малюта Скуратов, ... Богдан Бельский  
Алексей Адашев  
Андрей Курбский  
Иван Фёдоров

1 Ответ: Богдан Бельский +  
Максимум за задание – 1 балл.

2. Укажите год заключения мирного договора России с одним из иностранных государств, пропущенный в приведённом ряду.

1618 г., 1634 г., 1667 г., ...

1672 г.

1681 г.

1686 г.

1689 г.

15 Ответ: 1686  
Максимум за задание – 1 балл.

3. Какие из перечисленных дат отражают годы смены российских монархов на престоле в XVII веке?

1) 1633 г.

2) 1645 г.

3) 1652 г.

4) 1676 г.

5) 1682 г.

25 6) 1690 г.

Ответ: 2, 4, 5  
За полностью правильный ответ – 2 балла.

За ответ с одной ошибкой – –1 балл.

Максимум за задание – 2 балла.

4. Какие из перечисленных явлений возникли в Российском государстве в XV веке?

1) кормления

2) местничество

3) подворное налогообложение

4) уплата пожилого

15 5) полки иноземного строя

6) старообрядчество.

Ответ: 1, 2, 4  
За полностью правильный ответ – 2 балла.

За ответ с одной ошибкой – –1 балл.

Максимум за задание – 2 балла.

5. Какие из приведённых событий произошли в 1492 году?

- 1) битва на реке Шелони
- 2) женитьба Ивана III на Софье Палеолог
- 3) захват Константинополя турками-османами
- 4) открытие Америки Христофором Колумбом
- 5) переход с мартовского года на сентябрьский в Московском государстве
- 6) прекращение существования Гранадского эмирата на территории Пиренейского полуострова.

25

Ответ: 4, 5, 6

За полностью правильный ответ – 2 балла.

За ответ с одной ошибкой – -1 балл.

Максимум за задание – 2 балла.

6. Расположите приведённые названия городов в хронологической последовательности их присоединения к Московскому княжеству/ государству.

- 1) Коломна
- 2) Нижний Новгород
- 3) Псков
- 4) Рязань
- 5) Тверь
- 6) Ярославль

Ответ:

65

1	2	3	4	5	6
Коломна	Нижний Новгород	Ярославль	Тверь	Псков	Рязань

За каждую верную пару – 1 балл.

Максимум за задание – 6 баллов.

7. Установите соответствие между годами и событиями всеобщей истории, произошедшими в эти годы.

Год	Событие
А) 1204 г.	1) битва при Босворте, окончание Войны Алой и Белой розы в Англии
Б) 1302 г.	2) взятие Константинополя крестоносцами
В) 1485 г.	3) окончание Столетней войны
Г) 1517 г.	4) опубликование «95 тезисов» Мартина Лютера
Д) 1683 г.	5) осада Вены войсками Османской империи
	6) создание Генеральных штатов во Франции

58

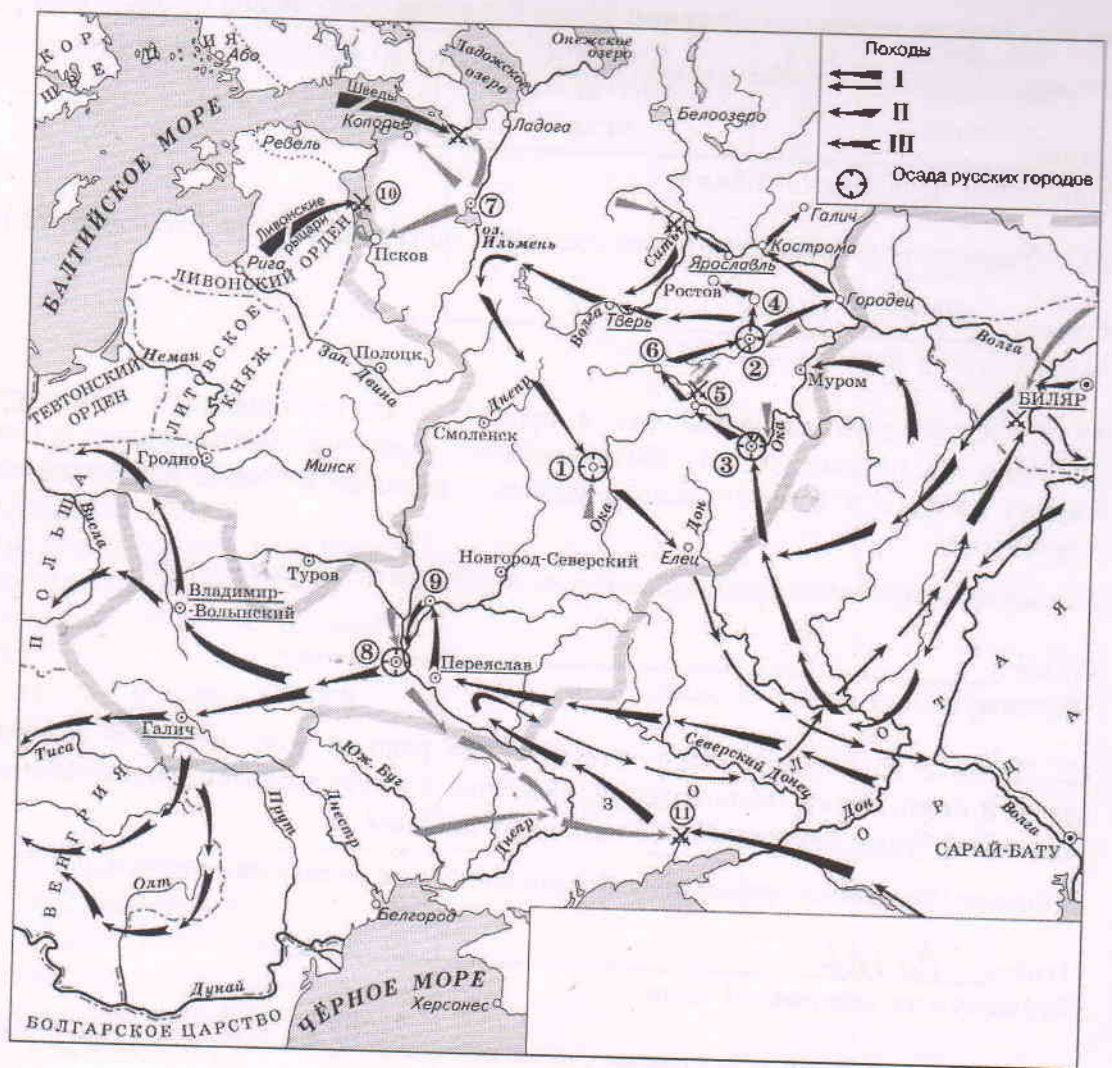
Ответ:

А	Б	В	Г	Д
2	6	1	4	5

За каждую верную пару – 1 балл.

Максимум за задание – 5 баллов.

8. Установите соответствие между названиями произведений средневековой русской литературы и именами их авторов.



Произведения	Авторы
А) «Благохотящим царём правительницаи землемерие»	1) Авраамий Палицын
Б) «Житие преподобного Сергия»	2) Епифаний Премудрый
В) «Сказание о Магмет-салтане»	3) Ермолай-Еразм
Г) «Сказание о осаде Троицкого Сергиева монастыря от поляков и литвы и о бывшихпотом в России мятежах»	4) Иван Пересветов
Д) «Слово о законе и благодати»	5) митрополит Иларион
	6) протопоп Аввакум

Ответ:

А	Б	В	Г	Д
3	2	4	1	5

За каждую верную пару – 1 балл.  
Максимум за задание – 5 баллов.

9–14. Внимательно рассмотрите схему и выполните задания.

9. Назовите город, обозначенный на схеме цифрой 2. Название следует записать в



11-08-05

именительном падеже с заглавной буквы без каких-либо знаков препинания.

Внимание! Ответы с орфографическими ошибками не засчитываются.

0 Ответ: \_\_\_\_\_

Максимум за задание – 1 балл.

10. Укажите год, когда произошло сражение, обозначенное на схеме цифрой 10.

1 Ответ: 1242

Максимум за задание – 1 балл.

11. Укажите имя военачальника и правителя, осуществлявшего общее руководство походами на русские земли, обозначенными в легенде схемы цифрами II и III. Имя следует указать в именительном падеже с заглавной буквы без каких-либо знаков препинания.

Внимание! Ответы с орфографическими ошибками не засчитываются.

0 Ответ: \_\_\_\_\_

Максимум за задание – 1 балл.

12. Найдите на схеме и выпишите название реки, в ходе сражения на которой погиб великий князь Юрий Всеволодович. Название следует указать в именительном падеже с заглавной буквы без каких-либо знаков препинания.

Внимание! Ответы с орфографическими ошибками не засчитываются.

6 Ответ: Сить

Максимум за задание – 1 балл.

13. Укажите год, когда состоялся поход, обозначенный в легенде схемы цифрой I.

0 Ответ: \_\_\_\_\_

Максимум за задание – 1 балл.

14. Выберите верные утверждения.

- 1) В результате похода, обозначенного в легенде схемы цифрой I, был разгромлен Хазарский каганат.
- 2) Город, обозначенный на схеме цифрой 1, сопротивлялся противнику в течение семи недель.
- 3) Город, обозначенный на схеме цифрой 8, был взят противником в 1240 году.
- 4) Город, обозначенный на схеме цифрой 7, был взят и разграблен в ходе похода, обозначенного в легенде схемы цифрой II.
- 5) Город, обозначенный на схеме цифрой 3, после взятия и разорения противником восстановился и продолжил оставаться столицей удельного княжества.
- 6) В сражении, обозначенном на схеме цифрой 11, погиб галицкий князь Мстислав Мстиславич Удатный.

68 Ответ: 23

За каждое верно выбранное/невыбранное утверждение – 1 балл. Максимум за задание – 6 баллов.

15. Определите пропущенные в таблице события, даты и исторические документы, обозначенные заглавными буквами. Обратите внимание: среди предлагаемых вставок есть

«лишние» элементы.

Фрагмент законодательного акта	Название законодательного акта	Год	Событие всеобщей истории, происшедшее в тот же год
(А)	Указ о единонаследии	(Б)	Окончание войны за испанское наследство
«Будет кто каким умышлением учнет мыслити на Государское здоровье злое дело, и про то его злое умышление кто известить, и по тому извету про то его злоеумышление същется до прямиа, что он на Царское Величество злое дело мыслил, и делать хотел: и такова по сыску казнити смертию»	(В)	1649 г.	(Г)
«...Бояре, Окольничие и Думные люди, тако ж Стольники, и Стряпчие, Дворяне и дети Боярские [...] познавше, что тедела местничества отеческого ничто ино, токмо гордость и любви и отсечение и Нашим Государским всяким делам повреждение приносят, вси радостными сердца Нам Великому Государю донесли, чтобы Мы, Великий Государь, Царь и Великий Князь Феодор Алексеевич указали, то виновное всякия злобы дело и братоненавидение, разоряющее любовь, то есть местничество отечественное оставить и вечно и искоренить...».	Соборное деяние об уничтожении местничества	(Д)	(Е)

2-08-05

Выберите варианты:

Варианты для пропусков А, Ж	Варианты для пропусков В, З	Варианты для пропусков Б, Д	Варианты для пропусков Г, Е
<p>«А Христианом отказыватися из волости, ис села в село, один срок в году, за неделю до Юрьева дни осеннего и неделю после Юрьева дни осеннего. Дворы пожилые платят в полех за двор рубль, а в лесех полтина. А которой христианин поживет за ким год, да пойдет прочь, и он платит четверть двора, а два года поживет да поидеть прочь, и он полдвора платит; а три годы поживет, а пойдет прочь, и он платит три четверти двора; а четыре года поживет, и он весь двор платит»</p>	<p>Соборное уложение</p>	<p>1667 г.</p>	<p>основание французскими исследователями колонии в устье реки Миссисипи</p>
<p>«Которые крестьяне от сего числа пред сим за 15 лет в книгах 101-го году положены, и тем быть за теми, за кем писаны; а буде те крестьяне вышли за кого иного, и в том есть на крестьян тех или на тех, кто их держит, челобитье, и те дела не вершены, или кто сентебря по 1-е число сего года будет бить челом, и тех крестьян отдавати по тем книгам, с женами и детми и со всеми их животы, тем, за кем они писаны, до сроку рождества христова 116 году без пожилаго ...»</p>	<p>Судебник</p>	<p>1682 г.</p>	<p>заключение Вестфальского мира, завершение Тридцатилетней войны</p>



<p>«Кто имеет сыновей и ему же, аще хошет, единому из оных дать недвижимое, чрез духовную, тому в наследие и будет. Другие же дети обоего полу да награждены будут движимыми имении, которые должен отец их или мать разделить им при себе, как сыновьям, так и дочерям, колико их будет, по своей воли, кроме одного, который в недвижимых наследником будет»</p>	<p>Уложение о крестьянах</p>	<p>1714 г.</p>	<p>казнь английского короля Карла I Стюарта</p>
<p>Оубьеть моужь моужа, то мстить братоу брата, или сынови отца, либо отцю сына, или братоучадоу, либо сестриноу сынови; аще не боудеть кто мстя, то 40 гривень за голову; аще боудеть роусинь, либо гридинь, либо коупчина, либо ябетникь, либо мечникь, аще изьгон боудеть, либо словенинь, то 40 гривень положити за нь.</p>	<p>Духовный регламент</p>	<p>1581 г.</p>	<p>Крестьянская война в Германии</p>
<p>А князь и посадник на вечисуду не судить; судити им у князя на сенех, взираа в правду, по крестному целованию. А не всудят в правду, ино Бог буди им судиа на втором пришествии Христове. А тайных посулов не имать ни князю, ни посаднику.</p>	<p>Указ о заповедных летах</p>	<p>1550 г.</p>	<p>Публикация «95 тезисов» доктора богословия Мартина Лютера</p>

<p>Должна же есть Коллегия сия, и новыми впредь правилами дополнять Регламент свой, яковых правил востребуют разные разных дел случаи. Однакож делать сие должна Коллегия Духовная на базе Нашего соизволения. Определяем же в сей Духовной Коллегии быть именованным зде Членам: единому Президенту, двоим Вице-Президентам, четырем Советникам, четырем Ассессорам.</p>	<p>Указ урочных годах</p>	<p>об 1721 г.</p>	<p>Нантский эдикт</p>
		<p>1722 г.</p>	

Ответ:

Пропуск	Нужная вставка
А)	
Б)	
В)	
Г)	
Д)	
Е)	
Ж)	
З)	

За каждое верное соотнесение – 2 балла.  
Максимум за задание – 16 баллов.

16. Определите пропущенные в тексте названия, имена, годы, обозначенные буквами. При буквенных обозначениях пропусков даются пояснения о характере требуемой

И-08-05

вставки. Порядковые номера необходимых вставок впишите под соответствующими буквами в приведённую таблицу. Варианты вставок даны в единственном числе, именительном падеже. Обратите внимание на то, что среди вставок есть «лишние».

В (А – год) недалеко от Твери произошло сражение. Москвичи и монголы были разбиты. Московскому князю (Б – имя и отчество) удалось бежать, но его жена (В – монгольское имя) оказалась в плену. В Твери она неожиданно умерла. Стали поговаривать, что ее отравили.

(Б) и Кавгадый поехали к брату покойной ордынскому хану (Г – имя) и обвинили тверского князя (Д – имя и отчество) в убийстве. Хан вызвал князя к себе и устроил над ним суд. Его признали виновным в том, что он противился воле хана и бился с его войском, а также в смерти княгини. Почти месяц он терпел унижения, а потом к нему подослали убийц. Князя повалили на землю и вонзили ему в грудь нож.

(Б) стал великим князем и сидел в (Е – название города) до 1322 года а затем (Г) хан передал ярлык (Ж – имя и прозвище), сыну (Д). В (З – год) (Ж), встретив в Орде (Б), убил его, мстя за отца, и тут же был казнён по приказу хана (Г). Но великое княжение осталось за тверскими князьями.

В Москве же на престол взошёл брат (Б) (И – имя и прозвище) – человек коварный, хитрый, склонный к накопительству. Он жаждал получить ярлык, но умел ждать своего часа. Подарками хану и его окружению (И) заслужил расположение в Орде.

Варианты для пропусков А, З	Варианты для пропусков Б, В, Г, Д, Ж	Варианты для пропуска Е
1317 г.	Александр Михайлович	Владимир
1322 г.	Дмитрий Грозные Очи	Киев
1325 г.	Иван Калита	Рязань
1326 г.	Кончака	Великий Новгород
1327 г.	Михаил Ярославич	Нижний Новгород
1328 г.	Ногай	Псков
	Тайдула	
	Узбек	
	Юрий Данилович	

Ответ:

Пропуск	Нужная вставка
А)	
Б)	
В)	
Г)	
Д)	
Е)	
Ж)	
З)	
И)	

За каждое верное соотнесение – 1 балл.  
Максимум за задание – 10 баллов.



17. Установите соответствие между фрагментами исторических источников и их краткими характеристиками: к каждому фрагменту, обозначенному буквой, подберите по три соответствующие характеристики, обозначенные цифрами. Обратите внимание на то, что среди приведённых характеристик есть «лишние».

**Фрагменты источников:**

- А) «Скончался благоверный и великий князь русский Владимир, сын благоверного отца Всеволода, украшенный добрыми нравами, прославленный победами. Перед его именем трепетали все страны, и по всеземлям прошел слух о нем, поскольку он всей душой возлюбил Бога... Потому и не щадил имущества своего, раздавая страждущим, и церкви воздвигая и украшая; особенно же почитал (монашеский) чин и священнический, давая им необходимое и принимая от них молитвы. Великую веру имел к Богу и родичам своим, к святым мученикам Борису и Глебу, потому и церковь прекрасную создал на Альте в имя их, где была пролита кровь святого Бориса. И жалостлив был чрезмерно, и дар этот от Бога принял, так что когда входил в церковь и слышал пение, тотчас испускал слезу и мольбы к Владыке Христу со слезами обращал: поэтому и Бог все прощенья его удовлетворял, и лета его наполнил благополучием».
- Б) «Да в нынешнем во 7117-м году, декабря в 5 день приходили к Нижнему воровские люди: нижегородцы и арзамасцы, дети боярские и черемиса и всякие подъемные люди, к Нижнему приступали и Божию милостию и Пречистые Богородицы и Московских чудотворцов помощью и государевым счастьем на выласке воевода Ондрей Семенович Олябьев з дворяны и з детми боярскими и з головы стрелецкими, с литвою и с немцы и с нижегородцы с посадцкими с охочими со всякими служилыми людьми воров в Нижнем всех побили и языков поимали болши трёх сот человек, а побивали их, воровских людей, на пятнатцати верстех и болши, а знамена и набаты поимали, а ушло тех воровских людей не много врознь потому, что стала ночная пора и государевы люди пришли в Нижней дал Бог здоровы».
- В) «Кольми же паче должны мы иметь попечение о целости всего нашего государства, которое с помощью божиею, ныне паче распространено, как всем видимо есть; чего для заблагорасудили мы сей устав учинить, дабы сие было всегда в воле правительствующего государя, кому оной хочет, тому и определит наследство, и определенному, видя какое непотребство, паки отменит, дабы дети и потомки не впали в такую злость, как выше писано, имея сию узду на себе».

**Характеристики:**

- 1) Время создания источника, фрагмент которого приведён, относится к периоду правления Петра I.
- 2) Вид данного исторического источника – летопись.
- 3) Князь, о котором идёт речь в приведённом фрагменте источника, – Владимир Мономах.
- 4) Вид данного исторического источника – законодательный акт.
- 5) В источнике, фрагмент которого приведён, идёт речь об установлении четких системы и порядка престолонаследия.
- 6) Источник, фрагмент которого приведён, представляет собой отчёт должностных лиц о своих действиях.
- 7) Автор даёт князю, о котором идёт речь в приведённом фрагменте, резко отрицательную характеристику, упрекая его в участии в междоусобных войнах.

4-08-05

- 8) Автор даёт позитивную характеристику князю, о котором идёт речь в приведённом фрагменте, отмечая прежде всего его искреннюю набожность.
- 9) События, о которых идёт речь в приведённом фрагменте источника, происходили в период правления Василия Шуйского.
- 10) В источнике рассказывается о победе верных «официальному» монарху людей над людьми, находившимися на службе самозванца.
- 11) В источнике рассказывается о победе людей, находившихся на службе самозванца, над верными «официальному» монарху людьми.
- 12) В источнике, фрагмент которого приведён, говорится о праве монарха самостоятельно назначать себе наследника.

Ответ:

А			Б			В		

За каждое верное соотнесение – 2 балла.

Максимум за задание – 18 баллов.

Максимум за работу – 79 баллов.