

ВСЕРОССИЙСКАЯ ОЛИМПИАДА ШКОЛЬНИКОВ
ИСТОРИЯ. 2022–2023 уч. г. ШКОЛЬНЫЙ ЭТАП
5 КЛАСС

1. Перед вами фотографии, иллюстрирующие деятельность разных историков. Выберите номера изображений, связанных с работой археологов.



Варианты:

1) 1, 3, 4

2) 2, 3, 4

3) 2, 5, 6

4) 3, 4, 5

5) 1, 3, 5

Ответ: 3) 2, 5, 6

Максимум за задание – 3 балла.

2. У каждого историка, как правило, есть *специализация* – та область исторического знания, в которой он разбирается лучше, чем во всех остальных. Соотнесите названия трудов историков с теми областями исторического знания, к которым они относятся.

Название области исторического знания (специализации)	Название книги
1) История СССР	А) «Императорская Россия» (Е. В. Анисимов)
2) История Византии	Б) Средневековые исторические хроники о падении Константинополя (А. П. Каждан)
3) История русского средневековья	В) «Иван Грозный» (Б. Н. Флоря)
4) Всепомогательные исторические дисциплины	Г) «Ключи к тайнам Клео» (Г. А. Леонтьева, П. А. Шорин, В. Б. Кобрин)
5) История Российской империи	Д) «Очерки начальной Руси» (А. П. Толочко)
6) История Древнерусского государства	Е) «Сталин. Жизнь одного вождя» (О. В. Хлевнюк)

Ответ:

1	2	3	4	5	6
Е +	Б +	В -	Г +	А +	Д

За каждую верную пару – 2 балла. Максимум за задание – 12 баллов.

3. Расставьте годы и века в верной хронологической последовательности.

- А) 1 век до н. э.
 Б) 232 год до Р. Х.
 В) 1325 год н. э.
 Г) XIII век

Ответ:

1	2	3	4
В -	Б -	А -	Г +

Максимум за задание – 5 баллов.

- 4–5. Перед вами различные изобретения человека, созданные им с древнейших времён до наших дней. Рассмотрите изображения и выполните задания.


1



2



3



4



5



6



4. Соотнесите изображения предметов с их названиями.

Номер изображения предмета	Название изобретения
1	А. персональный компьютер
2	Б. паровой двигатель (паровая машина)
3	В. бензиновый двигатель внутреннего сгорания
4	Г. деревянный плуг
5	Д. шадуф
6	Е. ручной книгопечатный станок

Ответ:

1	2	3	4	5	6
Д +	Б +	В +	Б +	Г +	А +

За каждую верную пару – 1 балл
 Максимум за задание – 6 баллов.

5. Расположите представленные предметы в порядке их изобретения человеком.

Ответ:

1	2	3	4	5	6
Д	Г	Е	Б	В	А

За каждую верную пару – 1 балл
 Максимум за задание – 6 баллов.

6. Ознакомьтесь с предложенной картой. Выберите верные утверждения.



1. На карте изображено государство Древнего Междуречья.
2. Зелёным цветом выделены на карте районы русла и дельты Нила – зоны наибольшего развития сельского хозяйства в изображённом на карте государстве.
3. Цифрой «4» на карте обозначено Средиземное море.
4. Цифрой «2» на карте обозначен город Мемфис.
5. Цифрой «5» на карте обозначена территория Синайского полуострова.
6. Цифрой «3» на карте обозначено море, которое не омывает берега России.
7. Цифрой «1» на карте обозначен город Фивы.
8. В истории государства, изображённого на схеме, выделяют следующие исторические периоды: Смутное время, Среднее царство, Новейшее царство.

56

Ответ: 2 4 5

За каждое верно выбранное/невыбранное утверждение – 1 балл.

Максимум за задание – 8 баллов.

Максимум за работу – 40 баллов.

И - 03 02
ВСЕРОССИЙСКАЯ ОЛИМПИАДА ШКОЛЬНИКОВ
ИСТОРИЯ. 2022-2023 уч. г. ШКОЛЬНЫЙ ЭТАП
5 КЛАСС

1. Перед вами фотографии, иллюстрирующие деятельность разных историков. Выберите номера изображений, связанных с работой археологов.

1



2



3



4



5



6



Варианты:

- 1) 1, 3, 4
- 2) 2, 3, 4
- 3) 2, 5, 6
- 4) 3, 4, 5
- 5) 1, 3, 5

36

Ответ: 3)

Максимум за задание – 3 балла.

И-0502

2. У каждого историка, как правило, есть специализация – та область исторического знания, в которой он разбирается лучше, чем во всех остальных. Соотнесите названия трудов историков с теми областями исторического знания, к которым они относятся.

Название области исторического знания (специализации)	Название книги
1) История СССР	А) «Императорская Россия» (Е. В. Анисимов)
2) История Византии	Б) Средневековые историки о падении Константинополя (А. П. Каждан)
3) История русского средневековья	В) «Иван Грозный» (Б. Н. Флоря)
4) Вспомогательные исторические дисциплины	Г) «Ключи к тайнам Клио» (Г. А. Леонтьева, П. А. Щорин, В. Б. Кобрин)
5) История Российской империи	Д) «Очерки начальной Руси» (А. П. Толочко)
6) История Древнерусского государства	Е) «Сталин. Жизнь одного вождя» (О. В. Хлевнюк)

Ответ:

1	2	3	4	5	6
Е +	Б -	В +	В -	А +	Д 2

За каждую верную пару – 2 балла. Максимум за задание – 12 баллов.

3. Расставьте годы и века в верной хронологической последовательности.

- А) I век до н. э.
- Б) 232 год до Р. Х.
- В) 1325 год н. э.
- Г) XIII век

Ответ:

1	2	3	4
Б) -	Б) -	А) -	Г) -

Максимум за задание – 5 баллов.

4-5. Перед вами различные изобретения человека, созданные им с древнейших времён до наших дней. Рассмотрите изображения и выполните задания.

1A-0502


1



2



3



4



5



6



И-0502

4. Соотнесите изображения предметов с их названиями.

Номер изображения предмета	Название изобретения
1	А. персональный компьютер
2	Б. паровой двигатель (паровая машина)
3	В. бензиновый двигатель внутреннего сгорания
4	Г. деревянный плуг
5	Д. шадуф
6	Е. ручной книгопечатный станок

Ответ:

1	2	3	4	5	6
Г +	Е +	В -	Б -	Д +	А +

За каждую верную пару - 1 балл

Максимум за задание - 6 баллов.

5. Расположите представленные предметы в порядке их изобретения человеком.

Ответ:

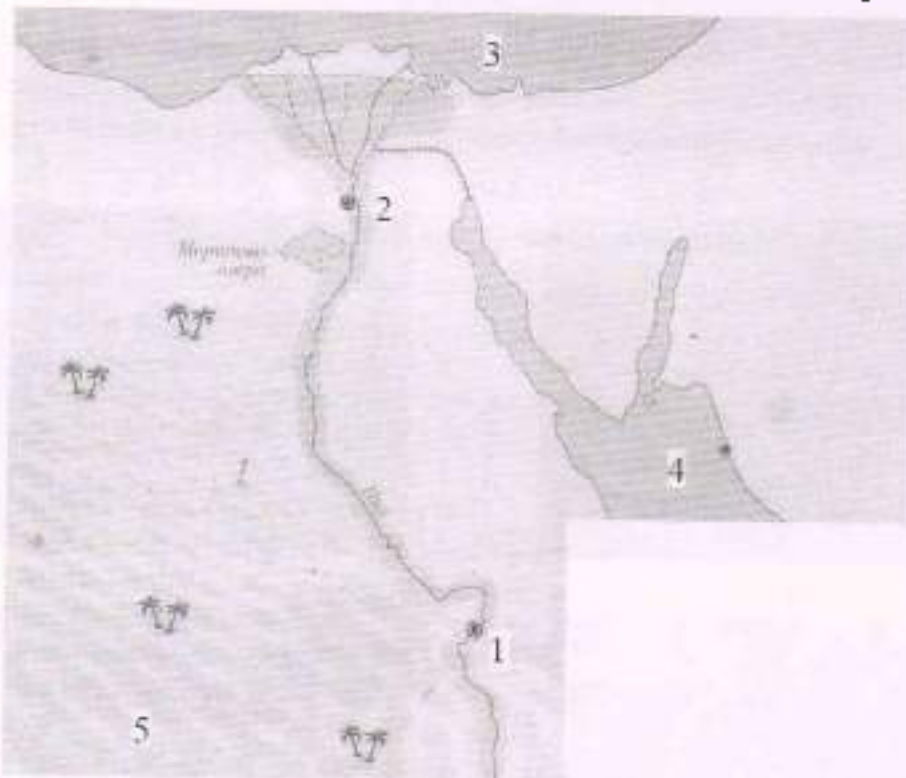
1	2	3	4	5	6
2	9	6	8	5	А

За каждую верную пару - 1 балл

Максимум за задание - 6 баллов.

И-0402

6. Ознакомьтесь с предложенной картой. Выберите верные утверждения.



1. На карте изображено государство Древнего Междуречья.
2. Зелёным цветом выделены на карте районы русла и дельты Нила – зоны наибольшего развития сельского хозяйства в изображённом на карте государстве.
3. Цифрой «4» на карте обозначено Средиземное море.
4. Цифрой «2» на карте обозначен город Мемфис.
5. Цифрой «5» на карте обозначена территория Синайского полуострова.
6. Цифрой «3» на карте обозначено море, которое не омывает берега России.
7. Цифрой «1» на карте обозначен город Фивы.
8. В истории государства, изображённого на схеме, выделяют следующие исторические периоды: Смутное время, Среднее царство, Новейшее царство.

38
Ответ: 3, 6, 2

За каждое верно выбранное/невыбранное утверждение – 1 балл.

Максимум за задание – 8 баллов.

Максимум за работу – 40 баллов.

ВСЕРОССИЙСКАЯ ОЛИМПИАДА ШКОЛЬНИКОВ
ИСТОРИЯ. 2022–2023 уч. г. ШКОЛЬНЫЙ ЭТАП
5 КЛАСС

1. Перед вами фотографии, иллюстрирующие деятельность разных историков. Выберите номера изображений, связанных с работой археологов.



Варианты:

- 1) 1, 3, 4
2) 2, 3, 4
3) 2, 5, 6
4) 3, 4, 5
5) 1, 3, 5

Ответ: 2, 5, 6

Максимум за задание – 3 балла.

2. У каждого историка, как правило, есть *специализация* – та область исторического знания, в которой он разбирается лучше, чем во всех остальных. Соотнесите названия трудов историков с теми областями исторического знания, к которым они относятся.

Название области исторического знания (специализации)	Название книги
1) История СССР	А) «Императорская Россия» (Е. В. Анисимов)
2) История Византии	Б) Средневековые историки о падении Константинополя (А. П. Каздан)
3) История русского средневековья	В) «Иван Грозный» (Б. Н. Флорж)
4) вспомогательные исторические дисциплины	Г) «Ключи к тайнам Клио» (Г. А. Леонтьева, П. А. Шорин, В. Б. Кобрин)
5) История Российской империи	Д) «Очерки начальной Руси» (А. П. Толочко)
6) История Древнерусского государства	Е) «Сталин. Жизнь одного вождя» (О. В. Хлевнюк)

Ответ:

1	2	3	4	5	6
В -	Б +	Е -	Г +	А +	Д +

За каждую верную пару – 2 балла. Максимум за задание – 12 баллов.

3. Расставьте годы и века в верной хронологической последовательности.

- А) I век до н. э.
 Б) 232 год до Р. Х.
 В) 1325 год н. э.
 Г) XIII век

Ответ:

1	2	3	4
А Б	Б А	В Г	Г В

Максимум за задание – 5 баллов.

- 4–5. Перед вами различные изобретения человека, созданные им с древнейших времён до наших дней. Рассмотрите изображения и выполните задания.


1



2



3



4



5



6



4. Соотнесите изображения предметов с их названиями.

Номер изображения предмета	Название изобретения
1	А. персональный компьютер
2	Б. паровой двигатель (паровая машина)
3	В. бензиновый двигатель внутреннего сгорания
4	Г. деревянный плуг
5	Д. шадур
6	Е. ручной книгопечатный станок

Ответ:

1	2	3	4	5	6
Д +	Е +	Б +	В +	Г +	А +

За каждую верную пару – 1 балл

Максимум за задание – 6 баллов.

5. Расположите представленные предметы в порядке их изобретения человеком.

Ответ:

1	2	3	4	5	6
Г	Д	Е	Б	В	А

За каждую верную пару – 1 балл

Максимум за задание – 6 баллов.

6. Ознакомьтесь с предложенной картой. Выберите верные утверждения.



1. На карте изображено государство Древнего Междуречья.
2. Зелёным цветом выделены на карте районы русла и дельты Нила – зоны наибольшего развития сельского хозяйства в изображённом на карте государстве.
3. Цифрой «4» на карте обозначено Средиземное море.
4. Цифрой «2» на карте обозначен город Мемфис.
5. Цифрой «5» на карте обозначена территория Синайского полуострова.
6. Цифрой «3» на карте обозначено море, которое не омывает берега России.
7. Цифрой «1» на карте обозначен город Фивы.
8. В истории государства, изображённого на схеме, выделяют следующие исторические периоды: Смутное время, Среднее царство, Новейшее царство.

85
 Ответ: 2, 4, 6, 7

За каждое верно выбранное/невыбранное утверждение – 1 балл.

Максимум за задание – 8 баллов.

Максимум за работу – 40 баллов.

ВСЕРОССИЙСКАЯ ОЛИМПИАДА ШКОЛЬНИКОВ
ИСТОРИЯ. 2022-2023 уч. г. ШКОЛЬНЫЙ ЭТАП
5 КЛАСС

1. Перед вами фотографии, иллюстрирующие деятельность разных историков. Выберите номера изображений, связанных с работой археологов.

1



2



3



4



5



6



Варианты:

- 1) 1, 3, 4
2) 2, 3, 4
3) 2, 5, 6
4) 3, 4, 5
5) 1, 3, 5

38
Ответ: 3

Максимум за задание – 3 балла.

2. У каждого историка, как правило, есть *специализация* – та область исторического знания, в которой он разбирается лучше, чем во всех остальных. Соотнесите названия трудов историков с теми областями исторического знания, к которым они относятся.

Название области исторического знания (специализации)	Название книги
1) История СССР	А) «Императорская Россия» (Е. В. Анисимов)
2) История Византии	Б) Средневековые историки о падении Константинополя (А. П. Каждан)
3) История русского средневековья	В) «Иван Грозный» (Б. Н. Флоря)
4) Вспомогательные исторические дисциплины	Г) «Ключи к тайнам Клео» (Г. А. Леонтьева, И. А. Шорин, В. Б. Кобрин)
5) История Российской империи	Д) «Очерки начальной Руси» (А. П. Толочко)
6) История Древнерусского государства	Е) «Сталиц. Жизнь одного вождя» (О. В. Хлевнюк)

Ответ:

1	2	3	4	5	6
Е	Б	В	А	Д	Г

За каждую верную пару – 2 балла. Максимум за задание – 12 баллов.

3. Расставьте годы и века в верной хронологической последовательности.

- А) I век до н. э.
 Б) 232 год до Р. Х.
 В) 1325 год н. э.
 Г) XIII век

Ответ:

1	2	3	4
Б	А	Г	В

Максимум за задание – 5 баллов.

- 4–5. Перед вами различные изобретения человека, созданные им с древнейших времён до наших дней. Рассмотрите изображения и выполните задания.

1



2



3



4



5



6



И-0504

4. Соотнесите изображения предметов с их названиями.

Номер изображения предмета	Название изобретения
1	А. персональный компьютер
2	Б. паровой двигатель (паровая машина)
3	В. бензиновый двигатель внутреннего сгорания
4	Г. деревянный плуг
5	Д. шадуф
6	Е. ручной книгопечатный станок

Ответ:

1	2	3	4	5	6
Г -	Е +	Б +	В +	Д -	А -

3б

За каждую верную пару - 1 балл

Максимум за задание - 6 баллов.

5. Расположите представленные предметы в порядке их изобретения человеком.

Ответ:

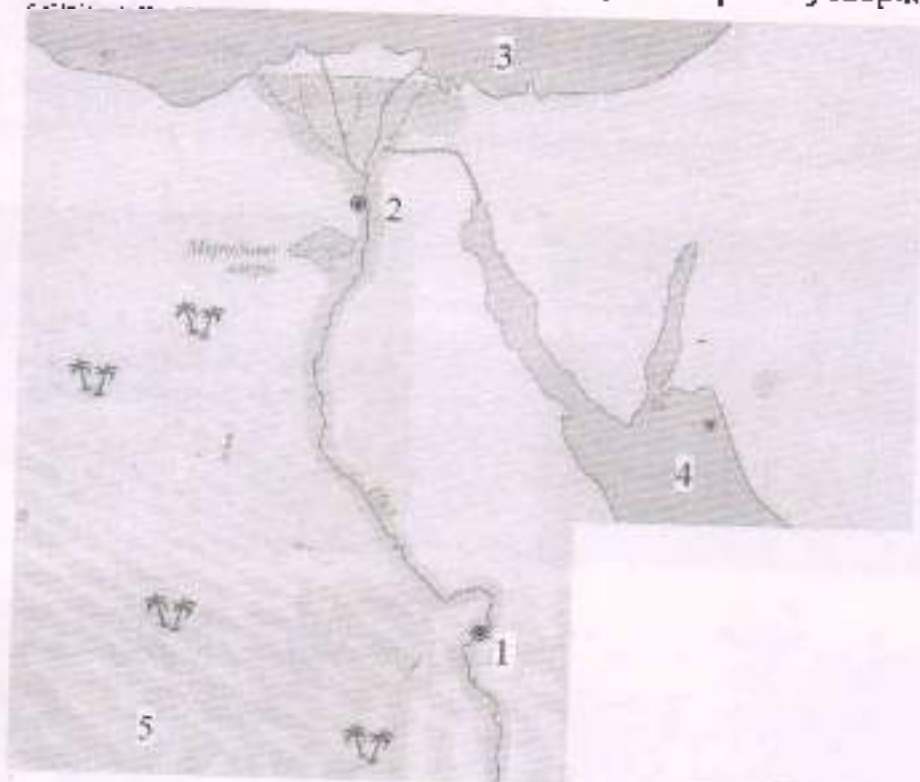
1	2	3	4	5	6
Г -	Д -	Б -	Е -	В +	А +

2б

За каждую верную пару - 1 балл

Максимум за задание - 6 баллов.

6. Ознакомьтесь с предложенной картой. Выберите верные утверждения.



1. На карте изображено государство Древнего Междуречья.
2. Зелёным цветом выделены на карте районы русла и дельты Нила – зоны наибольшего развития сельского хозяйства в изображённом на карте государстве.
3. Цифрой «4» на карте обозначено Средиземное море.
4. Цифрой «2» на карте обозначен город Мемфис.
5. Цифрой «5» на карте обозначена территория Синайского полуострова.
6. Цифрой «3» на карте обозначено море, которое не омывает берега России.
7. Цифрой «1» на карте обозначен город Фивы.
8. В истории государства, изображённого на схеме, выделяют следующие исторические периоды: Смутное время, Среднее царство, Новейшее царство.

85
 Ответ: 2 4 6 7

За каждое верно выбранное/невыбранное утверждение – 1 балл.
 Максимум за задание – 8 баллов.

Максимум за работу – 40 баллов.

ВСЕРОССИЙСКАЯ ОЛИМПИАДА ШКОЛЬНИКОВ
ИСТОРИЯ. 2022–2023 уч. г. ШКОЛЬНЫЙ ЭТАП
5 КЛАСС

1. Перед вами фотографии, иллюстрирующие деятельность разных историков. Выберите номера изображений, связанных с работой археологов.



Варианты:

1) 1, 3, 4

2) 2, 3, 4

3) 2, 5, 6

4) 3, 4, 5

5) 1, 3, 5

Ответ: 2, 5, 6, 3

Максимум за задание – 3 балла.

2. У каждого историка, как правило, есть *специализация* – та область исторического знания, в которой он разбирается лучше, чем во всех остальных. Соотнесите названия трудов историков с теми областями исторического знания, к которым они относятся.

Название области исторического знания (специализации)	Название книги
1) История СССР	А) «Императорская Россия» (Е. В. Анисимов)
2) История Византии	Б) Средневековые историки о падении Константинополя (А. П. Каждан)
3) История русского средневековья	В) «Иван Грозный» (Б. Н. Флоря)
4) Вспомогательные исторические дисциплины	Г) «Ключи к тайнам Клио» (Г. А. Леонтьева, П. А. Шорин, В. Б. Кобрин)
5) История Российской империи	Д) «Очерки начальной Руси» (А. П. Толочко)
6) История Древнерусского государства	Е) «Статьи. Жизнь одного вождя» (О. В. Хлевнюк)

Ответ:

45

1	2	3	4	5	6
Д -	Е -	В -	Г +	А +	Б

За каждую верную пару – 2 балла. Максимум за задание – 12 баллов.

3. Расставьте годы и века в верной хронологической последовательности.

- А) I век до н. э.
- Б) 232 год до Р. Х.
- В) 1325 год н. э.
- Г) XIII век

Ответ:

25

1	2	3	4
А -	Б -	Г +	В +

Максимум за задание – 5 баллов.

4–5. Перед вами различные изобретения человека, созданные им с древнейших времён до наших дней. Рассмотрите изображения и выполните задания.


1



2



3



4



5



6



4. Соотнесите изображения предметов с их названиями.

Номер изображения предмета	Название изобретения
1	А. персональный компьютер
2	Б. паровой двигатель (паровая машина)
3	В. бензиновый двигатель внутреннего сгорания
4	Г. деревянный плуг
5	Д. шадуф
6	Е. ручной книгопечатный станок

Ответ:

1	2	3	4	5	6
Д +	Е +	Б +	В +	Г +	А +

За каждую верную пару – 1 балл

Максимум за задание – 6 баллов.

5. Расположите представленные предметы в порядке их изобретения человеком.

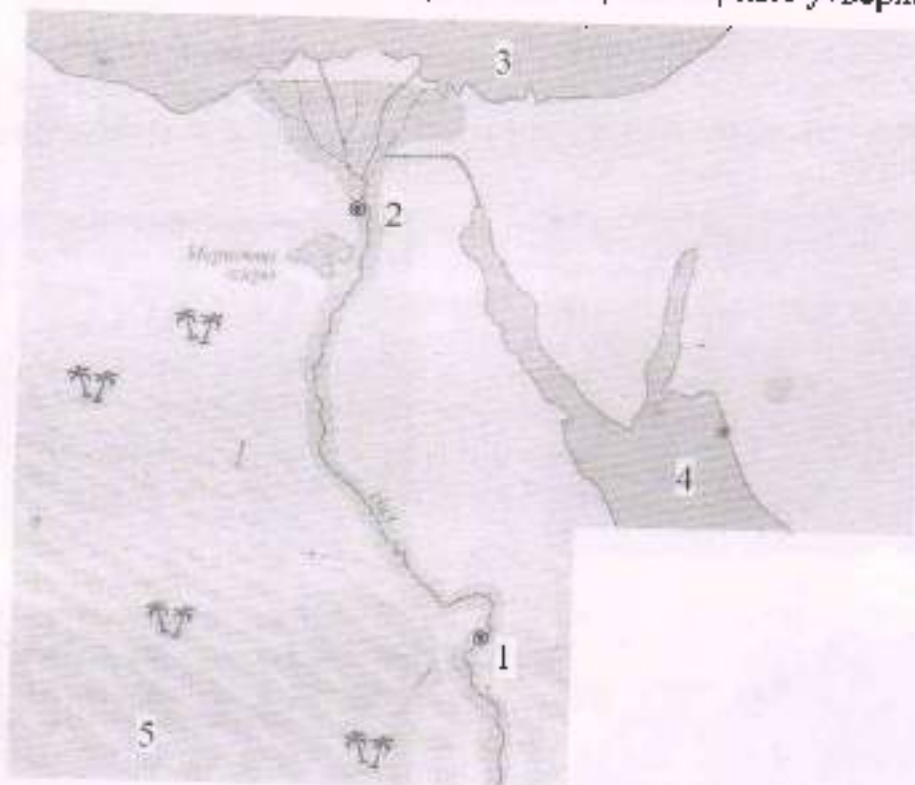
Ответ:

1	2	3	4	5	6
Г -	Д -	Б +	В +	Б -	А +

За каждую верную пару – 1 балл

Максимум за задание – 6 баллов.

6. Ознакомьтесь с предложенной картой. Выберите верные утверждения.



1. На карте изображено государство Древнего Междуречья.
2. Зелёным цветом выделены на карте районы русла и дельты Нила – зоны наибольшего развития сельского хозяйства в изображённом на карте государстве.
3. Цифрой «4» на карте обозначено Средиземное море.
4. Цифрой «2» на карте обозначен город Мемфис.
5. Цифрой «5» на карте обозначена территория Синайского полуострова.
6. Цифрой «3» на карте обозначено море, которое не омывает берега России.
7. Цифрой «1» на карте обозначен город Фивы.
8. В истории государства, изображённого на схеме, выделяют следующие исторические периоды: Смутное время, Среднее царство, Новейшее царство.

26
 Ответ: 3, 5, 6, 7, 8

За каждое верно выбранное/невыбранное утверждение – 1 балл.

Максимум за задание – 8 баллов.

Максимум за работу – 40 баллов.

ВСЕРОССИЙСКАЯ ОЛИМПИАДА ШКОЛЬНИКОВ
ИСТОРИЯ. 2022–2023 уч. г. ШКОЛЬНЫЙ ЭТАП
5 КЛАСС

1. Перед вами фотографии, иллюстрирующие деятельность разных историков. Выберите номера изображений, связанных с работой археологов.



Варианты:

- 1) 1, 3, 4
2) 2, 3, 4
3) 2, 5, 6
4) 3, 4, 5
5) 1, 3, 5

Ответ: 2, 3, 4, 5, 6

Максимум за задание – 3 балла.

2. У каждого историка, как правило, есть *специализация* – та область исторического знания, в которой он разбирается лучше, чем во всех остальных. Соотнесите названия трудов историков с теми областями исторического знания, к которым они относятся.

Название области исторического знания (специализации)	Название книги
1) История СССР	А) «Императорская Россия» (Л. В. Анисимов)
2) История Византии	Б) Средневековые историки о падении Константинополя (А. П. Каздан)
3) История русского средневековья	В) «Иван Грозный» (Б. Н. Флоря)
4) Вспомогательные исторические дисциплины	Г) «Ключи к тайнам Клео» (Г. А. Леонтьева, П. А. Шорин, В. Б. Кобрин)
5) История Российской империи	Д) «Очерки начальной Руси» (А. П. Толочко)
6) История Древнерусского государства	Е) «Сталин. Жизнь одного вождя» (О. В. Хлевнюк)

Ответ:

1	2	3	4	5	6
Е+	В-	В+	Г-	А+	Б-

За каждую верную пару – 2 балла. Максимум за задание – 12 баллов.

3. Расставьте годы и века в верной хронологической последовательности.

- А) I век до н. э.
 Б) 232 год до Р. Х.
 В) 1325 год н. э.
 Г) XIII век

Ответ:

1	2	3	4
Б+	А+	В-	Г+

Максимум за задание – 5 баллов.

- 4-5. Перед вами различные изобретения человека, созданные им с древнейших времён до наших дней. Рассмотрите изображения и выполните задания.


1



2



3



4



5



6



И-0506

4. Соотнесите изображения предметов с их названиями.

Номер изображения предмета	Название изобретения
1	А. персональный компьютер
2	Б. паровой двигатель (паровая машина)
3	В. бензиновый двигатель внутреннего сгорания
4	Г. деревянный плуг
5	Д. шадуф
6	Е. ручной книгопечатный станок

Ответ:

1	2	3	4	5	6
А +	Е -	В -	В -	А +	А -

За каждую верную пару - 1 балл

Максимум за задание - 6 баллов.

5. Расположите представленные предметы в порядке их изобретения человеком.

Ответ:

1	2	3	4	5	6
1 +	5 -	2 +	3 +	4 +	6 +

За каждую верную пару - 1 балл

Максимум за задание - 6 баллов.

6. Ознакомьтесь с предложенной картой. Выберите верные утверждения.



1. На карте изображено государство Древнего Междуречья.
2. Зелёным цветом выделены на карте районы русла и дельты Нила – зоны наибольшего развития сельского хозяйства в изображённом на карте государстве.
3. Цифрой «4» на карте обозначено Средиземное море.
4. Цифрой «2» на карте обозначен город Мемфис.
5. Цифрой «5» на карте обозначена территория Синайского полуострова.
6. Цифрой «3» на карте обозначено море, которое не омывает берега России.
7. Цифрой «1» на карте обозначен город Фивы.
8. В истории государства, изображённого на схеме, выделяют следующие исторические периоды: Смутное время, Среднее царство, Новейшее царство.

4/5 Ответ: 6, 2, 7, 4

За каждое верно выбранное/невыбранное утверждение – 1 балл.

Максимум за задание – 8 баллов.

Максимум за работу – 40 баллов.

ВСЕРОССИЙСКАЯ ОЛИМПИАДА ШКОЛЬНИКОВ
ИСТОРИЯ. 2023–2024 уч. г. ШКОЛЬНЫЙ ЭТАП
6 КЛАСС

1. Выберите верные утверждения.

- 1) Фараоны в Древнем Египте считались сыновьями луны.
- 2) Понятие «парская дорога» относится к истории державы Ахеменидов.
- 3) Наставником и воспитателем Александра Македонского был философ Диоген.
- 4) На территории Причерноморья существовали норманнские колонии.
- 5) Последним императором Западной Римской империи был Ромул Августул.

Ответ: 1, 2, 5

За каждое верно выбранное/невыбранное утверждение – 1 балл.

Максимум за задание – 5 баллов.

2. Какие из представленных изображений относятся к крито-микенской культуре?

А



Б



В



Г



Ответ: Б А

За каждое верно выбранное/невыбранное изображение – 1 балл.

Максимум за задание – 4 балла.

И - общ

3. Выберите верную последовательность периодов истории Древнего Рима.

- А) Римский полис - Римский морской союз - Римская республика - Римская империя
- Б) Царский Рим - Римская республика - Принципат - Доминат
- В) Римская империя - Римская республика - Царский Рим
- Г) Восточная Римская империя - Западная Римская империя - Римская республика

16

Ответ: Б

Максимум за задание - 1 балл.

4. Установите соответствие между историческими деятелями и событиями, связанными с ними.

Исторические деятели	События
1) Диоклетиан	А) возобновление гонений на христиан
2) Константин I Великий	Б) первое применение проскрипций
3) Юлиан Отступник	В) сражение при мысе Акции
4) Октавиан Август	Г) введение системы тетрархии
5) Марк Лациний Красс	Д) миланский эдикт
6) Луций Корнелий Сулла	Е) подавление восстания Спартака

Ответ:

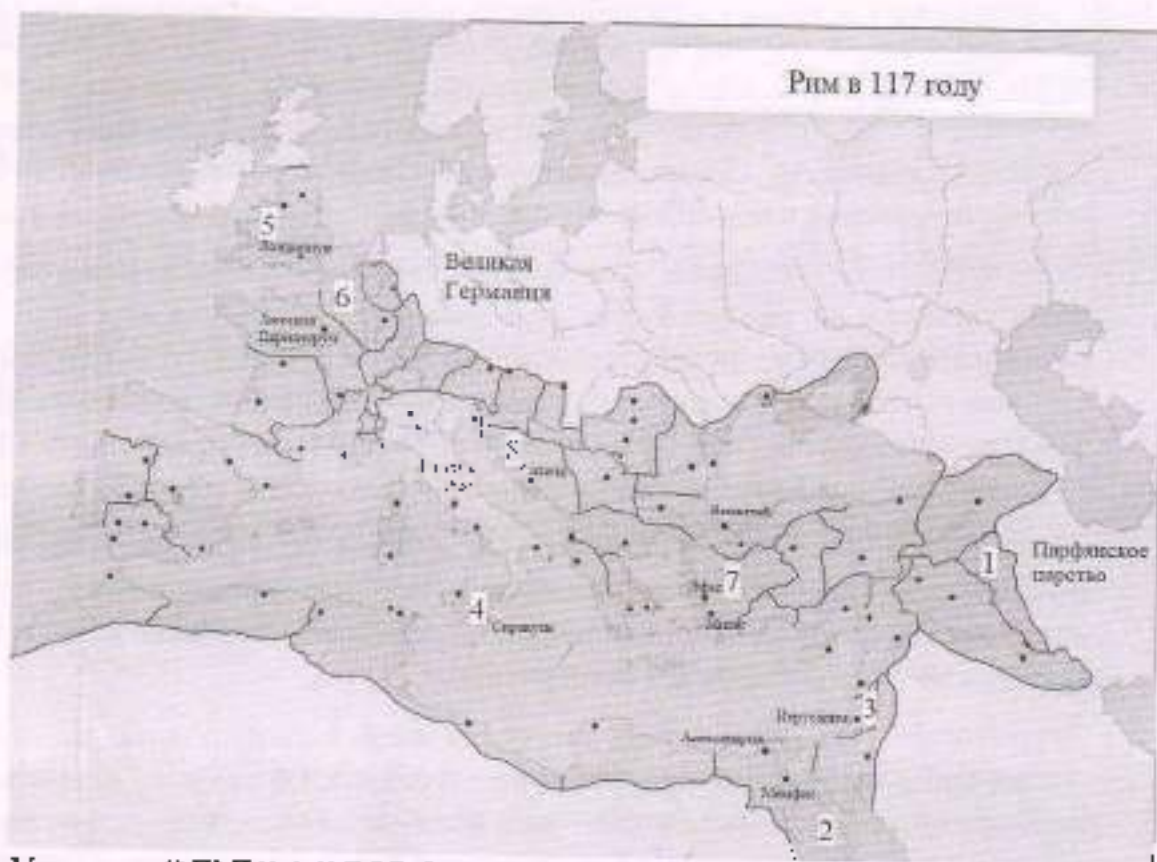
1	2	3	4	5	6
Г +	-	А +	В +	-	Б +

За каждую верную пару - 2 балла.

Максимум за задание - 12 баллов.

И-0604

5-8. Перед вами – карта Римской империи до состояшно на 117 год. Арабскими цифрами на ней обозначены римские провинции.



5. Укажите **ОДНИМ СЛОВОМ** название политической системы, которая существовала в Римской империи в момент её развития, отражённый на карте.

— Ответ: Абсолютная монархия

Максимум за задание – 2 балла.

6. Выберите из приведённого ниже списка имя императора, который был правителем Римской империи на момент, отражённый на карте.

Септимий Север

Диоклетиан

Калигула

Октавиан Август

Феодосий I Великий

Траян

Нерон

Тибериус

26
Ответ: 6

Максимум за задание – 2 балла.

7. Сопоставьте номера обозначенных на карте провинций с посвящёнными

им текстами.

Тексты о провинциях

- А) Эта провинция была образована в ходе Первой Пунической войны и представляла собой первую римскую провинцию. Сохраняла свой статус провинции до фактического прекращения существования Западной Римской империи; была важнейшим центром сельского хозяйства, обеспечивающим италийские города Римской империи.
- Б) Эта провинция являлась одной из наиболее удалённых в империи и располагалась на её восточных рубежах. Своё название она получила от наименования государства, находившегося в древности в Месопотамии. Создание этой провинции приходится на время правления императора Траяна, который посредством успешных военных действий против Парфии смог закрепить за Римом этот сравнительно небольшой участок суши.
- В) На территории этой провинции на рубеже эр происходили события, имеющие колоссальное значение для истории христианства. Здесь же находился и Второй Иерусалимский Храм, разрушенный в ходе Первой Иудейской войны будущим императором Титом.
- Г) Территория этой провинции получила своё наименование по названию проживающего на её территории племени белтов. Географическое положение этой провинции во многом совпадает с положением современного государства, название которого, в свою очередь, происходит от названия этой провинции.
- Д) Эта провинция была образована в результате перехода под власть Рима территорий Пергамского царства. Долгое время она находилась как бы на периферии Римской империи; её расцвет связан с фактом переноса Константином I столицы империи в Византий, который находился неподалёку от этой провинции. Интересно и то, что название этой провинции стало впоследствии нарицательным: её именем стали называть одну из частей света.
- Е) Название этой провинции (с небольшими изменениями) и по сей день возможно обнаружить на географических картах практически на том же месте, где оно было некогда в составе Римской империи. Покорение этих территорий давалось римлянам весьма сложно; некоторые племена – среди них наиболее известными являются, вероятно, пикты – так и не были подчинены; для обороны от них римлянам приходилось строить протяжённые линии укреплений, среди которых наиболее известным является так называемый «Адрианов вал».
- Ж) Территория этой провинции вошла в состав Римской империи после поражения Марка Антония и Клеопатры в битве при мысе Акций в 30 году до н. э. и их последующей гибели. Тем самым в состав империи вошло одно из наиболее могущественных эллинистических государств;

И-0601

его культура, уходящая корнями в глубокую древность, оказала значительное влияние на культуру Римской империи.

3) Эту провинцию от Италии отделяло лишь Адриатическое море. Название же этой провинции стало нарицательным для именования территорий, входящих в состав современной Хорватии и Черногории.

Ответ:

Описание провинции, буква	А	Г	Д	Ж	В	Е	З	Б
Географическое положение провинции, цифра	4	8	3	5	1	7	6	2

За каждую верную пару – 1 балл.

Максимум за задание – 8 баллов.

8. Сопоставьте названия провинций с посвящёнными им текстами. Обратите внимание на то, что в списке названий есть лишние варианты.

Названия провинций

- I. Египет
- II. Галлия
- III. Пафлагония
- IV. Азия
- V. Далмация
- VI. Ассирия
- VII. Сицилия
- VIII. Македония
- IX. Британия
- X. Иудея
- XI. Белгика
- XII. Каппадокия

Ответ:

Описание провинции, буква	Б	Ж	В	А	Е	Г	Д	З
Название провинции, римская цифра	VI	I	X	VII	IX	XI	IV	V

За каждую верную пару – 1 балл.

Максимум за задание – 8 баллов.

И-0001

9. Перед вами изображения, связанные с историческими и мифологическими событиями различных государств Древнего мира и Средних веков. Определите, события из истории и культуры каких стран на них изображены, и соотнесите эти картины с названиями государств.

1



2



3



4



5



6



И-0601

7



8



Ответ:

(А) Древний Рим	(Б) Древняя Греция	(В) Вавилонское царство	(Г) Византийская империя
14 +	45	23	18

За каждую верную пару - 1 балл.

Максимум за задание - 8 баллов.

Максимум за работу - 50 баллов.

ВСЕРОССИЙСКАЯ ОЛИМПИАДА ШКОЛЬНИКОВ
ИСТОРИЯ. 2023–2024 уч. г. ШКОЛЬНЫЙ ЭТАП
6 КЛАСС

1. Выберите верные утверждения.

- 1) Фараоны в Древнем Египте считались сыновьями луны.
- 2) Понятие «царская дорога» относится к истории державы Ахеменидов.
- 3) Наставником и воспитателем Александра Македонского был философ Диоген.
- 4) На территории Причерноморья существовали норманнские колонии.
- 5) Последним императором Западной Римской империи был Ромул Августул.

50

Ответ: 2, 5

За каждое верно выбранное/невыбранное утверждение – 1 балл.
Максимум за задание – 5 баллов.

2. Какие из представленных изображений относятся к крито-микенской культуре?

А



Б



В



Г



45

Ответ: А

За каждое верно выбранное/невыбранное изображение – 1 балл.
Максимум за задание – 4 балла.

и-0602

3. Выберите верную последовательность периодов истории Древнего Рима.

- А) Римский полис – Римский морской союз – Римская республика – Римская империя
- Б) Царский Рим – Римская республика – Принципат – Доминат
- В) Римская империя – Римская республика – Царский Рим
- Г) Восточная Римская империя – Западная Римская империя – Римская республика

15

Ответ: Б

Максимум за задание – 1 балл.

4. Установите соответствие между историческими деятелями и событиями, связанными с ними.

Исторические деятели	События
1) Диоклетиан	А) возобновление гонений на христиан
2) Константин I Великий	Б) первое применение проскрипций
3) Юлиан Отступник	В) сражение при мысе Акции
4) Октавиан Август	Г) введение системы тетрархии
5) Марк Лициний Красс	Д) миланский эдикт
6) Луций Корнелий Сулла	Е) подавление восстания Спартака

Ответ:

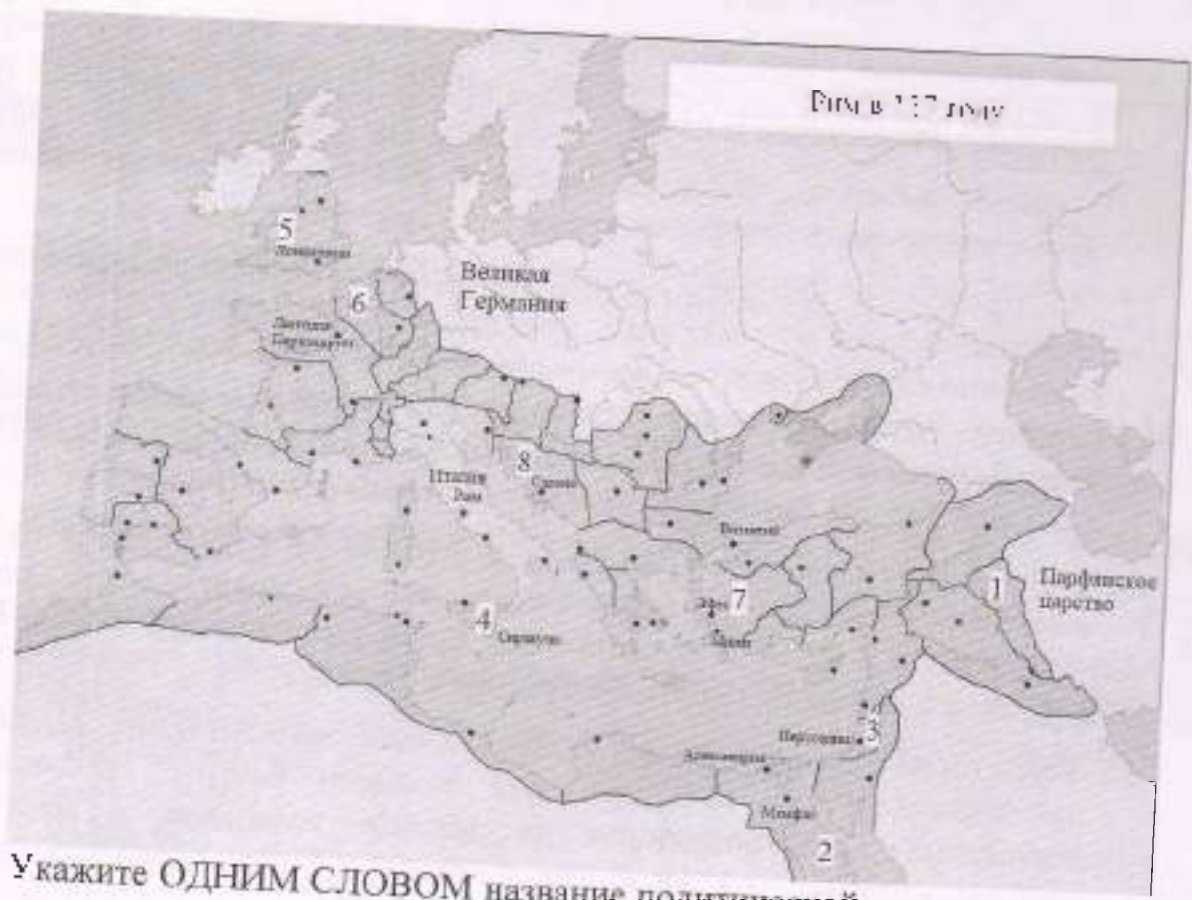
85

1	2	3	4	5	6
Г +	Д +	А +	В +	Б –	Е –

За каждую верную пару – 2 балла.

Максимум за задание – 12 баллов.

5-8. Перед вами – карта Римской империи по состоянию на 117 год. Арабскими цифрами на ней обозначены римские провинции.



5. Укажите **ОДНИМ СЛОВОМ** название политической системы, которая существовала в Римской империи в момент её развития, отражённый на карте.

Ответ: _____

диктатура

Максимум за задание – 2 балла.

6. Выберите из приведённого ниже списка имя императора, который был правителем Римской империи на момент, отражённый на карте.

- Септимий Север
- Диоклегиан
- Калигула
- Октавиан Август
- Феодосий I Великий
- Траян
- Нерон
- Тиберий

25

Ответ: Траян

Максимум за задание – 2 балла.

7. Сопоставьте номера обозначенных на карте провинций с посвящёнными

и-0602

им текстами.

Тексты о провинциях

- А) Эта провинция была образована в ходе Первой Пунической войны и представляла собой первую римскую провинцию. Сохраняла свой статус провинции до фактического прекращения существования Западной Римской империи; была важнейшим центром сельского хозяйства, обеспечивающим италийские города Римской империи.
- Б) Эта провинция являлась одной из наиболее удалённых в империи и располагалась на её восточных рубежах. Своё название она получила от наименования государства, находившегося в древности в Месопотамии. Создание этой провинции приходится на время правления императора Траяна, который посредством успешных военных действий против Парфии смог закрепить за Римом этот сравнительно небольшой участок суши.
- В) На территории этой провинции на рубеже эр происходили события, имеющие колоссальное значение для истории христианства. Здесь же находился и Второй Иерусалимский Храм, разрушенный в ходе Первой Иудейской войны будущим императором Титом.
- Г) Территория этой провинции получила своё наименование по названию проживающего на её территории племени белгов. Географическое положение этой провинции во многом совпадает с положением современного государства, название которого, в свою очередь, происходит от названия этой провинции.
- Д) Эта провинция была образована в результате перехода под власть Рима территорий Пергамского царства. Долгое время она находилась как бы на периферии Римской империи; её расцвет связан с фактом переноса Константином I столицы империи в Византию, который находился неподалёку от этой провинции. Интересно и то, что название этой провинции стало впоследствии нарицательным: её именем стали называть одну из частей света.
- Е) Название этой провинции (с небольшими изменениями) и по сей день возможно обнаружить на географических картах практически на том же месте, где оно было некогда в составе Римской империи. Покорение этих территорий давалось римлянам весьма сложно; некоторые племена – среди них наиболее известными являются, вероятно, пикты – так и не были подчинены; для обороны от них римлянам приходилось строить протяжённые линии укреплений, среди которых наиболее известным является так называемый «Адрианов вал».
- Ж) Территория этой провинции вошла в состав Римской империи после поражения Марка Антония и Клеопатры в битве при мысе Акции в 30 году до н. э. и их последующей гибели. Тем самым в состав империи вошло одно из наиболее могущественных эллинистических государств;

его культура, уходящая корнями в глубокую древность, оказала значительное влияние на культуру Римской империи.

3) Эту провинцию от Италии отделяло лишь Адриатическое море. Название же этой провинции стало нарицательным для именования территорий, входящих в состав современной Хорватии и Черногории.

Ответ:

Описание провинции, буква	Б	Ж	В	А	Е	Г	З	И
Географическое положение провинции, цифра	1	2	3	4	5	6	7	8

За каждую верную пару – 1 балл.

Максимум за задание – 8 баллов.

8. Сопоставьте названия провинций с посвящёнными им текстами. Обратите внимание на то, что в списке названий есть лишние варианты.

Названия провинций

- I. Египет
- II. Галлия
- III. Пафлагония
- IV. Азия
- V. Далмация
- VI. Ассирия
- VII. Сицилия
- VIII. Македония
- IX. Британия
- X. Иудея
- XI. Белгика
- XII. Каппадокия

Ответ:

Описание провинции, буква	Б	Ж	В	А	Е	Г	З	И
Название провинции, римская цифра	VI	I	X	VII	IX	XI	V	IV

За каждую верную пару – 1 балл.

Максимум за задание – 8 баллов.

9. Перед вами изображения, связанные с историческими и мифологическими событиями различных государств Древнего мира и Средних веков. Определите, события из истории и культуры каких стран на них изображены, и соотнесите эти картины с названиями государств.

1



2



3



4



5



6



7



8



Ответ:

(А) Древний Рим	(Б) Древняя Греция	(В) Вавилонское царство	(Г) Византийская империя
1,3,7.	4, 5	2, 6	8

За каждую верную пару – 1 балл.

Максимум за задание – 8 баллов.

Максимум за работу – 50 баллов.

285

ВСЕРОССИЙСКАЯ ОЛИМПИАДА ШКОЛЬНИКОВ
ИСТОРИЯ. 2023–2024 уч. г. ШКОЛЬНЫЙ ЭТАП
6 КЛАСС

1. Выберите верные утверждения.

И-0603

- 1) Фараоны в Древнем Египте считались сыновьями луны.
- 2) Понятие «царская дорога» относится к истории державы Ахеменидов.
- 3) Наставником и воспитателем Александра Македонского был философ Диоген.
- 4) На территории Причерноморья существовали норманские колонии.
- 5) Последним императором Западной Римской империи был Ромул Августул.

50

Ответ: 2, 5

За каждое верно выбранное/невыбранное утверждение – 1 балл.
Максимум за задание – 5 баллов.

2. Какие из представленных изображений относятся к крито-микенской культуре?

А



Б



В



Г



40

Ответ: А

За каждое верно выбранное/невыбранное изображение – 1 балл.
Максимум за задание – 4 балла.

И-0603

3. Выберите верную последовательность периодов истории Древнего Рима.

- А) Римский союз – Римский морской союз – Римская республика – Римская империя
- Б) Царский Рим – Римская республика – Принципат – Доминат
- В) Римская империя – Римская республика – Царский Рим
- Г) Восточная Римская империя – Западная Римская империя – Римская республика

6
Ответ: Б

Максимум за задание – 1 балл.

4. Установите соответствие между историческими деятелями и событиями, связанными с ними.

Исторические деятели	События
1) Диоклетиан	А) возобновление гонений на христиан
2) Константин I Великий	Б) первое применение проскрипций
3) Юлиан Отступник	В) сражение при мысе Акий
4) Октавиан Август	Г) введение системы тетрархии
5) Марк Лициний Красс	Д) миланский эдикт
6) Луций Корнелий Сулла	Е) подавление восстания Спартака

Ответ:

Е5

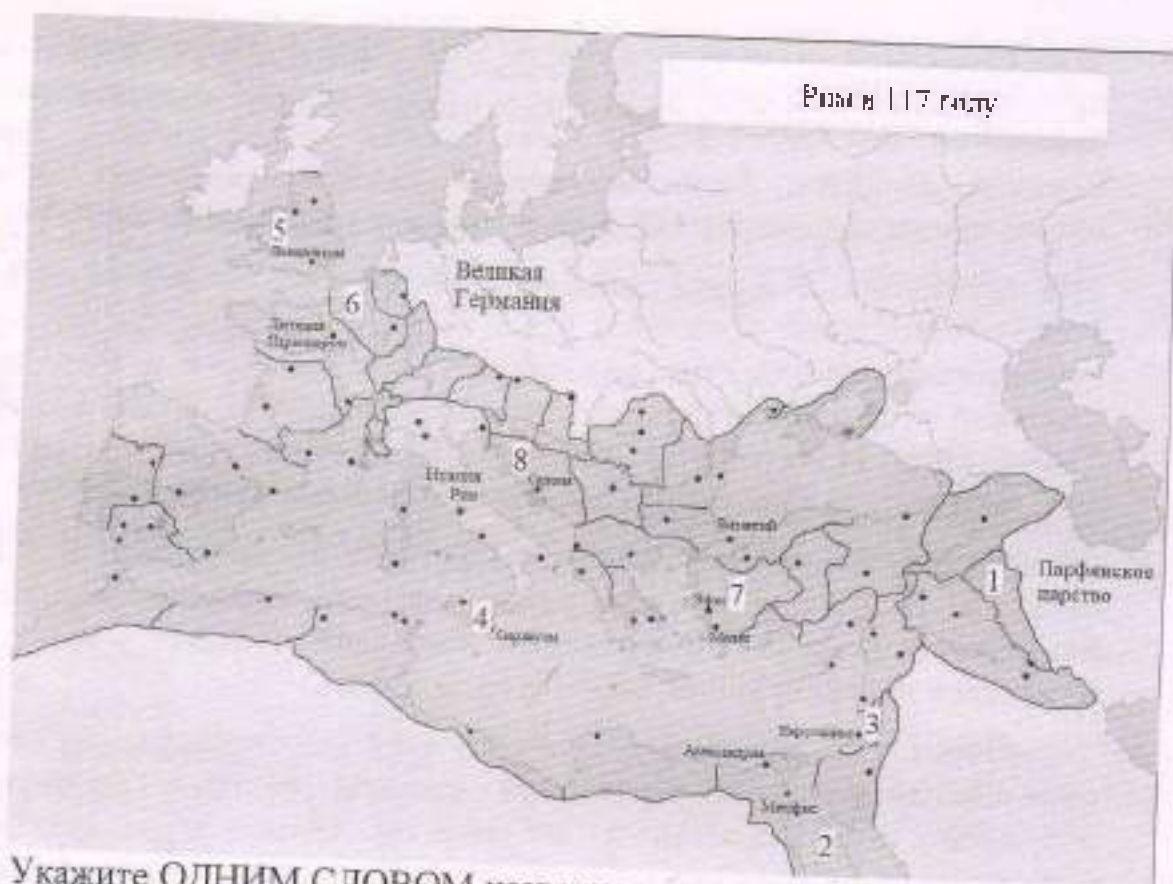
1	2	3	4	5	6
Г+	Б+	А+	В Б-	В-	Е-

За каждую верную пару – 2 балла.

Максимум за задание – 12 баллов.

И-0603

5-8. Перед вами – карта Римской империи по состоянию на 117 год. Арабскими цифрами на ней обозначены римские провинции.



5. Укажите **ОДНИМ СЛОВОМ** название политической системы, которая существовала в Римской империи в момент её развития, отражённый на карте.

Ответ: _____

Максимум за задание – 2 балла.

6. Выберите из приведённого ниже списка имя императора, который был правителем Римской империи на момент, отражённый на карте.

Септимий Север

Диоклетиан

Калигула

Октавиан Август

Феодосий I Великий

Траян

Нерон

Гибрий

Ответ: Нерон Траян

Максимум за задание – 2 балла.

7. Сопоставьте номера обозначенных на карте провинций с посвящёнными

им текстами.

Тексты о провинциях

- А) Эта провинция была образована в ходе Первой Пунической войны и представляла собой первую римскую провинцию. Сохраняла свой статус провинции до фактического прекращения существования Западной Римской империи; была важнейшим центром сельского хозяйства, обеспечивающим италийские города Римской империи.
- Б) Эта провинция являлась одной из наиболее удалённых в империи и располагалась на её восточных рубежах. Своё название она получила от наименования государства, находившегося в древности в Месопотамии. Создание этой провинции приходится на время правление императора Траяна, который посредством успешных военных действий против Парфии смог закрепить за Римом этот сравнительно небольшой участок суши.
- В) На территории этой провинции на рубеже эр происходили события, имеющие колоссальное значение для истории христианства. Здесь же находился и Второй Иерусалимский Храм, разрушенный в ходе Первой Иудейской войны будущим императором Титом.
- Г) Территория этой провинции получила своё наименование по названию проживающего на её территории племени белгов. Географическое положение этой провинции во многом совпадает с положением современного государства, название которого, в свою очередь, происходит от названия этой провинции.
- Д) Эта провинция была образована в результате перехода под власть Рима территорий Нергамского царства. Долгое время она находилась как бы на периферии Римской империи; её расцвет связан с фактом переноса Константином I столицы империи в Византий, который находился неподалёку от этой провинции. Интересно и то, что название этой провинции стало впоследствии нарицательным: её именем стали называть одну из частей света.
- Е) Название этой провинции (с небольшими изменениями) и по сей день возможно обнаружить на географических картах практически на том же месте, где оно было некогда в составе Римской империи. Покорение этих территорий давалось римлянам весьма сложно; некоторые племена – среди них наиболее известными являются, вероятно, пикты – так и не были подчинены; для обороны от них римлянам приходилось строить протяжённые линии укреплений, среди которых наиболее известным является так называемый «Адрианов вал».
- Ж) Территория этой провинции вошла в состав Римской империи после поражения Марка Антония и Клеопатры в битве при мысе Актий в 30 году до н. э. и их последующей гибели. Тем самым в состав империи вошло одно из наиболее могущественных эллинистических государств;

его культура, уходящая корнями в глубокую древность, оказала значительное влияние на культуру Римской империи.

3) Эту провинцию от Италии отделяло лишь Адриатическое море. Название же этой провинции стало нарицательным для именовании территорий, входящих в состав современной Хорватии и Черногории.

Ответ:

Описание провинции, буква	б	ж	в	а	е	г	з	я
Географическое положение провинции, цифра	1	2	3	4	5	6	7	8

За каждую верную пару – 1 балл.

Максимум за задание – 8 баллов.

8. Сопоставьте названия провинций с посвящёнными им текстами. Обратите внимание на то, что в списке названий есть лишние варианты.

Названия провинций

- I. Египет
- II. Галлия
- III. Пафлагония
- IV. Азия
- V. Далмация
- VI. Ассирия
- VII. Сицилия
- VIII. Македония
- IX. Британия
- X. Иудея
- XI. Белгика
- XII. Каппадокия

Ответ:

Описание провинции, буква								
Название провинции, римская цифра								

За каждую верную пару – 1 балл.

Максимум за задание – 8 баллов.

9. Перед вами изображения, связанные с историческими и мифологическими событиями различных государств Древнего мира и Средних веков. Определите, события из истории и культуры каких стран на них изображены, и соотнесите эти картины с названиями государств.

1



2



3



4



5



6



7



8



Ответ:

(А) Древний Рим	(Б) Древняя Греция	(В) Вавилонское царство	(Г) Византийская империя
1,3,7	4,5	2,4,6	8

За каждую верную пару – 1 балл.

Максимум за задание – 8 баллов.

Максимум за работу – 50 баллов.

7



8



Ответ:

(А) Древний Рим	(Б) Древняя Греция	(В) Вавилонское царство	(Г) Византийская империя
1,3,7	4,5	2,4,6	8

За каждую верную пару – 1 балл.

Максимум за задание – 8 баллов.

Максимум за работу – 50 баллов.

VI-06 04

ВСЕРОССИЙСКАЯ ОЛИМПИАДА ШКОЛЬНИКОВ
ИСТОРИЯ. 2023–2024 уч. г. ШКОЛЬНЫЙ ЭТАП
6 КЛАСС

1. Выберите верные утверждения.

- 1) Фараоны в Древнем Египте считались сыновьями луны.
- 2) Понятие «царская дорога» относится к истории державы Ахеменидов.
- 3) Наставником и воспитателем Александра Македонского был философ Диоген.
- 4) На территории Причерноморья существовали норманнские колонии.
- 5) Последним императором Западной Римской империи был Ромул Августул.

48

Ответ: 3, 5.

За каждое верно выбранное/невыбранное утверждение – 1 балл.

Максимум за задание – 5 баллов.

2. Какие из представленных изображений относятся к крито-микенской культуре?

А



Б



В



Г



48

Ответ: А

За каждое верно выбранное/невыбранное изображение – 1 балл.

Максимум за задание – 4 балла.

3. Выберите верную последовательность периодов истории Древнего Рима.

- А) Римский союз – Римский морской союз – Римская республика – Римская империя
- Б) Царский Рим – Римская республика – Принципат – Доминат
- В) Римская империя – Римская республика – Царский Рим
- Г) Восточная Римская империя – Западная Римская империя – Римская республика

Ответ: Б.

Максимум за задание – 1 балл.

4. Установите соответствие между историческими деятелями и событиями, связанными с ними.

Исторические деятели	События
1) Диоклетиан	А) возобновление гонений на христиан
2) Константин I Великий	Б) первое применение проскрипций
3) Юлиан Отступник	В) сражение при мысе Акции
4) Октавиан Август	Г) введение системы тетрархии
5) Марк Лициний Красс	Д) миланский эдикт
6) Луций Корнелий Сулла	Е) подавление восстания Спартака

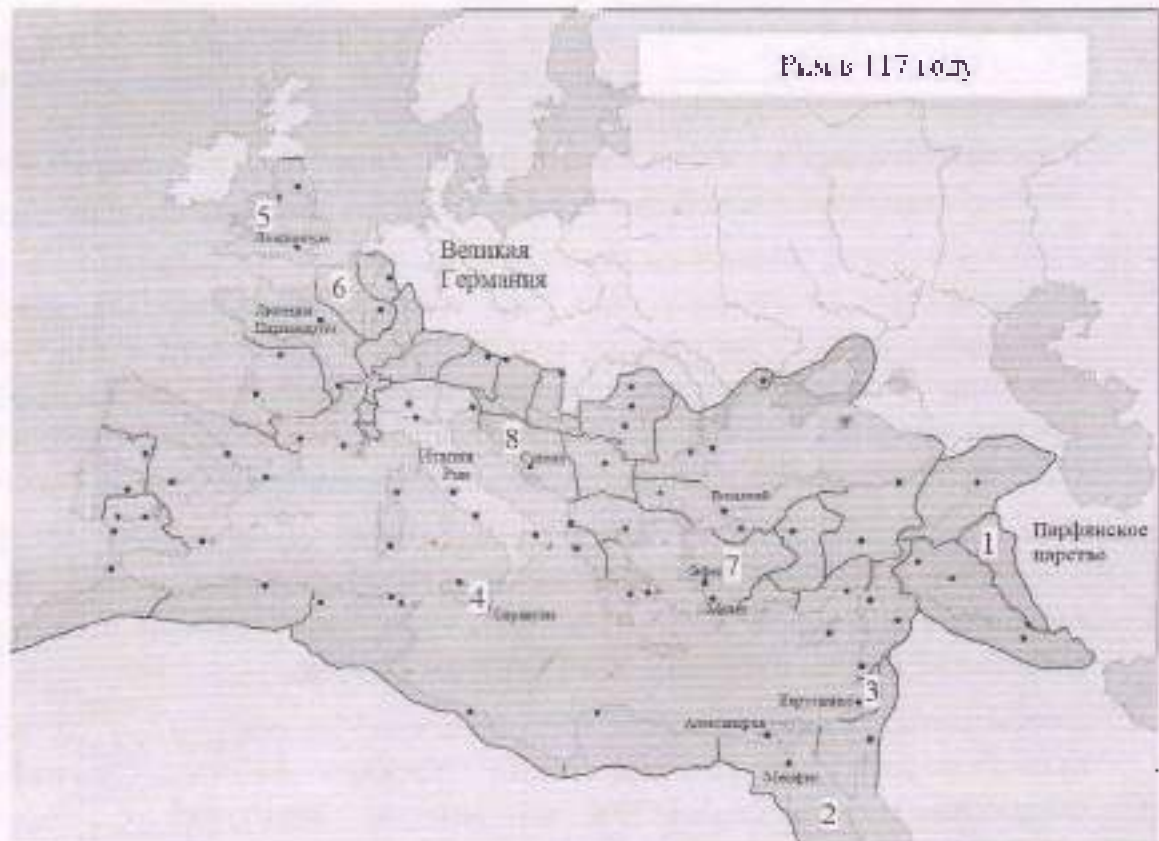
Ответ:

1	2	3	4	5	6
Г +	Д +	А +	Б -	Е +	В -

За каждую верную пару – 2 балла.

Максимум за задание – 12 баллов.

5-8. Перед вами – карта Римской империи по состоянию на 117 год. Арабскими цифрами на ней обозначены римские провинции.



5. Укажите **ОДНИМ СЛОВОМ** название политической системы, которая существовала в Римской империи в момент её развития, отражённый на карте.

Ответ: _____.

Максимум за задание – 2 балла.

6. Выберите из приведённого ниже списка имя императора, который был правителем Римской империи на момент, отражённый на карте.

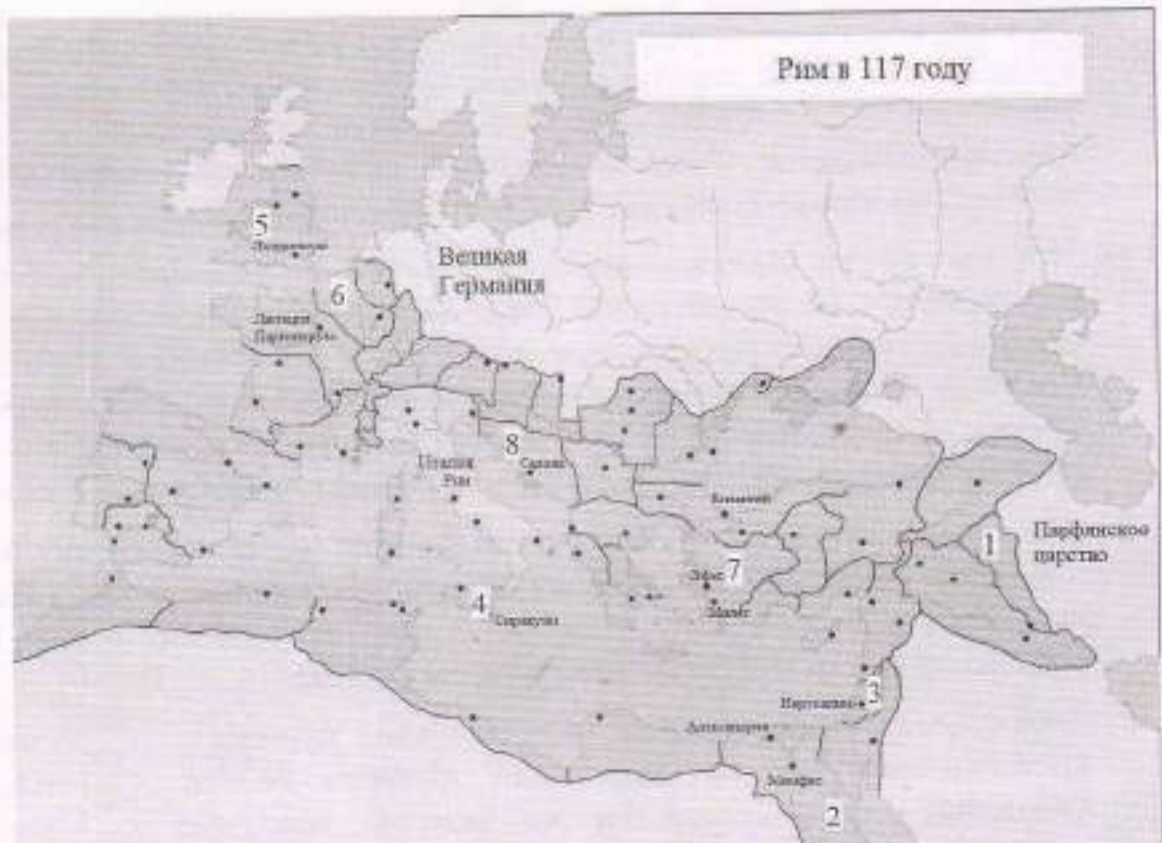
- Септимий Север
- Диоклегиан
- Калигула
- Октавиан Август
- Феодосий I Великий
- Траян
- Нерон
- Тиберий

25
 Ответ: Траян

Максимум за задание – 2 балла.

7. Сопоставьте номера обозначенных на карте провинций с посвящёнными

5-8. Перед вами – карта Римской империи по состоянию на 117 год. Арабскими цифрами на ней обозначены римские провинции.



5. Укажите ОДИМ СЛОВОМ название политической системы, которая существовала в Римской империи в момент её развития, отражённый на карте.

Ответ: _____.

Максимум за задание – 2 балла.

6. Выберите из приведённого ниже списка имя императора, который был правителем Римской империи на момент, отражённый на карте.

- Септимий Север
- Диоклетиан
- Калигула
- Октавиан Август
- Феодосий I Великий
- Траян
- Нерон
- Тибериус

25 Ответ: Траян _____.

Максимум за задание – 2 балла.

7. Сопоставьте номера обозначенных на карте провинций с посвящёнными

им текстами.

Тексты о провинциях

- А) Эта провинция была образована в ходе Первой Пунической войны и представляла собой первую римскую провинцию. Сохраняла свой статус провинции до фактического прекращения существования Западной Римской империи: была важнейшим центром сельского хозяйства, обеспечивающим италийские города Римской империи.
- Б) Эта провинция являлась одной из наиболее удалённых в империи и располагалась на её восточных рубежах. Своё название она получила от наименования государства, находившегося в древности в Месопотамии. Создание этой провинции приходится на время правления императора Траяна, который посредством успешных военных действий против Парфии смог закрепить за Римом этот сравнительно небольшой участок суши.
- В) На территории этой провинции на рубеже эр происходили события, имеющие колоссальное значение для истории христианства. Здесь же находился и Второй Иерусалимский Храм, разрушенный в ходе Первой Иудейской войны будущим императором Титом.
- Г) Территория этой провинции получила своё наименование по названию проживающего на её территории племени белгов. Географическое положение этой провинции во многом совпадает с положением современного государства, название которого, в свою очередь, происходит от названия этой провинции.
- Д) Эта провинция была образована в результате перехода под власть Рима территорий Пергамского царства. Долгое время она находилась как бы на периферии Римской империи: её расцвет связан с фактом переноса Константином I столицы империи в Византий, который находился неподалёку от этой провинции. Интересно и то, что название этой провинции стало впоследствии нарицательным: её именем стали называть одну из частей света.
- Е) Название этой провинции (с небольшими изменениями) и по сей день возможно обнаружить на географических картах практически на том же месте, где оно было некогда в составе Римской империи. Покорение этих территорий давалось римлянам весьма сложно; некоторые племена – среди них наиболее известными являются, вероятно, пикты – так и не были подчинены; для обороны от них римлянам приходилось строить протяжённые линии укреплений, среди которых наиболее известным является так называемый «Адрианов вал».
- Ж) Территория этой провинции вошла в состав Римской империи после поражения Марка Антония и Клеопатры в битве при мысе Акций в 30 году до н. э. и их последующей гибели. Тем самым в состав империи вошло одно из наиболее могущественных эллинистических государств;

его культура, уходящая корнями в глубокую древность, оказала значительное влияние на культуру Римской империи.

- 3) Эту провинцию от Италии отделяло лишь Адриатическое море. Название же этой провинции стало нарицательным для именования территорий, входящих в состав современной Хорватии и Черногории.

Ответ:

	+	+	+	+	+
Описание провинции, буква	Б	В	А	Е	3
58 Географическое положение провинции, цифра	1	3	4	5	8

За каждую верную пару – 1 балл.

Максимум за задание – 8 баллов.

8. Сопоставьте названия провинций с посвященными им текстами. Обратите внимание на то, что в списке названий есть лишние варианты.

Названия провинций

- I. Египет
- II. Галлия
- III. Пафлагония
- IV. Азия
- V. Далмация
- VI. Ассирия
- VII. Сицилия
- VIII. Македония
- IX. Британия
- X. Иудея
- XI. Белгика
- XII. Каппадокия

Ответ:

Описание провинции, буква									
Название провинции, римская цифра									

За каждую верную пару – 1 балл.

Максимум за задание – 8 баллов.

9. Перед вами изображения, связанные с историческими и мифологическими событиями различных государств Древнего мира и Средних веков. Определите, события из истории и культуры каких стран на них изображены, и соотнесите эти картины с названиями государств.

1



2



3



4



5



6



7



8

**Ответ:**

(А) Древний Рим	(Б) Древняя Греция	(В) Вавилонское царство	(Г) Византийская империя
1	45	2, 6	8

За каждую верную пару – 1 балл.

Максимум за задание – 8 баллов.

Максимум за работу – 50 баллов.

И-0707

345

ВСЕРОССИЙСКАЯ ОЛИМПИАДА ШКОЛЬНИКОВ
ИСТОРИЯ. 2022-2023 уч. г. ШКОЛЬНЫЙ ЭТАП
7 КЛАСС

1. В каком году произошли описанные в приведённом тексте события?

«Трубы трубят в Новъградѣ, стоятъ стязи въ Путивлѣ. Игорь ждётъ мила брата Всеволода. И рече ему Буй Туръ Всеволодъ: «Одинъ братъ, одинъ свѣтъ свѣтлый – ты, Игорю! Оба есмь Святъславичя! Съдай, брате, свои брѣзны комош, а мои ти готови, осѣдаши у Курьска напереди».

- 1) 1185
- 2) 1174
- 3) 1237
- 4) 1380
- 5) 1480
- 6) 1500

Ответ: 1

Максимум за задание – 2 балла.

2. Укажите факт из биографии автора текста, приведённого ниже:

«Доколе же ты, Катилина, будешь злоупотреблять нашим терпением? Как долго ещё ты, в своём бешенстве, будешь издеваться над нами? До каких пределов ты будешь кичиться своей дерзостью, не знающей узды? Неужели тебя не встревожили ни почные караулы на Палатине, ни стража, обходящая город, ни страх, охвативший народ, ни присутствие всех честных людей, ни выбор этого столь надёжно защищённого места для заседания сената, ни лица и взоры всех присутствующих? Неужели ты не понимаешь, что твои намерения открыты? Не видишь, что твой разговор уже известен всем присутствующим и раскрыт? Кто из нас, по твоему мнению, не знает, что делал ты последней, что предыдущей ночью, где ты был, кого сзывал, какое решение принял? О, времена! О, нравы! Сенат все это понимает, консул видит, а этот человек всё ещё жив!»

- 1) Участвовал в возведении Афинских «длинных стен».
- 2) Реформировал управление легионами Рима.
- 3) Является автором «Энеиды».
- 4) Командовал войсками Рима в битве на Катавунских полях.
- 5) Построил крупнейший амфитеатр Рима, ныне более известный как Колизей.
- 6) Был убит в ходе проскрипций, проводимых вторым триумvirатом.

Ответ: 4

Максимум за задание – 2 балла.

3. Выберите название архитектурного сооружения, точно существовавшего на территории Владимиро-Суздальского княжества по состоянию на конец XIII века.

- 1) Десятинная церковь
- 2) Собор Святой Софии
- 3) Церковь Параскевы Пятницы на Торгу
- 4) Успенский собор
- 5) Церковь Покрова что на Рву (Собор Василия Блаженного)
- 6) Троице-Сергиев монастырь

2 Ответ: 4

Максимум за задание – 2 балла.

4. Укажите верные утверждения.

- 1) Октавиан Август – император, переименовавший месяц секстилий в свою честь.
- 2) Проконий Кесарийский – автор эпической поэмы «Энеида».
- 3) Траян – император, при котором территория Рима достигла максимальных размеров.
- 4) Тулл Гостилий – основатель города Рима.
- 5) Перикл – афинский полководец в битве при Марафоне.
- 6) Каракалла – император, даровавший всем жителям Римского государства гражданство.

25 Ответ: 1 3

Максимум за задание – 3 балла.

5. Кто из этих исторических деятелей был правителем какого-либо государства в XIII веке?

- 1) Александр Невский
- 2) Алексей Комнин I
- 3) Михаил VIII Палеолог
- 4) Дмитрий Боброк-Волынский
- 5) Иоанн Безземельный
- 6) Карл V Габсбург

26 Ответ: 1 3

Максимум за задание – 3 балла.

6. Выберите факты, связанные с религиозной жизнью Европы в XVI–XVII вв.

- 1) разрыв между Восточной и Западной христианскими церквями
- 2) вестфальский мир
- 3) появление «Индекса запрещённых книг»
- 4) авиньонское пленение пап
- 5) создание ордена иезуитов
- 6) крестовое движение

Ответ: _____

Максимум за задание – 3 балла.

7. Что с исторической точки зрения объединяет перечисленные исторические личности?

Франческо Петрарка, Джованни Боккаччо, Лоренцо Валла, Пико делла Мирандола

- 1) писатели и мыслители, получившие известность как представители «Северного гуманизма»
- 2) мореплаватели эпохи Великих географических открытий
- 3) наиболее известные венецианские дожи XIII – XV веков
- 4) итальянские гуманисты XIV – XV веков
- 5) великие герцоги Тосканские

Ответ: 4

Максимум за задание – 2 балла.

8. Что с исторической точки зрения объединяет перечисленные в ряду элементы?
1346, 1356, 1415, 1428–1429

- 1) годы наиболее важных сражений и событий Столетней войны.
- 2) годы смертей правителей Московского княжества.
- 3) годы эпидемий чумы в Европе.
- 4) годы карательных походов Золотой Орды в Европу.
- 5) годы сражений в ходе Гуситских войн

Ответ: 5

Максимум за задание – 2 балла.

9–10.

9. Что с исторической точки зрения объединяет три из четырех перечисленных в ряду элементов?

А) 1096–1099; Б) 1111; В) 1147–1149; Г) 1189–1192.

- 1) годы противостояний Руси и половцев
- 2) годы завоевательных походов Чингисхана и его наследников
- 3) годы крестовых походов на Восток
- 4) годы правления германских королей

Ответ: 3

Максимум за задание – 2 балла.

10. Выберите из приведённого списка элемент, лишний по основанию, выбранному в предыдущем вопросе.

Ответ: б

Максимум за задание – 2 балла.

11-12.

11. Что с исторической точки зрения объединяет три из четырёх перечисленных в ряду элементов?

А) Галич; Б) Углич; В) Белоозеро; Г) Нижний Новгород.

- 1) города, получившие известность в качестве центров ремесла Древней Руси
- 2) города, в которых правили призванные варяги
- 3) города, присоединённые к Московскому княжеству при Иване Калите
- 4) города, больше прочих пострадавшие от разорения в ходе походов Батыя

об Ответ: 2 3

Максимум за задание – 2 балла.

12. Выберите из приведённого списка город, лишний по выбранному в предыдущем вопросе основанию.

об Ответ: В Г

Максимум за задание – 2 балла.

13. Расположите в хронологической последовательности перечисленные события.

- А) строительство Успенского собора во Владимире
- Б) строительство собора Святой Софии в Константинополе
- В) строительство собора Святой Софии в Новгороде
- Г) строительство собора Санта-Мария-дель-Фьоре во Флоренции
- Д) строительство Успенского собора в Москве
- Е) строительство собора Святой Софии в Киеве

Ответ:

1	2	3	4	5	6
б +	г -	д -	а +	е -	ж +

За каждую верную пару – 1 балл.

Максимум за задание – 6 баллов.

14. Определите пропущенные в тексте названия, слова, имена, даты, обозначенные порядковыми номерами. При необходимости при порядковых номерах даются пояснения о характере требуемой вставки. Варианты вставок даны в единственном числе, именительном падеже. Обратите внимание: среди предлагаемых вставок есть «лишние» элементы.

В (1) году началось вторжение монгольских сил на территорию Руси. Войска хана (2) покорили (3 – княжество), а затем вторглись на территорию Суздальской земли. Несмотря на то, что здесь (2) встретил самое упорное сопротивление за всё время военных походов на Русь, многие города были разорены, а владимирский князь (4) погиб в битве на реке (5) весной (6) года. Татары повернули в сторону города (7), однако до самого города они не дошли и, разорив Торжок, вернулись в степи. В (8) году монгольские войска

IS-21. Внимательно рассмотрите карту и выполните задания.



15. Выберите из списка корректную датировку событий, обозначенных на карте.

- А) 1337-1453 гг.
- Б) 1455-1585 гг.
- В) 732-1492 гг.
- Г) 1433-1453 гг.
- Д) 1565-1572 гг.

Ответ: Г

Максимум за задание – 1 балл.

16. Выберите из списка корректное название событий, обозначенных на карте.

- А) Альбигойские войны

двинулись на территории Южной Руси. В кратчайшие сроки был взят (3) разорены Галицкая и Волынская земли. После этого татарские войска огнём и мечом прошли по ряду европейских стран и, как полагают исследователи, лишь известие о смерти хана (10 – имя хана Монгольской империи) заставило (2) прекратить поход и повернуть назад.

Варианты для пропусков 1, 6, 8	Варианты для пропусков 2, 4, 10	Варианты для пропуска 3	Варианты для пропуска 5	Варианты для пропусков 7, 9
1236	Батый	Рязанское	Сить	Новгород
1237	Тохта	Московское	Дон	Киев
1238	Ярослав Всеволодович	Новгородское	Колоча	Владимир
1239	Юрий Всеволодович	Нижегородское	Пьяна	Суздаль
1240	Угедей	Галицко-Волынское	Вожа	Козельск
	Чингисхан			Юрьев-Польский

Ответ:

Пропуск	Нужная вставка
1.	1237 1237 +
2.	Чингисхан Чингисхан -
3.	
4.	Юрий Всеволодович Рязанское +
5.	
6.	1238 +
7.	Новгород +
8.	1240 -
9.	
10.	Угедей +

За каждую верную вставку – 1 балл.
Максимум за задание – 10 баллов.

- Б) Реконкиста
- В) Столетняя война
- Г) Война Алой и Белой розы
- Д) движение таборитов

16) Ответ: В

Максимум за задание – 1 балл.

17. Выберите из списка буквенное обозначение территорий, на которые претендовали обе воюющие стороны в силу экономической значимости этих территорий.

- 1) А
- 2) Б
- 3) В
- 4) Г
- 5) Д
- 6) Е

— Ответ: 2, 3, 4

Максимум за задание – 1 балл.

18. Напишите цифру, обозначающую год, в снятии осады которого приняла участие историческая личность, известная как «Орлеанская дева».

16) Ответ: 1

Максимум за задание – 1 балл.

19. Напишите цифру, обозначающую поселок, близ которого развернулось первое значительное сражение изображённой войны, обернувшееся тяжёлыми потерями для одной из противоборствующих сторон.

— Ответ: 2 4

Максимум за задание – 1 балл.

20. Укажите имя и порядковый номер правителя, который был пленён в результате поражения, понесённого его армией в битве у города, обозначенного на карте цифрой «2».

Ответ следует записать в формате: имя правителя в именительном падеже с заглавной буквы и порядковый номер правителя **арабской** цифрой без знаков препинания.

Внимание! Ответы с орфографическими ошибками не засчитываются.

1) Ответ: _____

Максимум за задание – 1 балл.

21. Выберите верные утверждения.

- А) Цифрой «3» на карте обозначен город, в котором некоторое время находилась резиденция Папы Римского.
- Б) Буквой «Д» на карте обозначено Адриатическое море

- В) По состоянию на время, отражённое на карте, территории, обозначенные буквами «В» и «Г», входили в состав Англии.
- Г) Территория, обозначенная буквой «А», являлась одним из крупнейших в Европе центром производства тканей вообще и сукна в частности.
- Д) В ходе битв близ названных пунктов, обозначенных на карте цифрами «2» и «4», было выявлено значительное превосходство лучников одной воюющей стороны над арбалетчиками другой.

58
 Ответ: АГФ

За каждое верно выбранное/невыбранное утверждение – 1 балл.
 Максимум за задание – 5 баллов.

22-23.

22. Прочитайте отрывки, повествующие о двух правителях Древнего Рима. Для каждого отрывка выберите императора, о котором идёт речь.

<p>А. Тяжёлые и позорные поражения испытал он только дважды, и оба раза в Германии: это были поражения Лоллия и Вара. Первое принесло больше позора, чем урона, но второе было почти гибельным: оказались уничтожены три легиона с полководцем, легатами и всеми вспомогательными войсками. И говорят, он до того был сокрушён, что несколько месяцев подряд не стриг волос и бороды и не раз бился головою о косяк, восклицая: «Квинтилий Вар, верни легионы!»</p>	<p>Б. Словно ему претили безобразные старые дома и узкие кривые переулки, он поджёг Рим настолько открыто, что многие консуляры довели у себя во дворах его слуг с факелами и пактей, но не осмеливались их трогать; а житницы, стоявшие поблизости от Золотого дворца и, по мнению (...), отнимавшие у него слишком много места, были как будто сначала разрушены военными машинами, а потом подожжены, потому что стены их были из камня. Шесть дней и семь ночей свирепствовало бедствие, а народ искал убежища в каменных памятниках и склепах...</p>
---	---

Список правителей Рима: Октавиан Август, Тиберий, Калигула, Нерон, Гальба, Каракалла, Галиогабал, Диоклетиан.

Ответ:

Правитель Рима	Буквенное обозначение фрагмента
	А
	Б

За каждый правильный ответ – 2 балла.
 Максимум за задание – 4 балла.


23. Установите соответствие между отрывками, повествующими о правителях (из задания 22), и их изображениями.

И-0701

1



2



Ответ:

Правитель Рима	Буквенное обозначение фрагмента	Связанные изображения
	А	
	Б	

2 балла за каждую верную пару. Максимум за задание – 4 балла.

24-28. Прочитайте фрагмент исторического источника и выполните задания.

В год... Пришли Святополк, и Владимир, и Давыд Игоревич, и Василько Ростиславич, и Давыд Святославич, и брат его Олег и собрались на совет в Любече для установления мира, и говорили друг другу: «Зачем губим Русскую землю, сами между собой устраивая распри? А половцы землю нашу несут розно и рады, что между нами до сих пор идут войны. Да отныне объединимся чистосердечно и будем блюсти Русскую землю, и пусть каждый владеет отчиной своей: Святополк – Киевом, Изяславовой отчиной, Владимир – Всеволодовой, Давыд и Олег и Ярослав – Святославовой, и те, кому Всеволод роздал города: Давыду – Владимир, Ростиславичам же: Володарю – Перемышль, Васильку – Теробонль». И на том целовали крест: «Если отныне кто на кого пойдет, против того будем мы все и крест честной». Сказали все: «Да будет против того крест честной и вся земля Русская». И попрощавшись, пошли восвоея.

24. Укажите год, когда происходили события, описанные в тексте источника.

Ответ: 1098

Максимум за задание – 2 балла.

25. Укажите имя и отчество князя, правившего на момент описанных в источнике событий в Киеве.

В ответе запишите два слова через пробел без дополнительных знаков и символов.

Внимание! Ответы с орфографическими ошибками не засчитываются.

Ответ: _____

Максимум за задание – 2 балла.

26. Укажите прозвище упомянутого в источнике князя Владимира.

В ответ запишите одно слово без дополнительных знаков и символов.

Внимание! Ответы с орфографическими ошибками не засчитываются.

25 Ответ: Владимир Мономах

Максимум за задание – 2 балла.

27. Укажите прозвище упомянутого в источнике князя Олега.

Внимание! Ответы с орфографическими ошибками не засчитываются.

Ответ: _____

Максимум за задание – 2 балла.

28. Какие последствия имел принятый на съезде принцип «каждый владеет отчиной своей»? Выберите верные утверждения.

А) Принцип закрепил и лишь усилил политическую раздробленность, которая в это время уже начала складываться на Руси.

Б) Принцип остановил раздробление государства и укрепил его внутреннее единство.

В) Установление этого принципа сделало Киев самым политически значимым городом Руси.

Г) Принцип привёл к усилению городов, которые находились в составе княжеских вотчин вдали от Киева.

45 Ответ: АГ

За каждое верно выбранное/невыбранное утверждение – 1 балл.

Максимум за задание – 4 балла.

29. Выберите из предложенного списка утверждения, которые характеризуют предпосылки и последствия съезда князей, описанного в источнике.

А) Одним из последствий съезда стало объединение князей для противостояния половецкой угрозе.

Б) Важнейшей причиной съезда князей стоит считать усиление власти упомянутого в источнике князя Владимира.

В) В источнике слово «отчина» употребляется в значении «место, откуда происходят все князья династии».

Г) В источнике слово «отчина» употребляется в значении «родовое владение князя».

И-0901

- Д) Непосредственной причиной съезда стал натиск печенежских орд на границы Руси.
- Е) Среди последствий съезда – формирование целого ряда родов представителей династии Рюриковичей, соперничающих за власть.
- Ж) Описанный в источнике съезд князей является единственным и уникальным; более съездов князей не проводилось.

Ответ: _____

За каждое верно выбранное/невыбранное утверждение – 1 балл.
Максимум за задание – 7 баллов.

Максимум за работу – 81 балл.

ВСЕРОССИЙСКАЯ ОЛИМПИАДА ШКОЛЬНИКОВ
ИСТОРИЯ. 2022-2023 уч. г. ШКОЛЬНЫЙ ЭТАП
7 КЛАСС

1. В каком году произошли описанные в приведённом тексте события?

«Трубы трубятъ въ Новѣградѣ, стоятъ стязи въ Путивлѣ, Игорь ждётъ мила брата Всеволода. И рече ему Буй Туръ Всеволодъ: «Одинъ братъ, одинъ свѣтъ свѣтлый – ты, Игорю! Оба свѣтъ Святъславичя! Съдгай, брате, свои бръзны комоги, а мои ти готови, осѣдлани у Курська напереди».

- 1) 1185
- 2) 1174
- 3) 1237
- 4) 1380
- 5) 1480
- 6) 1500

25 Ответ: 1

Максимум за задание – 2 балла.

2. Укажите факт из биографии автора текста, приведённого ниже:

«Доколе же ты, Катилина, будешь злоупотреблять нашим терпением? Как долго ещё ты, в своём бешенстве, будешь издеваться над нами? До каких пределов ты будешь кичиться своей дерзостью, не знающей узды? Неужели лебя не встревожили ни ночные караулы на Палатине, ни стража, обходящая город, ни страх, охвативший народ, ни присутствие всех честных людей, ни выбор этого столь надёжно защищённого места для заседания сената, ни лица и взоры всех присутствующих? Неужели ты не понимаешь, что твои намерения открыты? Не видишь, что твой заговор уже известен всем присутствующим и раскрыт? Кто из нас, по твоему мнению, не знает, что делал ты последней, что предыдущей ночью, где ты был, кого сзывал, какое решение принял? О, времена! О, нравы! Сенат все это понимает, консул видит, а этот человек всё ещё жив!»

- 1) Участвовал в возведении Афинских «длинных стен».
- 2) Реформировал управление легионами Рима.
- 3) Является автором «Энеиды».
- 4) Командовал войсками Рима в битве на Каталаунских полях.
- 5) Построил крупнейший амфитеатр Рима, ныне более известный как Колизей.
- 6) Был убит в ходе проскрипций, проводимых вторым триумvirатом.

00 Ответ: 4, 6

Максимум за задание – 2 балла.

3. Выберите название архитектурного сооружения, точно существовавшего на территории Владимиро-Суздальского княжества по состоянию на конец XIII века.

- 1) Десятинная церковь
- 2) Собор Святой Софии
- 3) Церковь Параскевы Пятницы на Торгу
- 4) Успенский собор
- 5) Церковь Покрова что на Рву (Собор Василия Блаженного)
- 6) Троице-Сергиев монастырь

Ответ: 4

Максимум за задание – 2 балла.

4. Укажите верные утверждения.

- 1) Октавиан Август – император, переименовавший месяц септилий в свою честь.
- 2) Проколий Кесарийский – автор эпической поэмы «Энеида».
- 3) Траян – император, при котором территория Рима достигла максимальных размеров.
- 4) Тулл Гостилий – основатель города Рима.
- 5) Перикл – афинский полководец в битве при Марафоне.
- 6) Каракалла – император, даровавший всем жителям Римского государства гражданство.

Ответ: 5

Максимум за задание – 3 балла.

5. Кто из этих исторических деятелей был правителем какого-либо государства в XIII веке?

- 1) Александр Невский
- 2) Алексей Комнин I
- 3) Михаил VIII Палеолог
- 4) Дмитрий Боброк-Волынский
- 5) Иоанн Безземельный
- 6) Карл V Габсбург

Ответ: 4

Максимум за задание – 3 балла.

6. Выберите факты, связанные с религиозной жизнью Европы в XVI–XVII вв.

- 1) разрыв между Восточной и Западной христианскими церквями
- 2) вестфальский мир
- 3) появление «Индекса запрещённых книг»
- 4) авиньонское пленение пап
- 5) создание ордена иезуитов
- 6) крестовое движение

35 Ответ: 2 3 5

Максимум за задание – 3 балла.

7. Что с исторической точки зрения объединяет перечисленные исторические личности?

Франческо Петрарка, Джованни Боккаччо, Лоренцо Валла, Пико делла Мирандола

- 1) писатели и мыслители, получившие известность как представители «Северного гуманизма»
- 2) мореплаватели эпохи Великих географических открытий
- 3) наиболее известные венецианские дожи XIII – XV веков
- 4) итальянские гуманисты XIV – XV веков
- 5) великие герцоги Тосканские

25

Ответ: 4

Максимум за задание – 2 балла.

8. Что с исторической точки зрения объединяет перечисленные в ряду элементы? 1346, 1356, 1415, 1428–1429

- 1) годы наиболее важных сражений и событий Столетней войны.
- 2) годы смертей правителей Московского княжества.
- 3) годы эпидемий чумы в Европе.
- 4) годы карательных походов Золотой Орды в Европу.
- 5) годы сражений в ходе Гуситских войн

25

Ответ: 5. 1

Максимум за задание – 2 балла.

9–10.

9. Что с исторической точки зрения объединяет три из четырех перечисленных в ряду элементов?

А) 1096–1099; Б) 1111; В) 1147–1149; Г) 1189–1192.

- 1) годы противостояний Руси и половцев
- 2) годы завоевательных походов Чингисхана и его наследников
- 3) годы крестовых походов на Восток
- 4) годы правления германских королей

25

Ответ: 4 3

Максимум за задание – 2 балла.

10. Выберите из приведённого списка элемент, лишний по обоснованию, выбранному в предыдущем вопросе.

25

Ответ: Б

Максимум за задание – 2 балла.

11–12.

11. Что с исторической точки зрения объединяет три из четырёх перечисленных в ряду элементов?

А) Галич; Б) Углич; В) Белоозеро; Г) Нижний Новгород.

- 1) города, получившие известность в качестве центров ремесла Древней Руси
- 2) города, в которых правила призванные варяги
- 3) города, присоединённые к Московскому княжеству при Иване Калите
- 4) города, больше прочих пострадавшие от разорения в ходе походов Батыя

25 Ответ: 3

Максимум за задание – 2 балла.

12. Выберите из приведённого списка город, отличный по выбранному в предыдущем вопросе основанию.

– Ответ: Б, Г

Максимум за задание – 2 балла.

13. Расположите в хронологической последовательности перечисленные события.

- А) строительство Успенского собора во Владимире
- Б) строительство собора Святой Софии в Константинополе
- В) строительство собора Святой Софии в Новгороде
- Г) строительство собора Санта-Мария-дель-Фьоре во Флоренции
- Д) строительство Успенского собора в Москве
- Е) строительство собора Святой Софии в Киеве

Ответ:

25

1	2	3	4	5	6
в Б	б Е	г	а Г	д	ж Г

За каждую верную пару – 1 балл.

Максимум за задание – 6 баллов.

14. Определите пропущенные в тексте названия, слова, имена, даты, обозначенные порядковыми номерами. При необходимости при порядковых номерах даются пояснения о характере требуемой вставки. Варианты вставок даны в единственном числе, именительном падеже. Обратите внимание: среди предлагаемых вставок есть «лишние» элементы.

В (1) году началось вторжение монгольских сил на территорию Руси. Войска хана (2) покорили (3 – княжество), а затем вторглись на территорию Суздальской земли. Несмотря на то, что здесь (2) встретил самое упорное сопротивление за всё время военных походов на Русь, многие города были разорены, а владимирский князь (4) погиб в битве на реке (5) весной (6) года. Татары повернули в сторону города (7), однако до самого города они не дошли и, разорив Торжок, вернулись в степи. В (8) году монгольские войска

И-0702

двинулись на территории Южной Руси. В кратчайшие сроки был взят (9), разорены Галицкая и Волынская земли. После этого татарские войска огнём и мечом прошли по ряду европейских стран и, как полагают исследователи, лишь известие о смерти хана (10 – имя хана Монгольской империи) заставило (2) прекратить поход и повернуть назад.

Варианты для пропусков 1, 6, 8	Варианты для пропусков 2, 4, 10	Варианты для пропуска 3	Варианты для пропуска 5	Варианты для пропусков 7, 9
1236	Батый	Рязанское	Сить	Новгород
1237	Тохта	Московское	Дон	Киев
1238	Ярослав Всеволодович	Новгородское	Колоча	Владимир
1239	Юрий Всеволодович	Нижегородское	Пьяна	Суздаль
1240	Угедей	Галицко-Волынское	Вожа	Кочельск
	Чингисхан			Юрьев-Польский

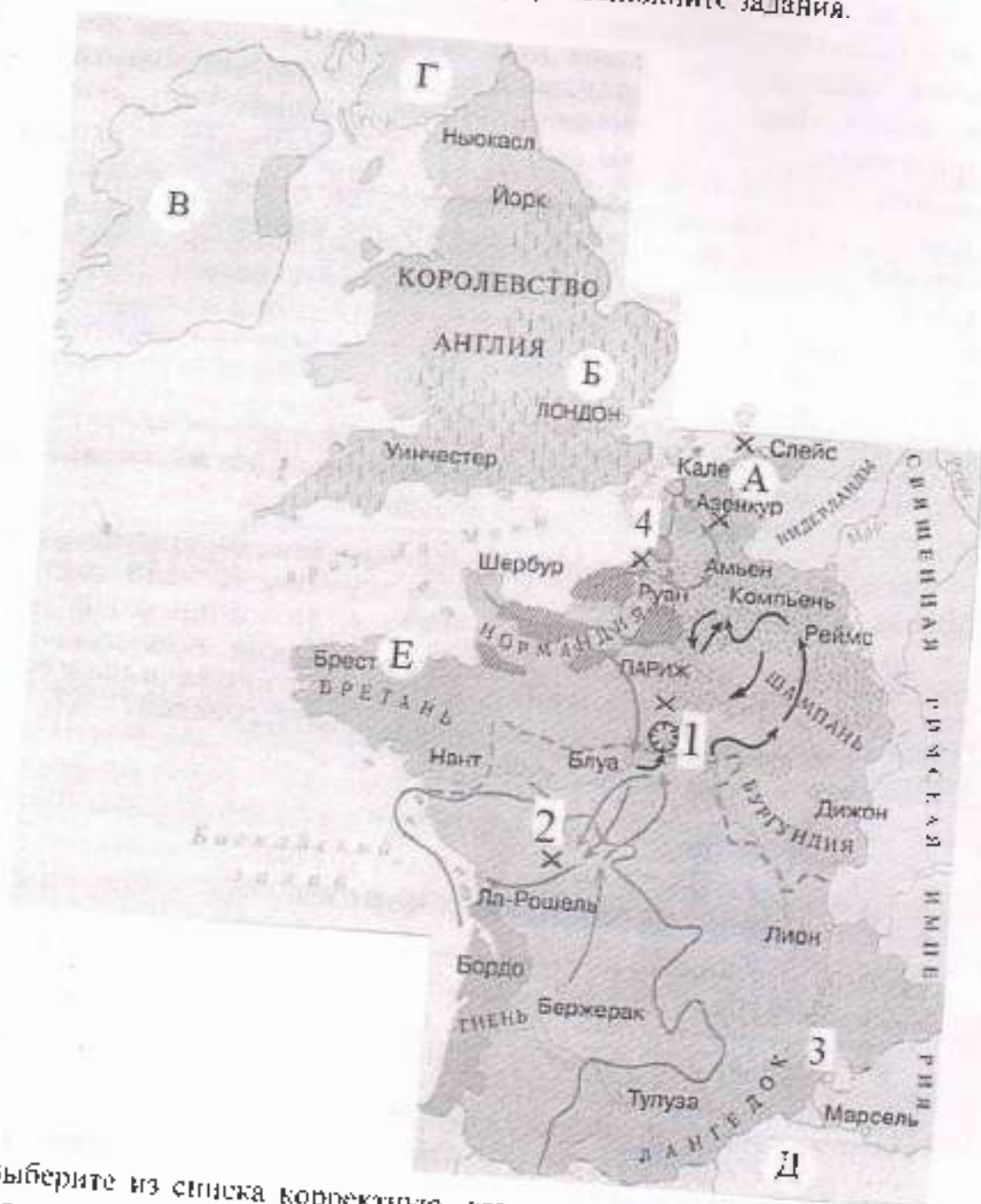
Ответ:

Пропуск	Нужная вставка
1.	1237 -
2.	Батый. +
3.	Угедей -
4.	Юрий Всеволодович. +
5.	Дон -
6.	1238. +
7.	Киев -
8.	1240 -
9.	Кочельск -
10.	Чингисхан -

За каждую верную вставку – 1 балл.

Максимум за задание – 10 баллов.

15-21. Внимательно рассмотрите карту и выполните задания.



15. Выберите из списка корректную датировку событий, обозначенных на карте.

А) 1337-1453 гг.

Б) 1455-1585 гг.

В) 732-1492 гг.

Г) 1433-1453 гг.

Д) 1565-1572 гг.

Ответ: А

Максимум за задание – 1 балл.

16. Выберите из списка корректное название событий, обозначенных на карте.

А) Альбигойские войны

- Б) Реконкиста
 В) Столетняя война
 Г) Война Алой и Белой розы
 Д) движение таборитов

16 Ответ: В

Максимум за задание – 1 балл.

17. Выберите из списка буквенное обозначение территорий, на которые претендовали обе воюющие стороны в силу экономического значения этих территорий.

- 1) А
 2) Б
 3) В
 4) Г
 5) Д
 6) Е

16 Ответ: Б, 2, 1

Максимум за задание – 1 балл.

18. Напишите цифру, обозначающую город, в снятии осады которого приняла участие историческая личность, известная как «Орлеанская дева».

16 Ответ: 1

Максимум за задание – 1 балл.

19. Напишите цифру, обозначающую поселок, близ которого развернулось первое значительное сражение изображённой войны, обернувшееся тяжёлыми потерями для одной из противоборствующих сторон.

1 Ответ: 4

Максимум за задание – 1 балл.

20. Укажите имя и порядковый номер правителя, который был пленён в результате поражения, понесённого его армией в битве у города, обозначенного на карте цифрой «2». Швейцарский царь

Ответ следует записать в формате: имя правителя в именительном падеже с заглавной буквы и порядковый номер правителя арабской цифрой без знаков препинания.

55 Внимание! Ответы с орфографическими ошибками не засчитываются.

Ответ: АГФ

Максимум за задание – 1 балл.

21. Выберите верные утверждения.

- А) Цифрой «3» на карте обозначен город, в котором некоторое время находилась резиденция Папы Римского.
 Б) Буквой «Д» на карте обозначено Адриатическое море

- В) По состоянию на время, отражённое на карте, территории, обозначенные буквами «В» и «Г», входили в состав Англии.
- Г) Территория, обозначенная буквой «А», являлась одним из крупнейших в Европе центром производства тканей вообще и сукна в частности.
- Д) В ходе битв близ населённых пунктов, обозначенных на карте цифрами «2» и «4», было выявлено значительное превосходство лучников одной воюющей стороны над арбалетчиками другой.

УБ

Ответ: Б А Г

За каждое верно выбранное/невыбранное утверждение – 1 балл.
 Максимум за задание – 5 баллов.

22-23.

22. Прочитайте отрывки повествования о двух правителях Древнего Рима. Для каждого отрывка выберите императора, о котором идёт речь.

<p>А. Тяжёлые и позорные поражения испытал он только дважды, и оба раза в Германии: это были поражения Леллия и Вара. Первое принесло больше позора, чем урона, но второе было почти гибельным: оказались уничтожены три легиона с полководцем, легатами и всеми вспомогательными войсками. И говорят, он до того был сокрушён, что несколько месяцев подряд не стриг волос и бороды и не раз бился головою о косяк, восклицая: «Квинтилий Вар, перши легионы!»</p>	<p>Б. Словно ему претили безобразные старые дома и узкие кривые переулки, он поджёг Рим настолько открыто, что многие консуляры ловили у себя во дворах его слуг с факелами и паклей, но не осмеливались их трогать; а житницы, стоявшие поблизости от Золотого дворца и, по мнению (...), отпимавшие у него слишком много места, были как будто сначала разрушены военными машинами, а потом подожжены, потому что стены их были из камня. Шесть дней и семь ночей свирепствовало бедствие, а народ искал убежища в каменных памятниках и склепах...</p>
--	--

Список правителей Рима: Октавиан Август, Тиберий, Калигула, Нерон, Гальба, Каракалла, Гелиогабал, Диоклетиан.

Ответ:


сб

Правитель Рима	Буквенное обозначение фрагмента
<u>Тибериус</u>	А
<u>Диоклетиан</u>	Б

За каждый правильный ответ – 2 балла.
 Максимум за задание – 4 балла.

23. Установите соответствия между отрывками повествования о правителях (из задания 22) и их изображениями.

И-0702



Ответ:

Правитель Рима	Буквенное обозначение фрагмента	Связанные изображения
	А	
	Б	

2 балла за каждую верную пару. Максимум за задание – 4 балла.

24-28. Прочитайте фрагмент исторического источника и выполните задания.

В год... Пришли Святополк, и Владимир, и Давыд Игоревич, и Василько Ростиславич, и Давыд Святославич, и брат его Олег и собрались на совет в Любече для установления мира, и говорили друг другу: «Зачем губим Русскую землю, сами между собой устраивая распри? А половцы землю нашу несут розно и рады, что между нами до сих пор идут войны. Да отныне объединимся чистосердечно и будем блюсти Русскую землю, и пусть каждый владеет отчиной своей: Святополк - Киевом, Изяславовой отчиной, Владимир - Всеволодовой, Давыд и Олег и Ярослав - Святославовой, и те, кому Всеволод роздал города: Давыду - Владимир, Ростиславичам же: Володарю - Перемышль, Васильку - Теробовль». И на том целовали крест: «Если отныне кто на кого пойдет, против того будем мы все и крест честной». Сказали все: «Да будет против того крест честной и вся земля Русская». И попрощавшись, пошли восвояси.

24. Укажите год, когда происходили события, описанные в тексте источника.

Ответ: 1097

Максимум за задание – 2 балла.

25. Укажите имя и отчество князя, правившего на момент описанных в источнике событий в Киеве.

И-0702

В ответе запишите два слова через пробел без дополнительных знаков и символов.

Внимание! Ответы с орфографическими ошибками не засчитываются.

Ответ: 0

Максимум за задание – 2 балла.

26. Укажите прозвище упомянутого в источнике князя Владимира.

В ответ запишите одно слово без дополнительных знаков и символов.

Внимание! Ответы с орфографическими ошибками не засчитываются.

25 Ответ: Молыча

Максимум за задание – 2 балла.

27. Укажите прозвище упомянутого в источнике князя Олега.

Внимание! Ответы с орфографическими ошибками не засчитываются.

0 Ответ: _____

Максимум за задание – 2 балла.

28. Какие последствия имел принятый на съезде принцип «каждый владеет отчиной своей»? Выберите верные утверждения.

А) Принцип закрепил и лишь усилил политическую раздробленность, которая в это время уже начала складываться на Руси.

Б) Принцип остановил раздробление государства и укрепил его внутреннее единство.

В) Установление этого принципа сделало Киев самым политически значимым городом Руси.

Г) Принцип привёл к усилению городов, которые находились в составе княжеских вотчин вдали от Киева.

35 Ответ: АБГ

За каждое верно выбранное/невыбранное утверждение – 1 балл.

Максимум за задание – 4 балла.

29. Выберите из предложенного списка утверждения, которые характеризуют предпосылки и последствия съезда князей, описанного в источнике.

А) Одним из последствий съезда стало объединение князей для противостояния половецкой угрозе.

Б) Важнейшей причиной съезда князей стоит считать усиление власти упомянутого в источнике князя Владимира.

В) В источнике слово «отчина» употребляется в значении «место, откуда происходят все князья династии».

Г) В источнике слово «отчина» употребляется в значении «родовое владение князя».

И-0702

- Д) Непосредственной причиной съезда стал натиск печенежских орд на границы Руси.
- Е) Среди последствий съезда - формирование целого ряда родов представителей династии Рюриковичей, соперничающих за власть.
- Ж) Описанный в источнике съезд князей является единственным и уникальным; более съездов князей не проводилось.

58

Ответ: АБЕ

За каждое верно выбранное/невыбранное утверждение - 1 балл.
Максимум за задание - 7 баллов.

Максимум за работу - 81 балл.

**ВСЕРОССИЙСКАЯ ОЛИМПИАДА ШКОЛЬНИКОВ
ИСТОРИЯ. 2022–2023 уч. г. ШКОЛЬНЫЙ ЭТАП
7 КЛАСС**

1. В каком году произошли описанные в приведённом тексте события?

«Трубы трубятъ въ Новѣградѣ, стоять стязи въ Путивлѣ, Игорь ждётъ мила брата Всеволода. И рече ему Буй Туръ Всеволодь: «Одинъ братъ, одинъ свѣтъ свѣтлый - ты, Игорю! Оба сеѣвъ Святъславичя! Съдай, брате, свои брѣзны конони, а мои ти готови, осѣдлани у Курьска напереди».

- 1) 1185
- 2) 1174
- 3) 1237
- 4) 1380
- 5) 1480
- 25) 6) 1500

Ответ: 1

Максимум за задание – 2 балла.

2. Укажите факт из биографии автора текста, приведённого ниже:

«Доколе же ты, Катилина, будешь злоупотреблять нашим терпением? Как долго ещё ты, в своём бешенстве, будешь издеваться над нами? До каких пределов ты будешь кичиться своей дерзостью, не знающей узды? Неужели тебя не встревожили ни ночные караулы на Палатине, ни стража, обходящая город, ни страх, охвативший народ, ни присутствие всех честных людей, ни выбор этого столь надёжно защищённого места для заседания сената, ни лица и взоры всех присутствующих? Неужели ты не понимаешь, что твои намерения открыты? Не видишь, что твой заговор уже известен всем присутствующим и раскрыт? Кто из нас, по твоему мнению, не знает, что делал ты последней, что предыдущей ночью, где ты был, кого слышал, какое решение принял? О, времена! О, нравы! Сенат все это понимает, консул видит, а этот человек всё ещё жив!»

- 1) Участвовал в возведении Афинских «длинных стен».
- 2) Реформировал управление легионами Рима.
- 3) Является автором «Энеиды».
- 4) Командовал войсками Рима в битве на Каталлаунских полях.
- 5) Построил крупнейший амфитеатр Рима, ныне более известный как Колизей.
- 6) Был убит в ходе проскрипций, проводимых вторым триумvirатом.

Ответ: 4

Максимум за задание – 2 балла.

3. Выберите название архитектурного сооружения, точно существовавшего на территории Владимиро-Суздальского княжества по состоянию на конец XIII века.

- 1) Десятинная церковь
- 2) Собор Святой Софии
- 3) Церковь Параскевы Пятницы на Торгу
- 4) Успенский собор
- 5) Церковь Покрова что на Рву (Собор Василия Блаженного)
- 6) Троице-Сергиев монастырь

35 Ответ: 4

Максимум за задание – 2 балла.

4. Укажите верные утверждения.

- 1) Октавиан Август – император, переименовавший месяц секстилий в свою честь.
- 2) Прокопий Кесарийский – автор элической поэмы «Энеида».
- 3) Траян – император, при котором территория Рима достигла максимальных размеров.
- 4) Тулл Гостилий – основатель города Рима.
- 5) Перикл – афинский полководец в битве при Марафоне.
- 6) Каракалла – император, даровавший всем жителям Римского государства гражданство.

36 Ответ: 3, 4, 6

Максимум за задание – 3 балла.

5. Кто из этих исторических деятелей был правителем какого-либо государства в XIII веке?

- 1) Александр Невский
- 2) Алексей Комнин I
- 3) Михаил VIII Палеолог
- 4) Дмитрий Боброк-Волынский
- 5) Иоанн Безземельный
- 6) Карл V Габсбург

37 Ответ: 1, 3, 5

Максимум за задание – 3 балла.

6. Выберите факты, связанные с религиозной жизнью Европы в XVI–XVII вв.

- 1) разрыв между Восточной и Западной христианскими церквями
- 2) вестфальский мир
- 3) появление «Индекса запрещённых книг»
- 4) авиньонское пленение пап
- 5) создание ордена иезуитов
- 6) крестоносное движение

Ответ: _____

Максимум за задание - 3 балла.

7. Что с исторической точки зрения объединяет перечисленные исторические личности?

Франческо Петрарка, Джованни Боккаччо, Лоренцо Валла, Пико della Мирандола

- 1) писатели и мыслители, получившие известность как представители «Северного гуманизма»
- 2) мореплаватели эпохи Великих географических открытий
- 3) наиболее известные венецианские дожи XIII - XV веков
- 4) итальянские гуманисты XIV - XV веков
- 5) великие герцоги Тосканские

25

Ответ: 4

Максимум за задание - 2 балла.

8. Что с исторической точки зрения объединяет перечисленные в ряду элементы? 1346, 1356, 1415, 1428-1429

- 1) годы наиболее важных сражений и событий Столетней войны.
- 2) годы смертей правителей Московского княжества.
- 3) годы эпидемий чумы в Европе.
- 4) годы карательных походов Золотой Орды в Европу.
- 5) годы сражений в ходе Гуситских войн

Ответ: 5

Максимум за задание - 2 балла.

9-10.

9. Что с исторической точки зрения объединяет три из четырех перечисленных в ряду элементов?

А) 1096-1099; Б) 1111; В) 1147-1149; Г) 1189-1192.

- 1) годы противостояний Руси и половцев
- 2) годы завоевательных походов Чингисхана и его наследников
- 3) годы крестовых походов на Восток
- 4) годы правления германских королей

35

Ответ: 3

Максимум за задание - 2 балла.

10. Выберите из приведённого списка элемент, лишний по основанию, выбранному в предыдущем вопросе.

35

Ответ: Б

Максимум за задание - 2 балла.

11-12.

V-0703

11. Что с исторической точки зрения объединяет три из четырёх перечисленных в ряду элементов?

А) Галич; Б) Углич; В) Белоозеро; Г) Нижний Новгород.

- 1) города, получившие известность в качестве центров ремесла Древней Руси
- 2) города, в которых правили призванные варяги
- 3) города, присоединённые к Московскому княжеству при Иване Калите
- 4) города, больше прочих пострадавшие от разорения в ходе походов Батыя

об Ответ: 2

Максимум за задание – 2 балла.

12. Выберите из приведённого списка город, отличный по выбранному в предыдущем вопросе основанию.

об Ответ: В

Максимум за задание – 2 балла.

13. Расположите в хронологической последовательности перечисленные события.

- А) строительство Успенского собора во Владимире
- Б) строительство собора Святой Софии в Константинополе
- В) строительство собора Святой Софии в Новгороде
- Г) строительство собора Санта-Мария-дель-Фьоре во Флоренции
- Д) строительство Успенского собора в Москве
- Е) строительство собора Святой Софии в Киеве

Ответ:

1	2	3	4	5	6

За каждую верную пару – 1 балл.

Максимум за задание – 6 баллов.

14. Определите пропущенные в тексте названия, слова, имена, даты, обозначенные порядковыми номерами. При необходимости при порядковых номерах даются пояснения о характере требуемой вставки. Варианты вставок даны в единственном числе, именительном падеже. Обратите внимание: среди предлагаемых вставок есть «лишние» элементы.

В (1) году началось вторжение монгольских сил на территорию Руси. Войска хана (2) покорили (3 – княжество), а затем вторглись на территорию Суздальской земли. Несмотря на то, что здесь (2) встретил самое упорное сопротивление за всё время военных походов на Русь, многие города были разорены, а владимирский князь (4) погиб в битве на реке (5) весной (6) года. Татары повернули в сторону города (7), однако до самого города они не дошли и, разорив Торжок, вернулись в степи. В (8) году монгольские войска

двинулись на территории Южной Руси. В кратчайшие сроки был взят (9), разорены Галицкая и Волынская земли. После этого татарские войска огнём и мечом прошли по ряду европейских стран и, как полагают исследователи, лишь известие о смерти хана (10 – имя хана Монгольской империи) заставило (2) прекратить поход и повернуть назад.

Варианты для пропусков 1, 6, 8	Варианты для пропусков 2, 4, 10	Варианты для пропуска 3	Варианты для пропуска 5	Варианты для пропусков 7, 9
1236	Батый	Рязанское	Сить	Новгород
1237	Тохта	Московское	Дон	Киев
1238	Ярослав Всеволодович	Новгородское	Колоча	Владимир
1239	Юрий Всеволодович	Нижегородское	Пьяна	Суздаль
1240	Угедей	Галицко-Волынское	Вожа	Козельск
	Чингисхан			Юрьев-Польский

Ответ:

Пропуск	Нужная вставка
1.	1236 +
2.	Чингисхан -
3.	Рязанское +
4.	Юрий Всеволодович +
5.	Колоча -
6.	1239 +
7.	Новгород +
8.	1240 -
9.	Козельск -
10.	Угедей +

За каждую верную вставку – 1 балл.

Максимум за задание – 10 баллов.

15-21. Внимательно рассмотрите карту и выполните задания.



15. Выберите из списка корректную датировку событий, обозначенных на карте.

- А) 1337–1453 гг.
- Б) 1455–1585 гг.
- В) 732–1492 гг.
- Г) 1433–1453 гг.
- Д) 1565–1572 гг.

15
 Ответ: А

Максимум за задание – 1 балл.

16. Выберите из списка корректное название событий, обозначенных на карте.

- А) Альбигойские войны

- Б) Реконкиста
- В) Столетняя война
- Г) Война Алой и Белой розы
- Д) движение таборитов

16

Ответ: В

Максимум за задание – 1 балл.

17. Выберите из списка буквенное обозначение территорий, на которые претендовали обе воюющие стороны в силу экономической значимости этих территорий.

- 1) А
- 2) Б
- 3) В
- 4) Г
- 5) Д
- 6) Е

16

Ответ: 2, 3

Максимум за задание – 1 балл.

18. Напишите цифру, обозначающую город, в снятии осады которого приняла участие историческая личность, известная как «Орлеанская дева».

16

Ответ: 1

Максимум за задание – 1 балл.

19. Напишите цифру, обозначающую поселок, близ которого развернулось первое значительное сражение изображенной войны, обернувшееся тяжёлыми потерями для одной из противоборствующих сторон.

16

Ответ: 4

Максимум за задание – 1 балл.

20. Укажите имя и порядковый номер правителя, который был пленён в результате поражения, понесённого его армией в битве у города, обозначенного на карте цифрой «2».

Ответ следует записать в формате: имя правителя в **именительном** падеже с **заглавной** буквы и порядковый номер правителя **арабской** цифрой без знаков препинания.

Внимание! Ответы с орфографическими ошибками не засчитываются.

Ответ: _____

Максимум за задание – 1 балл.

21. Выберите верные утверждения.

- А) Цифрой «3» на карте обозначен город, в котором некоторое время находилась резиденция Папы Римского.
- Б) Буквой «Д» на карте обозначено Адриатическое море

- В) По состоянию на время отражённое на карте, территории, обозначенные буквами «В» и «Г», входили в состав Англии.
- Г) Территория, обозначенная буквой «А», являлась одним из крупнейших в Европе центром производства тканей вообще и сукна в частности.
- Д) В ходе битв близ населённых пунктов, обозначенных на карте цифрами «2» и «4», было выявлено значительное превосходство лучников одной воюющей стороны над арбалетчиками другой.

46

Ответ: АБ, А

За каждое верно выбранное/невыбранное утверждение – 1 балл.
 Максимум за задание – 5 баллов.

22-23.

22. Прочитайте отрывки, повествующие о двух правителях Древнего Рима. Для каждого отрывка выберите императора, о котором идёт речь.

<p>А. Тяжёлые и позорные поражения испытал он только дважды, и оба раза в Германии: это были поражения Моллия и Вара. Первое принесло больше позора, чем урона, но второе было почти гибельным: оказались уничтожены три легиона с полководцем, легатами и всеми вспомогательными войсками. И говорят, он до того был сокрушён, что несколько месяцев подряд не стриг волос и бороды и не рвал билая головою о косяк, восклицая: «Квинтилий Вар, верни легионы!»</p>	<p>Б. Слово ему претили безобразные старые дома и узкие кривые переулки, он поджёг Рим настолько открыто, что многие консуляры ловили у себя во дворах его слуг с факелами и паксой, но не осмеливались их трогать; а женщины, стоявшие поблизости от Золотого дворца и, по мнению (...), отнимавшие у него слишком много места, были как будто сначала разрушены военными машинами, а потом подожжены, потому что стены их были из камня. Шесть дней и семь ночей свирепствовало бедствие, а народ искал убежища в каменных памятниках и склепах...</p>
---	---

Список правителей Рима: Октавиан Август, Тиберий, Калигула, Нерон, Гальба, Каракилла, Геллогабал, Диоклетиан.

Ответ:

46

Правитель Рима	Буквенное обозначение фрагмента
Нерон	А
Октавиан Август	Б

За каждый правильный ответ – 2 балла.
 Максимум за задание – 4 балла.

23. Установите соответствие между отрывками, повествующими о правителях (из задания 22), и их изображениями.



Ответ:

Правитель Рима	Буквенное обозначение фрагмента	Связанные изображения
<i>Нерон</i>	A	1
<i>Августин Мусин</i>	B	2

2 балла за каждую верную пару. Максимум за задание – 4 балла.

24-28. Прочитайте фрагмент исторического источника и выполните задания.

В год... Пришли Святополк, и Владимир, и Давыд Игоревич, и Василько Ростиславич, и Давыд Святославич, и брат его Олег и собрались на совет в Любече для установления мира, и говорили друг другу: «Зачем губим Русскую землю, сами между собой устраивая распри? А половцы землю нашу несут розно и рады, что между нами до сих пор идут войны. Да отныне объединимся истосердечно и будем блюсти Русскую землю, и пусть каждый владеет отчиной своей: Святополк – Киевом, Изяславовой отчиной, Владимир – Всеволодовой, Давыд и Олег и Ярослав – Святославовой, и те, кому Всеволод роздал города: Давыду – Владимир, Ростиславичам же: Володарю – Перемышль, Васильку – Тербовль». И на том целовали крест: «Если отныне кто на кого пойдет, против того будем мы все и крест честной». Сказали все: «Да будет против того крест честной и вся земля Русская». И попрощавшись, пошли восвояси.

24. Укажите год, когда происходили события, описанные в тексте источника.

25 Ответ: 1097

Максимум за задание – 2 балла.

25. Укажите имя и отчество князя, правившего на момент описанных в источнике событий в Киеве.

В ответе запишите два слова через пробел без дополнительных знаков и символов.

Внимание! Ответы с орфографическими ошибками не засчитываются.

— Ответ: Владимир Мономах
Максимум за задание – 2 балла.

26. Укажите прозвище упомянутого в источнике князя Владимира.

В ответ запишите одно слово без дополнительных знаков и символов.

Внимание! Ответы с орфографическими ошибками не засчитываются.

26 Ответ: Мономах
Максимум за задание + 2 балла.

27. Укажите прозвище упомянутого в источнике князя Олега.

Внимание! Ответы с орфографическими ошибками не засчитываются.

25 Ответ: Гореславич
Максимум за задание – 2 балла.

28. Какие последствия имел принятый на съезде принцип «каждый владеет отчиной своей»? Выберите верные утверждения.

- А) Принцип закрепил и лишь усилил политическую раздробленность, которая в это время уже начала складываться на Руси.
- Б) Принцип остановил раздробление государства и укрепил его внутреннее единство.
- В) Установление этого принципа сделало Киев самым политически значимым городом Руси.
- Г) Принцип привёл к усилению городов, которые находились в составе княжеских вотчин вдали от Киева.

35 Ответ: Б, Г

За каждое верно выбранное/невыбранное утверждение – 1 балл.
Максимум за задание – 4 балла.

29. Выберите из предложенного списка утверждения, которые характеризуют предпосылки и последствия съезда князей, описанного в источнике.

- А) Одним из последствий съезда стало объединение князей для противостояния половецкой угрозе.
- Б) Важнейшей причиной съезда князей стоит считать усиление власти упомянутого в источнике князя Владимира.
- В) В источнике слово «отчина» употребляется в значении «место, откуда происходят все князья династии».
- Г) В источнике слово «отчина» употребляется в значении «родовое владение князя».

V-0703

- Д) Непосредственной причиной съезда стал натиск печенежских орд на границы Руси.
- Е) Среди последствий съезда – формирование целого ряда родов представителей династии Рюриковичей, соперничающих за власть.
- Ж) Описанный в источнике съезд князей является единственным и уникальным; более съездов князей не проводилось.

76
Ответ: A, Г, E

За каждое верно выбранное/невыбранное утверждение – 1 балл.
Максимум за задание – 7 баллов.

Максимум за работу – 81 балл.

550

Ц-0704

ВСЕРОССИЙСКАЯ ОЛИМПИАДА ШКОЛЬНИКОВ
ИСТОРИЯ. 2022-2023 уч. г. ШКОЛЬНЫЙ ЭТАП
7 КЛАСС

1. В каком году произошли описанные в приведённом тексте события?

«Трубы трубят в Новъградѣ, стоятъ стязи въ Путивлѣ, Игорь ждётъ мила брата Всеволода. И рече ему Буй Туръ Всеволоды: «Одинъ братъ, одинъ свѣтъ свѣтлый – ты, Игорю! Оба есиъ Святъславличи! Съдай, брате, свои бръзны комони, а мои ти готови, осѣдани у Курьска напередѣ».

- 1) 1185
- 2) 1174
- 3) 1237
- 4) 1380
- 5) 1480
- 6) 1500

Ответ: 1185

Максимум за задание – 2 балла.

2. Укажите факт из биографии автора текста, приведённого ниже:

«Доколе же ты, Катилина, будешь злоупотреблять нашим терпением? Как долго ещё ты, в своём бешенстве, будешь издеваться над нами? До каких пределов ты будешь кичиться своей дерзостью, не знающей узды? Неужели тебя не встревожили ни ночные караулы на Палатине, ни стража, обходящая город, ни страх, охвативший народ, ни присутствие всех честных людей, ни выбор этого столь надёжно защищённого места для заседания сената, ни лица и взоры всех присутствующих? Неужели ты не понимаешь, что твои намерения открыты? Не видишь, что твой заговор уже известен всем присутствующим и раскрыт? Кто из нас, по твоему мнению, не знает, что делал ты последней, что предыдущей ночью, где ты был, кого сзывал, какое решение принял? О, времена! О, нравы! Сенат все это понимает, консул видит, а этот человек всё ещё жив!»

- 1) Участвовал в возведении Афинских «длинных стен».
- 2) Реформировал управление легионами Рима.
- 3) Является автором «Энеиды».
- 4) Командовал войсками Рима в битве на Каталаунских полях.
- 5) Построил крупнейший амфитеатр Рима, ныне более известный как Колизей.
- 6) Был убит в ходе проскрипций, проводимых вторым триумвиратом.

Ответ: 6

Максимум за задание – 2 балла.

3. Выберите название архитектурного сооружения, точно существовавшего на территории Владимиро-Суздальского княжества по состоянию на конец XIII века.

- 1) Десятинная церковь
- 2) Собор Святой Софии
- 3) Церковь Параскевы Пятницы на Торгу
- 4) Успенский собор
- 5) Церковь Покрова что на Рву (Собор Василия Блаженного)
- 6) Троице-Сергиев монастырь

25 Ответ: 4

Максимум за задание – 2 балла.

4. Укажите верные утверждения.

- 1) Октавиан Август – император, переименовавший месяц септятий в свою честь.
- 2) Прокопий Кесарийский – автор эпической поэмы «Энеида».
- 3) Траян – император, при котором территория Рима достигла максимальных размеров.
- 4) Тулл Гостилий – основатель города Рима.
- 5) Перикл – афинский полководец в битве при Марафоне.
- 6) Каракалла – император, даровавший всем жителям Римского государства гражданство.

36 Ответ: 1, 3, 6

Максимум за задание – 3 балла.

5. Кто из этих исторических деятелей был правителем какого-либо государства в XIII веке?

- 1) Александр Невский
- 2) Алексей Комнин I
- 3) Михаил VIII Палеолог
- 4) Дмитрий Боброк-Волынский
- 5) Иоанн Безземельный
- 6) Карл V Габсбург

36 Ответ: 1, 4, 5

Максимум за задание – 3 балла.

6. Выберите факты, связанные с религиозной жизнью Европы в XVI–XVII вв.

- 1) разрыв между Восточной и Западной христианскими церквями
- 2) вестфальский мир
- 3) появление «Индекса запрещённых книг»
- 4) авиньонское пленение пап
- 5) создание ордена иезуитов
- 6) крестовое движение

25 12-01-04
Ответ: _____

Максимум за задание – 3 балла.

7. Что с исторической точки зрения объединяет перечисленные исторические личности?

Франческо Петрарка, Джованни Боккаччо, Лоренцо Валла, Пико della Мирандола

- 1) писатели и мыслители, получившие известность как представители «Северного гуманизма»
- 2) мореплаватели эпохи Великих географических открытий
- 3) наиболее известные венецианские дожи XIII - XV веков
- 4) итальянские гуманисты XIV – XV веков
- 5) великие герцоги Тосканские

25 Ответ: 4 _____

Максимум за задание – 2 балла.

8. Что с исторической точки зрения объединяет перечисленные в ряду элементы?
1346, 1356, 1415, 1428–1429

- 1) годы наиболее важных сражений и событий Столетней войны.
- 2) годы смертей правителей Московского княжества.
- 3) годы эпидемий чумы в Европе.
- 4) годы карательных походов Золотой Орды в Европу.
- 5) годы сражений в ходе Гуситских войн

Ответ: _____

Максимум за задание – 2 балла.

9–10.

9. Что с исторической точки зрения объединяет три из четырех перечисленных в ряду элементов?

А) 1096–1099; Б) 1111; В) 1147–1149; Г) 1189–1192.

- 1) годы противостояний Руси и половцев
- 2) годы завоевательных походов Чингисхана и его наследников
- 3) годы крестовых походов на Восток
- 4) годы правления германских королей

25 Ответ: 3 _____

Максимум за задание – 2 балла.

10. Выберите из приведённого списка элемент, лишний по оснований, выбранному в предыдущем вопросе.

25 Ответ: Б _____

Максимум за задание – 2 балла.

11–12.

3. Выберите название архитектурного сооружения, точно существовавшего на территории Владимиро-Суздальского княжества по состоянию на конец XIII века.

- 1) Десятинная церковь
- 2) Собор Святой Софии
- 3) Церковь Парасквы Пятницы на Торгу
- 4) Успенский собор
- 5) Церковь Покрова что на Рву (Собор Василия Блаженного)
- 6) Троице-Сергиев монастырь

25 Ответ: 4

Максимум за задание – 2 балла.

4. Укажите верные утверждения.

- 1) Октавиан Август – император, переименовавший месяц септилий в свою честь.
- 2) Прокопий Кесарийский – автор энциклопедической поэмы «Энцида».
- 3) Траян – император, при котором территория Рима достигла максимальных размеров.
- 4) Тулл Гостилий – основатель города Рима.
- 5) Перикл – афинский полководец в битве при Марафоне.
- 6) Каракалла – император, даровавший всем жителям Римского государства гражданство.

35 Ответ: 1, 3, 6

Максимум за задание – 3 балла.

5. Кто из этих исторических деятелей был правителем какого-либо государства в XIII веке?

- 1) Александр Невский
- 2) Алексей Комнин I
- 3) Михаил VIII Палеолог
- 4) Дмитрий Боброк-Волыцкий
- 5) Иоанн Безземельный
- 6) Карл V Габсбург

35 Ответ: 1, 3, 5

Максимум за задание – 3 балла.

6. Выберите факты, связанные с религиозной жизнью Европы в XVI–XVII вв.

- 1) разрыв между Восточной и Западной христианскими церквями
- 2) вестфальский мир
- 3) появление «Индекса запрещённых книг»
- 4) авиньонское пленение пап
- 5) создание ордена иезуитов
- 6) крестоносное движение

11. Что с исторической точки зрения объединяет три из четырёх перечисленных в ряду элементов?

- А) Галич; Б) Улич; В) Белоозеро; Г) Нижний Новгород.
- 1) города, получившие известность в качестве центров ремесла Древней Руси
- 2) города, в которых правили призванные варяги
- 3) города, присоединённые к Московскому княжеству при Иване Калите
- 4) города, больше прочих пострадавшие от разорения в ходе походов Батые

25 Ответ: 3
Максимум за задание – 2 балла.

12. Выберите из приведённого списка город, лишний по выбранному в предыдущем вопросе основанию.

25 Ответ: Тамбов
Максимум за задание – 2 балла.

13. Расположите в хронологической последовательности перечисленные события.

- А) строительство Успенского собора во Владимире
- Б) строительство собора Святой Софии в Константинополе
- В) строительство собора Святой Софии в Новгороде
- Г) строительство собора Санта-Мария-дель-Фьоре во Флоренции
- Д) строительство Успенского собора в Москве
- Е) строительство собора Святой Софии в Киеве

Ответ:

35

1	2	3	4	5	6
а-	г-	б+	в-	д+	ж+

За каждую верную пару – 1 балл.
Максимум за задание – 6 баллов.

14. Определите пропущенные в тексте названия, слова, имена, даты, обозначенные порядковыми номерами. При необходимости при порядковых номерах даются пояснения о характере требуемой вставки. Варианты вставок даны в единственном числе, именительном падеже. Обратите внимание: среди предлагаемых вставок есть «лишние» элементы.

В (1) году началось вторжение монгольских сил на территорию Руси. Войска хана (2) покорили (3 – княжество), а затем вторглись на территорию Суздальской земли. Несмотря на то, что здесь (2) встретил самое упорное сопротивление за всё время военных походов на Русь, многие города были разорены, а владимирский князь (4) погиб в битве на реке (5) весной (6) года. Татары повернули в сторону города (7), однако до самого города они не дошли и, разорив Торжок, вернулись в степи. В (8) году монгольские войска

15-21. Внимательно рассмотрите карту и выполните задания.

И-0704



15. Выберите из списка корректную датировку событий, обозначенных на карте.

А) 1337–1453 гг.

Б) 1455–1585 гг.

В) 732–1492 гг.

Г) 1433–1453 гг.

Д) 1565–1572 гг.

16
Ответ: А

Максимум за задание – 1 балл.

16. Выберите из списка корректное название событий, обозначенных на карте.

А) Альбигойские войны

- Б) Реконкиста
- В) Столетняя война
- Г) Война Алой и Белой розы
- Д) движение таборитов

Ответ: _____

Максимум за задание – 1 балл.

17. Выберите из списка буквенное обозначение территорий, на которые претендовали обе воюющие стороны в силу экономической значимости этих территорий.

- 1) А
- 2) Б
- 3) В
- 4) Г
- 5) Д
- 6) Е

1б

Ответ: 1

Максимум за задание – 1 балл.

18. Напишите цифру, обозначающую город, в снятии осады которого приняла участие историческая личность, известная как «Орлеанская дева».

1б

Ответ: 1

Максимум за задание – 1 балл.

19. Напишите цифру, обозначающую поселок, близ которого развернулось первое значительное сражение изображённой войны, обернувшееся тяжёлыми потерями для одной из противоборствующих сторон.

1б

Ответ: 4

Максимум за задание – 1 балл.

20. Укажите имя и порядковый номер правителя, который был пленён в результате поражения, понесённого его армией в битве у города, обозначенного на карте цифрой «2».

Ответ следует записать в формате: имя правителя в **полном** названии с **заглавной** буквы и порядковый номер правителя **арабской** цифрой без знаков препинания.

Внимание! Ответы с орфографическими ошибками не засчитываются.

Ответ: _____

Максимум за задание – 1 балл.

21. Выберите верные утверждения.

- А) Цифрой «3» на карте обозначен город, в котором некоторое время находилась резиденция Папы Римского.
- Б) Буквой «Д» на карте обозначено Адриатическое море

- В) По состоянию на время, отражённое на карте, территории, обозначенные буквами «В» и «Г», входили в состав Англии.
- Г) Территория, обозначенная буквой «А», являлась одним из крупнейших в Европе центром производства тканей вообще и сукна в частности.
- Д) В ходе битв близ населённых пунктов, обозначенных на карте цифрами «2» и «4», было выявлено значительное превосходство лучников одной воюющей стороны над арбалетчиками другой.

Ответ: _____

За каждое верно выбранное/невыбранное утверждение – 1 балл.
Максимум за задание – 5 баллов.

22-23.

22. Прочитайте отрывки, повествующие о двух правителях Древнего Рима. Для каждого отрывка выберите императора, о котором идёт речь.

<p>А. Тяжёлые и позорные поражения испытал он только дважды, и оба раза в Германии: это были поражения Лоллия и Вара. Первое принесло больше позора, чем урона, но второе было почти гибельным: оказались уничтожены три легиона с полководцем, легатами и всеми вспомогательными войсками. И говорят, он до того был сокрушён, что несколько месяцев подряд не стриг волос и бороды и не раз бился головой о косяк, восклицая: «Квятилий Вар, верни легионы!»</p>	<p>Б. Словно ему претили безобразные старые дома и узкие кривые переулки, он поджёг Рим настолько открыто, что многие консуляры ловили у себя во дворах его слуг с факелами и паклей, но не осмеливались их трогать; а житницы, стоявшие поблизости от Золотого дворца и, по мнению (...), отнимавшие у него слишком много места, были как будто сначала разрушены военными машинами, а потом подожжены, потому что стены их были из камня. Шесть дней и семь ночей свирепствовало бедствие, а народ искал убежища в каменных памятниках и склепах...</p>
--	---

Список правителей Рима: Октавиан Август, Тиберий, Калигула, Нерон, Гальба, Каракалла, Гелиогабал, Диоклетиан.


Ответ:

4Б

Правитель Рима	Буквенное обозначение фрагмента
Октавиан Август	А
Нерон	Б

За каждый правильный ответ – 2 балла.
Максимум за задание – 4 балла.

23. Установите соответствие между отрывками, повествующими о правителях (из задания 22), и их изображениями.



Ответ:

Правитель Рима	Буквенное обозначение фрагмента	Связанные изображения
1	А	1
Нерон	Б	2

2 балла за каждую верную пару. Максимум за задание – 4 балла.

24-28. Прочитайте фрагмент исторического источника и выполните задания.

В год... Пришли Святополк, и Владимир, и Давыд Игоревич, и Василько Ростиславич, и Давыд Святославич, и брат его Олег и собрались на совет в Любече для установления мира, и говорили друг другу: «Зачем губим Русскую землю, сами между собой устранивая распри? А половцы землю нашу пещут розно и рады, что между нами до сих пор идут войны. Да отныне объединимся чистосердечно и будем блюсти Русскую землю, и пусть каждый владеет отчиной своей: Святополк – Киевом, Изяславовой отчиной, Владимир – Всеволодовой, Давыд и Олег и Ярослав – Святославовой, и те, кому Всеволод роздал города: Давыду – Владимир, Ростиславичам же: Володарю – Перемышль, Васильку – Теробовль». И на том целовали крест: «Если отныне кто на кого пойдет, против того будем мы все и крест честной». Сказали все: «Да будет против того крест честной и вся земля Русская». И попрошавшись, пошли восвояси.

24. Укажите год, когда происходили события, описанные в тексте источника.

25
 Ответ: 1075

Максимум за задание – 2 балла.

25. Укажите имя и отчество князя, правящего на момент описанных в источнике событий в Киеве.

В ответе запишите два слова через пробел без дополнительных знаков и символов.

Внимание! Ответы с орфографическими ошибками не засчитываются.

Ответ: _____

Максимум за задание – 2 балла.

26. Укажите прозвище упомянутого в источнике князя Владимира.

В ответ запишите одно слово без дополнительных знаков и символов.

Внимание! Ответы с орфографическими ошибками не засчитываются.

Ответ: _____

Максимум за задание – 2 балла.

27. Укажите прозвище упомянутого в источнике князя Олега.

Внимание! Ответы с орфографическими ошибками не засчитываются.

25 Ответ: Монах

Максимум за задание – 2 балла.

28. Какие последствия имел принятый на съезде принцип «каждый владеет отчиной своей»? Выберите верные утверждения.

- А) Принцип закрепил и лишь усилил политическую раздробленность, которая в это время уже начала складываться на Руси.
- Б) Принцип остановил раздробление государства и укрепил его внутреннее единство.
- В) Установление этого принципа сделало Киев самым политически значимым городом Руси.
- Г) Принцип привёл к усилению городов, которые находились в составе княжеских вотчин вдали от Киева.

46 Ответ: А Г

За каждое верно выбранное/невыбранное утверждение – 1 балл.

Максимум за задание – 4 балла.

29. Выберите из предложенного списка утверждения, которые характеризуют предпосылки и последствия съезда князей, описанного в источнике.

- А) Одним из последствий съезда стало объединение князей для противостояния половечкой угрозе.
- Б) Важнейшей причиной съезда князей стоит считать усиление власти упомянутого в источнике князя Владимира.
- В) В источнике слово «отчина» употребляется в значении «место, откуда происходят все князья династии».
- Г) В источнике слово «отчина» употребляется в значении «родовое владение князя».

№ - 0704

- Д) Непосредственной причиной съезда стал натиск печенежских орд на границы Руси.
- Е) Среди последствий съезда – формирование целого ряда родов представителей династии Рюриковичей, соперничающих за власть.
- Ж) Описанный в источнике съезд князей является единственным и уникальным; более съездов князей не проводилось.

75

Ответ: АГЕ

За каждое верно выбранное/невыбранное утверждение – 1 балл.
Максимум за задание – 7 баллов.

Максимум за работу – 81 балл.