

ВСЕРОССИЙСКАЯ ОЛИМПИАДА ШКОЛЬНИКОВ
ФИЗИЧЕСКАЯ КУЛЬТУРА 2024–2025 уч. г.
ШКОЛЬНЫЙ ЭТАП. 9–11 классы

258

ТЕОРЕТИКО-МЕТОДИЧЕСКИЙ ТУР

Максимальное количество баллов за работу – 50.

1. В долине какой реки праздновались античные Олимпийские игры?

- а) Ахерон
- б) Луциос
- в) Ладон
- г) Алфей

+

2. Какое из упражнений предполагает попеременные движения ногами?

- а) плавание способом «кроль на спине»
- б) подъём разгибом
- в) прыжок в длину с места
- г) академическая гребля

+

3. В каком виде спорта используются стартовые колодки?

- а) лыжные гонки
- б) конькобежный спорт
- в) лёгкая атлетика
- г) плавание

+

4. Какая из перечисленных задач физического воспитания относится к группе воспитательных?

- а) воспитание выносливости
- б) воспитание силы воли
- в) повышение работоспособности
- г) обучение технике плавания кролем на спине

+

5. Для определения уровня развития какого физического качества используется тест Купера?

- а) ловкость
- б) выносливость
- в) сила
- г) быстрота

+

6. Укажите год проведения ближайших Игр Олимпиады.

- а) 2024 г.
- б) 2025 г.
- в) 2026 г.
- г) 2028 г.

+

7. Какой витамин вырабатывается в организме при закаливании солнцем?

- а) витамин А
- б) витамин В
- в) витамин С
- г) витамин D

+

8. В каком году Пьер де Кубертен выступил с докладом о возрождении Олимпийских игр?

- а) в 1890 году
- б) в 1892 году
- в) в 1894 году
- г) в 1896 году

+

9. Что из перечисленного относится к показателям объёма физической нагрузки?

- а) расстояние в прыжке в длину
- б) количество серий выполнения упражнений
- в) координационная сложность упражнения
- г) скорость бега по дистанции

+

10. Что является ошибкой при сдаче норм ВФСК «Готов к труду и обороне» в испытании «прыжок в длину с места»?

- а) в исходном положении стопы находятся на ширине плеч
- б) одновременное отталкивание ногами
- в) использование маховых движений руками
- г) уход с места приземления назад по направлению прыжка

+

11. Какой вид спорта не входил в программу Игр XXXII Олимпиады?

- а) сёрфинг
- б) брейк-данс
- в) скалолазание
- г) каратэ

+

12. Назовите лыжный ход, в котором происходит синхронное движение руками и отсутствуют поступательные движения ногами.

- а) одновременный бесшажный
- б) одновременный одношажный
- в) одновременный двухшажный
- г) попеременный бесшажный

+

13. Какой документ определяет условия проведения Олимпийских игр?

- а) положение соответствующих Олимпийских игр
- б) устав Международной федерации по виду спорта
- в) Олимпийская хартия
- г) правила соревнований по виду спорта

+

14. С какого года ведётся счёт современных Олимпийских игр?

- а) с 1892 года
- б) с 1894 года
- в) с 1896 года
- г) с 1900 года

+

15. Установите соответствие между видами спорта и принадлежностью их к олимпийской и неолимпийской программе.

Программа
Олимпийские виды спорта
Неолимпийские виды спорта

Вид спорта
бильярд 2
биатлон 3
пляжный волейбол 4
дартс 2
настольный теннис 1
лапта 1
триатлон 2
пляжный футбол 2

16. Установите соответствие между названием художественного фильма и спортсменом, история которого взята за основу сюжета фильма.

«Чемпион мира»
«Мистер нокаут»
«Легенда №17»
«Белый снег»

Валерий Попенченко
Валерий Харламов
Елена Вяльбе
Анатолий Карпов

17. Установите соответствие между видом спорта и его основателем.

Баскетбол
Волейбол
Теннис
Самбо
Хоккей

Уильям Морган
Уолтер Уингфилд
Джеймс Нейсмит
Джеймс Крейтон
Василий Ощепков

18. Расположите в верной последовательности действия на занятии по волейболу.

учебная игра в волейбол	1
комплекс общеразвивающих упражнений	2
дыхательные упражнения	3
отработка подачи мяча, передач, приёма мяча	4
комплекс специальных беговых упражнений	5

19. Перечислите последовательно части урока физической культуры. Название каждой части запишите в отдельное поле.

Ответ:

I часть – организующая.

II часть – направленная на выполнение основных задач.

III часть – завершение урока.

20. Город, в котором прошли последние Игры Олимпиады.

Ответ: Токио

21. Номер Игр Олимпиады, в которых впервые приняли участие наши спортсмены.

Ответ: 1900 г

22. Вид спорта Юрия Власова, знаменосца сборной СССР, который на церемонии открытия Игр XVIII Олимпиады в 1964 году около 30 минут нес на вытянутой руке флаг своей страны.

Ответ: теннисист.

23. В каком году в Древней Греции римский император Феодосий I запретил проведение Олимпийских игр?


Ответ: 393 н.э.

24. Дайте правильное название гимнастическому положению.



Ответ: _____.

25. Дайте правильное название гимнастическому положению.



Ответ: _____.

26. Какое количество спортсменов уйдёт на дистанцию в лыжных гонках при раздельном старте с интервалом в 30 секунд, когда на стартовых часах будет отображаться 0:15:30?

Ответ: _____ 60 уйдёт _____.

Максимальное количество баллов за работу – 50.

ВСЕРОССИЙСКАЯ ОЛИМПИАДА ШКОЛЬНИКОВ
ФИЗИЧЕСКАЯ КУЛЬТУРА 2024–2025 уч. г.
ШКОЛЬНЫЙ ЭТАП. 9–11 классы

205

ТЕОРЕТИКО-МЕТОДИЧЕСКИЙ ТУР

Максимальное количество баллов за работу – 50.

1. В долине какой реки праздновались античные Олимпийские игры?

- а) Ахерон
- б) Луциос
- в) Ладон
- г) Алфей

+

2. Какое из упражнений предполагает попеременные движения ногами?

- а) плавание способом «кроль на спине»
- б) подъём разгибом
- в) прыжок в длину с места
- г) академическая гребля

+

3. В каком виде спорта используются стартовые колодки?

- а) лыжные гонки
- б) конькобежный спорт
- в) лёгкая атлетика
- г) плавание

+

4. Какая из перечисленных задач физического воспитания относится к группе воспитательных?

- а) воспитание выносливости
- б) воспитание силы воли
- в) повышение работоспособности
- г) обучение технике плавания кролем на спине

+

5. Для определения уровня развития какого физического качества используется тест Купера?

- а) ловкость
- б) выносливость
- в) сила
- г) быстрота

+

6. Укажите год проведения ближайших Игр Олимпиады.

- а) 2024 г.
- б) 2025 г.
- в) 2026 г.
- г) 2028 г.

+

7. Какой витамин вырабатывается в организме при закаливании солнцем?

- а) витамин А
- б) витамин В
- в) витамин С
- г) витамин D

+

8. В каком году Пьер де Кубертен выступил с докладом о возрождении Олимпийских игр?

- а) в 1890 году
- б) в 1892 году
- в) в 1894 году
- г) в 1896 году

+

9. Что из перечисленного относится к показателям объёма физической нагрузки?

- а) расстояние в прыжке в длину
- б) количество серий выполнения упражнений
- в) координационная сложность упражнения
- г) скорость бега по дистанции

+

10. Что является ошибкой при сдаче норм ВФСК «Готов к труду и обороне» в испытании «прыжок в длину с места»?

- а) в исходном положении стопы находятся на ширине плеч
- б) одновременное отталкивание ногами
- в) использование маховых движений руками
- г) уход с места приземления назад по направлению прыжка

+

11. Какой вид спорта не входил в программу Игр XXXII Олимпиады?

- а) сёрфинг
- б) брейк-данс
- в) скалолазание
- г) каратэ

+

12. Назовите лыжный ход, в котором происходит синхронное движение руками и отсутствуют поступательные движения ногами.

- а) одновременный бесшажный
- б) одновременный одношажный
- в) одновременный двухшажный
- г) попеременный бесшажный

+

13. Какой документ определяет условия проведения Олимпийских игр?

- а) положение соответствующих Олимпийских игр
- б) устав Международной федерации по виду спорта
- в) Олимпийская хартия
- г) правила соревнований по виду спорта

+

14. С какого года ведётся счёт современных Олимпийских игр?

- а) с 1892 года
- б) с 1894 года
- в) с 1896 года
- г) с 1900 года

+

15. Установите соответствие между видами спорта и принадлежностью их к олимпийской и неолимпийской программе.

Программа
Олимпийские виды спорта
Неолимпийские виды спорта

Вид спорта
бильярд 2
биатлон 1
пляжный волейбол 2
дартс 2
настольный теннис 1
лапта 2
триатлон 2
пляжный футбол 2

16. Установите соответствие между названием художественного фильма и спортсменом, история которого взята за основу сюжета фильма.

«Чемпион мира»
«Мистер нокаут»
«Легенда №17»
«Белый снег»

Валерий Попенченко
Валерий Харламов
Елена Вяльбе
Анатолий Карпов

17. Установите соответствие между видом спорта и его основателем.

Баскетбол
Волейбол
Теннис
Самбо
Хоккей

Уильям Морган
Уолтер Уингфилд
Джеймс Нейсмит
Джеймс Крейтон
Василий Ощепков

18. Расположите в верной последовательности действия на занятии по волейболу.

учебная игра в волейбол	
комплекс общеразвивающих упражнений	
дыхательные упражнения	
отработка подачи мяча, передач, приёма мяча	
комплекс специальных беговых упражнений	

19. Перечислите последовательно части урока физической культуры.
Название каждой части запишите в отдельное поле.

Ответ:

I часть – _____.

II часть – _____.

III часть – _____.

20. Город, в котором прошли последние Игры Олимпиады.

Ответ: Токио

21. Номер Игр Олимпиады, в которых впервые приняли участие наши спортсмены.

Ответ: _____.

22. Вид спорта Юрия Власова, знаменосца сборной СССР, который на церемонии открытия Игр XVIII Олимпиады в 1964 году около 30 минут нес на вытянутой руке флаг своей страны.

Ответ: _____.

23. В каком году в Древней Греции римский император Феодосий I запретил проведение Олимпийских игр?


Ответ: _____.

24. Дайте правильное название гимнастическому положению.



Ответ: _____.

25. Дайте правильное название гимнастическому положению.



Ответ: сед _____.

26. Какое количество спортсменов уйдёт на дистанцию в лыжных гонках при раздельном старте с интервалом в 30 секунд, когда на стартовых часах будет отображаться 0:15:30?

Ответ: 60 _____.

Максимальное количество баллов за работу – 50.

ВСЕРОССИЙСКАЯ ОЛИМПИАДА ШКОЛЬНИКОВ
ФИЗИЧЕСКАЯ КУЛЬТУРА 2024–2025 уч. г.
ШКОЛЬНЫЙ ЭТАП. 9–11 классы

265

ТЕОРЕТИКО-МЕТОДИЧЕСКИЙ ТУР

Максимальное количество баллов за работу – 50.

1. В долине какой реки праздновались античные Олимпийские игры?

- а) Ахерон
- б) Лусиос
- в) Ладон
- г) Алфей

+

2. Какое из упражнений предполагает попеременные движения ногами?

- а) плавание способом «кроль на спине»
- б) подъём разгибом
- в) прыжок в длину с места
- г) академическая гребля

+

3. В каком виде спорта используются стартовые колодки?

- а) лыжные гонки
- б) конькобежный спорт
- в) лёгкая атлетика
- г) плавание

+

4. Какая из перечисленных задач физического воспитания относится к группе воспитательных?

- а) воспитание выносливости
- б) воспитание силы воли
- в) повышение работоспособности
- г) обучение технике плавания кролем на спине

+

5. Для определения уровня развития какого физического качества используется тест Купера?

- а) ловкость
- б) выносливость
- в) сила
- г) быстрота

+

6. Укажите год проведения ближайших Игр Олимпиады.

- а) 2024 г.
- б) 2025 г.
- в) 2026 г.
- г) 2028 г.

+

7. Какой витамин вырабатывается в организме при закаливании солнцем?

- а) витамин А
- б) витамин В
- в) витамин С
- г) витамин D

+

8. В каком году Пьер де Кубертен выступил с докладом о возрождении Олимпийских игр?

- а) в 1890 году
- б) в 1892 году
- в) в 1894 году
- г) в 1896 году

+

9. Что из перечисленного относится к показателям объёма физической нагрузки?

- а) расстояние в прыжке в длину
- б) количество серий выполнения упражнений
- в) координационная сложность упражнения
- г) скорость бега по дистанции

+

10. Что является ошибкой при сдаче норм ВФСК «Готов к труду и обороне» в испытании «прыжок в длину с места»?

- а) в исходном положении стопы находятся на ширине плеч
- б) одновременное отталкивание ногами
- в) использование маховых движений руками
- г) уход с места приземления назад по направлению прыжка

+

11. Какой вид спорта не входил в программу Игр XXXII Олимпиады?

- а) сёрфинг
- б) брейк-данс
- в) скалолазание
- г) каратэ

+

12. Назовите лыжный ход, в котором происходит синхронное движение руками и отсутствуют поступательные движения ногами.

- а) одновременный бесшажный
- б) одновременный одношажный
- в) одновременный двухшажный
- г) попеременный бесшажный

+

13. Какой документ определяет условия проведения Олимпийских игр?

- а) положение соответствующих Олимпийских игр
- б) устав Международной федерации по виду спорта
- в) Олимпийская хартия
- г) правила соревнований по виду спорта

+

14. С какого года ведётся счёт современных Олимпийских игр?

- а) с 1892 года
- б) с 1894 года
- в) с 1896 года
- г) с 1900 года

+

15. Установите соответствие между видами спорта и принадлежностью их к олимпийской и неолимпийской программе.

Программа
Олимпийские виды спорта
Неолимпийские виды спорта

Вид спорта
бильярд 2
биатлон 1
пляжный волейбол 1
дартс 2
настольный теннис 1
лапта 2
триатлон 1
пляжный футбол 2

16. Установите соответствие между названием художественного фильма и спортсменом, история которого взята за основу сюжета фильма.

«Чемпион мира»
«Мистер нокаут»
«Легенда №17»
«Белый снег»

Валерий Попенченко
Валерий Харламов
Елена Вяльбе
Анатолий Карпов

17. Установите соответствие между видом спорта и его основателем.

Баскетбол
Волейбол
Теннис
Самбо
Хоккей

Уильям Морган
Уолтер Уингфилд
Джеймс Нейсмит
Джеймс Крейтон
Василий Ощепков

18. Расположите в верной последовательности действия на занятии по волейболу.

учебная игра в волейбол	4
комплекс общеразвивающих упражнений	2
дыхательные упражнения	1
отработка подачи мяча, передач, приёма мяча	5
комплекс специальных беговых упражнений	3

19. Перечислите последовательно части урока физической культуры. Название каждой части запишите в отдельное поле.

Ответ:

I часть – организующая

II часть – направленная на выполнение упражнений

III часть – завершение урока

20. Город, в котором прошли последние Игры Олимпиады.

Ответ: Япония, Токио

21. Номер Игр Олимпиады, в которых впервые приняли участие наши спортсмены.

Ответ: 1900г II летние Олимпийские игры

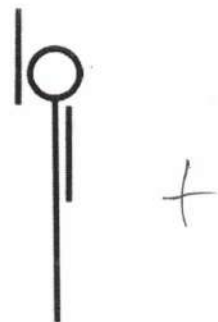
22. Вид спорта Юрия Власова, знаменосца сборной СССР, который на церемонии открытия Игр XVIII Олимпиады в 1964 году около 30 минут нёс на вытянутой руке флаг своей страны.

Ответ: теннисистом

23. В каком году в Древней Греции римский император Феодосий I запретил проведение Олимпийских игр?


Ответ: римский император Феодосий I в 393г

24. Дайте правильное название гимнастическому положению.



Ответ: Осиновая стойка

25. Дайте правильное название гимнастическому положению.



Ответ: сид

26. Какое количество спортсменов уйдёт на дистанцию в лыжных гонках при раздельном старте с интервалом в 30 секунд, когда на стартовых часах будет отображаться 0:15:30?

Ответ: 60 спортсменов

Максимальное количество баллов за работу – 50.

ВСЕРОССИЙСКАЯ ОЛИМПИАДА ШКОЛЬНИКОВ
ФИЗИЧЕСКАЯ КУЛЬТУРА 2024–2025 уч. г.
ШКОЛЬНЫЙ ЭТАП. 9–11 классы

ТЕОРЕТИКО-МЕТОДИЧЕСКИЙ ТУР

50

Максимальное количество баллов за работу – 50.

1. В долине какой реки праздновались античные Олимпийские игры?
 - а) Ахерон
 - + б) Луциос
 - в) Ладон
 - г) Алфей

2. Какое из упражнений предполагает попеременные движения ногами?
 - а) плавание способом «кроль на спине»
 - б) подъём разгибом
 - + в) прыжок в длину с места
 - г) академическая гребля

3. В каком виде спорта используются стартовые колодки?
 - а) лыжные гонки
 - б) конькобежный спорт
 - + в) лёгкая атлетика
 - г) плавание

4. Какая из перечисленных задач физического воспитания относится к группе воспитательных?
 - а) воспитание выносливости
 - + б) воспитание силы воли
 - в) повышение работоспособности
 - г) обучение технике плавания кролем на спине

5. Для определения уровня развития какого физического качества используется тест Купера?
 - а) ловкость
 - + б) выносливость
 - в) сила
 - г) быстрота

6. Укажите год проведения ближайших Игр Олимпиады.
 - + а) 2024 г.
 - б) 2025 г.
 - в) 2026 г.
 - г) 2028 г.

7. Какой витамин вырабатывается в организме при закаливании солнцем?
- а) витамин А
 - + б) витамин В
 - в) витамин С
 - г) витамин D
8. В каком году Пьер де Кубертен выступил с докладом о возрождении Олимпийских игр?
- а) в 1890 году
 - б) в 1892 году
 - в) в 1894 году
 - г) в 1896 году
9. Что из перечисленного относится к показателям объёма физической нагрузки?
- а) расстояние в прыжке в длину
 - + б) количество серий выполнения упражнений
 - в) координационная сложность упражнения
 - г) скорость бега по дистанции
10. Что является ошибкой при сдаче норм ВФСК «Готов к труду и обороне» в испытании «прыжок в длину с места»?
- а) в исходном положении стопы находятся на ширине плеч
 - + б) одновременное отталкивание ногами
 - в) использование маховых движений руками
 - г) уход с места приземления назад по направлению прыжка
11. Какой вид спорта не входил в программу Игр XXXII Олимпиады?
- + а) сёрфинг
 - б) брейк-данс
 - в) скалолазание
 - г) каратэ
12. Назовите лыжный ход, в котором происходит синхронное движение руками и отсутствуют поступательные движения ногами.
- + а) одновременный бесшажный
 - б) одновременный одношажный
 - в) одновременный двухшажный
 - г) попеременный бесшажный

13. Какой документ определяет условия проведения Олимпийских игр?

- а) положение соответствующих Олимпийских игр
 б) устав Международной федерации по виду спорта
 в) Олимпийская хартия
 г) правила соревнований по виду спорта

14. С какого года ведётся счёт современных Олимпийских игр?

- а) с 1892 года
 б) с 1894 года
 в) с 1896 года
 г) с 1900 года

15. Установите соответствие между видами спорта и принадлежностью их к олимпийской и неолимпийской программе.

Программа
Олимпийские виды спорта
Неолимпийские виды спорта

Вид спорта
бильярд 2
биатлон 1
пляжный волейбол 1
дартс 2
настольный теннис 1
лапта 2
триатлон 1
пляжный футбол 2

16. Установите соответствие между названием художественного фильма и спортсменом, история которого взята за основу сюжета фильма.

«Чемпион мира»
«Мистер нокаут»
«Легенда №17»
«Белый снег»

Валерий Попенченко
Валерий Харламов
Елена Вяльбе
Анатолий Карпов

17. Установите соответствие между видом спорта и его основателем.

Баскетбол
Волейбол
Теннис
Самбо
Хоккей

Уильям Морган
Уолтер Уингфилд
Джеймс Нейсмит
Джеймс Крейтон
Василий Ощепков

18. Расположите в верной последовательности действия на занятии по волейболу.

учебная игра в волейбол	4
комплекс общеразвивающих упражнений	2
дыхательные упражнения	1
отработка подачи мяча, передач, приёма мяча	5
комплекс специальных беговых упражнений	3

+

19. Перечислите последовательно части урока физической культуры.
Название каждой части запишите в отдельное поле.

Ответ:

I часть – организующая.

II часть – направленная на выполнение основных задач

III часть – (организующая) завершается урок

+

20. Город, в котором прошли последние Игры Олимпиады.

Ответ: Токио, Япония

+

21. Номер Игр Олимпиады, в которых впервые приняли участие наши спортсмены.

Ответ: 1900г. // летние Олимпийские игры

+

22. Вид спорта Юрия Власова, знаменосца сборной СССР, который на церемонии открытия Игр XVIII Олимпиады в 1964 году около 30 минут нес на вытянутой руке флаг своей страны.

Ответ: теннисист

+

23. В каком году в Древней Греции римский император Феодосий I запретил проведение Олимпийских игр?

Ответ: римский император Феодосий I в 393г. н.э.


+

24. Дайте правильное название гимнастическому положению.



Ответ: Основа на стойке +

25. Дайте правильное название гимнастическому положению.



Ответ: сед +

26. Какое количество спортсменов уйдёт на дистанцию в лыжных гонках при раздельном старте с интервалом в 30 секунд, когда на стартовых часах будет отображаться 0:15:30?

Ответ: 30 спортсменов +

Максимальное количество баллов за работу – 50.

ВСЕРОССИЙСКАЯ ОЛИМПИАДА ШКОЛЬНИКОВ
ФИЗИЧЕСКАЯ КУЛЬТУРА 2024–2025 уч. г.
ШКОЛЬНЫЙ ЭТАП. 9–11 классы

ТЕОРЕТИКО-МЕТОДИЧЕСКИЙ ТУР

Максимальное количество баллов за работу – 50.

1. В долине какой реки праздновались античные Олимпийские игры?

- а) Ахерон
- б) Луэнос
- в) Ладон
- г) Алфей

2. Какое из упражнений предполагает попеременные движения ногами?

- а) плавание способом «кроль на спине»
- б) подъём разгибом
- в) прыжок в длину с места
- г) академическая гребля

3. В каком виде спорта используются стартовые колодки?

- а) лыжные гонки
- б) конькобежный спорт
- в) лёгкая атлетика
- г) плавание

4. Какая из перечисленных задач физического воспитания относится к группе воспитательных?

- а) воспитание выносливости
- б) воспитание силы воли
- в) повышение работоспособности
- г) обучение технике плавания кролем на спине

5. Для определения уровня развития какого физического качества используется тест Купера?

- а) ловкость
- б) выносливость
- в) сила
- г) быстрота

6. Укажите год проведения ближайших Игр Олимпиады.

- а) 2024 г.
- б) 2025 г.
- в) 2026 г.
- г) 2028 г.

7. Какой витамин вырабатывается в организме при закаливании солнцем?

- а) витамин А
- б) витамин В
- в) витамин С
- г) витамин D

8. В каком году Пьер де Кубертен выступил с докладом о возрождении Олимпийских игр?

- а) в 1890 году
- б) в 1892 году
- в) в 1894 году
- г) в 1896 году

9. Что из перечисленного относится к показателям объёма физической нагрузки?

- а) расстояние в прыжке в длину
- б) количество серий выполнения упражнений
- в) координационная сложность упражнения
- г) скорость бега по дистанции

10. Что является ошибкой при сдаче норм ВФСК «Готов к труду и обороне» в испытании «прыжок в длину с места»?

- а) в исходном положении стопы находятся на ширине плеч
- б) одновременное отталкивание ногами
- в) использование маховых движений руками
- г) уход с места приземления назад по направлению прыжка

11. Какой вид спорта не входил в программу Игр XXXII Олимпиады?

- а) сёрфинг
- б) брейк-данс
- в) скалолазание
- г) каратэ

12. Назовите лыжный ход, в котором происходит синхронное движение руками и отсутствуют поступательные движения ногами.

- а) одновременный бесшажный
- б) одновременный одношажный
- в) одновременный двухшажный
- г) попеременный бесшажный

13. Какой документ определяет условия проведения Олимпийских игр?

- а) положение соответствующих Олимпийских игр
 б) устав Международной федерации по виду спорта
 в) Олимпийская хартия
 г) правила соревнований по виду спорта

14. С какого года ведётся счёт современных Олимпийских игр?

- а) с 1892 года
 б) с 1894 года
 в) с 1896 года
 г) с 1900 года

15. Установите соответствие между видами спорта и принадлежностью их к олимпийской и неолимпийской программе.

Программа
Олимпийские виды спорта
Неолимпийские виды спорта

1 -

2 -

Вид спорта
бильярд 2
биатлон 1
пляжный волейбол 1
дартс 2
настольный теннис 1
лапта 2
триатлон 1
пляжный футбол 2

16. Установите соответствие между названием художественного фильма и спортсменом, история которого взята за основу сюжета фильма.

«Чемпион мира»
«Мистер нокаут»
«Легенда №17»
«Белый снег»

Валерий Попенченко
Валерий Харламов
Елена Вяльбе
Анатолий Карпов

17. Установите соответствие между видом спорта и его основателем.

Баскетбол
Волейбол
Теннис
Самбо
Хоккей

Уильям Морган
Уолтер Уингфилд
Джеймс Нейсмит
Джеймс Крейтон
Василий Ощепков

18. Расположите в верной последовательности действия на занятии по волейболу.

учебная игра в волейбол	4
комплекс общеразвивающих упражнений	2
дыхательные упражнения	1
отработка подачи мяча, передач, приёма мяча	5
комплекс специальных беговых упражнений	3

19. Перечислите последовательно части урока физической культуры. Название каждой части запишите в отдельное поле.

Ответ:

I часть – организующая.

II часть – направленная на выполнение основных задач

III часть – организованно завершается урок

20. Город, в котором прошли последние Игры Олимпиады.

Ответ: Токио, Япония +

21. Номер Игр Олимпиады, в которых впервые приняли участие наши спортсмены.

Ответ: 1900 г. Летние Олимпийские игры +

22. Вид спорта Юрия Власова, знаменосца сборной СССР, который на церемонии открытия Игр XVIII Олимпиады в 1964 году около 30 минут нёс на вытянутой руке флаг своей страны.

Ответ: теннисист +

23. В каком году в Древней Греции римский император Феодосий I запретил проведение Олимпийских игр?


Ответ: римский император Феодосий I в 393 г. н.э.

24. Дайте правильное название гимнастическому положению.



Ответ: Основная стойка

25. Дайте правильное название гимнастическому положению.



Ответ: сид

26. Какое количество спортсменов уйдёт на дистанцию в лыжных гонках при раздельном старте с интервалом в 30 секунд, когда на стартовых часах будет отображаться 0:15:30?

Ответ: В 0:15:30 уйдёт 60 спортсменов

Максимальное количество баллов за работу – 50.